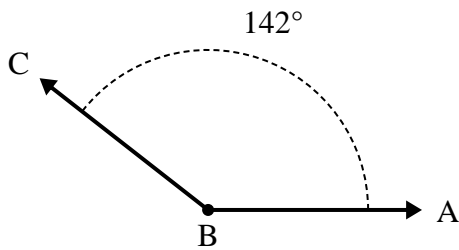




Risolvi ogni problema.

Risposte

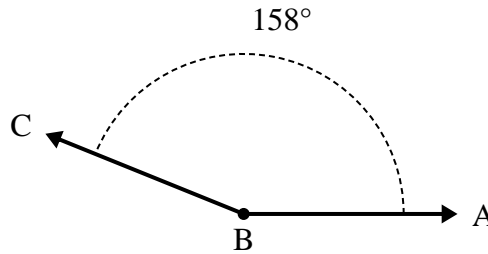
1)



A. Disegna e nomina una semiretta BD in maniera tale che divida l'angolo ABC in due angoli più piccoli, con un angolo DBC che misuri 93 gradi.

B. Quanto misura l'angolo ABD?

2)



A. Disegna e nomina una semiretta BD in maniera tale che divida l'angolo ABC in due angoli più piccoli, con un angolo DBC che misuri 118 gradi.

B. Quanto misura l'angolo ABD?

1. _____

2. _____

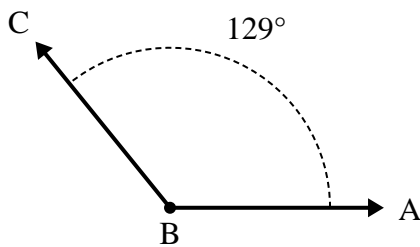
3. _____

4. _____

5. _____

6. _____

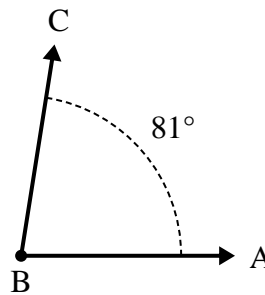
3)



A. Disegna e nomina una semiretta BD in maniera tale che divida l'angolo ABC in due angoli più piccoli, con un angolo ABD che misuri 80 gradi.

B. Quanto misura l'angolo DBC?

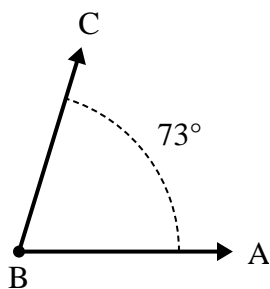
4)



A. Disegna e nomina una semiretta BD in maniera tale che divida l'angolo ABC in due angoli più piccoli, con un angolo ABD che misuri 41 gradi.

B. Quanto misura l'angolo DBC?

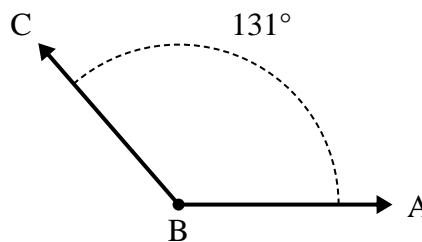
5)



A. Disegna e nomina una semiretta BD in maniera tale che divida l'angolo ABC in due angoli più piccoli, con un angolo DBC che misuri 39 gradi.

B. Quanto misura l'angolo ABD?

6)



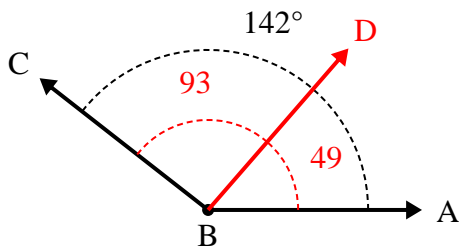
A. Disegna e nomina una semiretta BD in maniera tale che divida l'angolo ABC in due angoli più piccoli, con un angolo ABD che misuri 92 gradi.

B. Quanto misura l'angolo DBC?



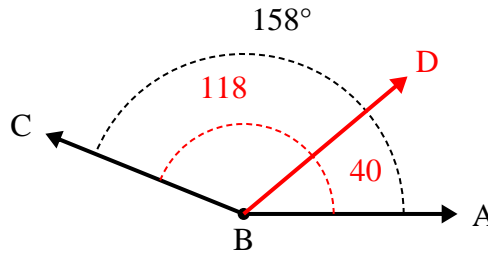
Risolvi ogni problema.

1)



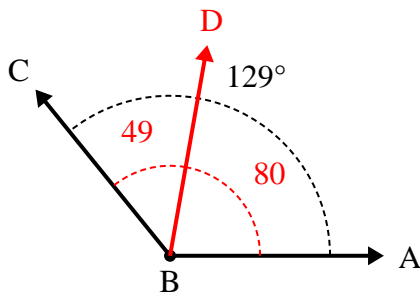
- A. Disegna e nomina una semiretta BD in maniera tale che divida l'angolo ABC in due angoli più piccoli, con un angolo DBC che misuri 93 gradi.
B. Quanto misura l'angolo ABD?

2)



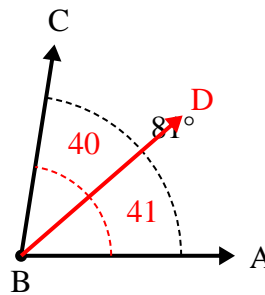
- A. Disegna e nomina una semiretta BD in maniera tale che divida l'angolo ABC in due angoli più piccoli, con un angolo DBC che misuri 118 gradi.
B. Quanto misura l'angolo ABD?

3)



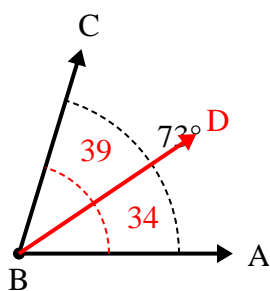
- A. Disegna e nomina una semiretta BD in maniera tale che divida l'angolo ABC in due angoli più piccoli, con un angolo ABD che misuri 80 gradi.
B. Quanto misura l'angolo DBC?

4)



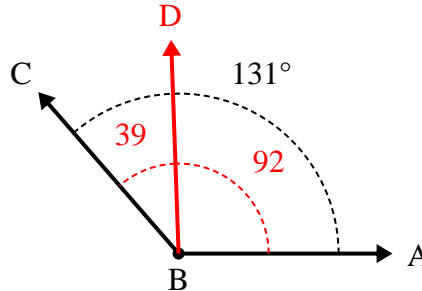
- A. Disegna e nomina una semiretta BD in maniera tale che divida l'angolo ABC in due angoli più piccoli, con un angolo ABD che misuri 41 gradi.
B. Quanto misura l'angolo DBC?

5)



- A. Disegna e nomina una semiretta BD in maniera tale che divida l'angolo ABC in due angoli più piccoli, con un angolo DBC che misuri 39 gradi.
B. Quanto misura l'angolo ABD?

6)



- A. Disegna e nomina una semiretta BD in maniera tale che divida l'angolo ABC in due angoli più piccoli, con un angolo ABD che misuri 92 gradi.
B. Quanto misura l'angolo DBC?

Risposte

1. 49°
2. 40°
3. 49°
4. 40°
5. 34°
6. 39°