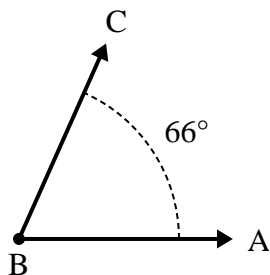




Risolvi ogni problema.

**Risposte**

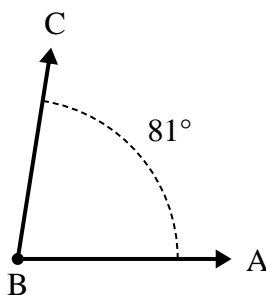
1)



A. Disegna e nomina una semiretta BD in maniera tale che divida l'angolo ABC in due angoli più piccoli, con un angolo DBC che misuri 31 gradi.

B. Quanto misura l'angolo ABD?

2)



A. Disegna e nomina una semiretta BD in maniera tale che divida l'angolo ABC in due angoli più piccoli, con un angolo ABD che misuri 31 gradi.

B. Quanto misura l'angolo DBC?

1. \_\_\_\_\_

2. \_\_\_\_\_

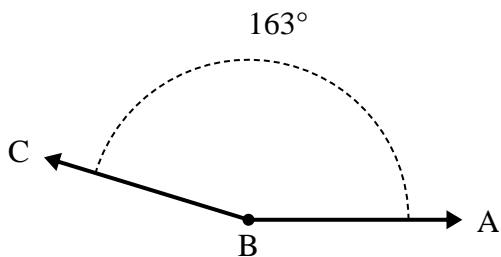
3. \_\_\_\_\_

4. \_\_\_\_\_

5. \_\_\_\_\_

6. \_\_\_\_\_

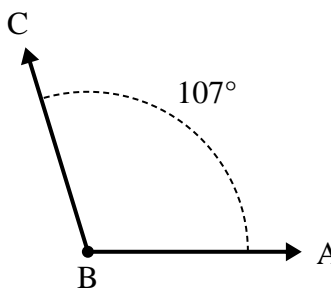
3)



A. Disegna e nomina una semiretta BD in maniera tale che divida l'angolo ABC in due angoli più piccoli, con un angolo ABD che misuri 73 gradi.

B. Quanto misura l'angolo DBC?

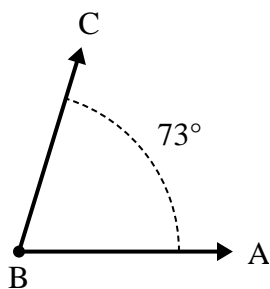
4)



A. Disegna e nomina una semiretta BD in maniera tale che divida l'angolo ABC in due angoli più piccoli, con un angolo DBC che misuri 58 gradi.

B. Quanto misura l'angolo ABD?

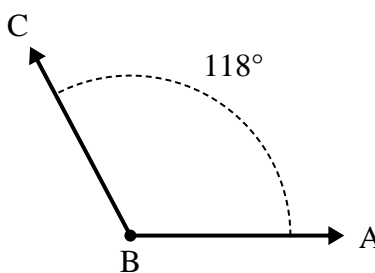
5)



A. Disegna e nomina una semiretta BD in maniera tale che divida l'angolo ABC in due angoli più piccoli, con un angolo DBC che misuri 33 gradi.

B. Quanto misura l'angolo ABD?

6)



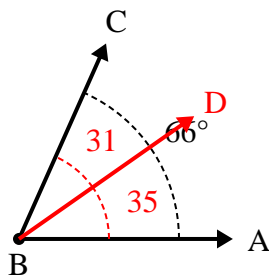
A. Disegna e nomina una semiretta BD in maniera tale che divida l'angolo ABC in due angoli più piccoli, con un angolo DBC che misuri 31 gradi.

B. Quanto misura l'angolo ABD?



Risolvi ogni problema.

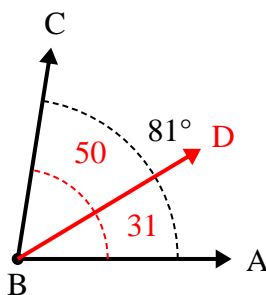
1)



A. Disegna e nomina una semiretta BD in maniera tale che divida l'angolo ABC in due angoli più piccoli, con un angolo DBC che misuri 31 gradi.

B. Quanto misura l'angolo ABD?

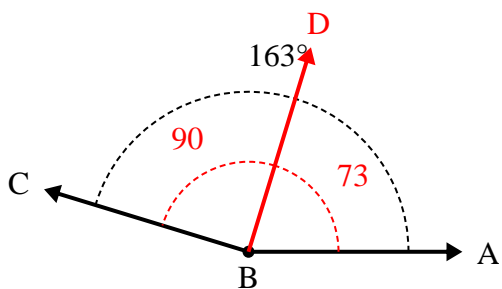
2)



A. Disegna e nomina una semiretta BD in maniera tale che divida l'angolo ABC in due angoli più piccoli, con un angolo ABD che misuri 31 gradi.

B. Quanto misura l'angolo DBC?

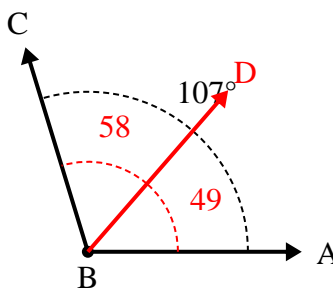
3)



A. Disegna e nomina una semiretta BD in maniera tale che divida l'angolo ABC in due angoli più piccoli, con un angolo ABD che misuri 73 gradi.

B. Quanto misura l'angolo DBC?

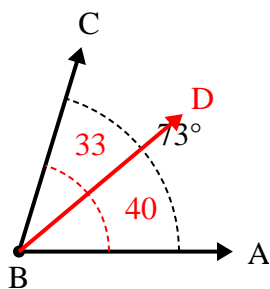
4)



A. Disegna e nomina una semiretta BD in maniera tale che divida l'angolo ABC in due angoli più piccoli, con un angolo DBC che misuri 58 gradi.

B. Quanto misura l'angolo ABD?

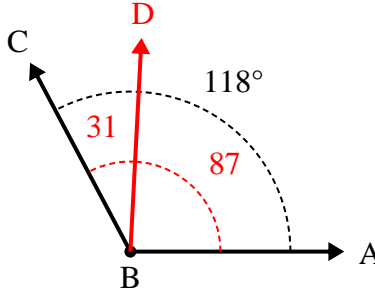
5)



A. Disegna e nomina una semiretta BD in maniera tale che divida l'angolo ABC in due angoli più piccoli, con un angolo DBC che misuri 33 gradi.

B. Quanto misura l'angolo ABD?

6)



A. Disegna e nomina una semiretta BD in maniera tale che divida l'angolo ABC in due angoli più piccoli, con un angolo DBC che misuri 31 gradi.

B. Quanto misura l'angolo ABD?

**Risposte**

1. 35°
2. 50°
3. 90°
4. 49°
5. 40°
6. 87°