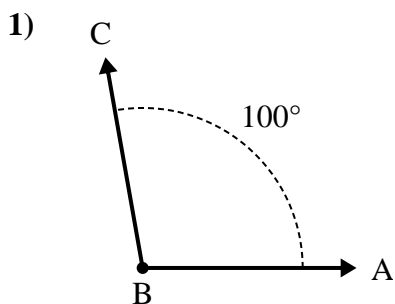




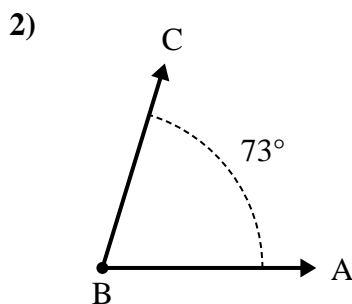
Risolvi ogni problema.

Risposte



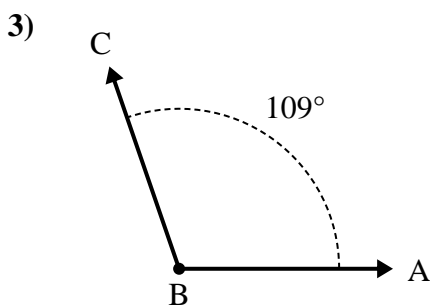
A. Disegna e nomina una semiretta BD in maniera tale che divida l'angolo ABC in due angoli più piccoli, con un angolo DBC che misuri 49 gradi.

B. Quanto misura l'angolo ABD?



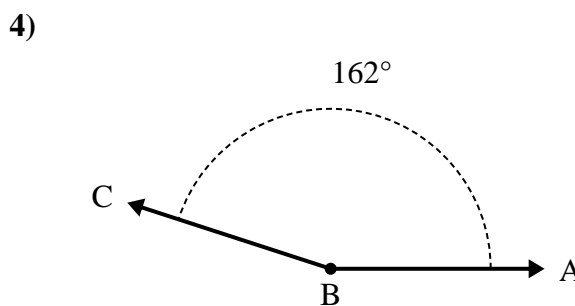
A. Disegna e nomina una semiretta BD in maniera tale che divida l'angolo ABC in due angoli più piccoli, con un angolo DBC che misuri 36 gradi.

B. Quanto misura l'angolo ABD?



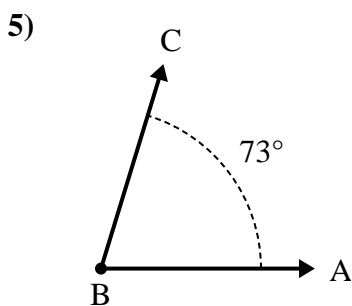
A. Disegna e nomina una semiretta BD in maniera tale che divida l'angolo ABC in due angoli più piccoli, con un angolo ABD che misuri 62 gradi.

B. Quanto misura l'angolo DBC?



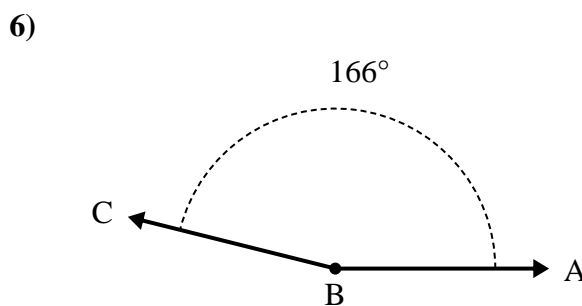
A. Disegna e nomina una semiretta BD in maniera tale che divida l'angolo ABC in due angoli più piccoli, con un angolo ABD che misuri 74 gradi.

B. Quanto misura l'angolo DBC?



A. Disegna e nomina una semiretta BD in maniera tale che divida l'angolo ABC in due angoli più piccoli, con un angolo DBC che misuri 39 gradi.

B. Quanto misura l'angolo ABD?



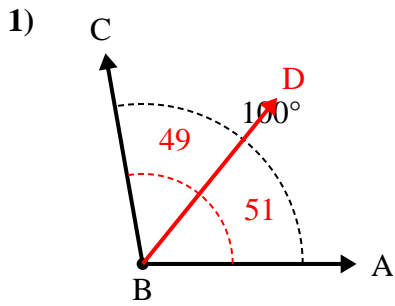
A. Disegna e nomina una semiretta BD in maniera tale che divida l'angolo ABC in due angoli più piccoli, con un angolo DBC che misuri 50 gradi.

B. Quanto misura l'angolo ABD?

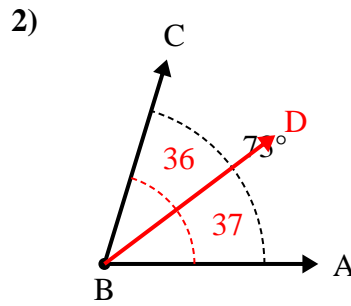
1. _____
2. _____
3. _____
4. _____
5. _____
6. _____



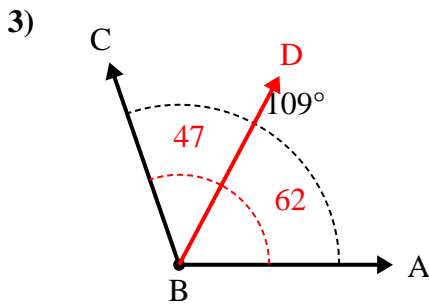
Risolvi ogni problema.



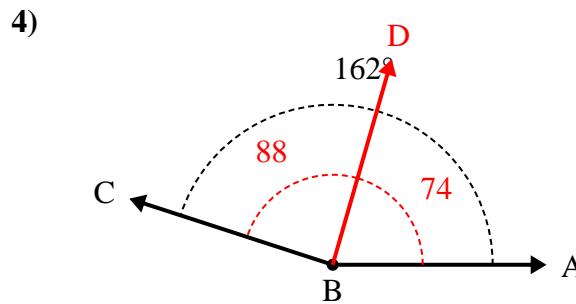
- A. Disegna e nomina una semiretta BD in maniera tale che divida l'angolo ABC in due angoli più piccoli, con un angolo DBC che misuri 49 gradi.
 B. Quanto misura l'angolo ABD?



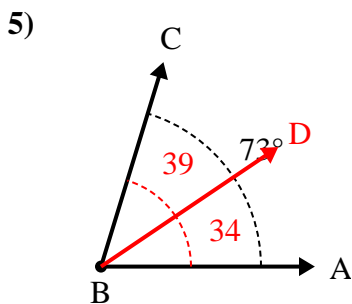
- A. Disegna e nomina una semiretta BD in maniera tale che divida l'angolo ABC in due angoli più piccoli, con un angolo DBC che misuri 36 gradi.
 B. Quanto misura l'angolo ABD?



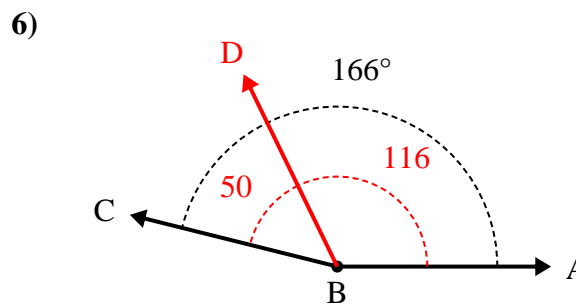
- A. Disegna e nomina una semiretta BD in maniera tale che divida l'angolo ABC in due angoli più piccoli, con un angolo ABD che misuri 62 gradi.
 B. Quanto misura l'angolo DBC?



- A. Disegna e nomina una semiretta BD in maniera tale che divida l'angolo ABC in due angoli più piccoli, con un angolo ABD che misuri 74 gradi.
 B. Quanto misura l'angolo DBC?



- A. Disegna e nomina una semiretta BD in maniera tale che divida l'angolo ABC in due angoli più piccoli, con un angolo DBC che misuri 39 gradi.
 B. Quanto misura l'angolo ABD?



- A. Disegna e nomina una semiretta BD in maniera tale che divida l'angolo ABC in due angoli più piccoli, con un angolo DBC che misuri 50 gradi.
 B. Quanto misura l'angolo ABD?

Risposte

1. 51°
2. 37°
3. 47°
4. 88°
5. 34°
6. 116°