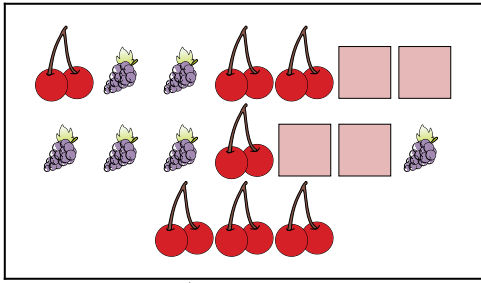




Confronta il numero delle forme.

Risposte

1)




Ci sono più o più ?

A.

B.

2)

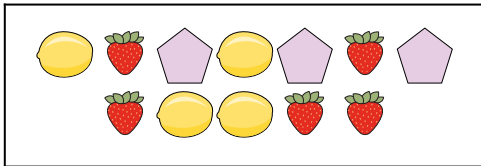


Ci sono più o più ?

A.

B.

3)

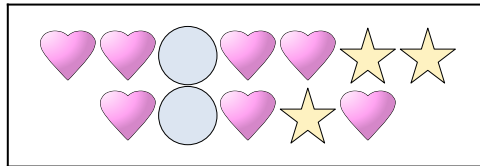


Ci sono più o più ?

A.

B.

4)

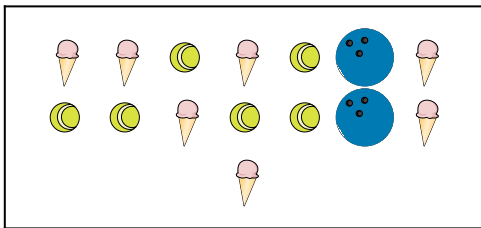


Ci sono più o più ?

A.

B.

5)




Ci sono meno o meno ?

A.

B.

6)



Ci sono più o più ?

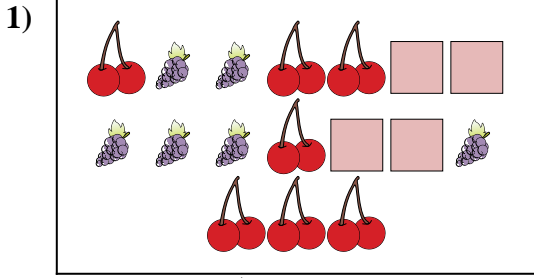
A.

B.


1. _____
2. _____
3. _____
4. _____
5. _____
6. _____



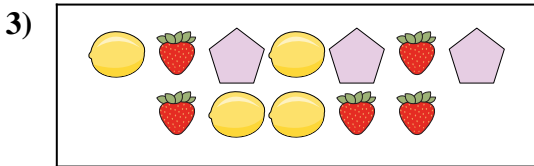
Confronta il numero delle forme.



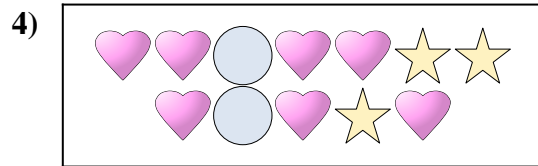
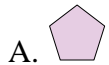
Ci sono più o più ?




Ci sono più o più ?




Ci sono più o più ?



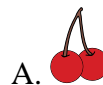
Ci sono più o più ?



Ci sono meno o meno ?



Ci sono più o più ?



Risposte

- 1. **A**
- 2. **B**
- 3. **B**
- 4. **A**
- 5. **B**
- 6. **B**