
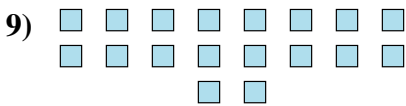




Determina se il numero delle figure all'interno di ogni rettangolo è pari o dispari.



Risposte

- 1. _____
- 2. _____
- 3. _____
- 4. _____
- 5. _____
- 6. _____
- 7. _____
- 8. _____
- 9. _____
- 10. _____



Determina se il numero delle figure all'interno di ogni rettangolo è pari o dispari.



5



12



6



8



5



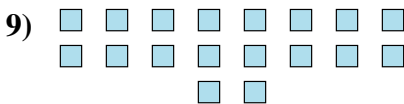
5




5



9



18



17

Risposte

1. **Dispari**

2. **Pari**

3. **Pari**

4. **Pari**

5. **Dispari**

6. **Dispari**

7. **Dispari**

8. **Dispari**

9. **Pari**

10. **Dispari**