

**Risolvi ogni problema.****Risposte**

1) Inizio: _____

Elapsed: 1 ora e 35 minuti

Fine: 8:50

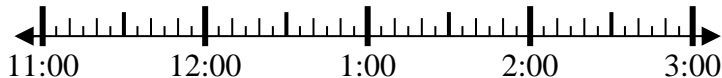


1. _____

2) Inizio: _____

Elapsed: 1 ora e 40 minuti

Fine: 12:50



2. _____

3) Inizio: _____

Elapsed: 2 ore e 15 minuti

Fine: 8:50



3. _____

4) Inizio: _____

Elapsed: 2 ore e 45 minuti

Fine: 5:00



4. _____

5) Inizio: _____

Elapsed: 1 ora e 30 minuti

Fine: 2:15

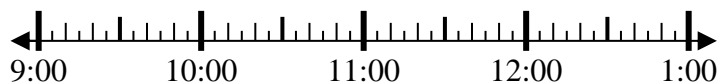


5. _____

6) Inizio: _____

Elapsed: 1 ora e 45 minuti

Fine: 11:25



6. _____

7) Inizio: _____

Elapsed: 2 ore e 35 minuti

Fine: 2:35



7. _____

8) Inizio: _____

Elapsed: 2 ore e 50 minuti

Fine: 5:35



8. _____

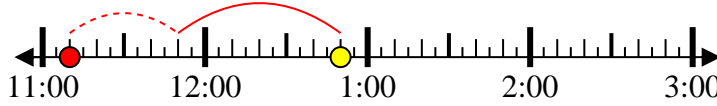


Risolvi ogni problema.

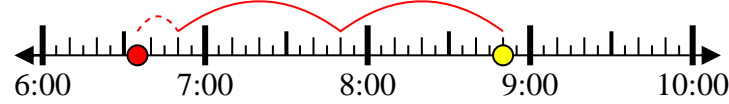
- 1) Inizio: 7:15
 Elapsed: 1 ora e 35 minuti
 Fine: 8:50



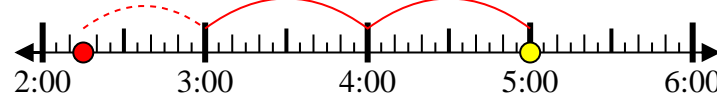
- 2) Inizio: 11:10
 Elapsed: 1 ora e 40 minuti
 Fine: 12:50



- 3) Inizio: 6:35
 Elapsed: 2 ore e 15 minuti
 Fine: 8:50



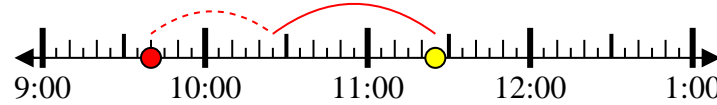
- 4) Inizio: 2:15
 Elapsed: 2 ore e 45 minuti
 Fine: 5:00



- 5) Inizio: 12:45
 Elapsed: 1 ora e 30 minuti
 Fine: 2:15



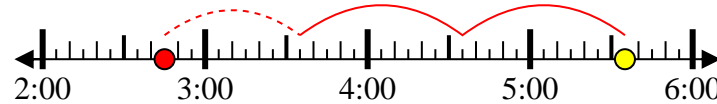
- 6) Inizio: 9:40
 Elapsed: 1 ora e 45 minuti
 Fine: 11:25



- 7) Inizio: 12:00
 Elapsed: 2 ore e 35 minuti
 Fine: 2:35



- 8) Inizio: 2:45
 Elapsed: 2 ore e 50 minuti
 Fine: 5:35

**Risposte**

1. 7:15
 2. 11:10
 3. 6:35
 4. 2:15
 5. 12:45
 6. 9:40
 7. 12:00
 8. 2:45