



Trovare il tempo trascorso con una linea dei numeri Nome: _____

Risolvi ogni problema.

Risposte

1) Inizio:11:00

Elapsed: _____

Fine:1:20



1. _____

2) Inizio:10:20

Elapsed: _____

Fine:11:30



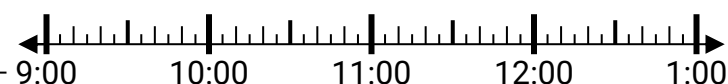
2. _____

3. _____

3) Inizio:9:40

Elapsed: _____

Fine:12:05



4. _____

5. _____

4) Inizio:1:30

Elapsed: _____

Fine:4:15



6. _____

7. _____

8. _____

5) Inizio:8:25

Elapsed: _____

Fine:10:35



6) Inizio:11:50

Elapsed: _____

Fine:2:20



7) Inizio:4:35

Elapsed: _____

Fine:6:15



8) Inizio:2:35

Elapsed: _____

Fine:4:55

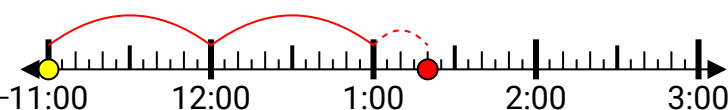


**Risolvi ogni problema.**

1) Inizio:11:00

Elapsed: **2 ore e 20 minuti**

Fine:1:20



2) Inizio:10:20

Elapsed: **1 ora e 10 minuti**

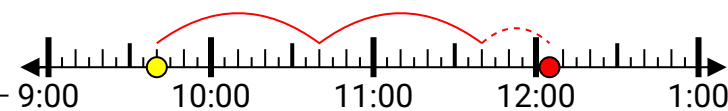
Fine:11:30



3) Inizio:9:40

Elapsed: **2 ore e 25 minuti**

Fine:12:05



4) Inizio:1:30

Elapsed: **2 ore e 45 minuti**

Fine:4:15



5) Inizio:8:25

Elapsed: **2 ore e 10 minuti**

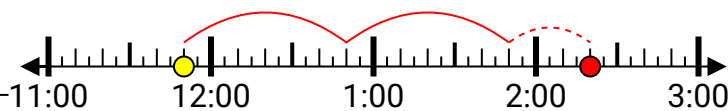
Fine:10:35



6) Inizio:11:50

Elapsed: **2 ore e 30 minuti**

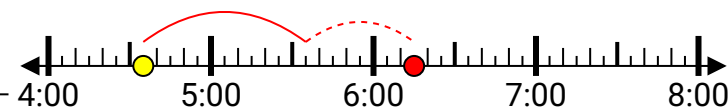
Fine:2:20



7) Inizio:4:35

Elapsed: **1 ora e 40 minuti**

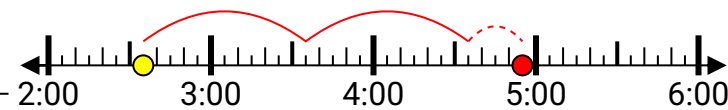
Fine:6:15



8) Inizio:2:35

Elapsed: **2 ore e 20 minuti**

Fine:4:55

**Risposte**1. **2 ore e 20 minuti**2. **1 ora e 10 minuti**3. **2 ore e 25 minuti**4. **2 ore e 45 minuti**5. **2 ore e 10 minuti**6. **2 ore e 30 minuti**7. **1 ora e 40 minuti**8. **2 ore e 20 minuti**