

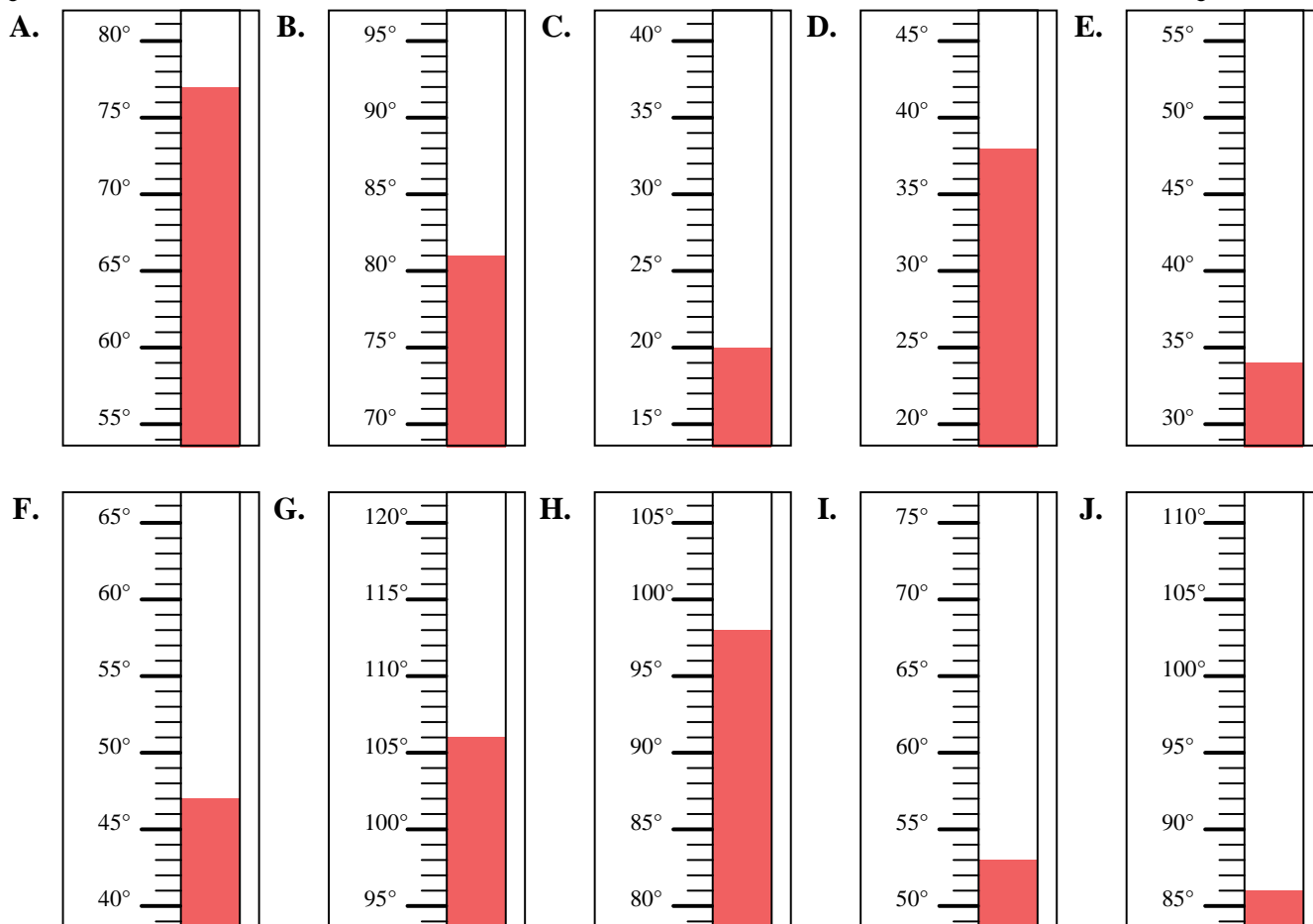


Indica quale lettera risponde correttamente ad ogni domanda.

Risposte

- 1) Quale termometro rappresenta correttamente la temperatura di 53°?
- 2) Quale termometro rappresenta correttamente la temperatura di 98°?
- 3) Quale termometro rappresenta correttamente la temperatura di 77°?
- 4) Quale termometro rappresenta correttamente la temperatura di 106°?
- 5) Quale termometro rappresenta correttamente la temperatura di 47°?
- 6) Quale termometro rappresenta correttamente la temperatura di 86°?
- 7) Quale termometro rappresenta correttamente la temperatura di 34°?
- 8) Quale termometro rappresenta correttamente la temperatura di 81°?
- 9) Quale termometro rappresenta correttamente la temperatura di 20°?
- 10) Quale termometro rappresenta correttamente la temperatura di 38°?

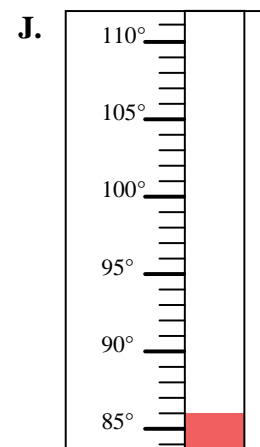
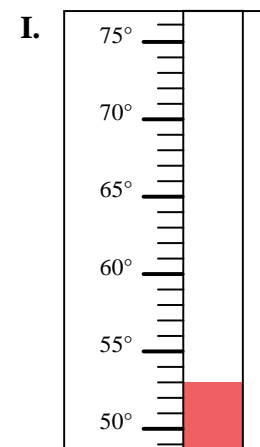
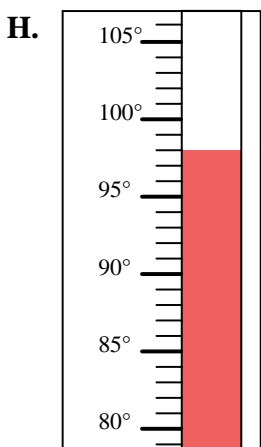
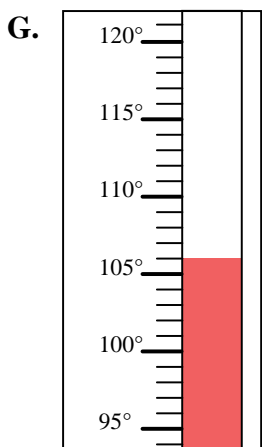
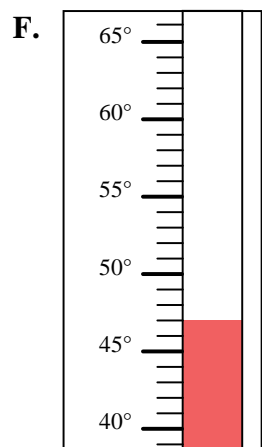
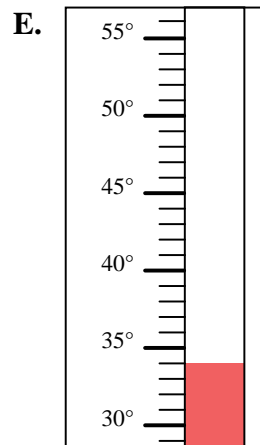
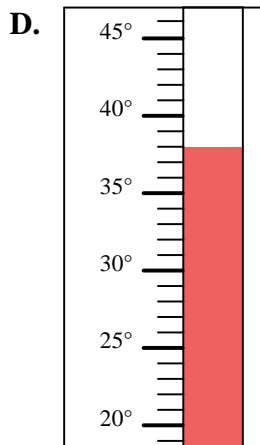
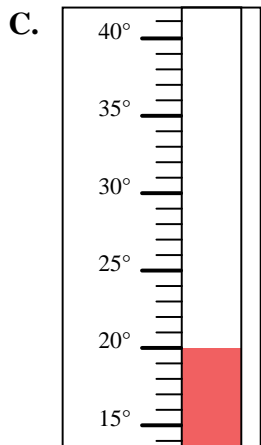
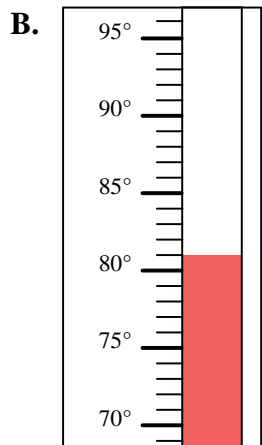
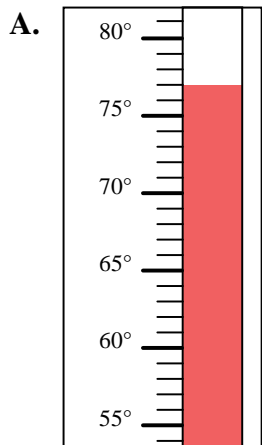
1. _____
2. _____
3. _____
4. _____
5. _____
6. _____
7. _____
8. _____
9. _____
10. _____





Indica quale lettera risponde correttamente ad ogni domanda.

- 1) Quale termometro rappresenta correttamente la temperatura di 53° ?
- 2) Quale termometro rappresenta correttamente la temperatura di 98° ?
- 3) Quale termometro rappresenta correttamente la temperatura di 77° ?
- 4) Quale termometro rappresenta correttamente la temperatura di 106° ?
- 5) Quale termometro rappresenta correttamente la temperatura di 47° ?
- 6) Quale termometro rappresenta correttamente la temperatura di 86° ?
- 7) Quale termometro rappresenta correttamente la temperatura di 34° ?
- 8) Quale termometro rappresenta correttamente la temperatura di 81° ?
- 9) Quale termometro rappresenta correttamente la temperatura di 20° ?
- 10) Quale termometro rappresenta correttamente la temperatura di 38° ?

**Risposte**1. **I** 2. **H** 3. **A** 4. **G** 5. **F** 6. **J** 7. **E** 8. **B** 9. **C** 10. **D**

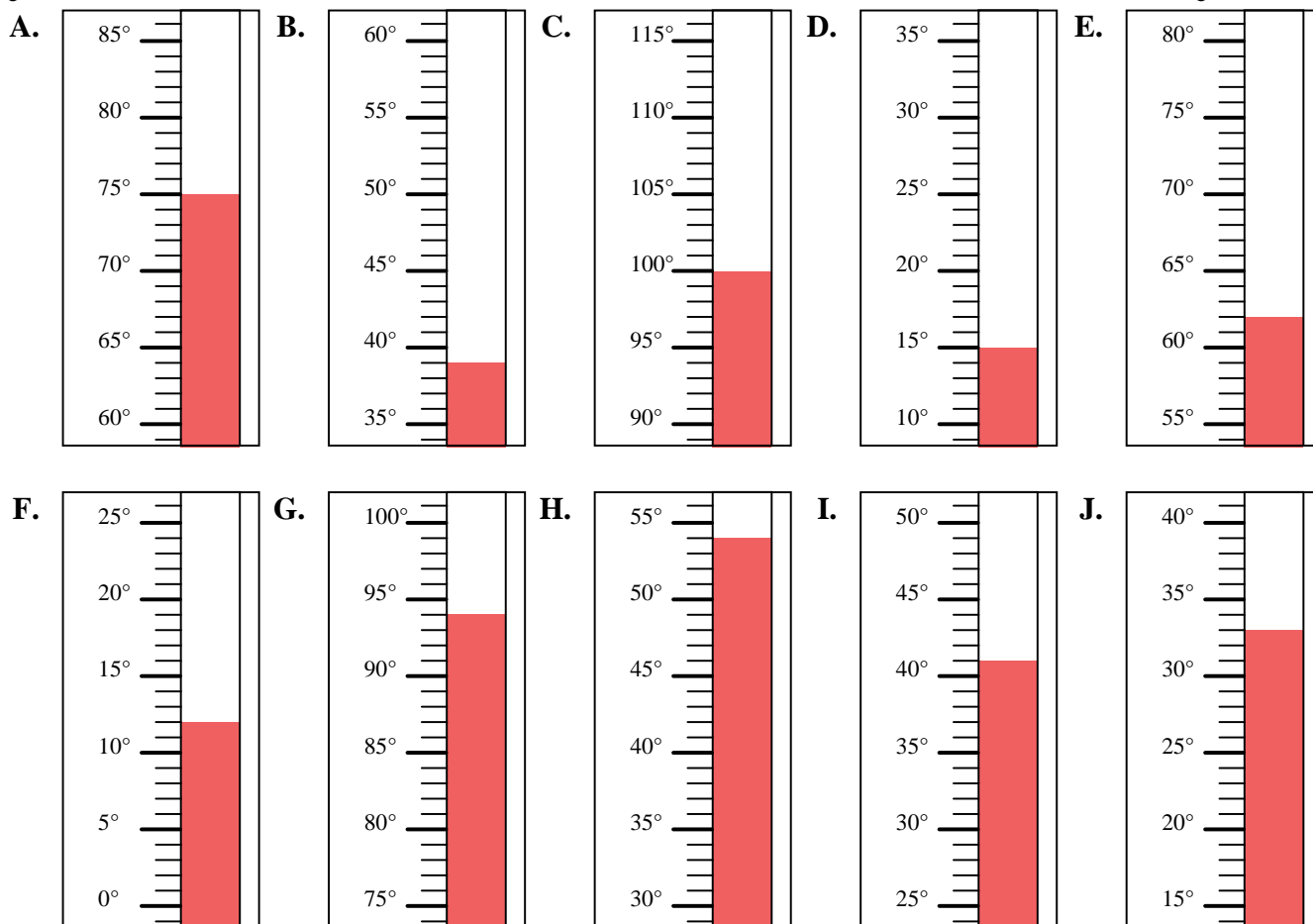


Indica quale lettera risponde correttamente ad ogni domanda.

Risposte

- 1) Quale termometro rappresenta correttamente la temperatura di 39°?
- 2) Quale termometro rappresenta correttamente la temperatura di 12°?
- 3) Quale termometro rappresenta correttamente la temperatura di 75°?
- 4) Quale termometro rappresenta correttamente la temperatura di 100°?
- 5) Quale termometro rappresenta correttamente la temperatura di 33°?
- 6) Quale termometro rappresenta correttamente la temperatura di 15°?
- 7) Quale termometro rappresenta correttamente la temperatura di 94°?
- 8) Quale termometro rappresenta correttamente la temperatura di 54°?
- 9) Quale termometro rappresenta correttamente la temperatura di 62°?
- 10) Quale termometro rappresenta correttamente la temperatura di 41°?

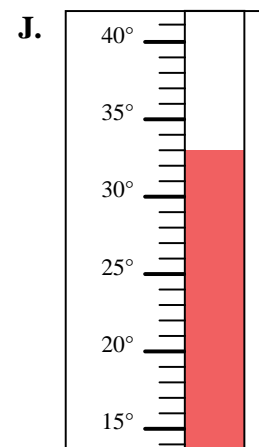
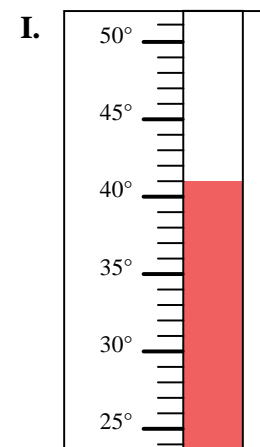
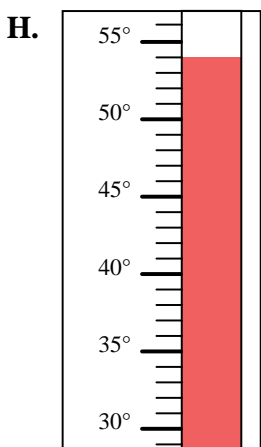
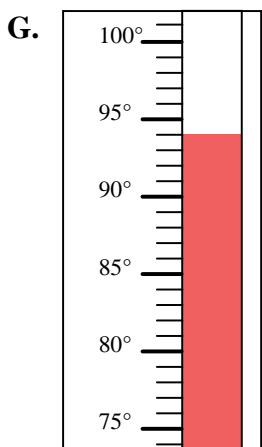
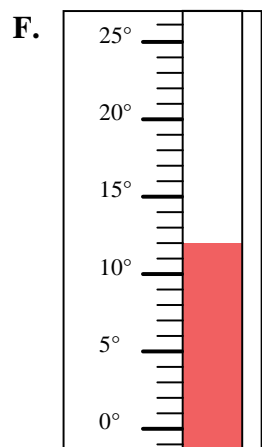
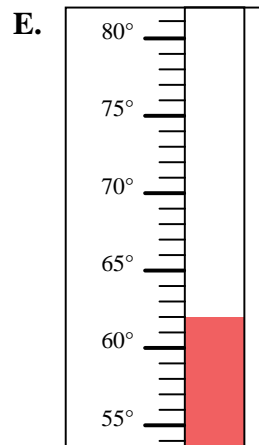
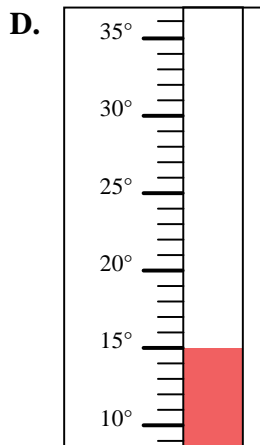
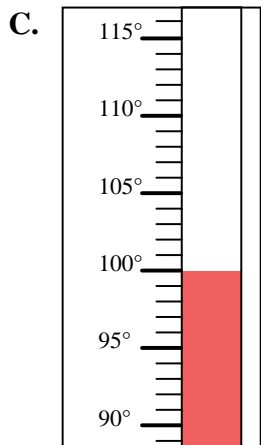
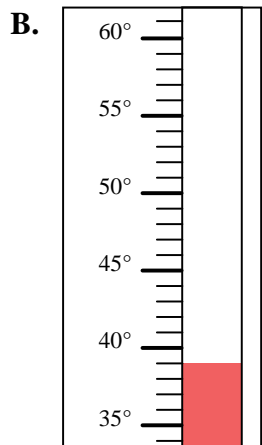
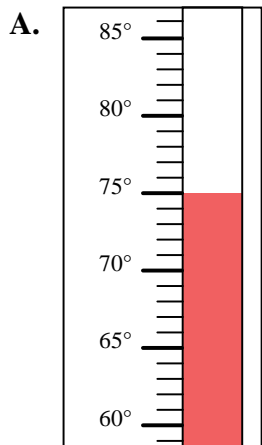
1. _____
2. _____
3. _____
4. _____
5. _____
6. _____
7. _____
8. _____
9. _____
10. _____





Indica quale lettera risponde correttamente ad ogni domanda.

- 1) Quale termometro rappresenta correttamente la temperatura di 39° ?
- 2) Quale termometro rappresenta correttamente la temperatura di 12° ?
- 3) Quale termometro rappresenta correttamente la temperatura di 75° ?
- 4) Quale termometro rappresenta correttamente la temperatura di 100° ?
- 5) Quale termometro rappresenta correttamente la temperatura di 33° ?
- 6) Quale termometro rappresenta correttamente la temperatura di 15° ?
- 7) Quale termometro rappresenta correttamente la temperatura di 94° ?
- 8) Quale termometro rappresenta correttamente la temperatura di 54° ?
- 9) Quale termometro rappresenta correttamente la temperatura di 62° ?
- 10) Quale termometro rappresenta correttamente la temperatura di 41° ?

**Risposte**

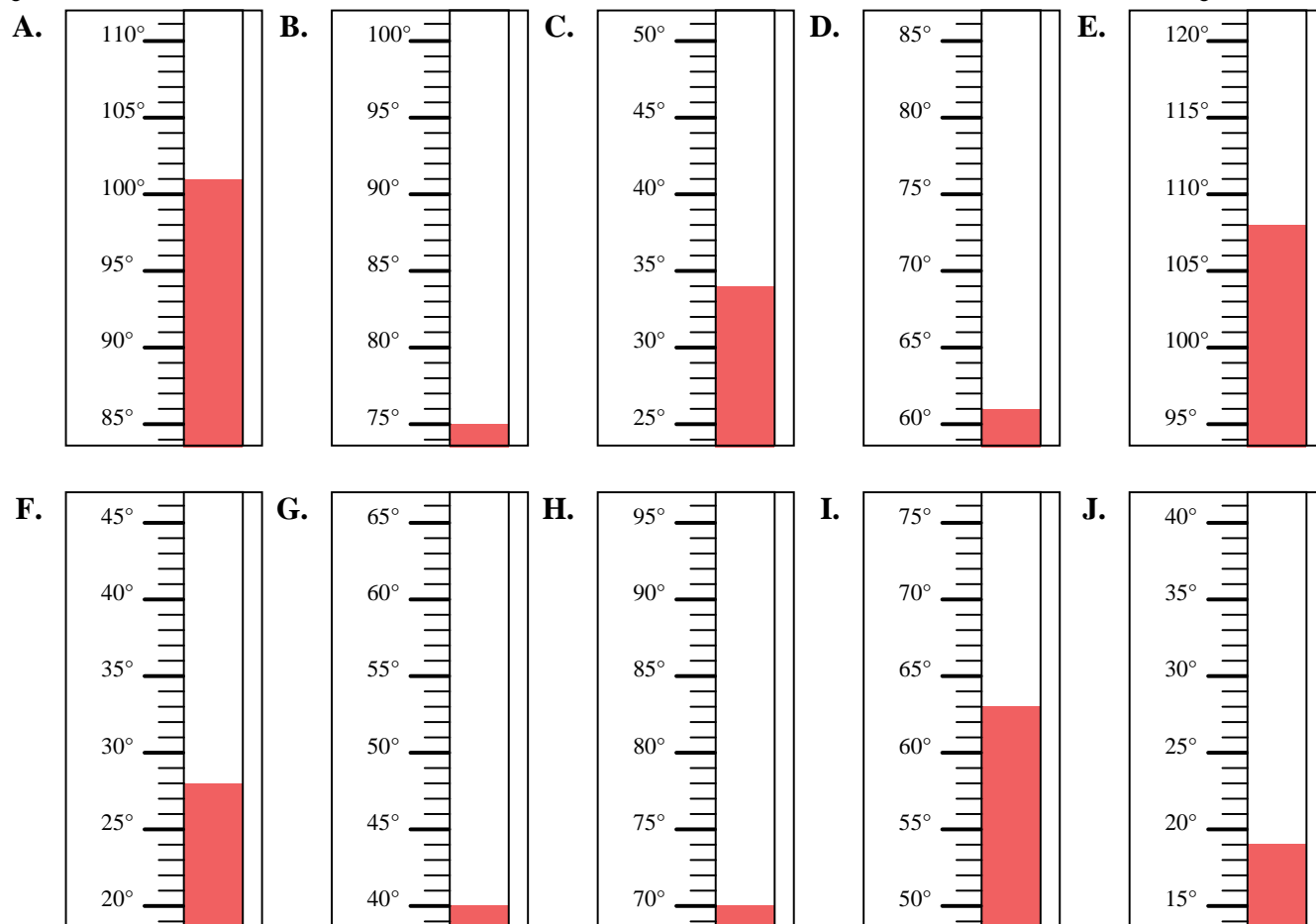
1. **B**
2. **F**
3. **A**
4. **C**
5. **J**
6. **D**
7. **G**
8. **H**
9. **E**
10. **I**



Indica quale lettera risponde correttamente ad ogni domanda.

Risposte

- 1) Quale termometro rappresenta correttamente la temperatura di 101° ?
- 2) Quale termometro rappresenta correttamente la temperatura di 34° ?
- 3) Quale termometro rappresenta correttamente la temperatura di 63° ?
- 4) Quale termometro rappresenta correttamente la temperatura di 108° ?
- 5) Quale termometro rappresenta correttamente la temperatura di 61° ?
- 6) Quale termometro rappresenta correttamente la temperatura di 75° ?
- 7) Quale termometro rappresenta correttamente la temperatura di 40° ?
- 8) Quale termometro rappresenta correttamente la temperatura di 28° ?
- 9) Quale termometro rappresenta correttamente la temperatura di 70° ?
- 10) Quale termometro rappresenta correttamente la temperatura di 19° ?

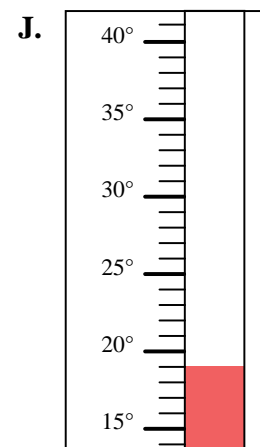
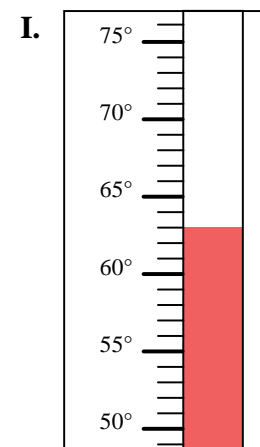
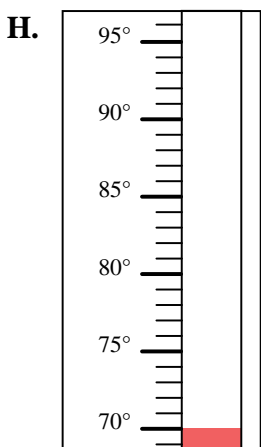
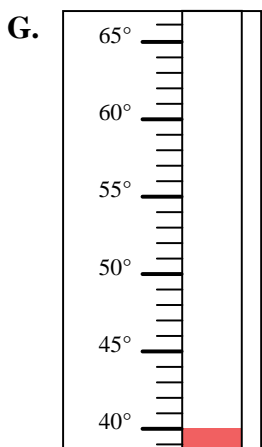
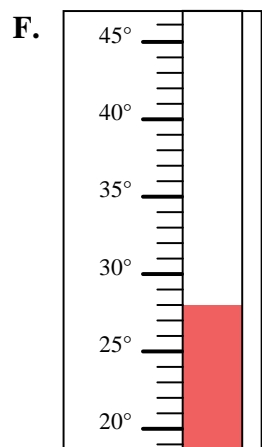
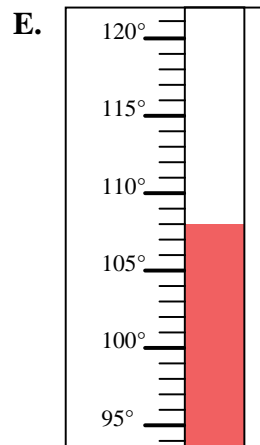
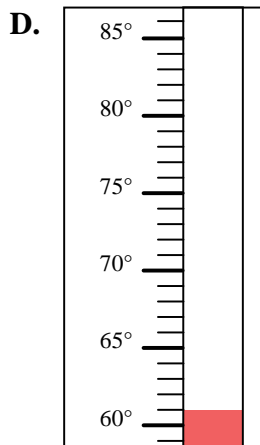
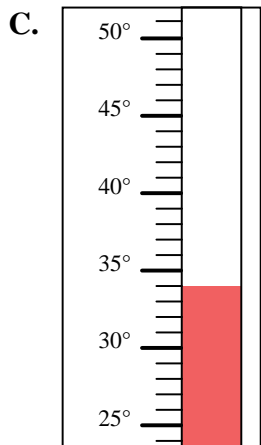
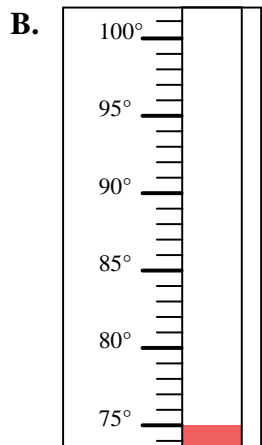
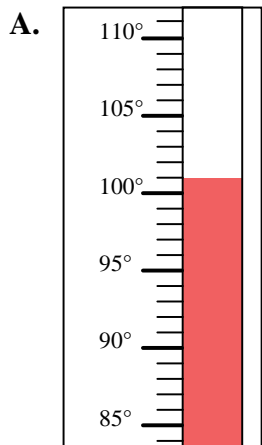


1. _____
2. _____
3. _____
4. _____
5. _____
6. _____
7. _____
8. _____
9. _____
10. _____



Indica quale lettera risponde correttamente ad ogni domanda.

- 1) Quale termometro rappresenta correttamente la temperatura di 101° ?
- 2) Quale termometro rappresenta correttamente la temperatura di 34° ?
- 3) Quale termometro rappresenta correttamente la temperatura di 63° ?
- 4) Quale termometro rappresenta correttamente la temperatura di 108° ?
- 5) Quale termometro rappresenta correttamente la temperatura di 61° ?
- 6) Quale termometro rappresenta correttamente la temperatura di 75° ?
- 7) Quale termometro rappresenta correttamente la temperatura di 40° ?
- 8) Quale termometro rappresenta correttamente la temperatura di 28° ?
- 9) Quale termometro rappresenta correttamente la temperatura di 70° ?
- 10) Quale termometro rappresenta correttamente la temperatura di 19° ?

**Risposte**

1. **A**
2. **C**
3. **I**
4. **E**
5. **D**
6. **B**
7. **G**
8. **F**
9. **H**
10. **J**

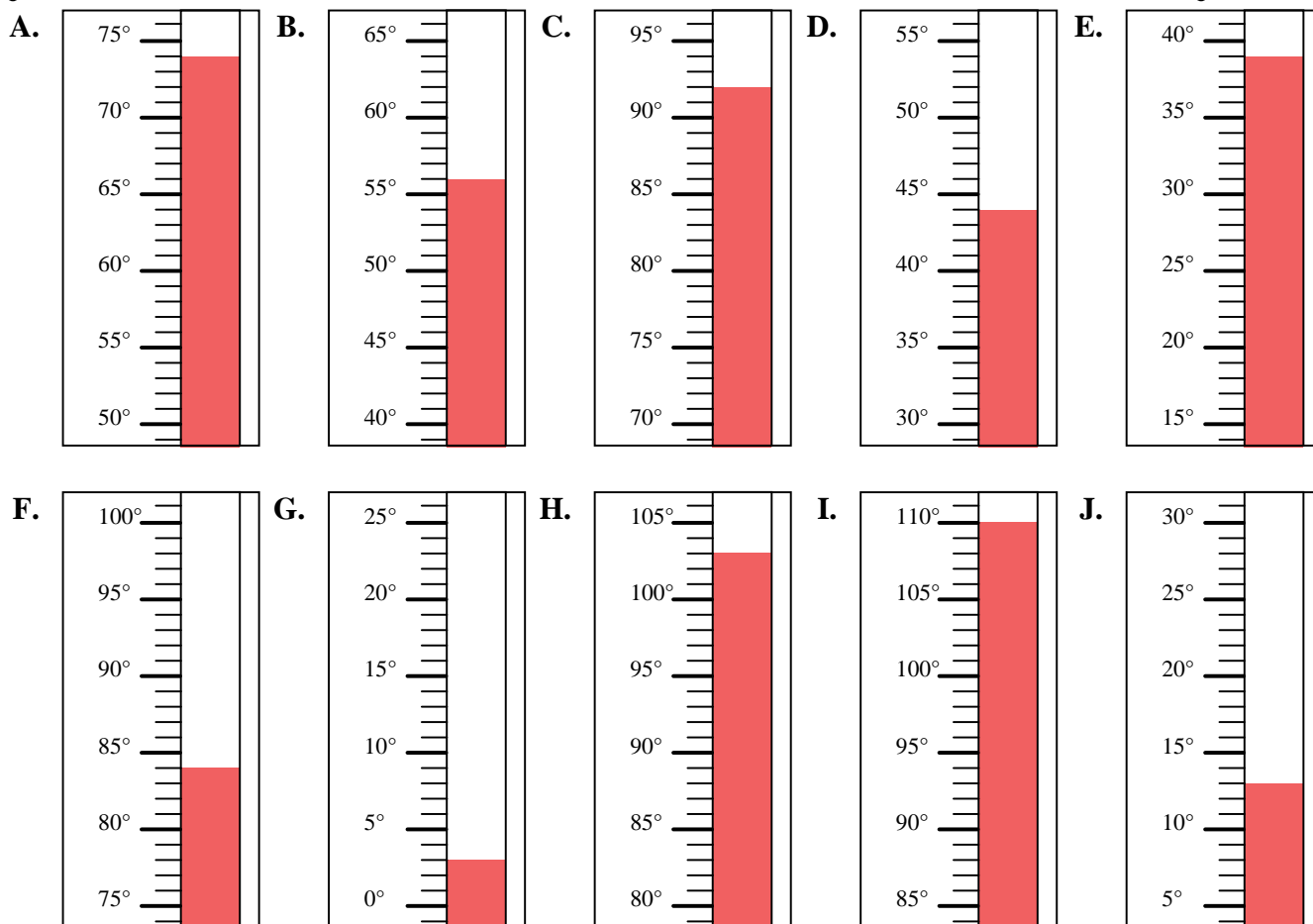


Indica quale lettera risponde correttamente ad ogni domanda.

Risposte

- 1) Quale termometro rappresenta correttamente la temperatura di 92°?
- 2) Quale termometro rappresenta correttamente la temperatura di 84°?
- 3) Quale termometro rappresenta correttamente la temperatura di 56°?
- 4) Quale termometro rappresenta correttamente la temperatura di 110°?
- 5) Quale termometro rappresenta correttamente la temperatura di 13°?
- 6) Quale termometro rappresenta correttamente la temperatura di 39°?
- 7) Quale termometro rappresenta correttamente la temperatura di 3°?
- 8) Quale termometro rappresenta correttamente la temperatura di 44°?
- 9) Quale termometro rappresenta correttamente la temperatura di 74°?
- 10) Quale termometro rappresenta correttamente la temperatura di 103°?

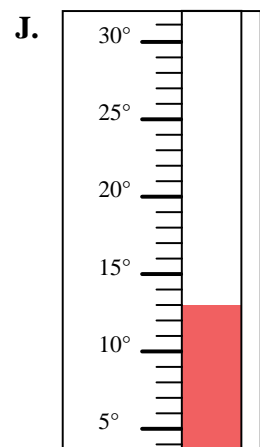
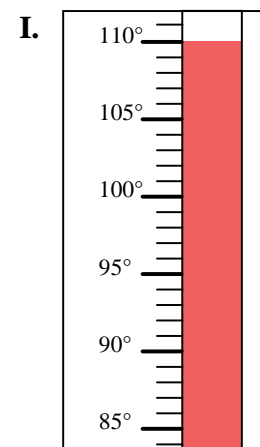
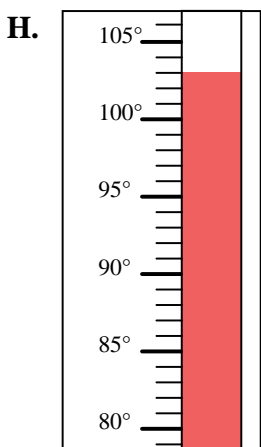
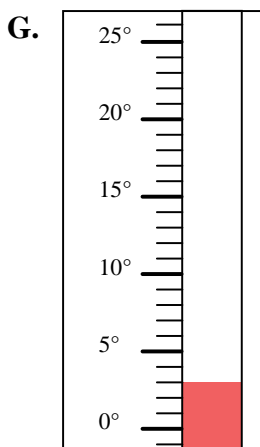
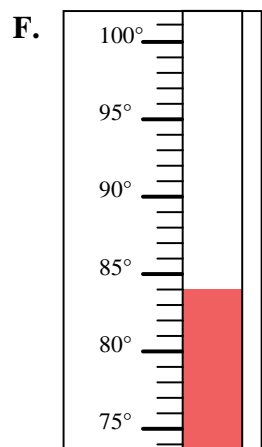
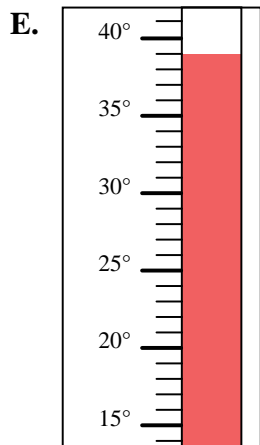
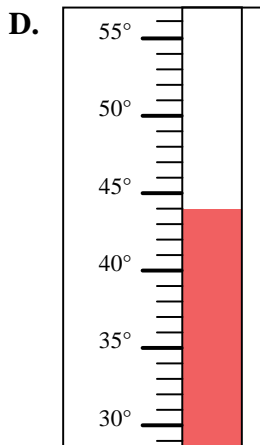
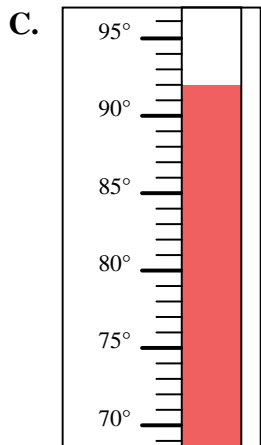
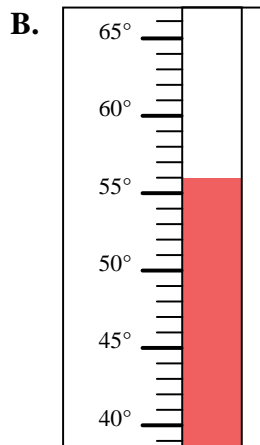
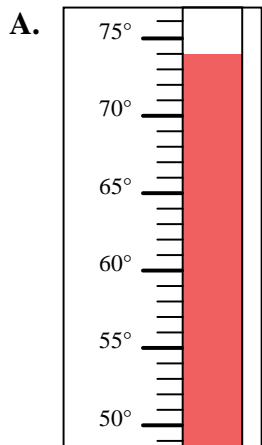
1. _____
2. _____
3. _____
4. _____
5. _____
6. _____
7. _____
8. _____
9. _____
10. _____





Indica quale lettera risponde correttamente ad ogni domanda.

- 1) Quale termometro rappresenta correttamente la temperatura di 92° ?
- 2) Quale termometro rappresenta correttamente la temperatura di 84° ?
- 3) Quale termometro rappresenta correttamente la temperatura di 56° ?
- 4) Quale termometro rappresenta correttamente la temperatura di 110° ?
- 5) Quale termometro rappresenta correttamente la temperatura di 13° ?
- 6) Quale termometro rappresenta correttamente la temperatura di 39° ?
- 7) Quale termometro rappresenta correttamente la temperatura di 3° ?
- 8) Quale termometro rappresenta correttamente la temperatura di 44° ?
- 9) Quale termometro rappresenta correttamente la temperatura di 74° ?
- 10) Quale termometro rappresenta correttamente la temperatura di 103° ?

**Risposte**1. **C**2. **F**3. **B**4. **I**5. **J**6. **E**7. **G**8. **D**9. **A**10. **H**

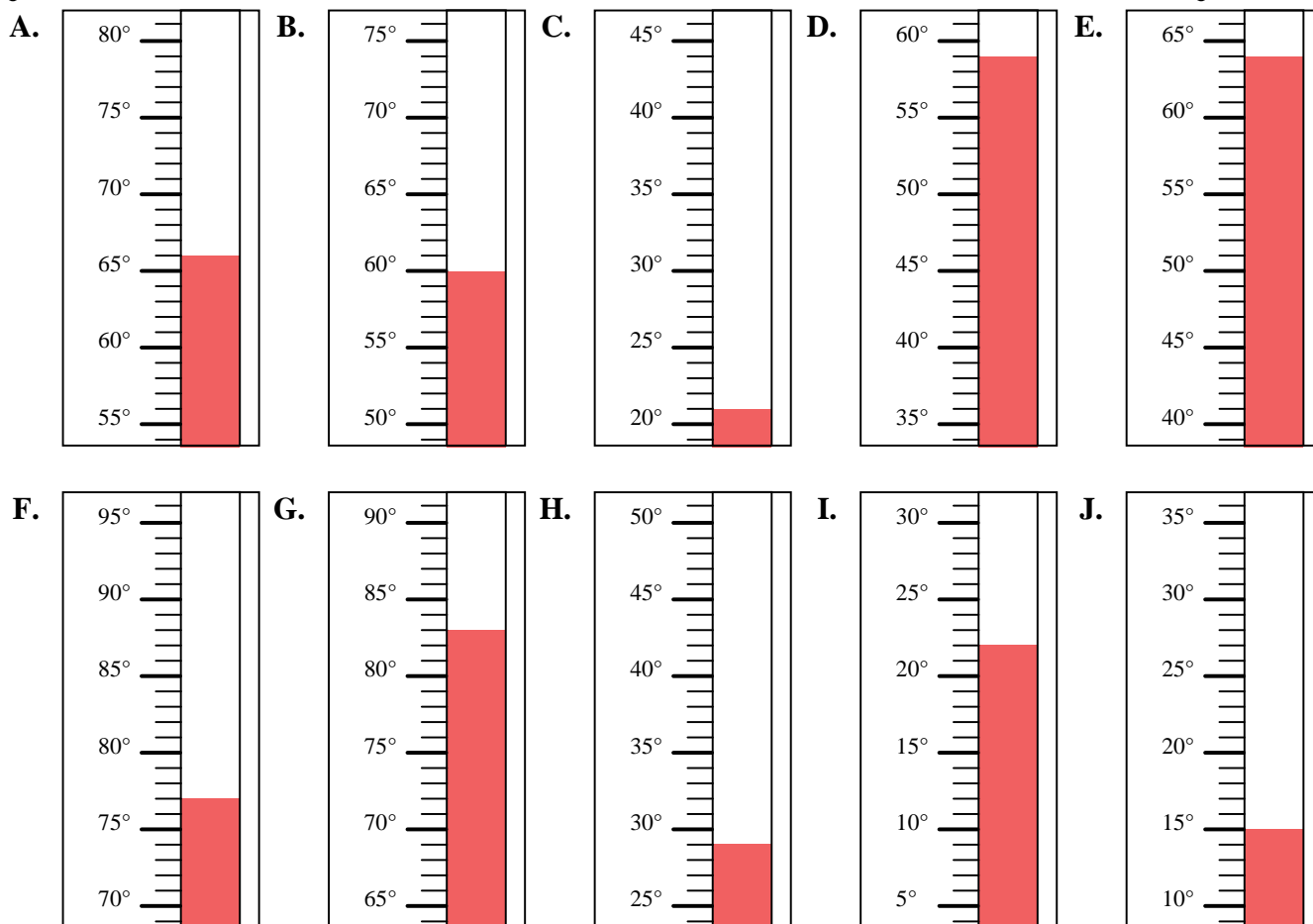


Indica quale lettera risponde correttamente ad ogni domanda.

Risposte

- 1) Quale termometro rappresenta correttamente la temperatura di 22°?
- 2) Quale termometro rappresenta correttamente la temperatura di 66°?
- 3) Quale termometro rappresenta correttamente la temperatura di 15°?
- 4) Quale termometro rappresenta correttamente la temperatura di 83°?
- 5) Quale termometro rappresenta correttamente la temperatura di 21°?
- 6) Quale termometro rappresenta correttamente la temperatura di 59°?
- 7) Quale termometro rappresenta correttamente la temperatura di 60°?
- 8) Quale termometro rappresenta correttamente la temperatura di 77°?
- 9) Quale termometro rappresenta correttamente la temperatura di 64°?
- 10) Quale termometro rappresenta correttamente la temperatura di 29°?

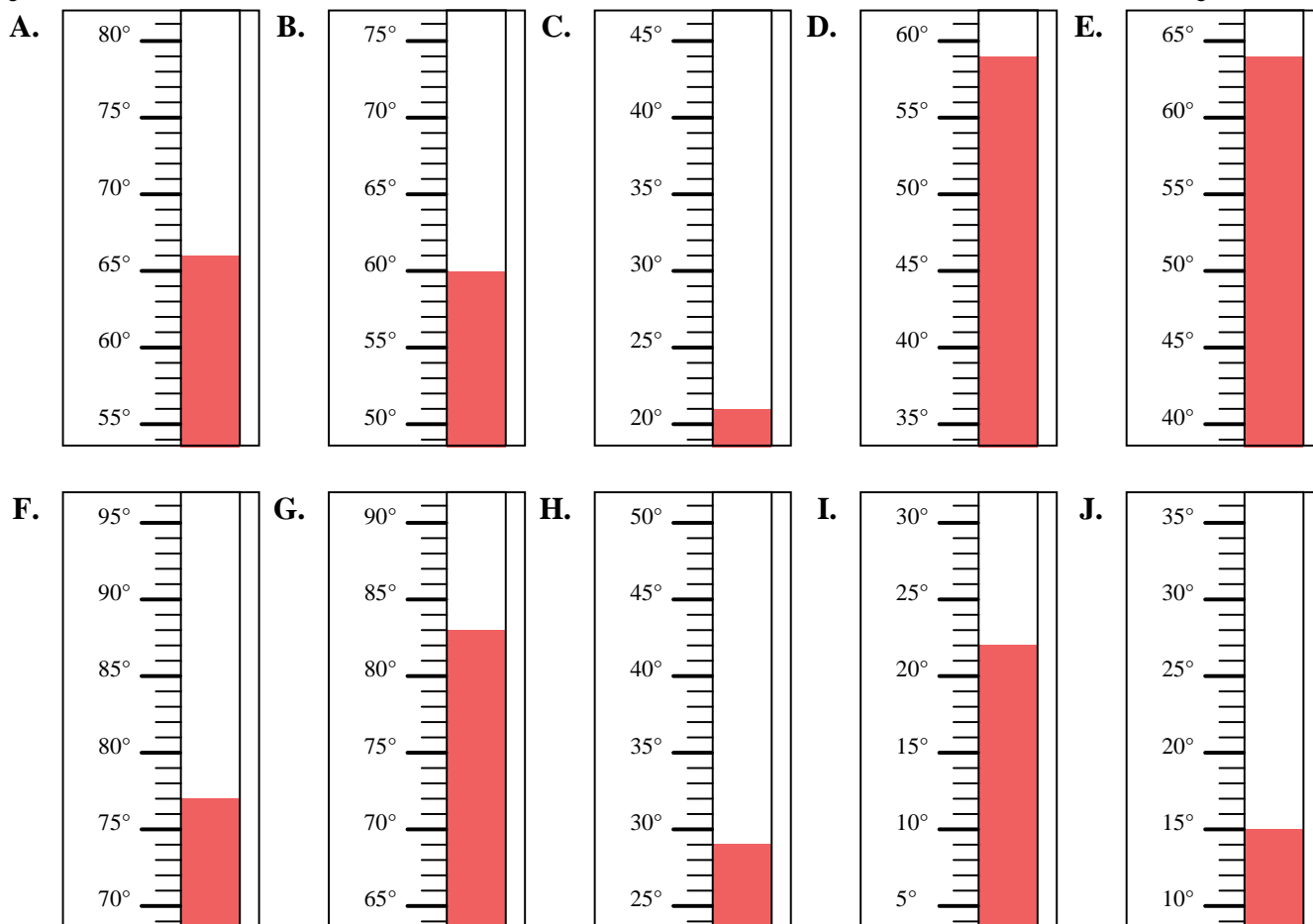
1. _____
2. _____
3. _____
4. _____
5. _____
6. _____
7. _____
8. _____
9. _____
10. _____





Indica quale lettera risponde correttamente ad ogni domanda.

- 1) Quale termometro rappresenta correttamente la temperatura di 22°?
- 2) Quale termometro rappresenta correttamente la temperatura di 66°?
- 3) Quale termometro rappresenta correttamente la temperatura di 15°?
- 4) Quale termometro rappresenta correttamente la temperatura di 83°?
- 5) Quale termometro rappresenta correttamente la temperatura di 21°?
- 6) Quale termometro rappresenta correttamente la temperatura di 59°?
- 7) Quale termometro rappresenta correttamente la temperatura di 60°?
- 8) Quale termometro rappresenta correttamente la temperatura di 77°?
- 9) Quale termometro rappresenta correttamente la temperatura di 64°?
- 10) Quale termometro rappresenta correttamente la temperatura di 29°?

**Risposte**

1. **I**
2. **A**
3. **J**
4. **G**
5. **C**
6. **D**
7. **B**
8. **F**
9. **E**
10. **H**

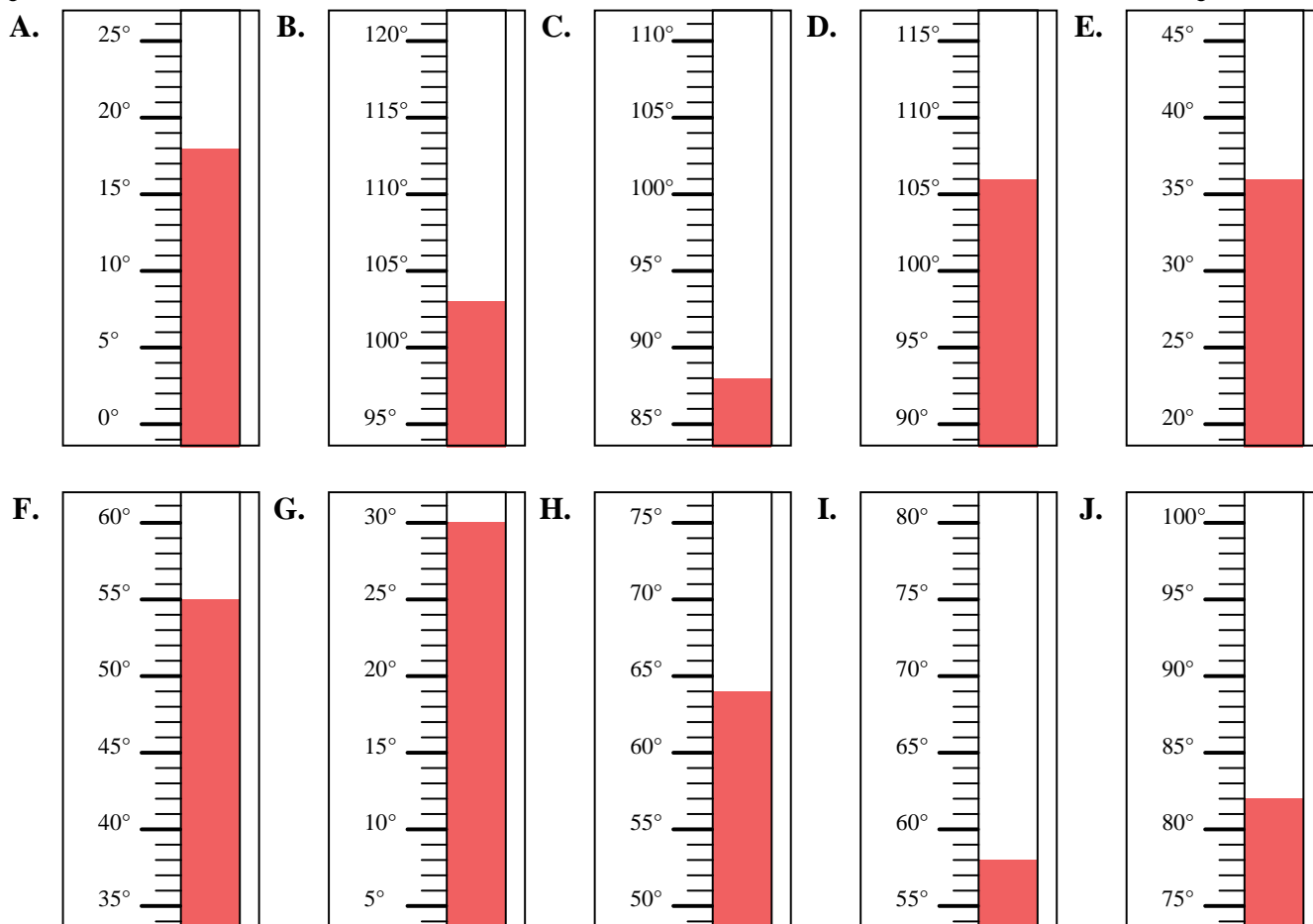


Indica quale lettera risponde correttamente ad ogni domanda.

Risposte

- 1) Quale termometro rappresenta correttamente la temperatura di 82°?
- 2) Quale termometro rappresenta correttamente la temperatura di 64°?
- 3) Quale termometro rappresenta correttamente la temperatura di 58°?
- 4) Quale termometro rappresenta correttamente la temperatura di 106°?
- 5) Quale termometro rappresenta correttamente la temperatura di 88°?
- 6) Quale termometro rappresenta correttamente la temperatura di 36°?
- 7) Quale termometro rappresenta correttamente la temperatura di 18°?
- 8) Quale termometro rappresenta correttamente la temperatura di 30°?
- 9) Quale termometro rappresenta correttamente la temperatura di 55°?
- 10) Quale termometro rappresenta correttamente la temperatura di 103°?

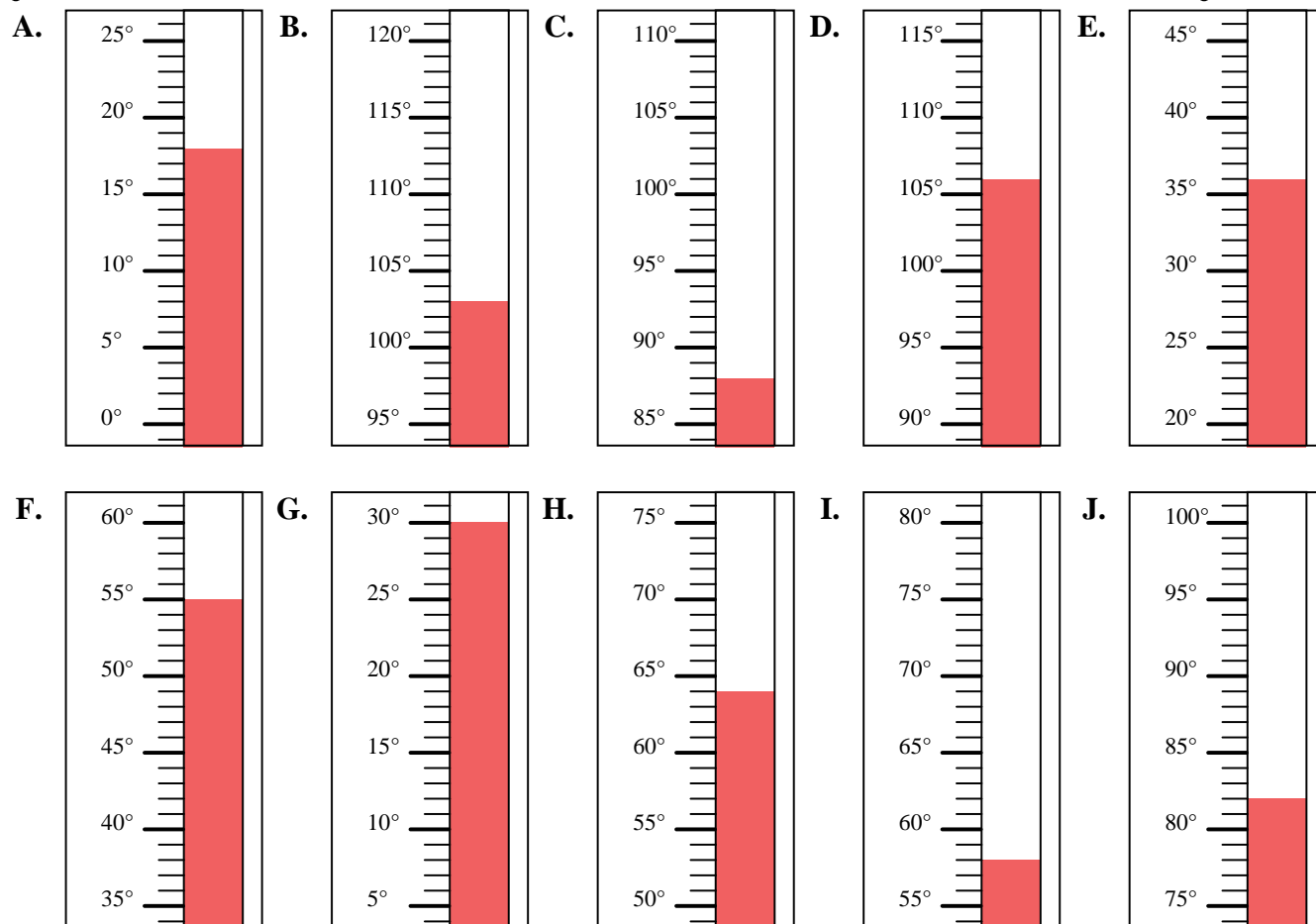
1. _____
2. _____
3. _____
4. _____
5. _____
6. _____
7. _____
8. _____
9. _____
10. _____





Indica quale lettera risponde correttamente ad ogni domanda.

- 1) Quale termometro rappresenta correttamente la temperatura di 82° ?
- 2) Quale termometro rappresenta correttamente la temperatura di 64° ?
- 3) Quale termometro rappresenta correttamente la temperatura di 58° ?
- 4) Quale termometro rappresenta correttamente la temperatura di 106° ?
- 5) Quale termometro rappresenta correttamente la temperatura di 88° ?
- 6) Quale termometro rappresenta correttamente la temperatura di 36° ?
- 7) Quale termometro rappresenta correttamente la temperatura di 18° ?
- 8) Quale termometro rappresenta correttamente la temperatura di 30° ?
- 9) Quale termometro rappresenta correttamente la temperatura di 55° ?
- 10) Quale termometro rappresenta correttamente la temperatura di 103° ?

**Risposte**

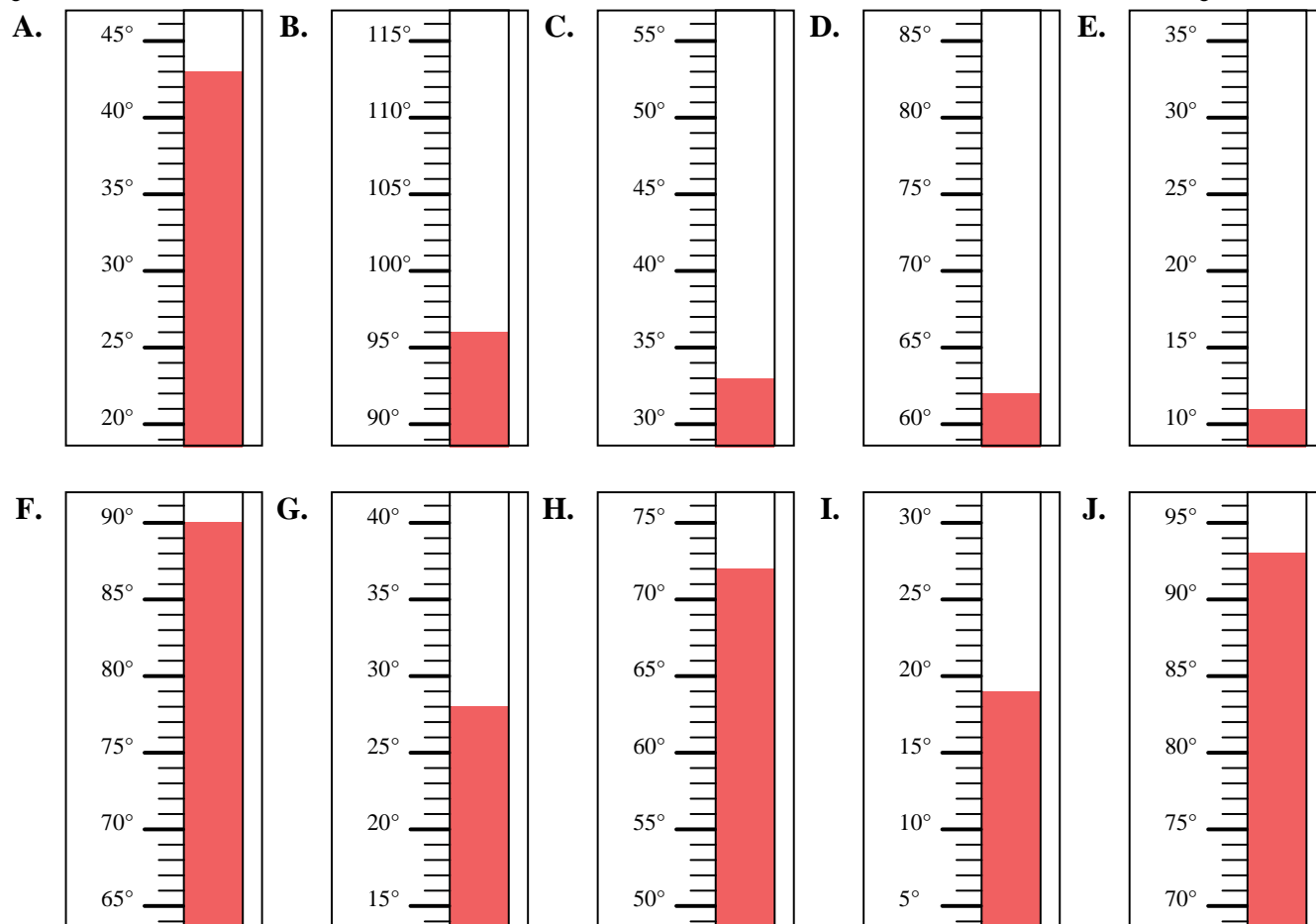
1. **J**
2. **H**
3. **I**
4. **D**
5. **C**
6. **E**
7. **A**
8. **G**
9. **F**
10. **B**



Indica quale lettera risponde correttamente ad ogni domanda.

Risposte

- 1) Quale termometro rappresenta correttamente la temperatura di 62° ?
- 2) Quale termometro rappresenta correttamente la temperatura di 43° ?
- 3) Quale termometro rappresenta correttamente la temperatura di 72° ?
- 4) Quale termometro rappresenta correttamente la temperatura di 33° ?
- 5) Quale termometro rappresenta correttamente la temperatura di 11° ?
- 6) Quale termometro rappresenta correttamente la temperatura di 93° ?
- 7) Quale termometro rappresenta correttamente la temperatura di 96° ?
- 8) Quale termometro rappresenta correttamente la temperatura di 19° ?
- 9) Quale termometro rappresenta correttamente la temperatura di 28° ?
- 10) Quale termometro rappresenta correttamente la temperatura di 90° ?

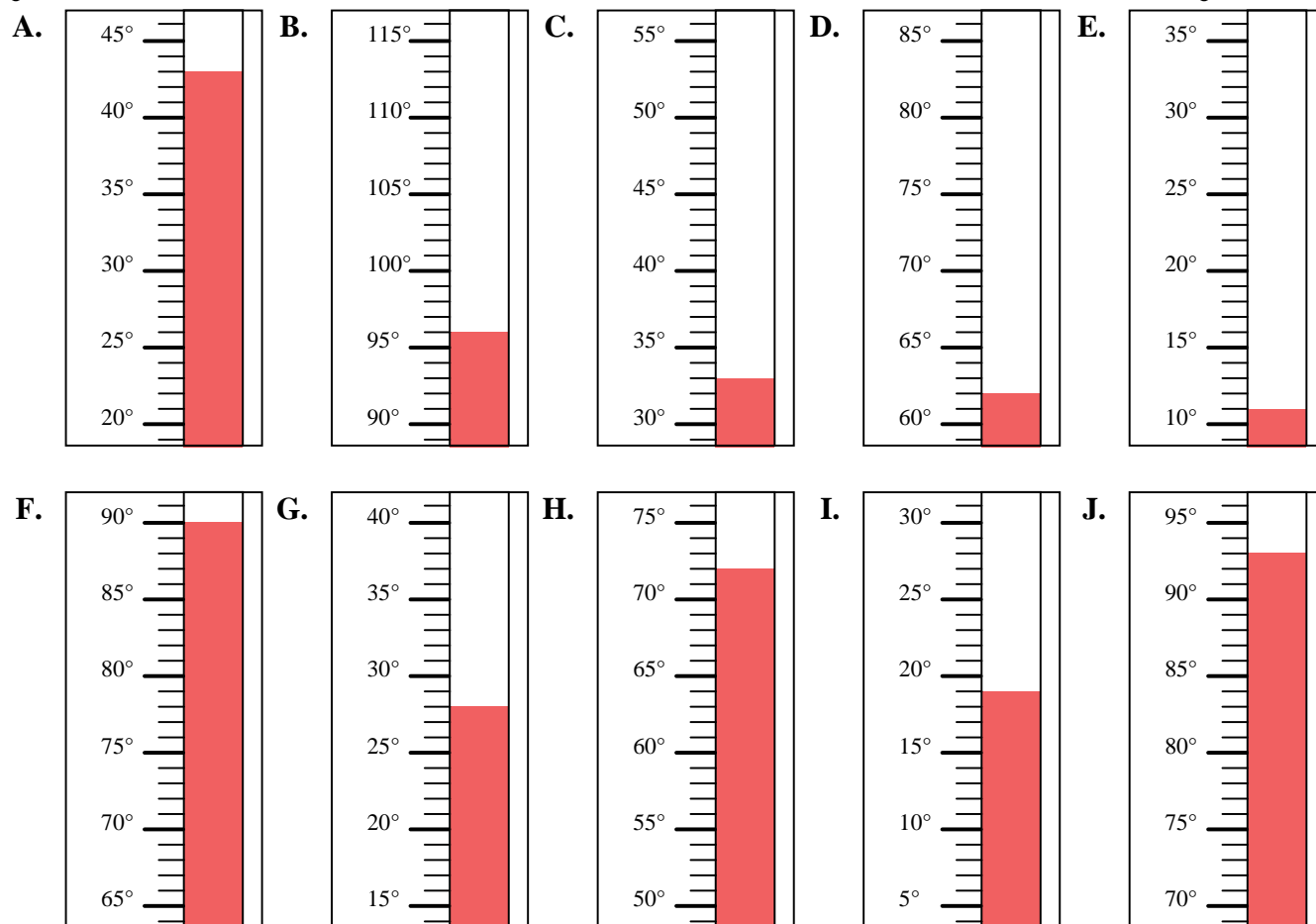


1. _____
2. _____
3. _____
4. _____
5. _____
6. _____
7. _____
8. _____
9. _____
10. _____



Indica quale lettera risponde correttamente ad ogni domanda.

- 1) Quale termometro rappresenta correttamente la temperatura di 62°?
- 2) Quale termometro rappresenta correttamente la temperatura di 43°?
- 3) Quale termometro rappresenta correttamente la temperatura di 72°?
- 4) Quale termometro rappresenta correttamente la temperatura di 33°?
- 5) Quale termometro rappresenta correttamente la temperatura di 11°?
- 6) Quale termometro rappresenta correttamente la temperatura di 93°?
- 7) Quale termometro rappresenta correttamente la temperatura di 96°?
- 8) Quale termometro rappresenta correttamente la temperatura di 19°?
- 9) Quale termometro rappresenta correttamente la temperatura di 28°?
- 10) Quale termometro rappresenta correttamente la temperatura di 90°?



Risposte

1. **D**
2. **A**
3. **H**
4. **C**
5. **E**
6. **J**
7. **B**
8. **I**
9. **G**
10. **F**

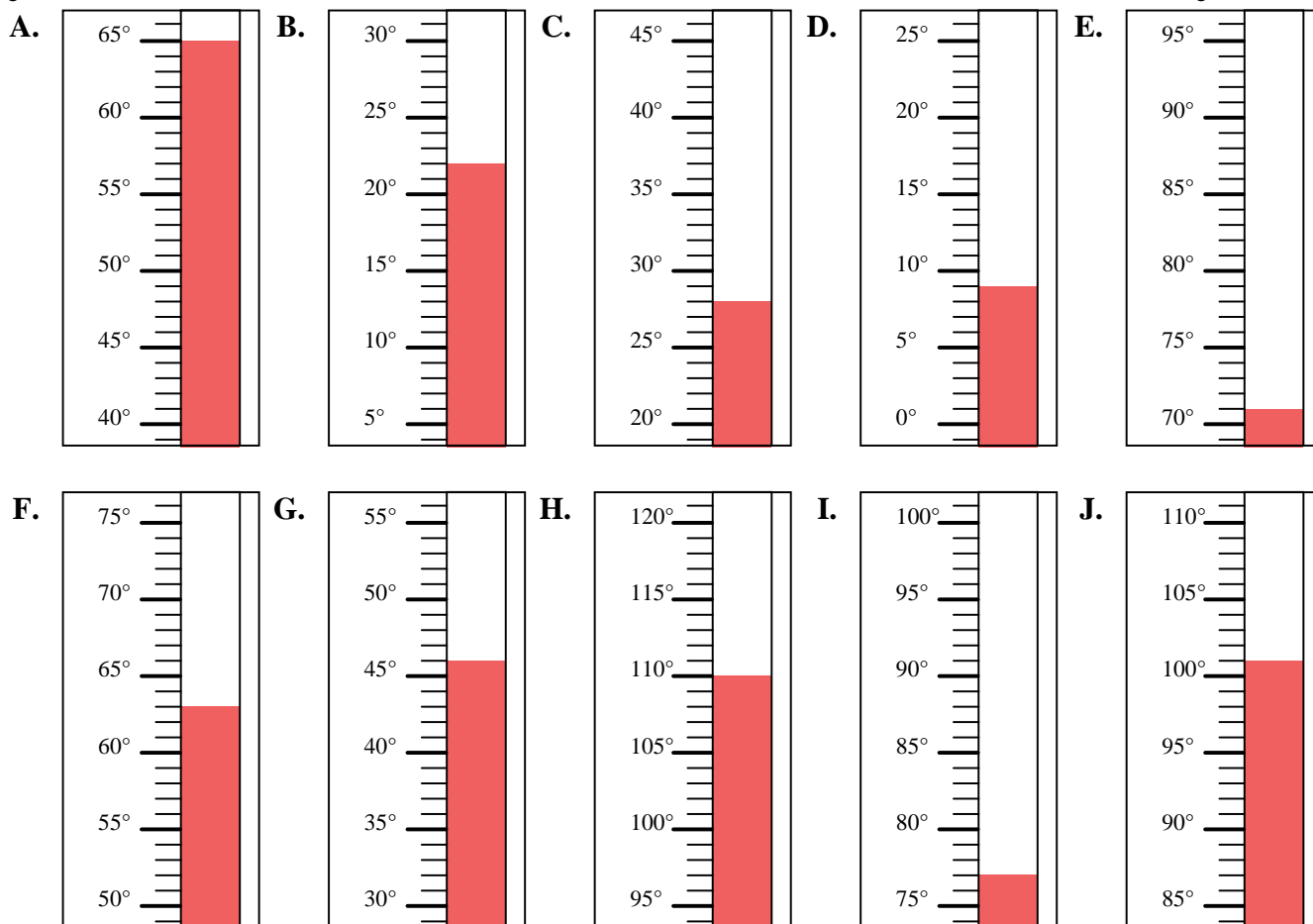


Indica quale lettera risponde correttamente ad ogni domanda.

Risposte

- 1) Quale termometro rappresenta correttamente la temperatura di 63°?
- 2) Quale termometro rappresenta correttamente la temperatura di 46°?
- 3) Quale termometro rappresenta correttamente la temperatura di 65°?
- 4) Quale termometro rappresenta correttamente la temperatura di 110°?
- 5) Quale termometro rappresenta correttamente la temperatura di 77°?
- 6) Quale termometro rappresenta correttamente la temperatura di 22°?
- 7) Quale termometro rappresenta correttamente la temperatura di 71°?
- 8) Quale termometro rappresenta correttamente la temperatura di 28°?
- 9) Quale termometro rappresenta correttamente la temperatura di 9°?
- 10) Quale termometro rappresenta correttamente la temperatura di 101°?

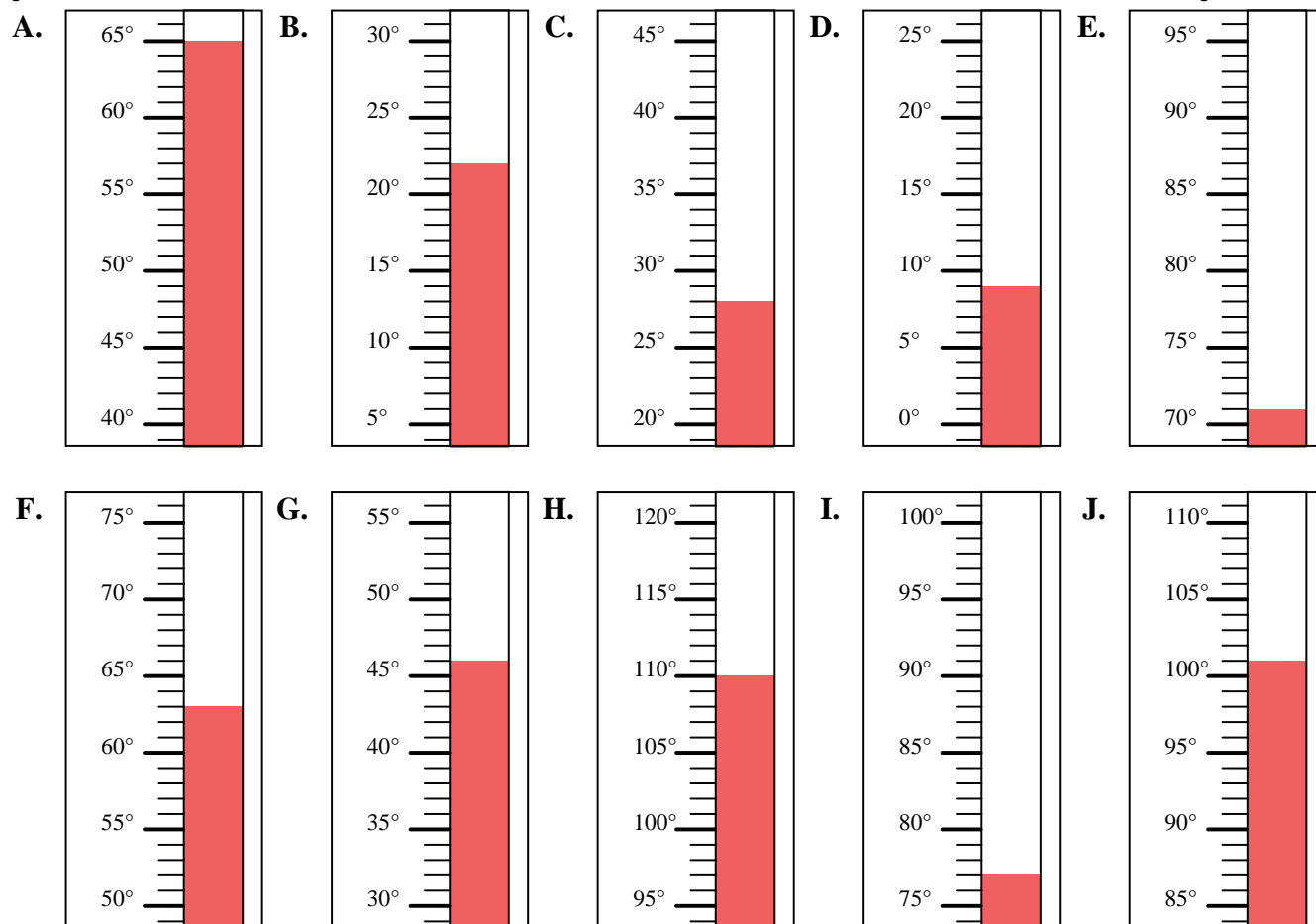
1. _____
2. _____
3. _____
4. _____
5. _____
6. _____
7. _____
8. _____
9. _____
10. _____





Indica quale lettera risponde correttamente ad ogni domanda.

- 1) Quale termometro rappresenta correttamente la temperatura di 63° ?
- 2) Quale termometro rappresenta correttamente la temperatura di 46° ?
- 3) Quale termometro rappresenta correttamente la temperatura di 65° ?
- 4) Quale termometro rappresenta correttamente la temperatura di 110° ?
- 5) Quale termometro rappresenta correttamente la temperatura di 77° ?
- 6) Quale termometro rappresenta correttamente la temperatura di 22° ?
- 7) Quale termometro rappresenta correttamente la temperatura di 71° ?
- 8) Quale termometro rappresenta correttamente la temperatura di 28° ?
- 9) Quale termometro rappresenta correttamente la temperatura di 9° ?
- 10) Quale termometro rappresenta correttamente la temperatura di 101° ?

**Risposte**

1. **F**
2. **G**
3. **A**
4. **H**
5. **I**
6. **B**
7. **E**
8. **C**
9. **D**
10. **J**

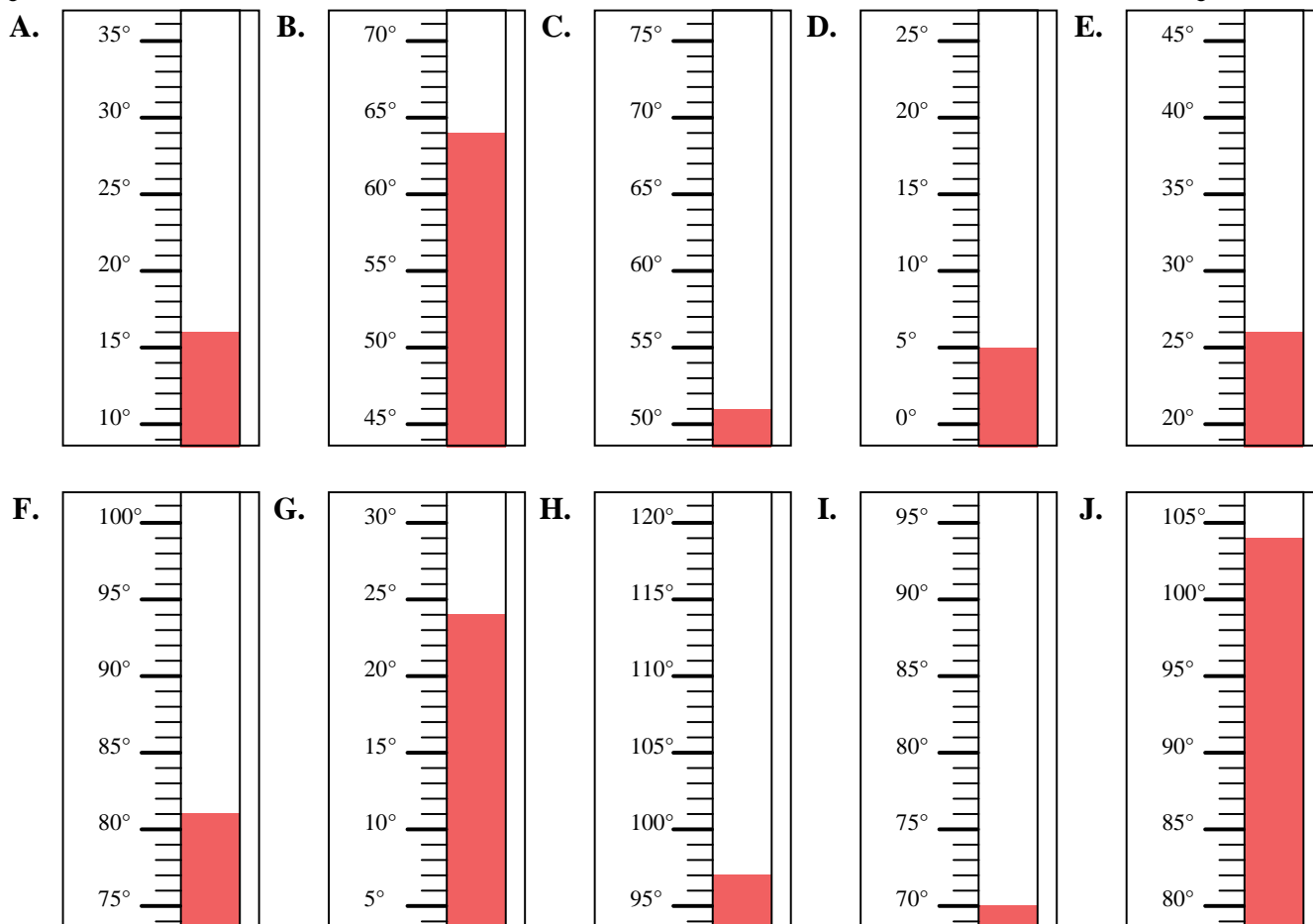


Indica quale lettera risponde correttamente ad ogni domanda.

Risposte

- 1) Quale termometro rappresenta correttamente la temperatura di 70°?
- 2) Quale termometro rappresenta correttamente la temperatura di 51°?
- 3) Quale termometro rappresenta correttamente la temperatura di 64°?
- 4) Quale termometro rappresenta correttamente la temperatura di 26°?
- 5) Quale termometro rappresenta correttamente la temperatura di 104°?
- 6) Quale termometro rappresenta correttamente la temperatura di 97°?
- 7) Quale termometro rappresenta correttamente la temperatura di 5°?
- 8) Quale termometro rappresenta correttamente la temperatura di 81°?
- 9) Quale termometro rappresenta correttamente la temperatura di 16°?
- 10) Quale termometro rappresenta correttamente la temperatura di 24°?

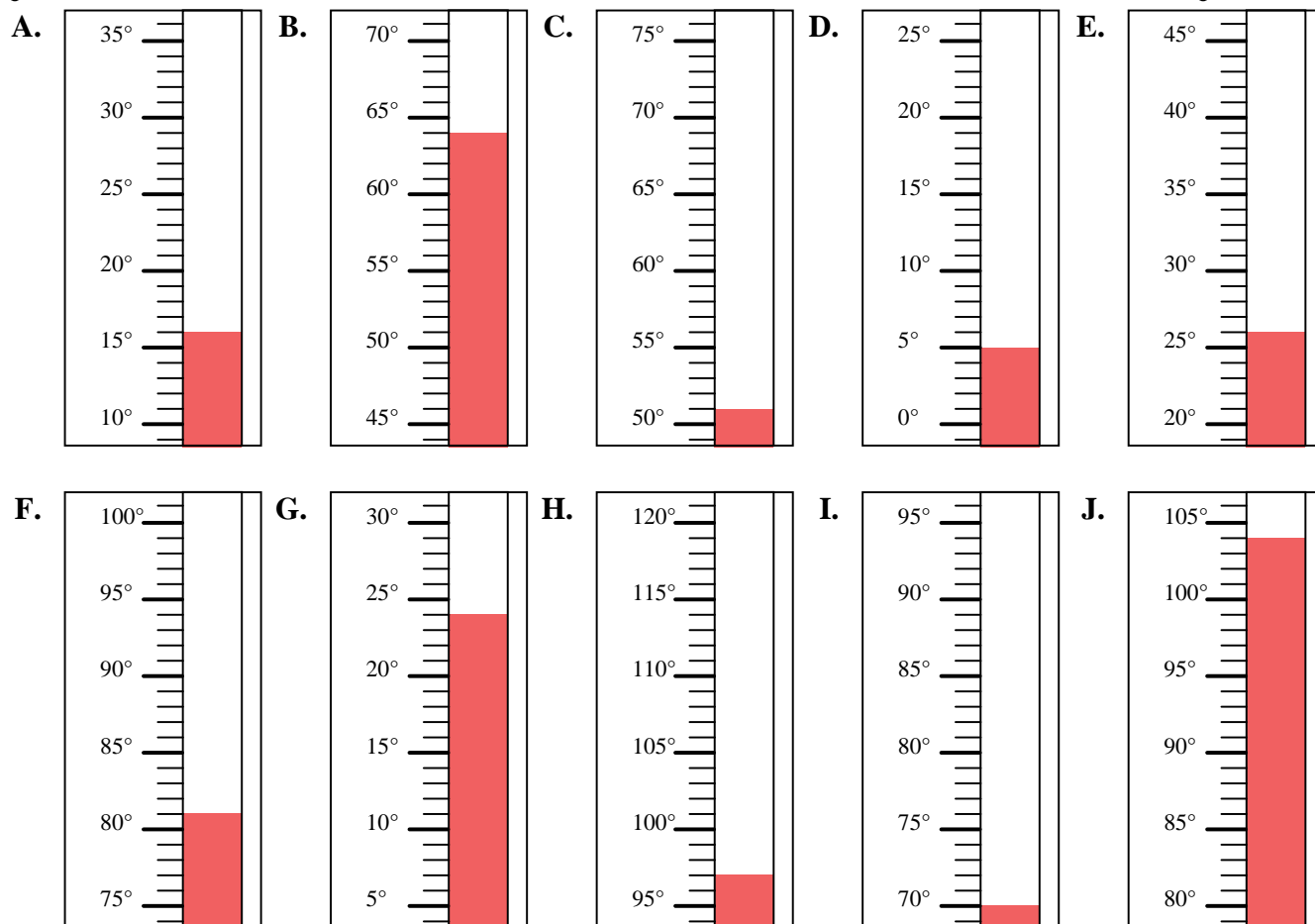
1. _____
2. _____
3. _____
4. _____
5. _____
6. _____
7. _____
8. _____
9. _____
10. _____





Indica quale lettera risponde correttamente ad ogni domanda.

- 1) Quale termometro rappresenta correttamente la temperatura di 70°?
- 2) Quale termometro rappresenta correttamente la temperatura di 51°?
- 3) Quale termometro rappresenta correttamente la temperatura di 64°?
- 4) Quale termometro rappresenta correttamente la temperatura di 26°?
- 5) Quale termometro rappresenta correttamente la temperatura di 104°?
- 6) Quale termometro rappresenta correttamente la temperatura di 97°?
- 7) Quale termometro rappresenta correttamente la temperatura di 5°?
- 8) Quale termometro rappresenta correttamente la temperatura di 81°?
- 9) Quale termometro rappresenta correttamente la temperatura di 16°?
- 10) Quale termometro rappresenta correttamente la temperatura di 24°?

**Risposte**

1. **I**
2. **C**
3. **B**
4. **E**
5. **J**
6. **H**
7. **D**
8. **F**
9. **A**
10. **G**

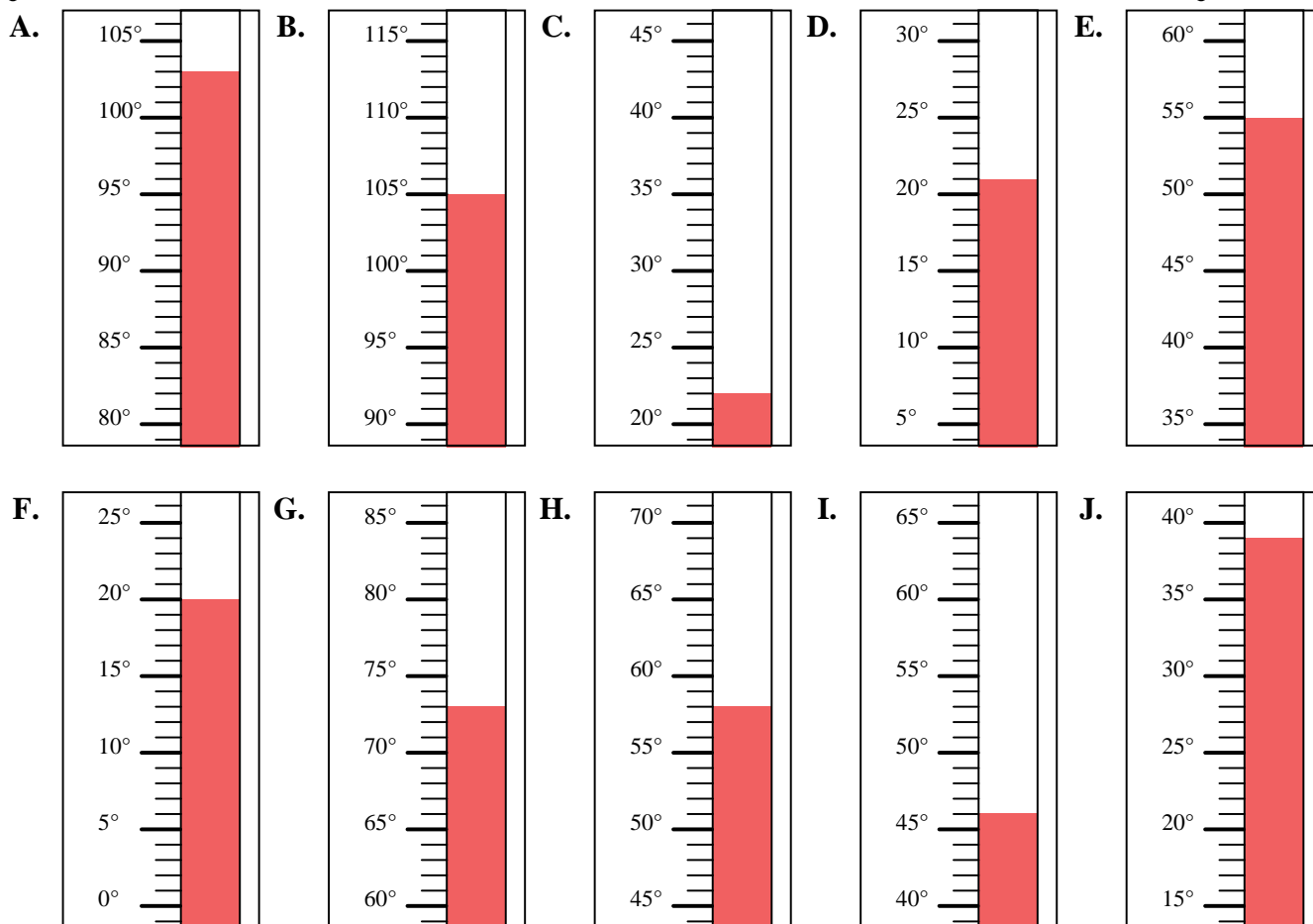


Indica quale lettera risponde correttamente ad ogni domanda.

Risposte

- 1) Quale termometro rappresenta correttamente la temperatura di 103°?
- 2) Quale termometro rappresenta correttamente la temperatura di 73°?
- 3) Quale termometro rappresenta correttamente la temperatura di 22°?
- 4) Quale termometro rappresenta correttamente la temperatura di 21°?
- 5) Quale termometro rappresenta correttamente la temperatura di 46°?
- 6) Quale termometro rappresenta correttamente la temperatura di 20°?
- 7) Quale termometro rappresenta correttamente la temperatura di 39°?
- 8) Quale termometro rappresenta correttamente la temperatura di 55°?
- 9) Quale termometro rappresenta correttamente la temperatura di 105°?
- 10) Quale termometro rappresenta correttamente la temperatura di 58°?

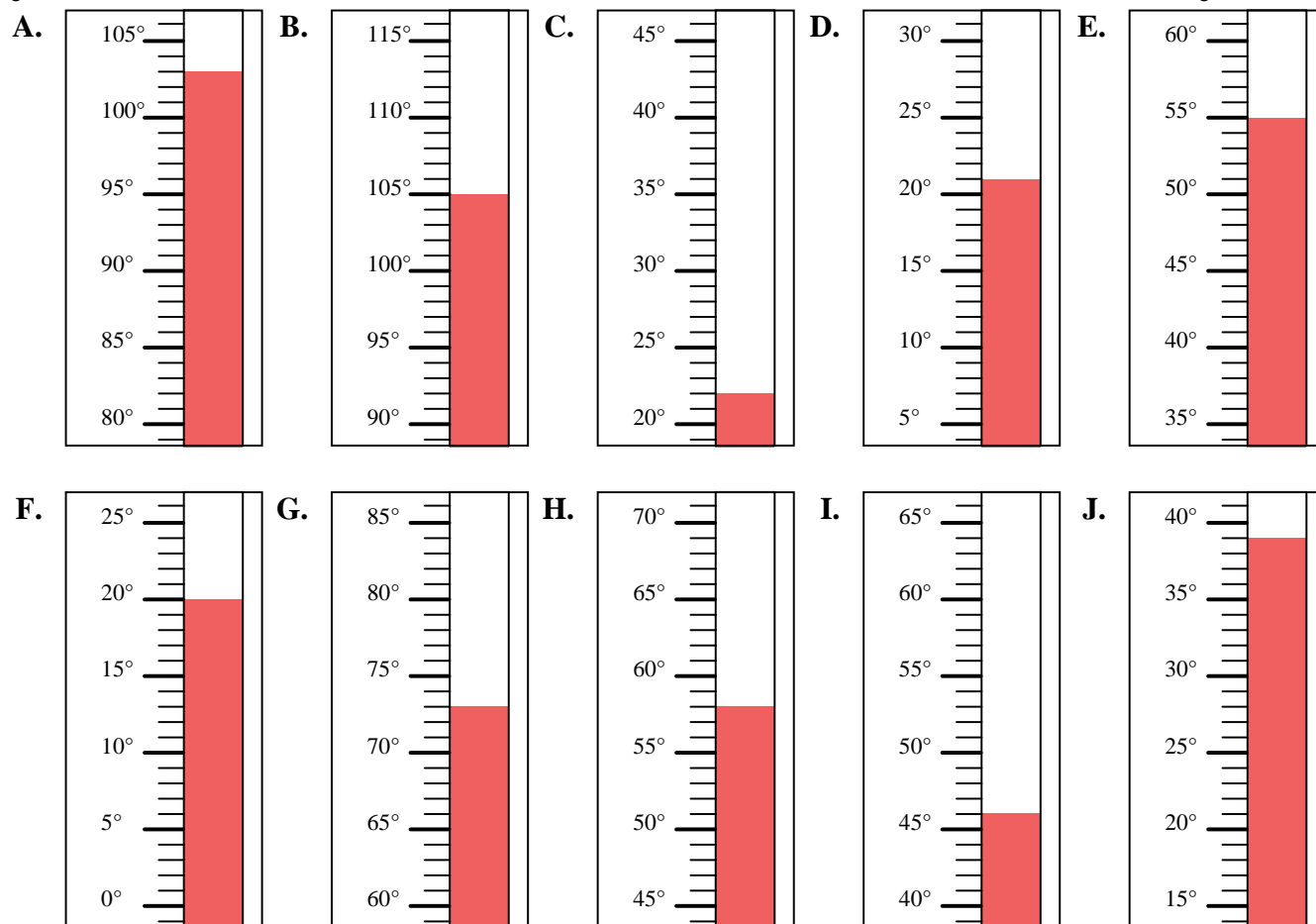
1. _____
2. _____
3. _____
4. _____
5. _____
6. _____
7. _____
8. _____
9. _____
10. _____





Indica quale lettera risponde correttamente ad ogni domanda.

- 1) Quale termometro rappresenta correttamente la temperatura di 103°?
- 2) Quale termometro rappresenta correttamente la temperatura di 73°?
- 3) Quale termometro rappresenta correttamente la temperatura di 22°?
- 4) Quale termometro rappresenta correttamente la temperatura di 21°?
- 5) Quale termometro rappresenta correttamente la temperatura di 46°?
- 6) Quale termometro rappresenta correttamente la temperatura di 20°?
- 7) Quale termometro rappresenta correttamente la temperatura di 39°?
- 8) Quale termometro rappresenta correttamente la temperatura di 55°?
- 9) Quale termometro rappresenta correttamente la temperatura di 105°?
- 10) Quale termometro rappresenta correttamente la temperatura di 58°?



Risposte

1. **A**
2. **G**
3. **C**
4. **D**
5. **I**
6. **F**
7. **J**
8. **E**
9. **B**
10. **H**