



**Usa le doppie linee per risolvere i problemi.**

**Risposte**

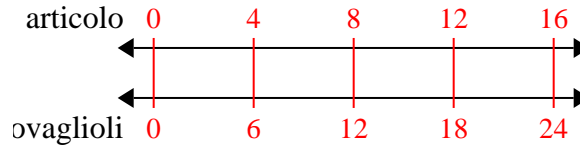
- |   |  |   |
|---|--|---|
| <p>1) Un ristorante sciatto ha dato 6 tovaglioli per ogni 4 articoli ordinati. Se qualcuno ha acquistato articoli 16, quanti tovaglioli dovrebbe ricevere?</p>        | <p>articolo<br/>←————→<br/>tovaglioli<br/>←————→</p> | <p>1. _____<br/>2. _____</p>              |
| <p>2) Per ogni 9 lattine Cristiano raccolte per il riciclaggio ha guadagnato 4 centesimi. Dopo aver raccolto 72 lattine, quanti soldi avrebbe guadagnato?</p>         | <p>lattine<br/>←————→<br/>soldi<br/>←————→</p>       | <p>3. _____<br/>4. _____<br/>5. _____</p> |
| <p>3) A una raccolta fondi scolastica per ogni 6 scatole di cioccolato vendute guadagni 10 punti. Se dovessi vendere scatole 12, quanti punti avresti guadagnato?</p> | <p>scatole<br/>←————→<br/>punti<br/>←————→</p>       | <p>6. _____<br/>7. _____</p>              |
| <p>4) Un negozio aveva una vendita in cui si potevano ottenere 7 sacchi di anacardi per \$ 8. Se volessi acquistare borse 56, quanto costerebbe?</p>                  | <p>anacardi<br/>←————→<br/>prezzo<br/>←————→</p>     | <p>8. _____</p>                           |
| <p>5) Una ricetta richiede 4 cucchiaini di condimento per ogni 3 lotti di pollo. Se hai 6 partite di pollo, quanti cucchiaini di condimento ti serviranno?</p>        | <p>pollo<br/>←————→<br/>porzionatura<br/>←————→</p>  |   |
| <p>6) In un videogioco, per ogni 5 nemici sconfitti, ottieni 4 punti. Se avessi sconfitto 50 nemici, quanti punti avresti guadagnato?</p>                             | <p>nemici<br/>←————→<br/>punti<br/>←————→</p>        |   |
| <p>7) Un cinema metteva 7 tazze di olio per ogni 10 lotti di popcorn che produceva. Dopo aver prodotto 70 lotti di popcorn, quanto olio avrebbero usato?</p>          | <p>Popcorn<br/>←————→<br/>olio<br/>←————→</p>        |   |
| <p>8) Un costruttore potrebbe ottenere 3 fogli di cartongesso per \$2. Se avesse comprato fogli 27, quanti soldi avrebbe speso?</p>                                   | <p>tongesso<br/>←————→<br/>prezzo<br/>←————→</p>     |   |



Usa le doppie linee per risolvere i problemi.

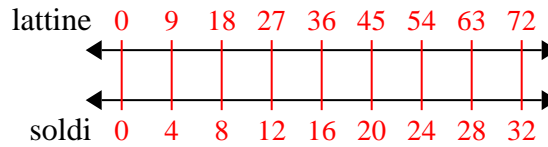
**Risposte**

1) Un ristorante sciatto ha dato 6 tovaglioli per ogni 4 articoli ordinati. Se qualcuno ha acquistato articoli 16, quanti tovaglioli dovrebbe ricevere?



1. 24

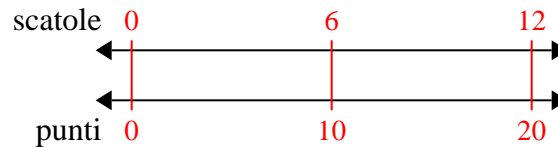
2) Per ogni 9 lattine Cristiano raccolte per il riciclaggio ha guadagnato 4 centesimi. Dopo aver raccolto 72 lattine, quanti soldi avrebbe guadagnato?



3. 20

4. 64

3) A una raccolta fondi scolastica per ogni 6 scatole di cioccolato vendute guadagni 10 punti. Se dovessi vendere scatole 12, quanti punti avresti guadagnato?

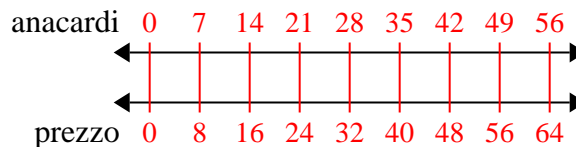


5. 8

6. 40

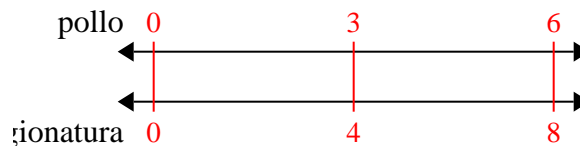
7. 49

4) Un negozio aveva una vendita in cui si potevano ottenere 7 sacchi di anacardi per \$ 8. Se volessi acquistare borse 56, quanto costerebbe?

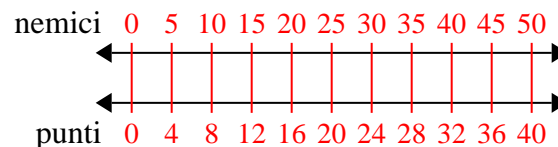


8. 18

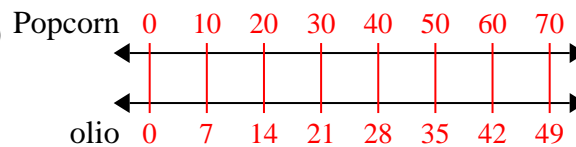
5) Una ricetta richiede 4 cucchiaini di condimento per ogni 3 lotti di pollo. Se hai 6 partite di pollo, quanti cucchiaini di condimento ti serviranno?



6) In un videogioco, per ogni 5 nemici sconfitti, ottieni 4 punti. Se avessi sconfitto 50 nemici, quanti punti avresti guadagnato?



7) Un cinema metteva 7 tazze di olio per ogni 10 lotti di popcorn che produceva. Dopo aver prodotto 70 lotti di popcorn, quanto olio avrebbero usato?



8) Un costruttore potrebbe ottenere 3 fogli di cartongesso per \$2. Se avesse comprato fogli 27, quanti soldi avrebbe speso?

