

**Usa le doppie linee per risolvere i problemi.****Risposte**

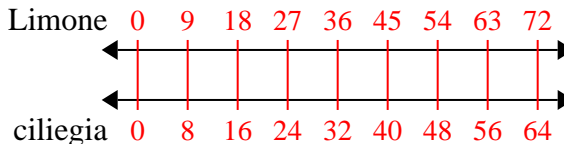
- | | | | |
|----|--|----------------------------------|----------------------------------|
| 1) | Una scatola di caramelle conteneva 8 pezzi di ciliegia per ogni 9 pezzi di limone. Se la scatola avesse 72 pezzi di limone, quanti pezzi di ciliegia ci sarebbero? | Limone
←————→
ciliegia | 1. _____
2. _____ |
| 2) | Un costruttore potrebbe ottenere 9 fogli di cartongesso per \$5. Se avesse comprato fogli 90, quanti soldi avrebbe speso? | tongesso
←————→
prezzo | 3. _____
4. _____
5. _____ |
| 3) | Una ricetta richiede 8 cucchiaini di condimento per ogni 5 lotti di pollo. Se hai 10 partite di pollo, quanti cucchiaini di condimento ti serviranno? | pollo
←————→
porzionatura | 6. _____
7. _____ |
| 4) | Per ogni 7 lattine Giovanni raccolte per il riciclaggio ha guadagnato 9 centesimi. Dopo aver raccolto 14 lattine, quanti soldi avrebbe guadagnato? | lattine
←————→
soldi | 8. _____ |
| 5) | In un videogioco, per ogni 3 nemici sconfitti, ottieni 6 punti. Se avessi sconfitto 24 nemici, quanti punti avresti guadagnato? | nemici
←————→
punti | |
| 6) | Il rapporto tra ragazzi e ragazze al parco era 9 su 5. Se c'erano 18 maschi, quante femmine c'erano? | ragazzi
←————→
ragazze | |
| 7) | Sul suo lettore MP3 per ogni canzone pop 7 Monica aveva anche 8 canzone country. Se ha 49 canzoni pop sul suo lettore MP3, quante canzoni country ha? | pop
←————→
nazione | |
| 8) | Un ristorante sciatto ha dato 8 tovaglioli per ogni 9 articoli ordinati. Se qualcuno ha acquistato articoli 90, quanti tovaglioli dovrebbe ricevere? | articolo
←————→
tovaglioli | |



Usa le doppie linee per risolvere i problemi.

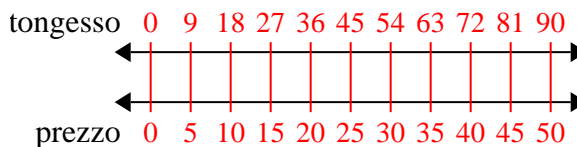
Risposte

1) Una scatola di caramelle conteneva 8 pezzi di ciliegia per ogni 9 pezzi di limone. Se la scatola avesse 72 pezzi di limone, quanti pezzi di ciliegia ci sarebbero?



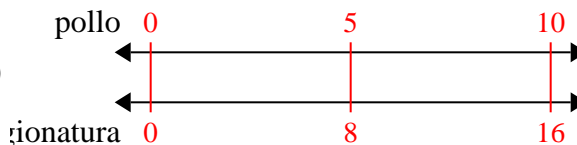
1. 64

2) Un costruttore potrebbe ottenere 9 fogli di cartongesso per \$5. Se avesse comprato fogli 90, quanti soldi avrebbe speso?



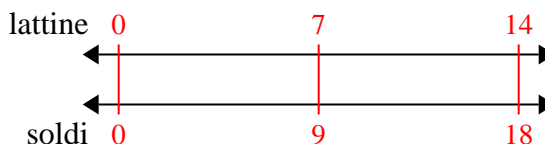
3. 16

3) Una ricetta richiede 8 cucchiaini di condimento per ogni 5 lotti di pollo. Se hai 10 partite di pollo, quanti cucchiaini di condimento ti serviranno?



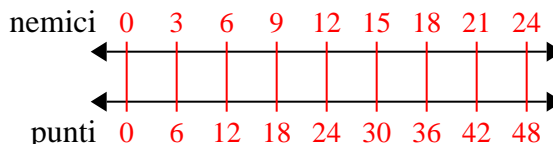
4. 18

4) Per ogni 7 lattine Giovanni raccolte per il riciclaggio ha guadagnato 9 centesimi. Dopo aver raccolto 14 lattine, quanti soldi avrebbe guadagnato?



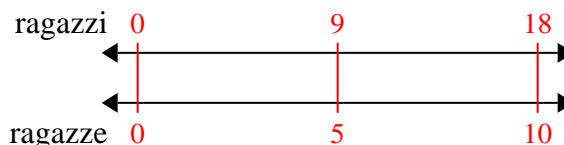
5. 48

5) In un videogioco, per ogni 3 nemici sconfitti, ottieni 6 punti. Se avessi sconfitto 24 nemici, quanti punti avresti guadagnato?



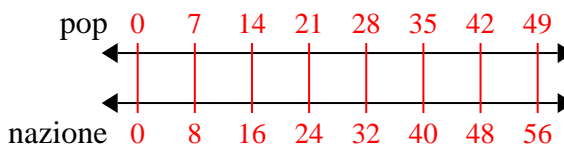
6. 10

6) Il rapporto tra ragazzi e ragazze al parco era 9 su 5. Se c'erano 18 maschi, quante femmine c'erano?



7. 56

7) Sul suo lettore MP3 per ogni canzone pop 7 Monica aveva anche 8 canzone country. Se ha 49 canzoni pop sul suo lettore MP3, quante canzoni country ha?



8. 80

8) Un ristorante sciatto ha dato 8 tovaglioli per ogni 9 articoli ordinati. Se qualcuno ha acquistato articoli 90, quanti tovaglioli dovrebbe ricevere?

