

**Usa le doppie linee per risolvere i problemi.****Risposte**

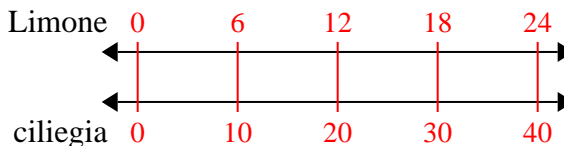
- | | | | |
|----|---|--|----------------------------------|
| 1) | Una scatola di caramelle conteneva 10 pezzi di ciliegia per ogni 6 pezzi di limone. Se la scatola avesse 24 pezzi di limone, quanti pezzi di ciliegia ci sarebbero? | Limone
←————→
ciliegia
←————→ | 1. _____
2. _____ |
| 2) | A una raccolta fondi scolastica per ogni 3 scatole di cioccolato vendute guadagni 8 punti. Se dovessi vendere scatole 21, quanti punti avresti guadagnato? | scatole
←————→
punti
←————→ | 3. _____
4. _____
5. _____ |
| 3) | Per ogni 5 lattine Giovanni raccolte per il riciclaggio ha guadagnato 4 centesimi. Dopo aver raccolto 30 lattine, quanti soldi avrebbe guadagnato? | lattine
←————→
soldi
←————→ | 6. _____
7. _____ |
| 4) | Un ristorante sciatto ha dato 5 tovaglioli per ogni 6 articoli ordinati. Se qualcuno ha acquistato articoli 12, quanti tovaglioli dovrebbe ricevere? | articolo
←————→
tovaglioli
←————→ | 8. _____ |
| 5) | Una ricetta richiede 4 cucchiaini di condimento per ogni 8 lotti di pollo. Se hai 48 partite di pollo, quanti cucchiaini di condimento ti serviranno? | pollo
←————→
porzionatura
←————→ | |
| 6) | In un videogioco, per ogni 3 nemici sconfitti, ottieni 5 punti. Se avessi sconfitto 6 nemici, quanti punti avresti guadagnato? | nemici
←————→
punti
←————→ | |
| 7) | Un negozio aveva una vendita in cui si potevano ottenere 9 sacchi di anacardi per \$ 6. Se volessi acquistare borse 18, quanto costerebbe? | anacardi
←————→
prezzo
←————→ | |
| 8) | Il rapporto tra ragazzi e ragazze al parco era 4 su 9. Se c'erano 28 maschi, quante femmine c'erano? | ragazzi
←————→
ragazze
←————→ | |



Usa le doppie linee per risolvere i problemi.

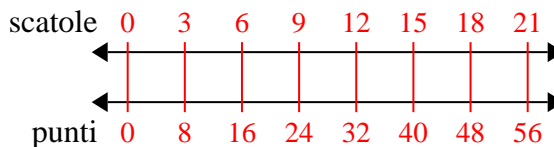
Risposte

1) Una scatola di caramelle conteneva 10 pezzi di ciliegia per ogni 6 pezzi di limone. Se la scatola avesse 24 pezzi di limone, quanti pezzi di ciliegia ci sarebbero?



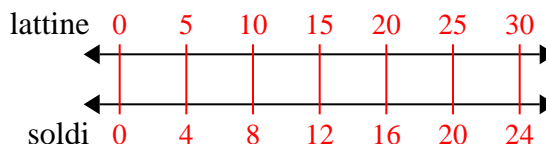
1. **40**

2) A una raccolta fondi scolastica per ogni 3 scatole di cioccolato vendute guadagni 8 punti. Se dovessi vendere scatole 21, quanti punti avresti guadagnato?



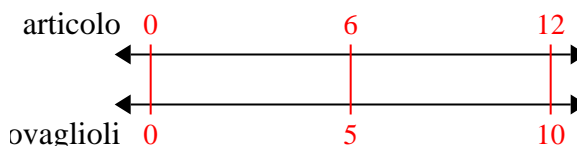
2. **56**

3) Per ogni 5 lattine Giovanni raccolte per il riciclaggio ha guadagnato 4 centesimi. Dopo aver raccolto 30 lattine, quanti soldi avrebbe guadagnato?



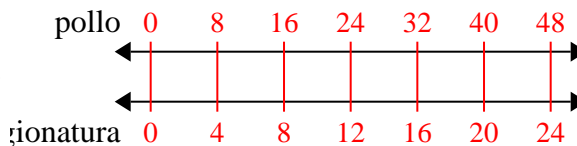
3. **24**

4) Un ristorante sciatto ha dato 5 tovaglioli per ogni 6 articoli ordinati. Se qualcuno ha acquistato articoli 12, quanti tovaglioli dovrebbe ricevere?



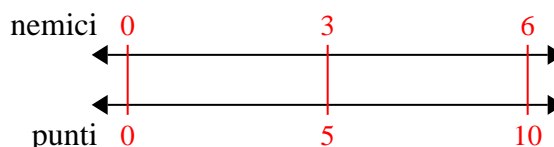
4. **10**

5) Una ricetta richiede 4 cucchiaini di condimento per ogni 8 lotti di pollo. Se hai 48 partite di pollo, quanti cucchiaini di condimento ti serviranno?



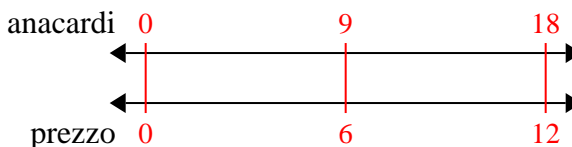
5. **24**

6) In un videogioco, per ogni 3 nemici sconfitti, ottieni 5 punti. Se avessi sconfitto 6 nemici, quanti punti avresti guadagnato?



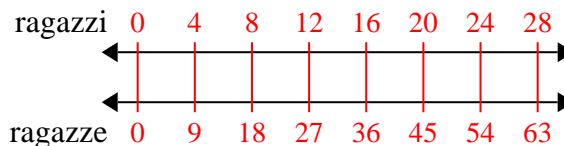
6. **10**

7) Un negozio aveva una vendita in cui si potevano ottenere 9 sacchi di anacardi per \$ 6. Se volessi acquistare borse 18, quanto costerebbe?



7. **12**

8) Il rapporto tra ragazzi e ragazze al parco era 4 su 9. Se c'erano 28 maschi, quante femmine c'erano?



8. **63**