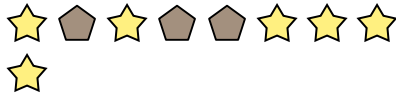




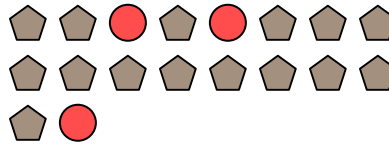
Risolvi ogni problema.

Risposte

Es) Qual è il rapporto tra stelle e pentagoni?



1) Qual è il rapporto tra cerchi e pentagoni?




Es. **6:3**

2) Qual è il rapporto tra cerchi e moons?



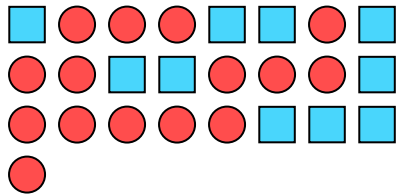
3) Qual è il rapporto tra triangoli e moons?



1. _____

2. _____

4) Qual è il rapporto tra cerchi e quadrati?



5) Qual è il rapporto tra hearts e stelle?



3. _____

4. _____

5. _____

6. _____

7. _____


8. _____

9. _____

6) Qual è il rapporto tra cerchi e triangoli?



7) Qual è il rapporto tra hearts e pentagoni?




10. _____

11. _____


8) Qual è il rapporto tra pentagoni e stelle?




9) Qual è il rapporto tra stelle e triangoli?



10) Qual è il rapporto tra quadrati e moons?



11) Qual è il rapporto tra stelle e cerchi?



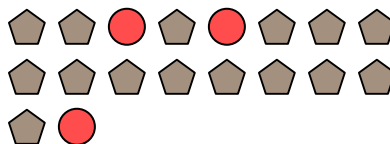


Risolvi ogni problema.


Es) Qual è il rapporto tra stelle e pentagoni?




1) Qual è il rapporto tra cerchi e pentagoni?



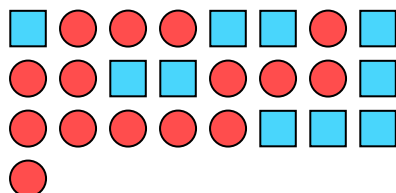
2) Qual è il rapporto tra cerchi e moons?



3) Qual è il rapporto tra triangoli e moons?



4) Qual è il rapporto tra cerchi e quadrati?



5) Qual è il rapporto tra hearts e stelle?



6) Qual è il rapporto tra cerchi e triangoli?



7) Qual è il rapporto tra hearts e pentagoni?




8) Qual è il rapporto tra pentagoni e stelle?




9) Qual è il rapporto tra stelle e triangoli?



10) Qual è il rapporto tra quadrati e moons?



11) Qual è il rapporto tra stelle e cerchi?

**Risposte**Es. 6:31. 3:152. 4:53. 4:134. 15:105. 2:136. 3:47. 5:68. 5:49. 5:1510. 8:1511. 13:6