


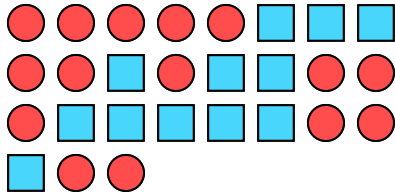




Risolvi ogni problema.

**Risposte**

Es) Qual è il rapporto tra cerchi e quadrati? 1) Qual è il rapporto tra hearts e quadrati?

Es. **15:12**1. **8:14**2. **7:5**


2) Qual è il rapporto tra hearts e stelle?



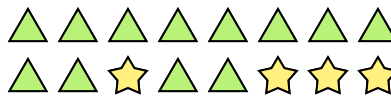
3) Qual è il rapporto tra quadrati e stelle?

3. **4:10**4. **4:14**5. **4:12**

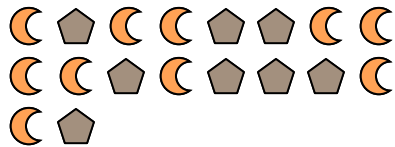
4) Qual è il rapporto tra quadrati e moons?



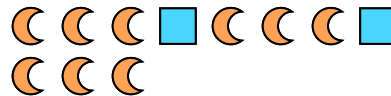
5) Qual è il rapporto tra stelle e triangoli?

6. **10:8**7. **2:9**8. **2:5**

6) Qual è il rapporto tra moons e pentagons?



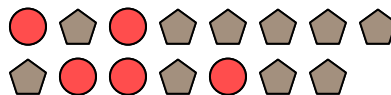
7) Qual è il rapporto tra quadrati e moons?

9. **5:10**10. **15:12**11. **8:9**


8) Qual è il rapporto tra cerchi e quadrati?



9) Qual è il rapporto tra cerchi e pentagons?



10) Qual è il rapporto tra stelle e hearts?



11) Qual è il rapporto tra pentagons e quadrati?

