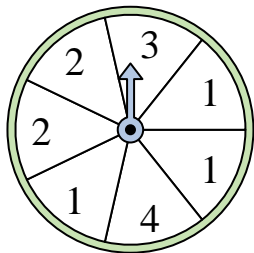




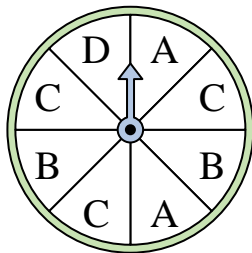
Risolvi ogni problema.

**Risposte**

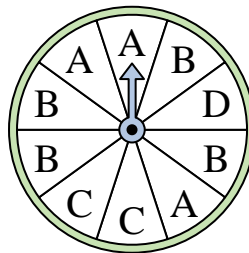
- 1) Su quale numero è più probabile che si fermerà l'indicatore?



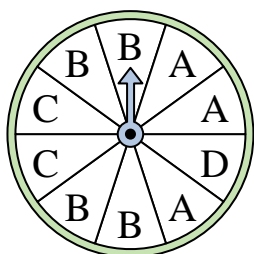
- 2) Su quali due lettere c'è la stessa probabilità che l'indicatore si fermi?




- 3) Su quale lettera è meno probabile che si fermerà l'indicatore?



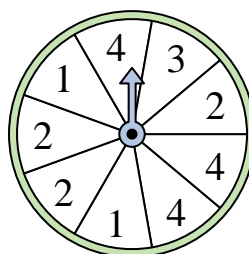
- 4) Su quale lettera è più probabile che si fermerà l'indicatore?



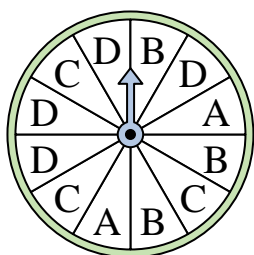
- 5) Su quale numero è più probabile che si fermerà l'indicatore?



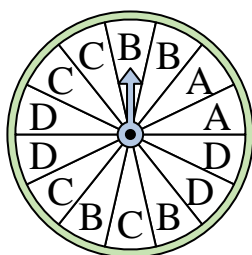
- 6) Su quali due numeri c'è la stessa probabilità che l'indicatore si fermi?



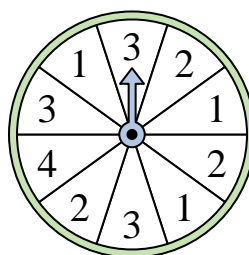
- 7) Su quale lettera è meno probabile che si fermerà l'indicatore?




- 8) Su quale lettera è meno probabile che si fermerà l'indicatore?



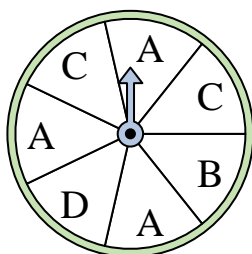
- 9) Su quale numero è meno probabile che si fermerà l'indicatore?



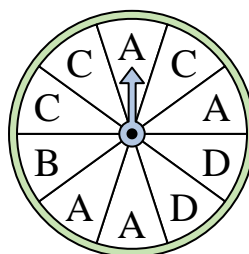
- 10) Su quale numero è meno probabile che si fermerà l'indicatore?



- 11) Su quali due lettere c'è la stessa probabilità che l'indicatore si fermi?



- 12) Su quale lettera è più probabile che si fermerà l'indicatore?

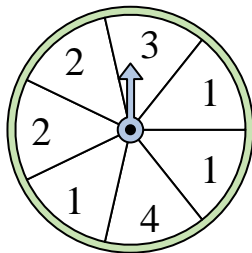


1. \_\_\_\_\_
2. \_\_\_\_\_
3. \_\_\_\_\_
4. \_\_\_\_\_
5. \_\_\_\_\_
6. \_\_\_\_\_
7. \_\_\_\_\_
8. \_\_\_\_\_
9. \_\_\_\_\_
10. \_\_\_\_\_
11. \_\_\_\_\_
12. \_\_\_\_\_

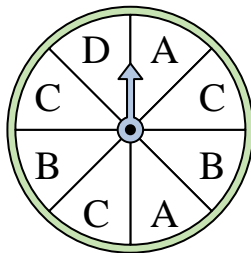


Risolvi ogni problema.

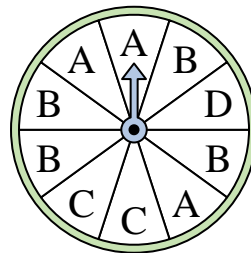
- 1) Su quale numero è più probabile che si fermerà l'indicatore?



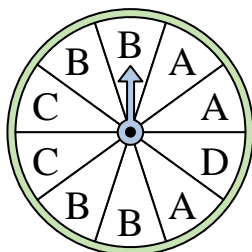
- 2) Su quali due lettere c'è la stessa probabilità che l'indicatore si fermi?




- 3) Su quale lettera è meno probabile che si fermerà l'indicatore?



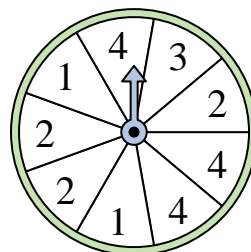
- 4) Su quale lettera è più probabile che si fermerà l'indicatore?



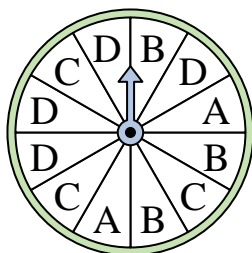
- 5) Su quale numero è più probabile che si fermerà l'indicatore?



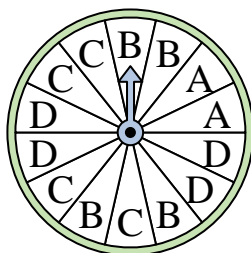
- 6) Su quali due numeri c'è la stessa probabilità che l'indicatore si fermi?



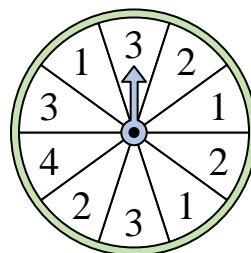
- 7) Su quale lettera è meno probabile che si fermerà l'indicatore?




- 8) Su quale lettera è meno probabile che si fermerà l'indicatore?



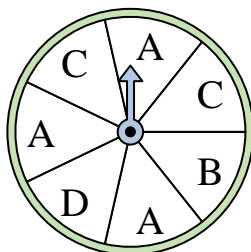
- 9) Su quale numero è meno probabile che si fermerà l'indicatore?



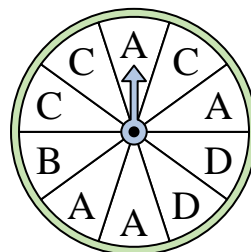
- 10) Su quale numero è meno probabile che si fermerà l'indicatore?



- 11) Su quali due lettere c'è la stessa probabilità che l'indicatore si fermi?



- 12) Su quale lettera è più probabile che si fermerà l'indicatore?



**Risposte**

1. 1
2. A & B
3. D
4. B
5. 4
6. 2 & 4
7. A
8. A
9. 4
10. 4
11. B & D
12. A