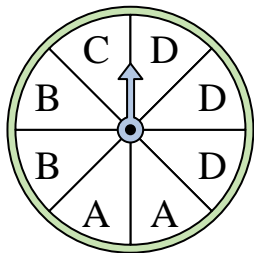




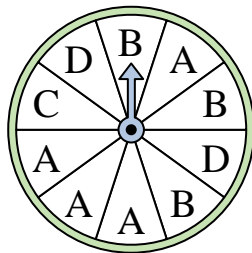
Risolvi ogni problema.

**Risposte**


- 1) Su quale lettera è più probabile che si fermerà l'indicatore?




- 2) Su quale lettera è meno probabile che si fermerà l'indicatore?




- 3) Su quale numero è meno probabile che si fermerà l'indicatore?



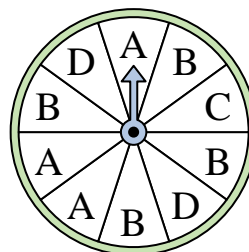
- 4) Su quale numero è meno probabile che si fermerà l'indicatore?



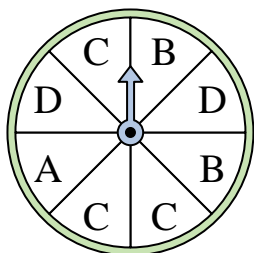
- 5) Su quale numero è più probabile che si fermerà l'indicatore?



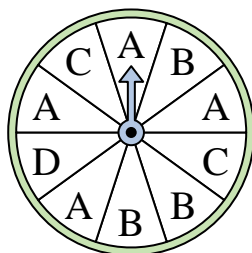
- 6) Su quale lettera è più probabile che si fermerà l'indicatore?



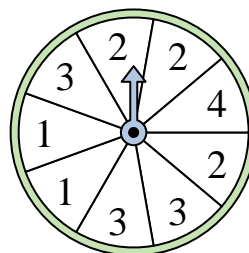
- 7) Su quali due lettere c'è la stessa probabilità che l'indicatore si fermi?



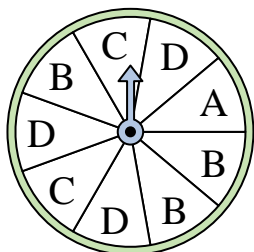
- 8) Su quale lettera è più probabile che si fermerà l'indicatore?



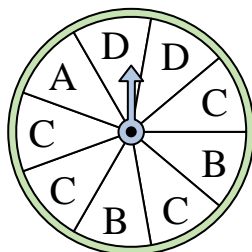
- 9) Su quali due numeri c'è la stessa probabilità che l'indicatore si fermi?




- 10) Su quali due lettere c'è la stessa probabilità che l'indicatore si fermi?



- 11) Su quale lettera è più probabile che si fermerà l'indicatore?



- 12) Su quale numero è meno probabile che si fermerà l'indicatore?



1. \_\_\_\_\_

2. \_\_\_\_\_

3. \_\_\_\_\_

4. \_\_\_\_\_

5. \_\_\_\_\_

6. \_\_\_\_\_

7. \_\_\_\_\_

8. \_\_\_\_\_

9. \_\_\_\_\_

10. \_\_\_\_\_

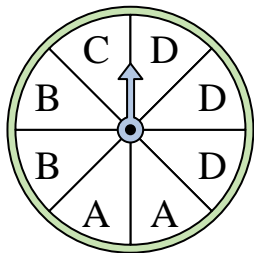
11. \_\_\_\_\_

12. \_\_\_\_\_

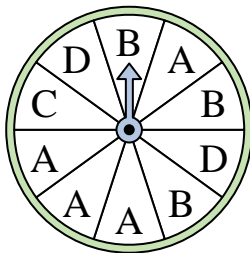


Risolvi ogni problema.


- 1) Su quale lettera è più probabile che si fermerà l'indicatore?




- 2) Su quale lettera è meno probabile che si fermerà l'indicatore?




- 3) Su quale numero è meno probabile che si fermerà l'indicatore?



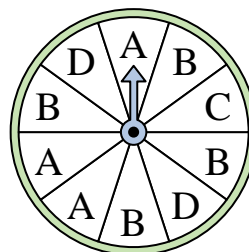
- 4) Su quale numero è meno probabile che si fermerà l'indicatore?



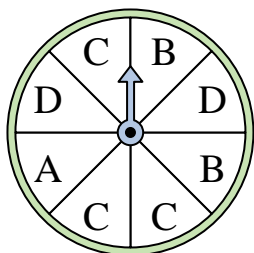
- 5) Su quale numero è più probabile che si fermerà l'indicatore?



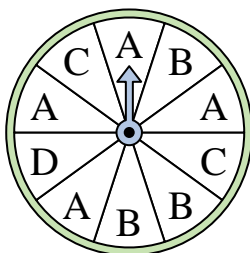
- 6) Su quale lettera è più probabile che si fermerà l'indicatore?



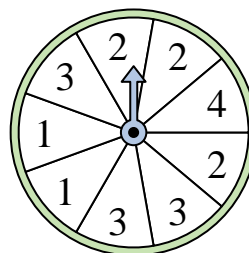
- 7) Su quali due lettere c'è la stessa probabilità che l'indicatore si fermi?



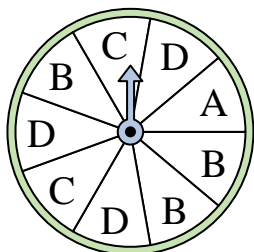
- 8) Su quale lettera è più probabile che si fermerà l'indicatore?



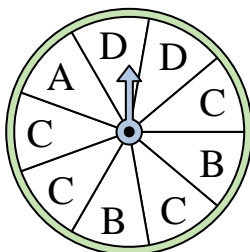
- 9) Su quali due numeri c'è la stessa probabilità che l'indicatore si fermi?




- 10) Su quali due lettere c'è la stessa probabilità che l'indicatore si fermi?



- 11) Su quale lettera è più probabile che si fermerà l'indicatore?



- 12) Su quale numero è meno probabile che si fermerà l'indicatore?



**Risposte**

1.     **D**
2.     **C**
3.     **2**
4.     **3**
5.     **1**
6.     **B**
7.     **B & D**
8.     **A**
9.     **2 & 3**
10.     **B & D**
11.     **C**
12.     **1**