





Risolvi ogni problema.

Risposte

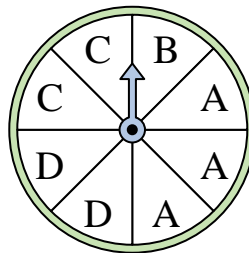
- 1) Su quale numero è più probabile che si fermerà l'indicatore?



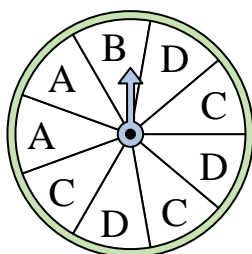
- 2) Su quale numero è meno probabile che si fermerà l'indicatore?



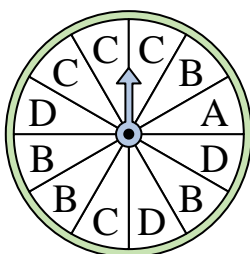
- 3) Su quali due lettere c'è la stessa probabilità che l'indicatore si fermi?



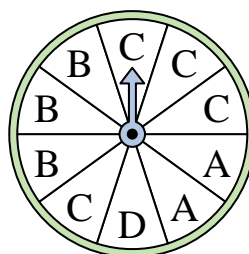
- 4) Su quali due lettere c'è la stessa probabilità che l'indicatore si fermi?



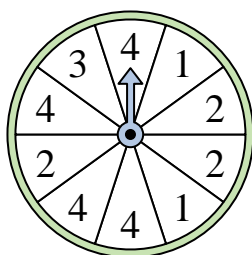
- 5) Su quale lettera è meno probabile che si fermerà l'indicatore?



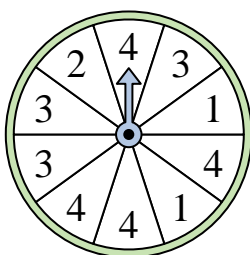
- 6) Su quale lettera è meno probabile che si fermerà l'indicatore?



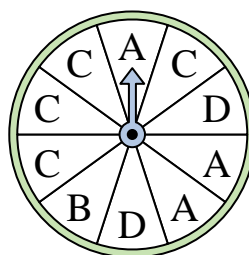
- 7) Su quale numero è più probabile che si fermerà l'indicatore?



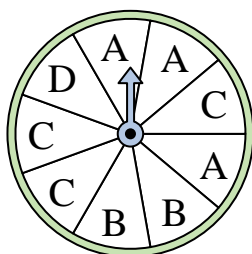
- 8) Su quale numero è più probabile che si fermerà l'indicatore?




- 9) Su quale lettera è meno probabile che si fermerà l'indicatore?



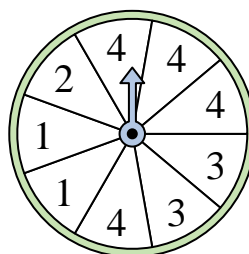
- 10) Su quali due lettere c'è la stessa probabilità che l'indicatore si fermi?



- 11) Su quale numero è meno probabile che si fermerà l'indicatore?



- 12) Su quale numero è più probabile che si fermerà l'indicatore?




1. _____
2. _____
3. _____
4. _____
5. _____
6. _____
7. _____
8. _____
9. _____
10. _____
11. _____
12. _____




Risolvi ogni problema.

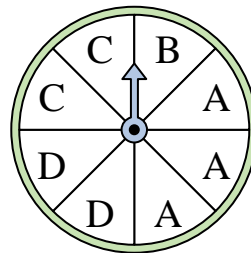
1) Su quale numero è più probabile che si fermerà l'indicatore?



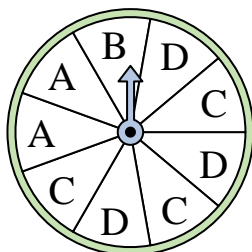
2) Su quale numero è meno probabile che si fermerà l'indicatore?



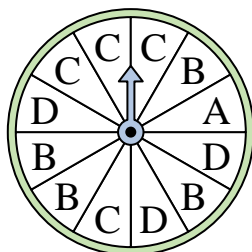
3) Su quali due lettere c'è la stessa probabilità che l'indicatore si fermi?



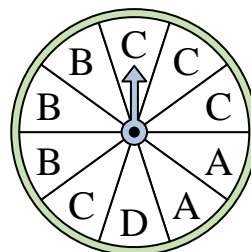
4) Su quali due lettere c'è la stessa probabilità che l'indicatore si fermi?



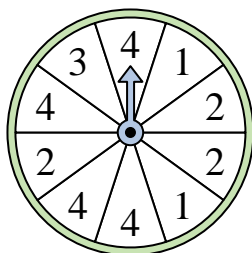
5) Su quale lettera è meno probabile che si fermerà l'indicatore?



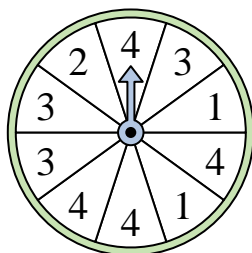
6) Su quale lettera è meno probabile che si fermerà l'indicatore?



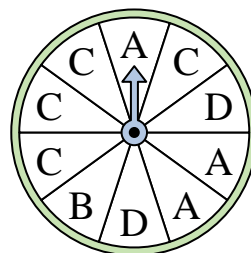
7) Su quale numero è più probabile che si fermerà l'indicatore?



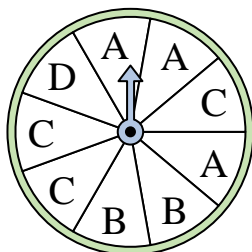
8) Su quale numero è più probabile che si fermerà l'indicatore?




9) Su quale lettera è meno probabile che si fermerà l'indicatore?



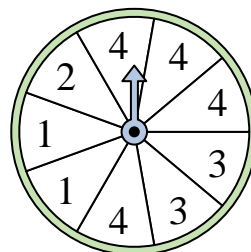
10) Su quali due lettere c'è la stessa probabilità che l'indicatore si fermi?



11) Su quale numero è meno probabile che si fermerà l'indicatore?



12) Su quale numero è più probabile che si fermerà l'indicatore?



Risposte

1. 2

2. 1

3. C & D

4. C & D

5. A

6. D

7. 4

8. 4

9. B

10. A & C

11. 2

12. 4