


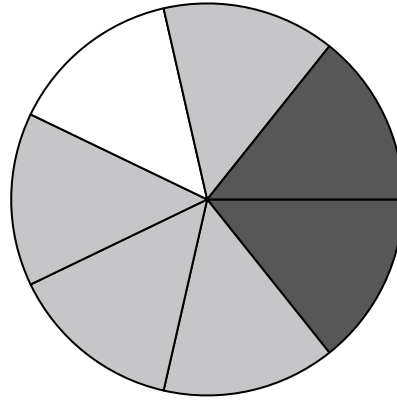


Usa ogni diagramma per risolvere i problemi.



- 1) Se dovessi selezionare 1 forma a caso dall'array, qual è la probabilità che sia un diamond?
- 2) Se dovessi selezionare 1 forma a caso dall'array, quale forma avresti la maggiore probabilità di selezionare?
- 3) Quante forme ci sono in totale nell'array?
- 4) Quale forma ha una probabilità del 30,00% (6 su 20) di essere selezionata?

- 5) Se fai girare la trottola 1 volta, qual è la probabilità che finisca su un pezzo nero?
- 6) Se fai girare la trottola 1 volta, qual è la probabilità che finisca su un pezzo grigio?
- 7) Se fai girare la trottola 1 volta, qual è la probabilità di atterrare su un pezzo white o su un pezzo gray?
- 8) Quanti pezzi ci sono in totale nella trottola?
- 9) Se fai girare la trottola 1 volta, qual è la probabilità che finisca su un pezzo bianco?




- 10) Se dovessi tirare i dadi una volta, qual è la probabilità che esca su un numero Pari?
- 11) Se dovessi tirare i dadi una volta, qual è la probabilità che {NON} finisca su un 1?
- 12) Se dovessi lanciare i dadi una volta, qual è la probabilità che esca su 5?

Risposte

1. _____
2. _____
3. _____
4. _____
5. _____
6. _____
7. _____
8. _____
9. _____
10. _____
11. _____
12. _____


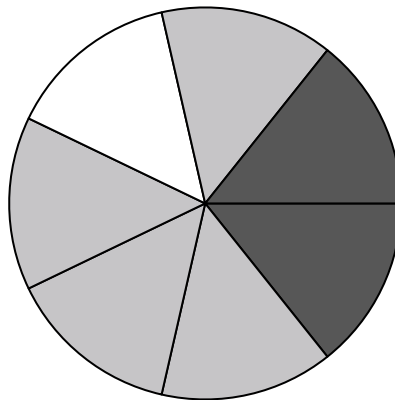


Usa ogni diagramma per risolvere i problemi.



- 1) Se dovessi selezionare 1 forma a caso dall'array, qual è la probabilità che sia un diamond?
- 2) Se dovessi selezionare 1 forma a caso dall'array, quale forma avresti la maggiore probabilità di selezionare?
- 3) Quante forme ci sono in totale nell'array?
- 4) Quale forma ha una probabilità del 30,00% (6 su 20) di essere selezionata?

- 5) Se fai girare la trottola 1 volta, qual è la probabilità che finisca su un pezzo nero?
- 6) Se fai girare la trottola 1 volta, qual è la probabilità che finisca su un pezzo grigio?
- 7) Se fai girare la trottola 1 volta, qual è la probabilità di atterrare su un pezzo white o su un pezzo gray?
- 8) Quanti pezzi ci sono in totale nella trottola?
- 9) Se fai girare la trottola 1 volta, qual è la probabilità che finisca su un pezzo bianco?



- 10) Se dovessi tirare i dadi una volta, qual è la probabilità che esca su un numero Pari?
- 11) Se dovessi tirare i dadi una volta, qual è la probabilità che {NON} finisca su un 1?
- 12) Se dovessi lanciare i dadi una volta, qual è la probabilità che esca su 5?

Risposte

1. 5 su 20
2. diamond
3. 20
4. square
5. 2 su 7
6. 4 su 7
7. 5 su 7
8. 7
9. 1 su 7
10. 3 su 6
11. 5 su 6
12. 1 su 6