



**Indica quale lettera rappresenta la lunghezza/altezza corretta**

**Risposte**

**Milímetro (mm)**

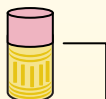
Un milímetro equivale al grosor de una tarjeta de crédito.



**Centímetro (cm)**

10 mm = 1 cm.

La parte metálica de un lápiz mide aproximadamente 1 cm. Una regla mide unos 30 centímetros.



**Metro (m)**

100 cm = 1 m

Desde el suelo hasta la perilla de una puerta hay aproximadamente 1 metro.



**Kilómetro (km)**

1,000 m = 1 km

La mayoría de las carreteras principales tienen al menos un kilómetro de largo.



1. \_\_\_\_\_
2. \_\_\_\_\_
3. \_\_\_\_\_
4. \_\_\_\_\_
5. \_\_\_\_\_
6. \_\_\_\_\_
7. \_\_\_\_\_
8. \_\_\_\_\_
9. \_\_\_\_\_

1)



Bicicletta

- A. 10 Centimetri
- B. 25 Centimetri
- C. 1 Metro
- D. 3 Metri


2)



Vuoto

- A. 30 Centimetri
- B. 120 Centimetri
- C. 3 Metri
- D. 35 Centimetri


3)



Spazzolino

- A. 3 Metri
- B. 10 Centimetri
- C. 17 Centimetri
- D. 1 Metro


4)



Altezza della scatola di cereali

- A. 10 Centimetri
- B. 60 Centimetri
- C. 3 Centimetri
- D. 30 Centimetri

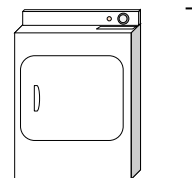
5)



Elefante

- A. 2 kilometers
- B. 150 millimeters
- C. 45 Centimetri
- D. 4 Metri

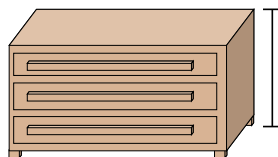
6)



Asciugatrice

- A. 15 Centimetri
- B. 60 Centimetri
- C. 25 Centimetri
- D. 1 Metro

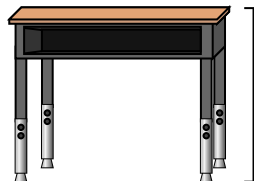
7)



Costumista

- A. 30 Centimetri
- B. 3 Metri
- C. 90 Centimetri
- D. 45 Centimetri

8)



Scrivania

- A. 15 Centimetri
- B. 30 Centimetri
- C. 70 Centimetri
- D. 2 Metri

9)



Insetto

- A. 30 Centimetri
- B. 10 Centimetri
- C. 5 Centimetri
- D. 7 millimeters



## Indica quale lettera rappresenta la lunghezza/altezza corretta

## Risposte

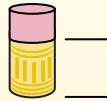
**Milímetro (mm)**

Un milímetro equivale al grosor de una tarjeta de crédito.

**Centímetro (cm)**

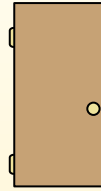
10 mm = 1 cm.

La parte metálica de un lápiz mide aproximadamente 1 cm. Una regla mide unos 30 centímetros.

**Metro (m)**

100 cm = 1 m

Desde el suelo hasta la perilla de una puerta hay aproximadamente 1 metro.

**Kilómetro (km)**

1,000 m = 1 km

La mayoría de las carreteras principales tienen al menos un kilómetro de largo.



1)



Bicicletta

- A. 10 Centimetri
- B. 25 Centimetri
- C. 1 Metro
- D. 3 Metri


2)



Vuoto

- A. 30 Centimetri
- B. 120 Centimetri
- C. 3 Metri
- D. 35 Centimetri


3)



Spazzolino

- A. 3 Metri
- B. 10 Centimetri
- C. 17 Centimetri
- D. 1 Metro


4)



Altezza della scatola di cereali

- A. 10 Centimetri
- B. 60 Centimetri
- C. 3 Centimetri
- D. 30 Centimetri


5)



Elefante

- A. 2 kilometers
- B. 150 millimeters
- C. 45 Centimetri
- D. 4 Metri

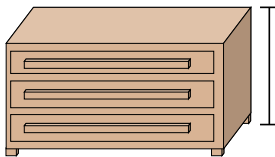
6)



Asciugatrice

- A. 15 Centimetri
- B. 60 Centimetri
- C. 25 Centimetri
- D. 1 Metro

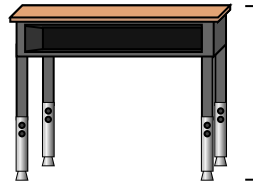
7)



Costumista

- A. 30 Centimetri
- B. 3 Metri
- C. 90 Centimetri
- D. 45 Centimetri

8)



Scrivania

- A. 15 Centimetri
- B. 30 Centimetri
- C. 70 Centimetri
- D. 2 Metri

9)



Insetto

- A. 30 Centimetri
- B. 10 Centimetri
- C. 5 Centimetri
- D. 7 millimeters

1. **C**
2. **B**
3. **C**
4. **D**
5. **D**
6. **D**
7. **C**
8. **C**
9. **D**