

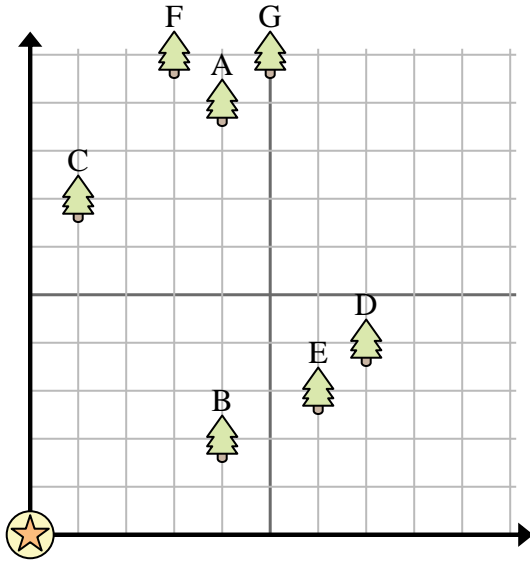


Usa la griglia per risolvere ogni problema.

= Albero

= Casa

= 1 Square Iarda



- 1) Roberto voleva piantare un nuovo albero, ma voleva assicurarsi che fosse ad almeno 2 iarde da un albero preesistente. Dovrebbe piantare un albero 4 metri a est e 6 metri a nord di casa sua?
- 2) Quale albero è più vicino alla casa?
- 3) Quale albero è più lontano dalla casa?
- 4) Quale albero è più avanti south? Albero G o albero B?
- 5) Se dovessi andare 1 metri a est e 7 metri a nord dalla casa in quale albero ti troveresti?

**Risposte**

1. \_\_\_\_\_
2. \_\_\_\_\_
3. \_\_\_\_\_
4. \_\_\_\_\_
5. \_\_\_\_\_
6. \_\_\_\_\_
7. \_\_\_\_\_
8. \_\_\_\_\_
9. \_\_\_\_\_
10. \_\_\_\_\_

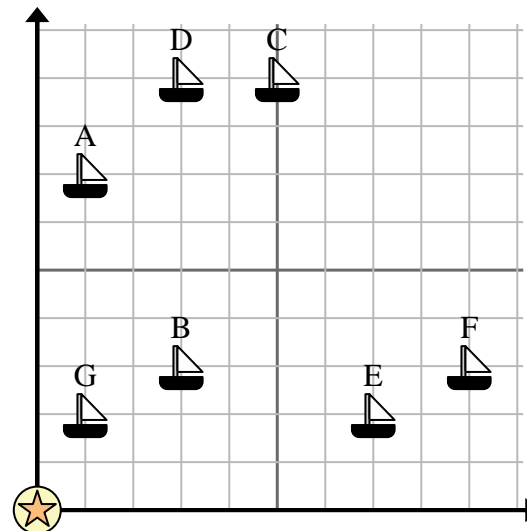
- 6) Una nuova nave voleva pescare, ma il capitano voleva assicurarsi che fossero ad almeno 2 miglia da un'altra nave. Se avesse navigato per 8 miglia a est e 6 miglia a nord, quel posto gli andrebbe bene?

= Nave

= Boa

= 1 Square miglio

- 7) Quale nave è più vicina alla boa?
- 8) Quale nave è più lontana dalla boa?
- 9) Quale nave è più avanti north? Spedire G o spedire D?



- 10) Quale nave si trova a 3 miglia a est e 3 miglia a nord dalla boa?

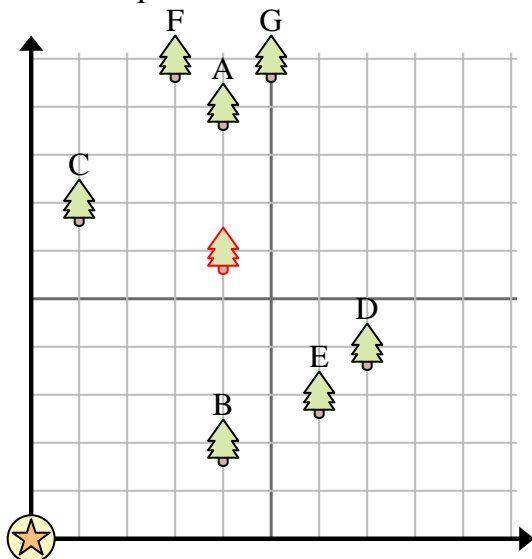


Usa la griglia per risolvere ogni problema.

= Albero

= Casa

= 1 Square Iarda



- 1) Roberto voleva piantare un nuovo albero, ma voleva assicurarsi che fosse ad almeno 2 iarde da un albero preesistente. Dovrebbe piantare un albero 4 metri a est e 6 metri a nord di casa sua?
- 2) Quale albero è più vicino alla casa?
- 3) Quale albero è più lontano dalla casa?
- 4) Quale albero è più avanti south? Albero G o albero B?
- 5) Se dovessi andare 1 metri a est e 7 metri a nord dalla casa in quale albero ti troveresti?

**Risposte**

1.           **si**
2.           **B**
3.           **G**
4.           **B**
5.           **C**
6.           **si**
7.           **G**
8.           **C**
9.           **D**
10.          **B**

- 6) Una nuova nave voleva pescare, ma il capitano voleva assicurarsi che fossero ad almeno 2 miglia da un'altra nave. Se avesse navigato per 8 miglia a est e 6 miglia a nord, quel posto gli andrebbe bene?

= Nave

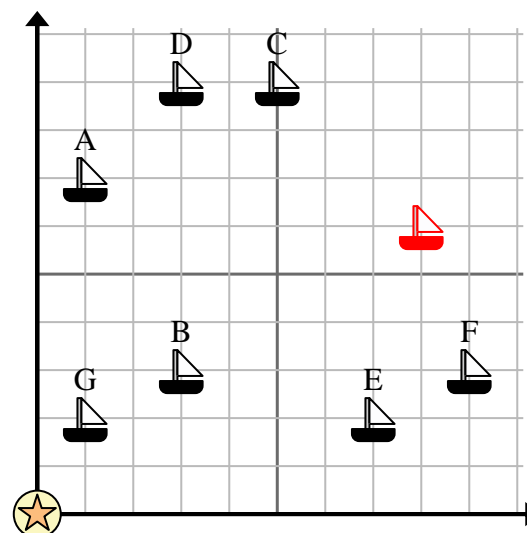
= Boa

= 1 Square miglio

- 7) Quale nave è più vicina alla boa?

- 8) Quale nave è più lontana dalla boa?

- 9) Quale nave è più avanti north? Spedire G o spedire D?



- 10) Quale nave si trova a 3 miglia a est e 3 miglia a nord dalla boa?