




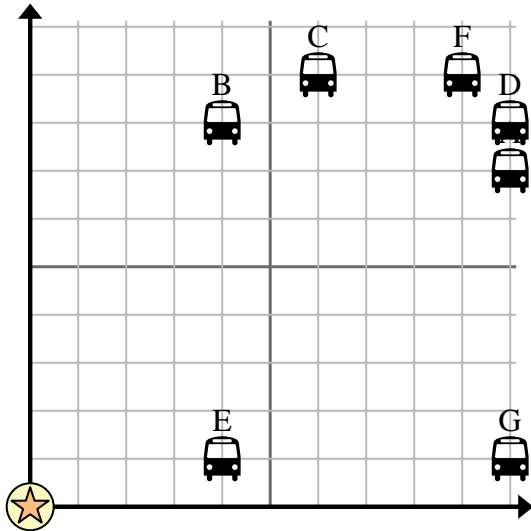


Usa la griglia per risolvere ogni problema.

 = Fermata dell'autobus

 = Scuola

 = 1 Square Bloccare





- 1) La scuola voleva aggiungere una nuova fermata dell'autobus, ma voleva assicurarsi che fosse ad almeno 2 isolati da un'altra fermata. Se aggiungessero un blocco 7 a est e 3 blocchi a nord, quel punto sarebbe adatto alle loro esigenze?
- 2) Quale fermata dell'autobus è più vicina alla scuola?
- 3) Quale fermata dell'autobus è più lontana dalla scuola?
- 4) Quale fermata dell'autobus è più avanti east? Interrompere G o interrompere A?
- 5) Quale fermata dell'autobus è 4 isolati a est e 1 isolati a nord dalla scuola?

Risposte

1. _____
2. _____
3. _____
4. _____
5. _____
6. _____
7. _____
8. _____
9. _____
10. _____

- 6) Roberto voleva piantare un nuovo albero, ma voleva assicurarsi che fosse ad almeno 2 iarde da un albero preesistente. Dovrebbe piantare un albero 4 metri a est e 8 metri a nord di casa sua?

 = Albero

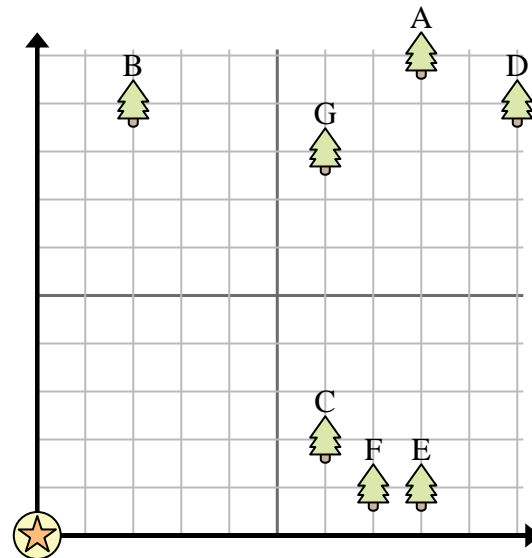
 = Casa

 = 1 Square Iarda

- 7) Quale albero è più vicino alla casa?

- 8) Quale albero è più lontano dalla casa?

- 9) Quale albero è più avanti south? Albero D o albero A?



- 10) Se dovessi andare 8 metri a est e 1 metri a nord dalla casa in quale albero ti troveresti?

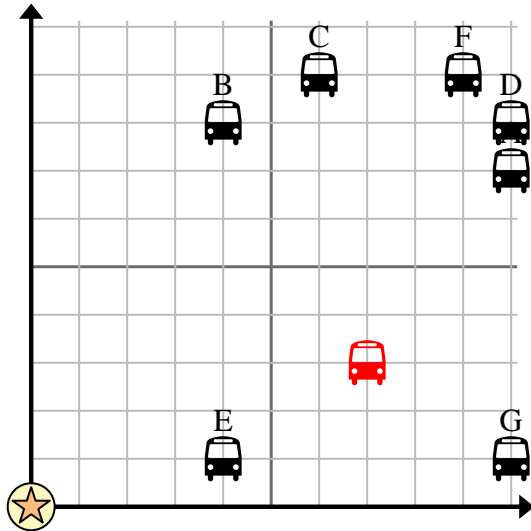


Usa la griglia per risolvere ogni problema.

= Fermata dell'autobus

= Scuola

= 1 Square Bloccare



- 1) La scuola voleva aggiungere una nuova fermata dell'autobus, ma voleva assicurarsi che fosse ad almeno 2 isolati da un'altra fermata. Se aggiungessero un blocco 7 a est e 3 blocchi a nord, quel punto sarebbe adatto alle loro esigenze?
- 2) Quale fermata dell'autobus è più vicina alla scuola?
- 3) Quale fermata dell'autobus è più lontana dalla scuola?
- 4) Quale fermata dell'autobus è più avanti east? Interrompere G o interrompere A?
- 5) Quale fermata dell'autobus è 4 isolati a est e 1 isolati a nord dalla scuola?

Risposte

1. si
2. E
3. D
4. A
5. E
6. si
7. C
8. D
9. D
10. E

- 6) Roberto voleva piantare un nuovo albero, ma voleva assicurarsi che fosse ad almeno 2 iarde da un albero preesistente. Dovrebbe piantare un albero 4 metri a est e 8 metri a nord di casa sua?

= Albero

= Casa

= 1 Square Iarda

- 7) Quale albero è più vicino alla casa?
- 8) Quale albero è più lontano dalla casa?
- 9) Quale albero è più avanti south? Albero D o albero A?
- 10) Se dovessi andare 8 metri a est e 1 metri a nord dalla casa in quale albero ti troveresti?

