




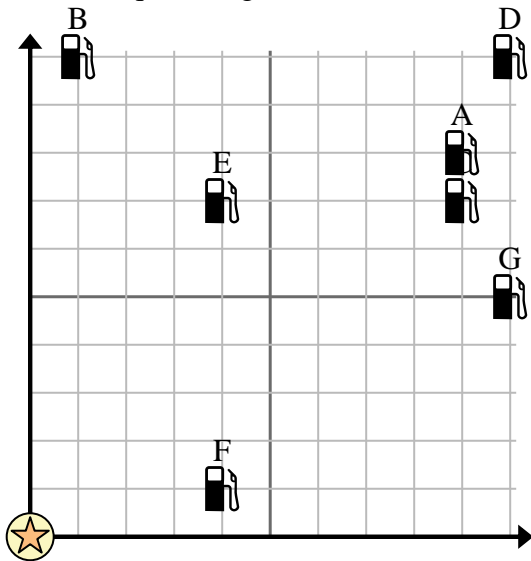


Usa la griglia per risolvere ogni problema.

 = Stazione di servizio

 = Centro commerciale

 = 1 Square miglio



1) Gli investitori volevano costruire una nuova stazione di servizio, ma volevano assicurarsi che fosse ad almeno 2 miglia da una stazione preesistente. Dovrebbero costruire una stazione di servizio 2 miglia a est e 7 miglia a nord del centro commerciale?

2) Quale distributore di benzina è più vicino al centro commerciale?

3) Quale distributore di benzina è più lontano dal centro commerciale?


4) Quale distributore di benzina è più lontano east? Stazione E o Stazione G?


5) Se dovessi andare a 10 miglia a est e 5 miglia a nord dal centro commerciale, in quale stazione di servizio finiresti?

Risposte

1. _____
2. _____
3. _____
4. _____
5. _____
6. _____
7. _____
8. _____
9. _____
10. _____

6) Una nuova nave voleva pescare, ma il capitano voleva assicurarsi che fossero ad almeno 2 miglia da un'altra nave. Se avesse navigato per 3 miglia a est e 5 miglia a nord, quel posto gli andrebbe bene?

 = Nave

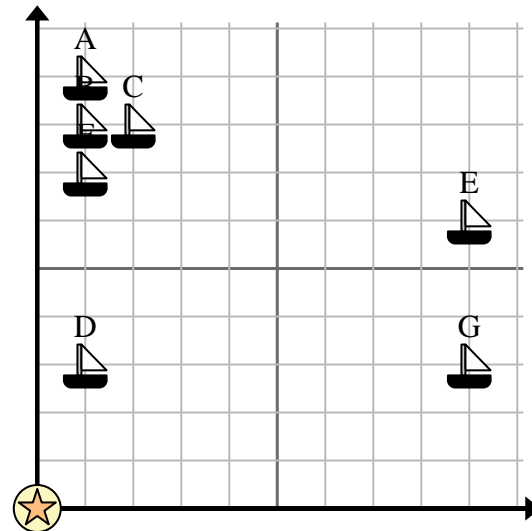
 = Boa

 = 1 Square miglio

7) Quale nave è più vicina alla boa?

8) Quale nave è più lontana dalla boa?

9) Quale nave è più avanti west? Spedire A o spedire C?





10) Quale nave si trova a 1 miglia a est e 9 miglia a nord dalla boa?

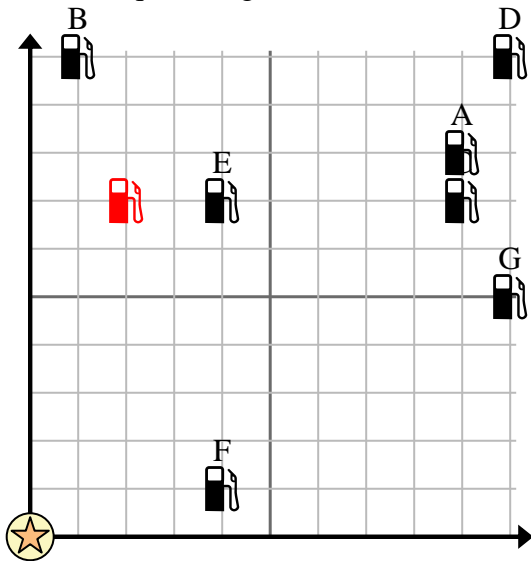


Usa la griglia per risolvere ogni problema.

 = Stazione di servizio

 = Centro commerciale

 = 1 Square miglio





- 1) Gli investitori volevano costruire una nuova stazione di servizio, ma volevano assicurarsi che fosse ad almeno 2 miglia da una stazione preesistente. Dovrebbero costruire una stazione di servizio 2 miglia a est e 7 miglia a nord del centro commerciale?
- 2) Quale distributore di benzina è più vicino al centro commerciale?
- 3) Quale distributore di benzina è più lontano dal centro commerciale?
- 4) Quale distributore di benzina è più lontano east? Stazione E o Stazione G?
- 5) Se dovessi andare a 10 miglia a est e 5 miglia a nord dal centro commerciale, in quale stazione di servizio finiresti?

Risposte

1. si
2. F
3. D
4. G
5. G
6. si
7. D
8. E
9. A
10. A

- 6) Una nuova nave voleva pescare, ma il capitano voleva assicurarsi che fossero ad almeno 2 miglia da un'altra nave. Se avesse navigato per 3 miglia a est e 5 miglia a nord, quel posto gli andrebbe bene?

 = Nave

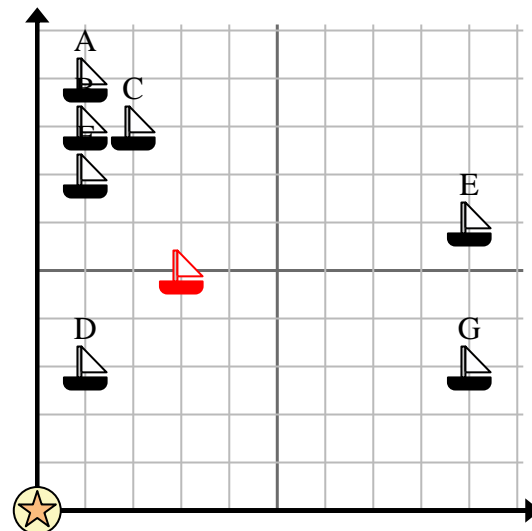
 = Boa

 = 1 Square miglio

- 7) Quale nave è più vicina alla boa?

- 8) Quale nave è più lontana dalla boa?

- 9) Quale nave è più avanti west? Spedire A o spedire C?



- 10) Quale nave si trova a 1 miglia a est e 9 miglia a nord dalla boa?