


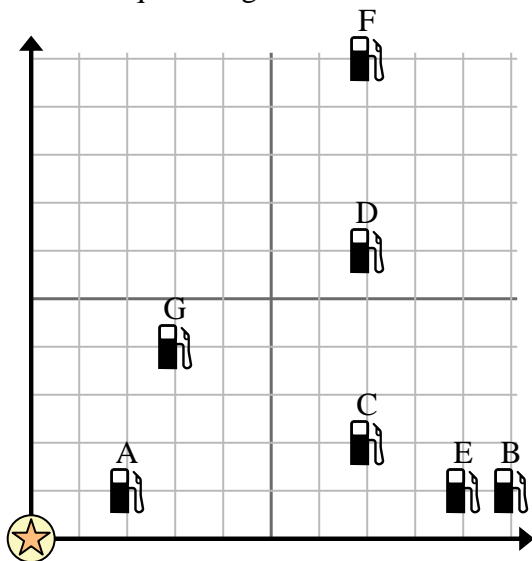


Usa la griglia per risolvere ogni problema.

 = Stazione di servizio

 = Centro commerciale

 = 1 Square miglio





- 1) Gli investitori volevano costruire una nuova stazione di servizio, ma volevano assicurarsi che fosse ad almeno 2 miglia da una stazione preesistente. Dovrebbero costruire una stazione di servizio 5 miglia a est e 3 miglia a nord del centro commerciale?
- 2) Quale distributore di benzina è più vicino al centro commerciale?
- 3) Quale distributore di benzina è più lontano dal centro commerciale?
- 4) Quale distributore di benzina è più lontano west? Stazione C o Stazione E?
- 5) Se dovessi andare a 7 miglia a est e 10 miglia a nord dal centro commerciale, in quale stazione di servizio finiresti?

Risposte

1. _____
2. _____
3. _____
4. _____
5. _____
6. _____
7. _____
8. _____
9. _____
10. _____

- 6) Una nuova nave voleva pescare, ma il capitano voleva assicurarsi che fossero ad almeno 2 miglia da un'altra nave. Se avesse navigato per 5 miglia a est e 8 miglia a nord, quel posto gli andrebbe bene?

 = Nave

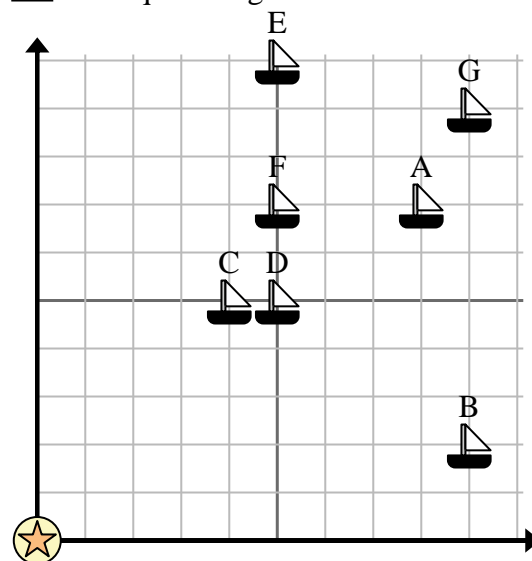
 = Boa

 = 1 Square miglio

- 7) Quale nave è più vicina alla boa?

- 8) Quale nave è più lontana dalla boa?

- 9) Quale nave è più avanti east? Spedire D o spedire A?



- 10) Quale nave si trova a 5 miglia a est e 7 miglia a nord dalla boa?

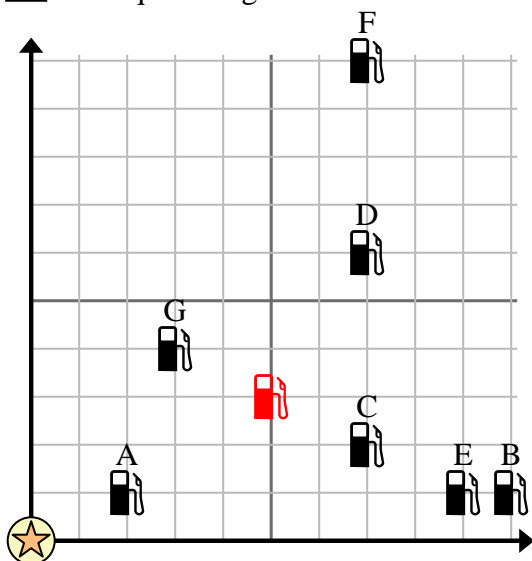


Usa la griglia per risolvere ogni problema.

= Stazione di servizio

= Centro commerciale

= 1 Square miglio



- 1) Gli investitori volevano costruire una nuova stazione di servizio, ma volevano assicurarsi che fosse ad almeno 2 miglia da una stazione preesistente. Dovrebbero costruire una stazione di servizio 5 miglia a est e 3 miglia a nord del centro commerciale?
- 2) Quale distributore di benzina è più vicino al centro commerciale?
- 3) Quale distributore di benzina è più lontano dal centro commerciale?
- 4) Quale distributore di benzina è più lontano west? Stazione C o Stazione E?
- 5) Se dovessi andare a 7 miglia a est e 10 miglia a nord dal centro commerciale, in quale stazione di servizio finiresti?

Risposte

1. si
2. A
3. F
4. C
5. F
6. no
7. C
8. G
9. A
10. F

- 6) Una nuova nave voleva pescare, ma il capitano voleva assicurarsi che fossero ad almeno 2 miglia da un'altra nave. Se avesse navigato per 5 miglia a est e 8 miglia a nord, quel posto gli andrebbe bene?

= Nave

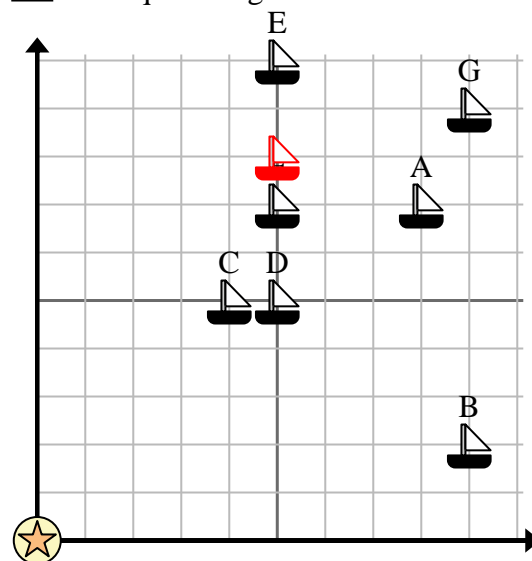
= Boa

= 1 Square miglio

- 7) Quale nave è più vicina alla boa?

- 8) Quale nave è più lontana dalla boa?

- 9) Quale nave è più avanti east? Spedire D o spedire A?



- 10) Quale nave si trova a 5 miglia a est e 7 miglia a nord dalla boa?