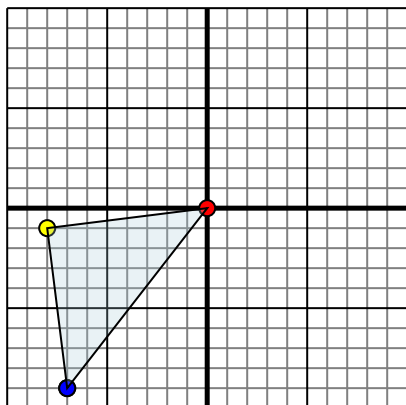




Specchia la forma come descritto

1)

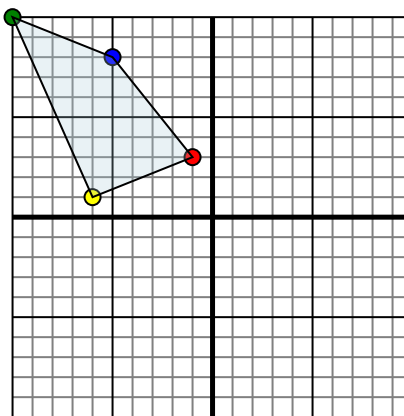


La figura qui sopra ha le seguenti coordinate:

- A. (0,0)
- B. (-8,-1)
- C. (-7,-9)

Specchia la figura rispetto all'asse y.

2)

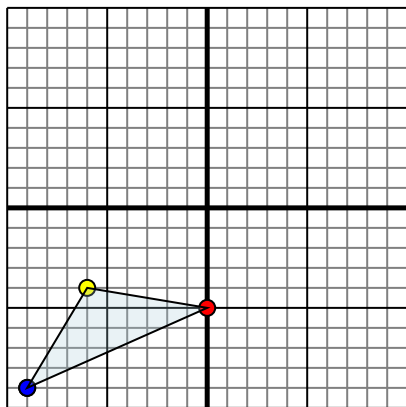


La figura qui sopra ha le seguenti coordinate:

- A. (-1,3)
- B. (-6,1)
- C. (-10,10)
- D. (-5,8)

Specchia la figura rispetto all'asse x.

3)

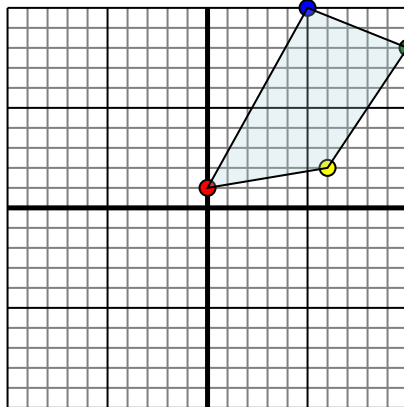


La figura qui sopra ha le seguenti coordinate:

- A. (0,-5)
- B. (-6,-4)
- C. (-9,-9)

Specchia la figura rispetto all'asse x.

4)



La figura qui sopra ha le seguenti coordinate:

- A. (0,1)
- B. (6,2)
- C. (10,8)
- D. (5,10)

Specchia la figura rispetto all'asse y.

Risposte

1. _____

2. _____

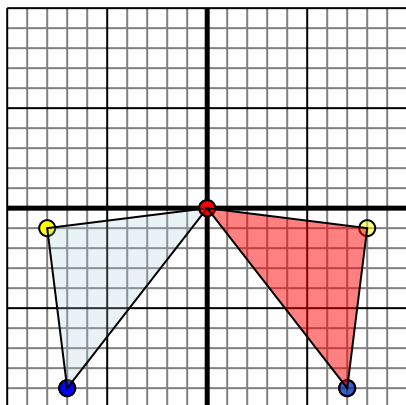
3. _____

4. _____



Specchia la forma come descritto

1)

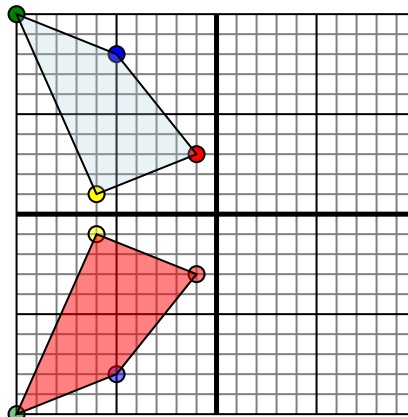


La figura qui sopra ha le seguenti coordinate:

- A. (0,0)
- B. (-8,-1)
- C. (-7,-9)

Specchia la figura rispetto all'asse y.

2)

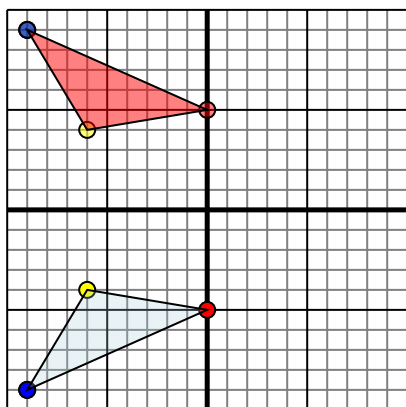


La figura qui sopra ha le seguenti coordinate:

- A. (-1,3)
- B. (-6,1)
- C. (-10,10)
- D. (-5,8)

Specchia la figura rispetto all'asse x.

3)

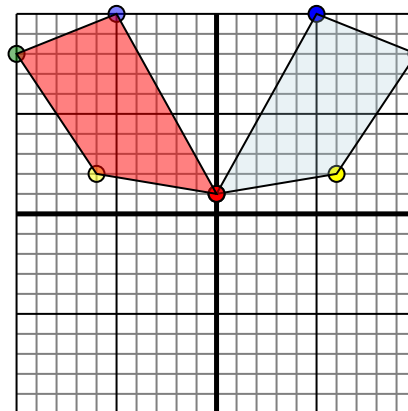


La figura qui sopra ha le seguenti coordinate:

- A. (0,-5)
- B. (-6,-4)
- C. (-9,-9)

Specchia la figura rispetto all'asse x.

4)



La figura qui sopra ha le seguenti coordinate:

- A. (0,1)
- B. (6,2)
- C. (10,8)
- D. (5,10)

Specchia la figura rispetto all'asse y.

Risposte

1. **0.0** **8.-1** **7.-9** [Graph](#)
2. **-1.-3** **-6.-1** **-10.10** **-5.-8** [Graph](#)
3. **0.5** **-6.4** **-9.9** [Graph](#)
4. **0.1** **-6.2** **-10.8** **-5.10** [Graph](#)