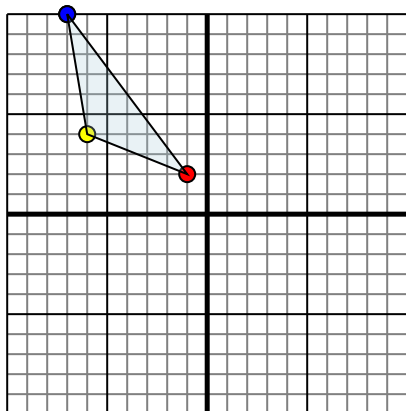




Specchia la forma come descritto

1)

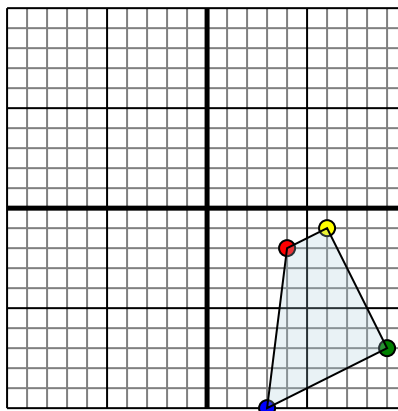


La figura qui sopra ha le seguenti coordinate:

- A. (-1,2)
- B. (-6,4)
- C. (-7,10)

Specchia la figura rispetto all'asse y.

2)

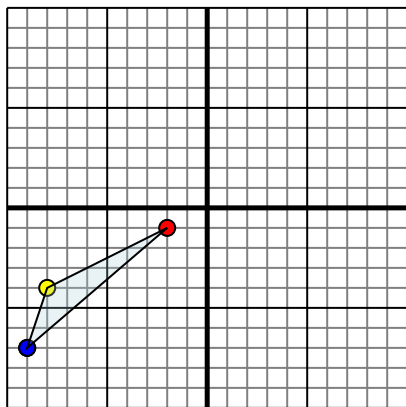


La figura qui sopra ha le seguenti coordinate:

- A. (4,-2)
- B. (6,-1)
- C. (9,-7)
- D. (3,-10)

Specchia la figura rispetto all'asse x.

3)

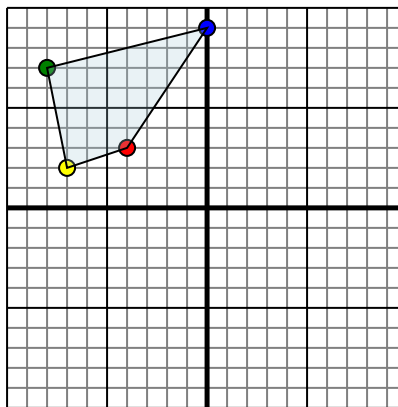


La figura qui sopra ha le seguenti coordinate:

- A. (-2,-1)
- B. (-8,-4)
- C. (-9,-7)

Specchia la figura rispetto all'asse x.

4)



La figura qui sopra ha le seguenti coordinate:

- A. (-4,3)
- B. (-7,2)
- C. (-8,7)
- D. (0,9)

Specchia la figura rispetto all'asse y.

Risposte

1. _____

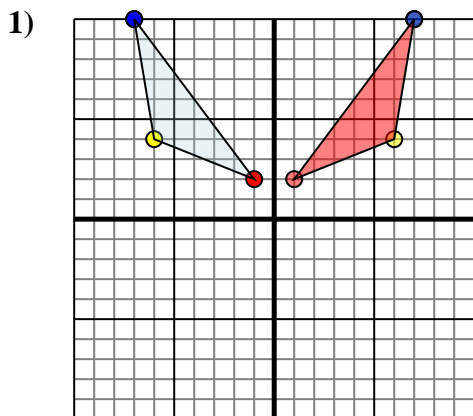
2. _____

3. _____

4. _____



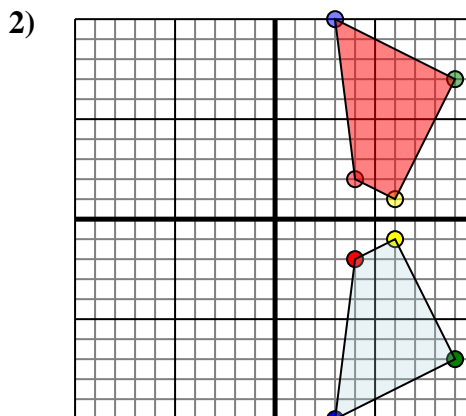
Specchia la forma come descritto



La figura qui sopra ha le seguenti coordinate:

- A. (-1,2)
- B. (-6,4)
- C. (-7,10)

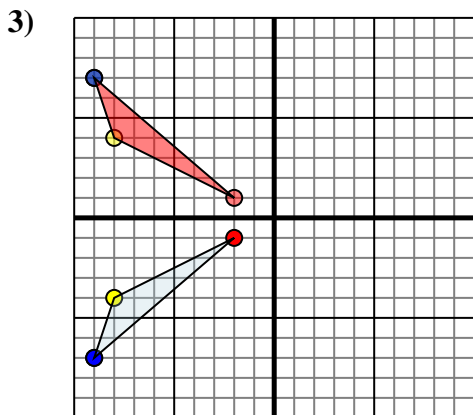
Specchia la figura rispetto all'asse y.



La figura qui sopra ha le seguenti coordinate:

- A. (4,-2)
- B. (6,-1)
- C. (9,-7)
- D. (3,-10)

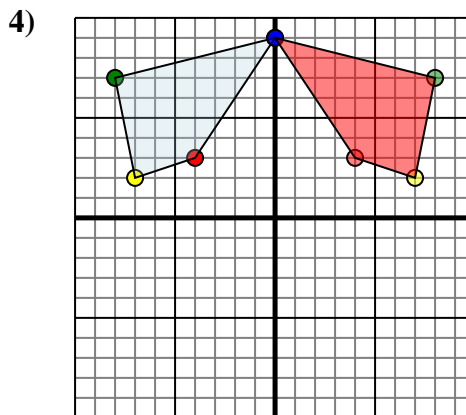
Specchia la figura rispetto all'asse x.



La figura qui sopra ha le seguenti coordinate:

- A. (-2,-1)
- B. (-8,-4)
- C. (-9,-7)

Specchia la figura rispetto all'asse x.



La figura qui sopra ha le seguenti coordinate:

- A. (-4,3)
- B. (-7,2)
- C. (-8,7)
- D. (0,9)

Specchia la figura rispetto all'asse y.

Risposte

1. **1.2** **6.4** **7.10** Graph
2. **4.2** **6.1** **9.7** **3.10** Graph
3. **-2.1** **-8.4** **-9.7** Graph
4. **4.3** **7.2** **8.7** **0.9** Graph