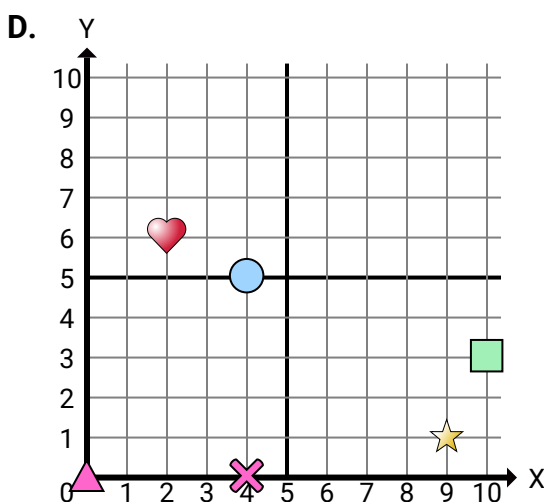
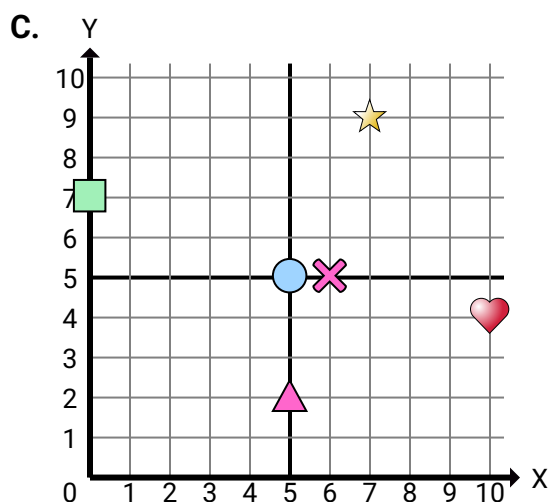
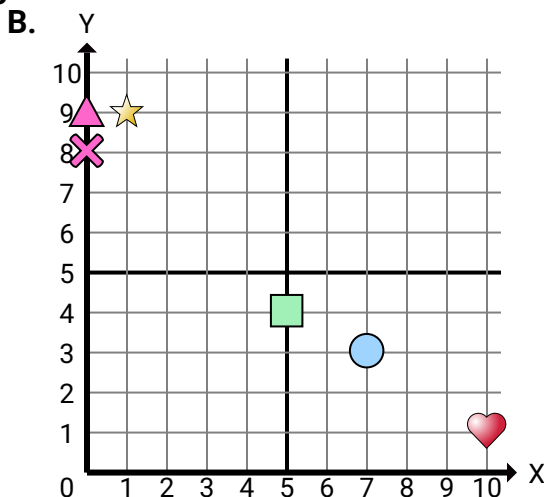
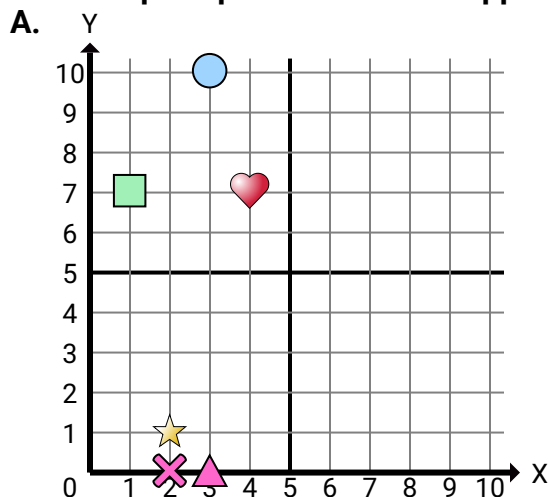




Indica a quale piano cartesiano appartengono le forme elencate nelle domande.



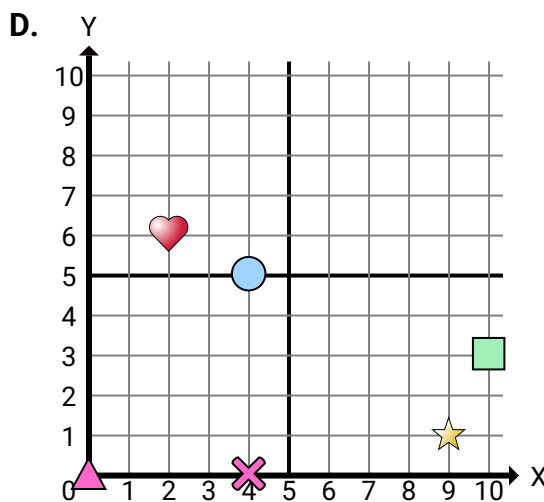
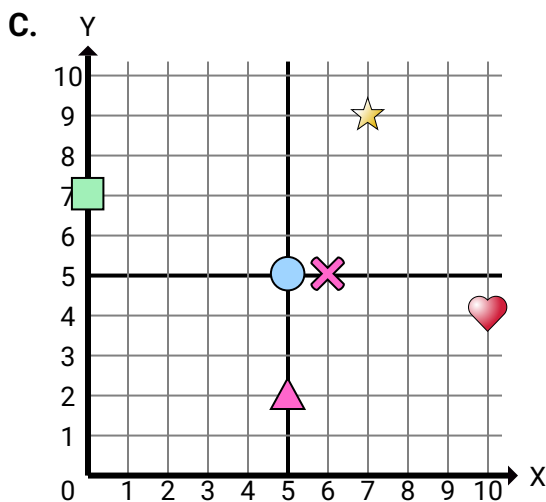
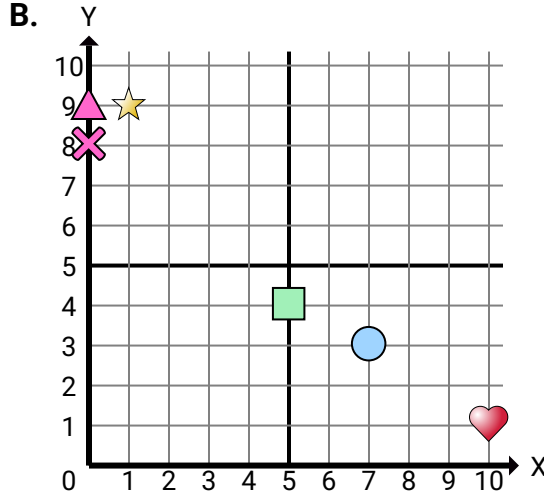
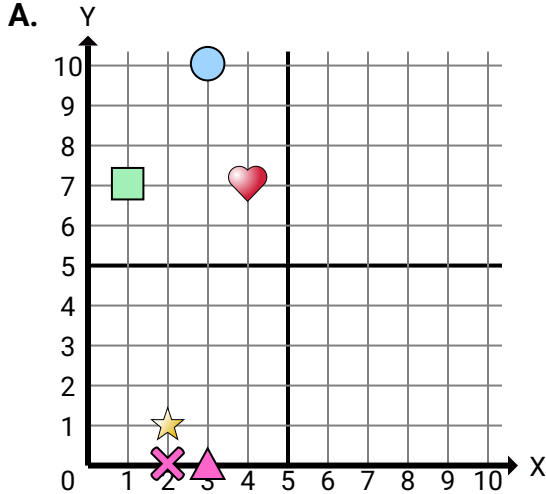
- 1) Quale piano cartesiano ha una figura a (2 , 1)?
- 2) Quale piano cartesiano ha una figura a (1 , 7)?
- 3) Quale piano cartesiano ha una figura a (3 , 10)?
- 4) Quale piano cartesiano ha una figura a (3 , 0)?
- 5) Quale piano cartesiano ha una figura a (2 , 0)?
- 6) Quale piano cartesiano ha una figura a (10 , 1)?
- 7) Quale piano cartesiano ha una figura a (1 , 9)?
- 8) Quale piano cartesiano ha una figura a (5 , 4)?
- 9) Quale piano cartesiano ha una figura a (7 , 3)?
- 10) Quale piano cartesiano ha una figura a (0 , 9)?
- 11) Quale piano cartesiano ha una figura a (0 , 8)?
- 12) Quale piano cartesiano ha una figura a (10 , 4)?
- 13) Quale piano cartesiano ha una figura a (7 , 9)?
- 14) Quale piano cartesiano ha una figura a (0 , 7)?
- 15) Quale piano cartesiano ha una figura a (5 , 5)?

**Risposte**

1. \_\_\_\_\_
2. \_\_\_\_\_
3. \_\_\_\_\_
4. \_\_\_\_\_
5. \_\_\_\_\_
6. \_\_\_\_\_
7. \_\_\_\_\_
8. \_\_\_\_\_
9. \_\_\_\_\_
10. \_\_\_\_\_
11. \_\_\_\_\_
12. \_\_\_\_\_
13. \_\_\_\_\_
14. \_\_\_\_\_
15. \_\_\_\_\_



Indica a quale piano cartesiano appartengono le forme elencate nelle domande.



- 1) Quale piano cartesiano ha una figura a (2 , 1)?
- 2) Quale piano cartesiano ha una figura a (1 , 7)?
- 3) Quale piano cartesiano ha una figura a (3 , 10)?
- 4) Quale piano cartesiano ha una figura a (3 , 0)?
- 5) Quale piano cartesiano ha una figura a (2 , 0)?
- 6) Quale piano cartesiano ha una figura a (10 , 1)?
- 7) Quale piano cartesiano ha una figura a (1 , 9)?
- 8) Quale piano cartesiano ha una figura a (5 , 4)?
- 9) Quale piano cartesiano ha una figura a (7 , 3)?
- 10) Quale piano cartesiano ha una figura a (0 , 9)?
- 11) Quale piano cartesiano ha una figura a (0 , 8)?
- 12) Quale piano cartesiano ha una figura a (10 , 4)?
- 13) Quale piano cartesiano ha una figura a (7 , 9)?
- 14) Quale piano cartesiano ha una figura a (0 , 7)?
- 15) Quale piano cartesiano ha una figura a (5 , 5)?

**Risposte**

1. **A**
2. **B**
3. **B**
4. **C**
5. **B**
6. **B**
7. **B**
8. **C**
9. **B**
10. **D**
11. **A**
12. **C**
13. **A**
14. **D**
15. **B**