

Risposte

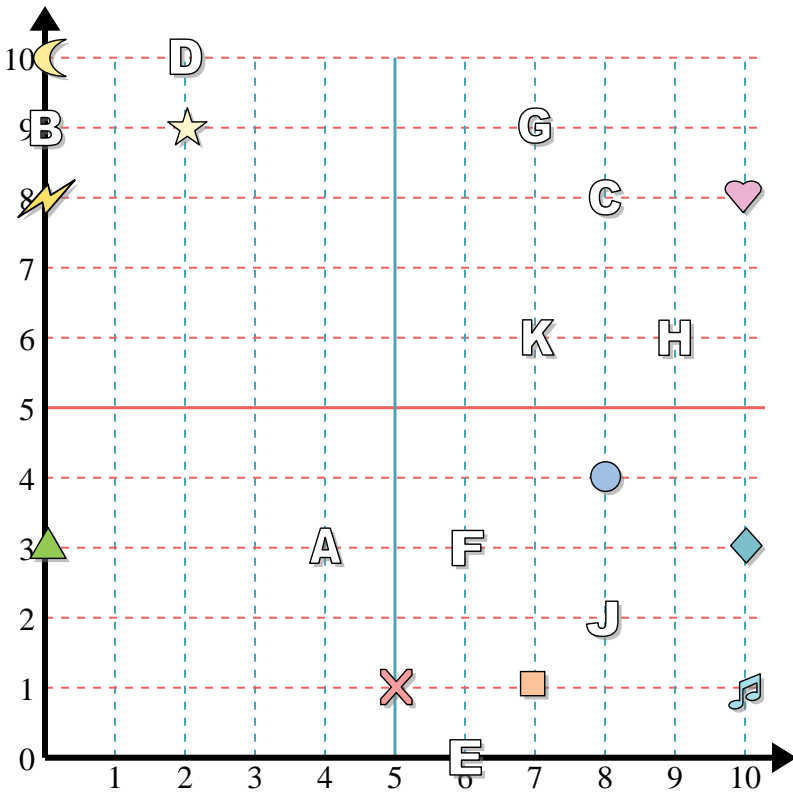
1. _____
2. _____
3. _____
4. _____
5. _____
6. _____
7. _____
8. _____
9. _____
10. _____
11. _____
12. _____
13. _____
14. _____
15. _____
16. _____
17. _____
18. _____
19. _____
20. _____

Determina le coordinate di ogni figura.

- | | |
|---------------|--------------|
| 1) music note | 2) circle |
| 3) lightning | 4) cross |
| 5) moon | 6) diamond |
| 7) star | 8) heart |
| 9) square | 10) triangle |

Indica quale lettera corrisponde a ciascuna coordinata.

- | | |
|--------------|-------------|
| 11) (6 . 0) | 12) (7 . 9) |
| 13) (2 . 10) | 14) (9 . 6) |
| 15) (8 . 2) | 16) (4 . 3) |
| 17) (8 . 8) | 18) (0 . 9) |
| 19) (7 . 6) | 20) (6 . 3) |



Determina le coordinate di ogni figura.

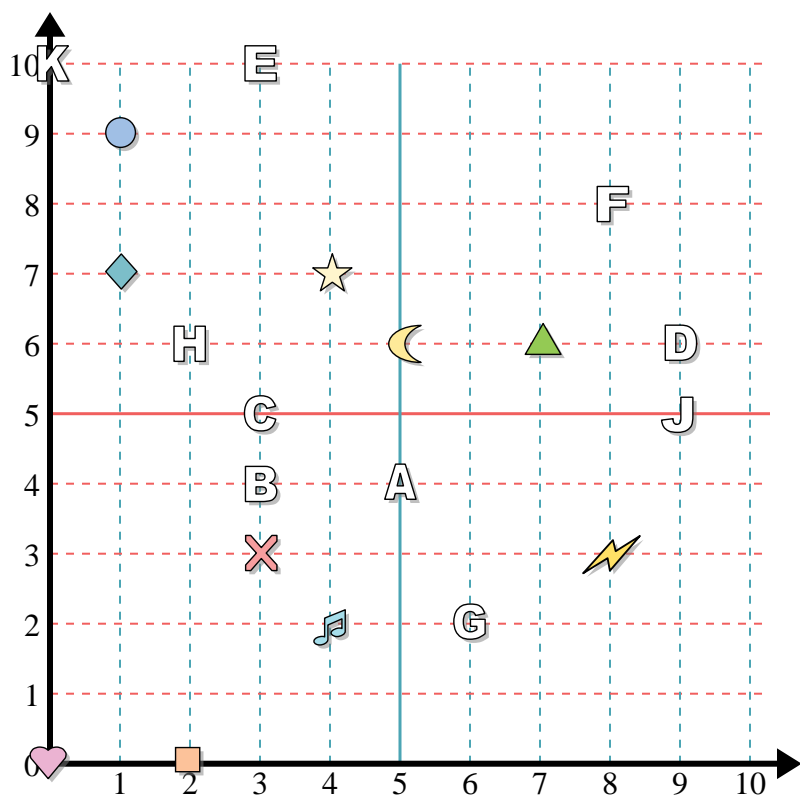
- | | |
|---------------|--------------|
| 1) music note | 2) circle |
| 3) lightning | 4) cross |
| 5) moon | 6) diamond |
| 7) star | 8) heart |
| 9) square | 10) triangle |

Indica quale lettera corrisponde a ciascuna coordinata.

- | | |
|--------------|-------------|
| 11) (6 . 0) | 12) (7 . 9) |
| 13) (2 . 10) | 14) (9 . 6) |
| 15) (8 . 2) | 16) (4 . 3) |
| 17) (8 . 8) | 18) (0 . 9) |
| 19) (7 . 6) | 20) (6 . 3) |

Risposte

1. (10 . 1)
2. (8 . 4)
3. (0 . 8)
4. (5 . 1)
5. (0 . 10)
6. (10 . 3)
7. (2 . 9)
8. (10 . 8)
9. (7 . 1)
10. (0 . 3)
11. E
12. G
13. D
14. H
15. J
16. A
17. C
18. B
19. K
20. F



Risposte

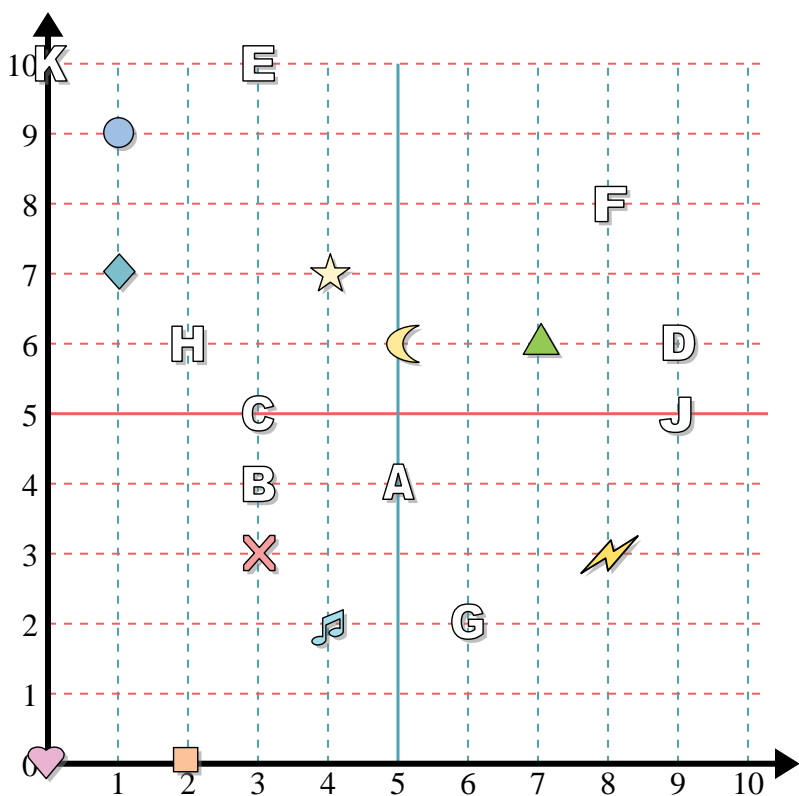
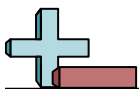
1. _____
2. _____
3. _____
4. _____
5. _____
6. _____
7. _____
8. _____
9. _____
10. _____
11. _____
12. _____
13. _____
14. _____
15. _____
16. _____
17. _____
18. _____
19. _____
20. _____

Determina le coordinate di ogni figura.

- | | |
|---------------|------------|
| 1) circle | 2) diamond |
| 3) square | 4) heart |
| 5) music note | 6) cross |
| 7) lightning | 8) moon |
| 9) triangle | 10) star |

Indica quale lettera corrisponde a ciascuna coordinata.

- | | |
|--------------|--------------|
| 11) (9 . 6) | 12) (2 . 6) |
| 13) (3 . 10) | 14) (3 . 5) |
| 15) (3 . 4) | 16) (0 . 10) |
| 17) (5 . 4) | 18) (6 . 2) |
| 19) (9 . 5) | 20) (8 . 8) |



Determina le coordinate di ogni figura.

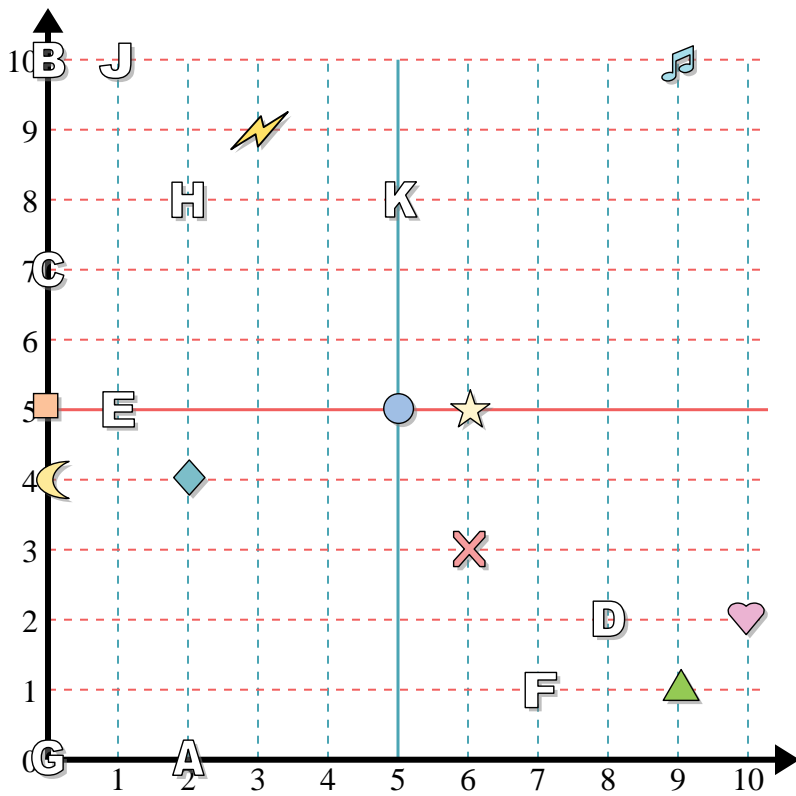
- 1) circle
- 2) diamond
- 3) square
- 4) heart
- 5) music note
- 6) cross
- 7) lightning
- 8) moon
- 9) triangle
- 10) star

Indica quale lettera corrisponde a ciascuna coordinata.

- 11) (9 . 6)
- 12) (2 . 6)
- 13) (3 . 10)
- 14) (3 . 5)
- 15) (3 . 4)
- 16) (0 . 10)
- 17) (5 . 4)
- 18) (6 . 2)
- 19) (9 . 5)
- 20) (8 . 8)

Risposte

- 1. (1 . 9)
- 2. (1 . 7)
- 3. (2 . 0)
- 4. (0 . 0)
- 5. (4 . 2)
- 6. (3 . 3)
- 7. (8 . 3)
- 8. (5 . 6)
- 9. (7 . 6)
- 10. (4 . 7)
- 11. D
- 12. H
- 13. E
- 14. C
- 15. B
- 16. K
- 17. A
- 18. G
- 19. J
- 20. F



Risposte

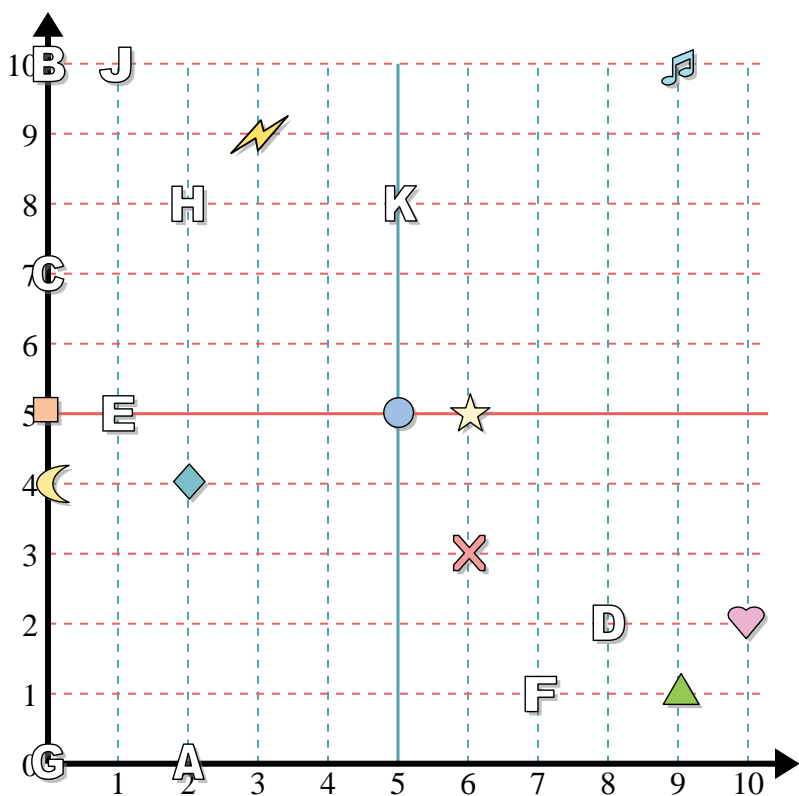
1. _____
2. _____
3. _____
4. _____
5. _____
6. _____
7. _____
8. _____
9. _____
10. _____
11. _____
12. _____
13. _____
14. _____
15. _____
16. _____
17. _____
18. _____
19. _____
20. _____

Determina le coordinate di ogni figura.

- | | |
|---------------|--------------|
| 1) triangle | 2) moon |
| 3) square | 4) heart |
| 5) star | 6) circle |
| 7) music note | 8) lightning |
| 9) cross | 10) diamond |

Indica quale lettera corrisponde a ciascuna coordinata.

- | | |
|--------------|-------------|
| 11) (1 . 10) | 12) (2 . 8) |
| 13) (0 . 7) | 14) (5 . 8) |
| 15) (2 . 0) | 16) (7 . 1) |
| 17) (0 . 0) | 18) (8 . 2) |
| 19) (0 . 10) | 20) (1 . 5) |



Determina le coordinate di ogni figura.

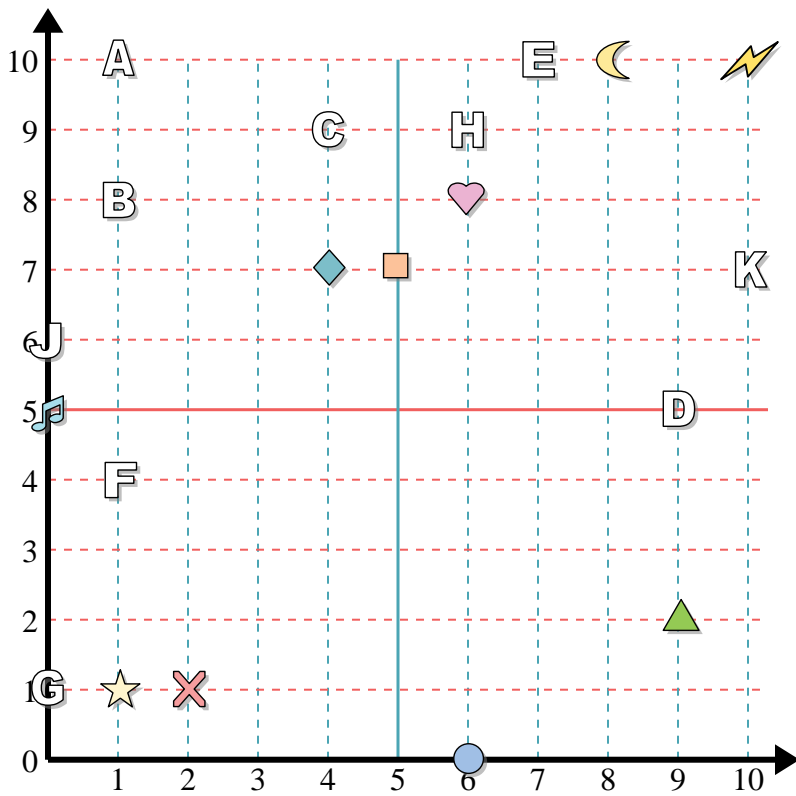
- 1) triangle
- 2) moon
- 3) square
- 4) heart
- 5) star
- 6) circle
- 7) music note
- 8) lightning
- 9) cross
- 10) diamond

Indica quale lettera corrisponde a ciascuna coordinata.

- 11) (1 . 10)
- 12) (2 . 8)
- 13) (0 . 7)
- 14) (5 . 8)
- 15) (2 . 0)
- 16) (7 . 1)
- 17) (0 . 0)
- 18) (8 . 2)
- 19) (0 . 10)
- 20) (1 . 5)

Risposte

- 1. (9 . 1)
- 2. (0 . 4)
- 3. (0 . 5)
- 4. (10 . 2)
- 5. (6 . 5)
- 6. (5 . 5)
- 7. (9 . 10)
- 8. (3 . 9)
- 9. (6 . 3)
- 10. (2 . 4)
- 11. J
- 12. H
- 13. C
- 14. K
- 15. A
- 16. F
- 17. G
- 18. D
- 19. B
- 20. E



Risposte

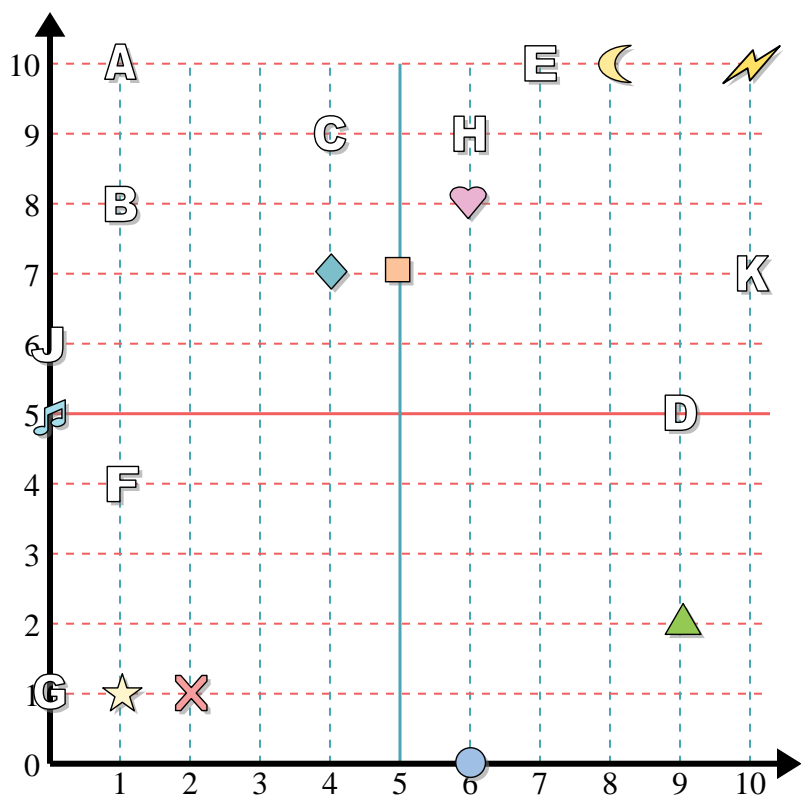
1. _____
2. _____
3. _____
4. _____
5. _____
6. _____
7. _____
8. _____
9. _____
10. _____
11. _____
12. _____
13. _____
14. _____
15. _____
16. _____
17. _____
18. _____
19. _____
20. _____

Determina le coordinate di ogni figura.

- | | |
|------------|---------------|
| 1) cross | 2) music note |
| 3) star | 4) circle |
| 5) square | 6) heart |
| 7) diamond | 8) lightning |
| 9) moon | 10) triangle |

Indica quale lettera corrisponde a ciascuna coordinata.

- | | |
|--------------|--------------|
| 11) (1 . 10) | 12) (0 . 6) |
| 13) (6 . 9) | 14) (7 . 10) |
| 15) (10 . 7) | 16) (4 . 9) |
| 17) (1 . 8) | 18) (0 . 1) |
| 19) (1 . 4) | 20) (9 . 5) |



Determina le coordinate di ogni figura.

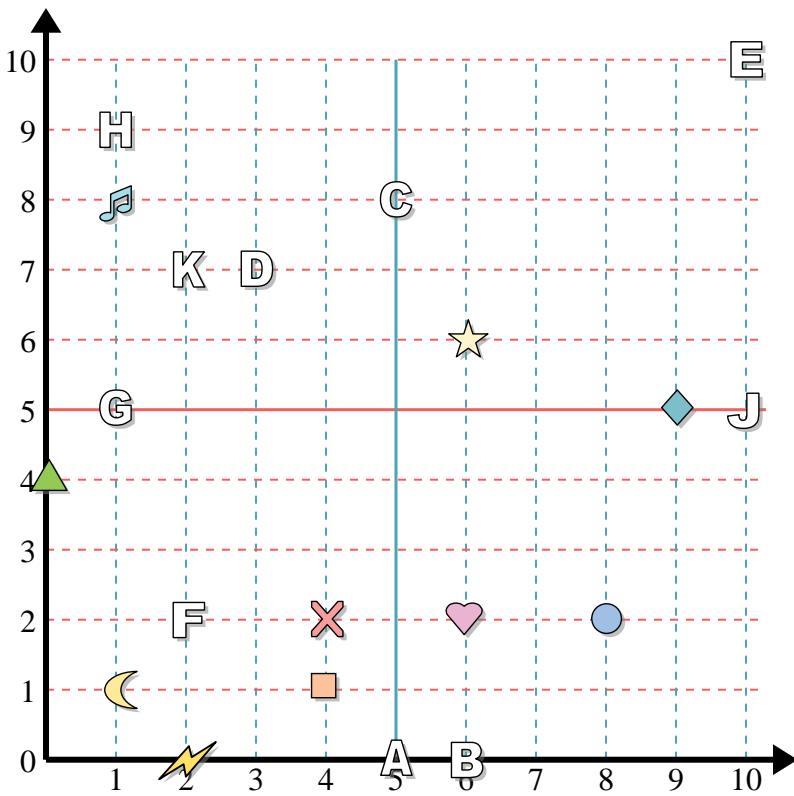
- 1) cross
- 2) music note
- 3) star
- 4) circle
- 5) square
- 6) heart
- 7) diamond
- 8) lightning
- 9) moon
- 10) triangle

Indica quale lettera corrisponde a ciascuna coordinata.

- 11) (1 . 10)
- 12) (0 . 6)
- 13) (6 . 9)
- 14) (7 . 10)
- 15) (10 . 7)
- 16) (4 . 9)
- 17) (1 . 8)
- 18) (0 . 1)
- 19) (1 . 4)
- 20) (9 . 5)

Risposte

- 1. (2 . 1)
- 2. (0 . 5)
- 3. (1 . 1)
- 4. (6 . 0)
- 5. (5 . 7)
- 6. (6 . 8)
- 7. (4 . 7)
- 8. (10 . 10)
- 9. (8 . 10)
- 10. (9 . 2)
- 11. A
- 12. J
- 13. H
- 14. E
- 15. K
- 16. C
- 17. B
- 18. G
- 19. F
- 20. D



Determina le coordinate di ogni figura.

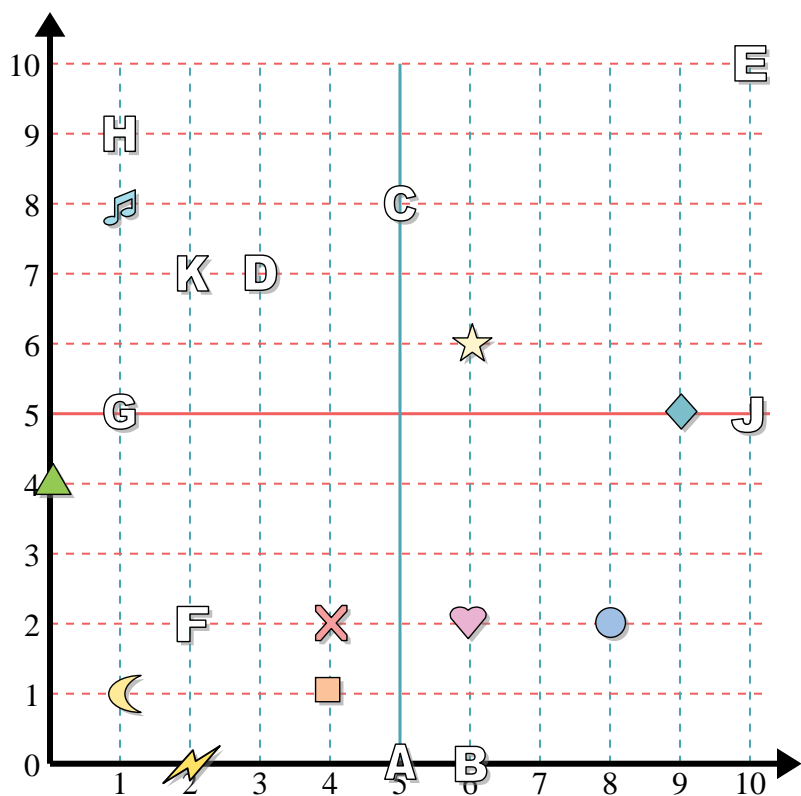
- | | |
|---------------|--------------|
| 1) cross | 2) square |
| 3) music note | 4) moon |
| 5) circle | 6) heart |
| 7) triangle | 8) lightning |
| 9) diamond | 10) star |

Indica quale lettera corrisponde a ciascuna coordinata.

- | | |
|-------------|---------------|
| 11) (6 . 0) | 12) (10 . 5) |
| 13) (5 . 8) | 14) (1 . 5) |
| 15) (1 . 9) | 16) (10 . 10) |
| 17) (5 . 0) | 18) (3 . 7) |
| 19) (2 . 2) | 20) (2 . 7) |

Risposte

1. _____
2. _____
3. _____
4. _____
5. _____
6. _____
7. _____
8. _____
9. _____
10. _____
11. _____
12. _____
13. _____
14. _____
15. _____
16. _____
17. _____
18. _____
19. _____
20. _____



Determina le coordinate di ogni figura.

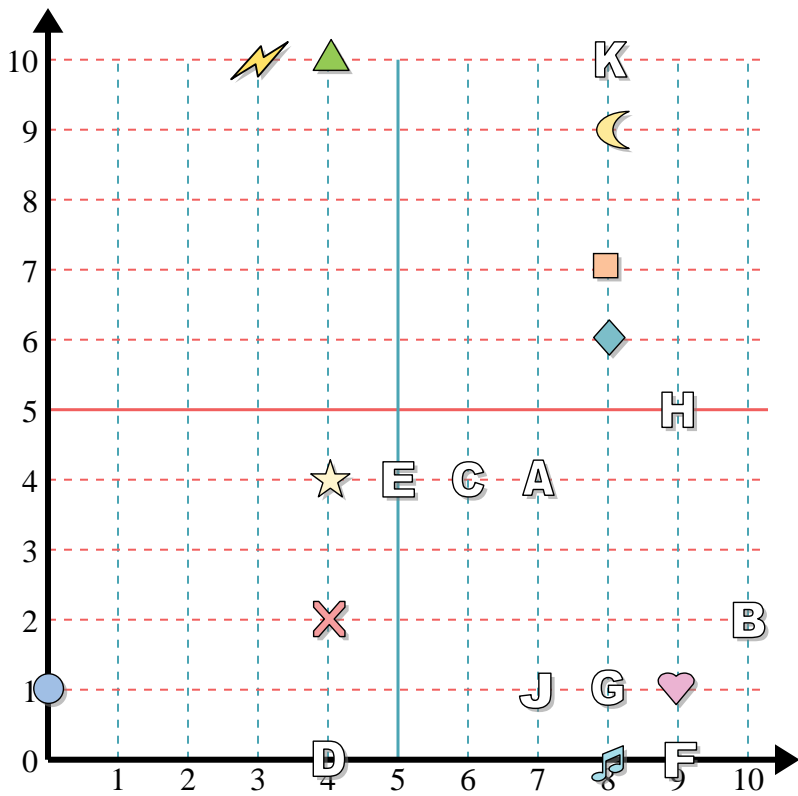
- | | |
|---------------|--------------|
| 1) cross | 2) square |
| 3) music note | 4) moon |
| 5) circle | 6) heart |
| 7) triangle | 8) lightning |
| 9) diamond | 10) star |

Indica quale lettera corrisponde a ciascuna coordinata.

- | | |
|-------------|---------------|
| 11) (6 . 0) | 12) (10 . 5) |
| 13) (5 . 8) | 14) (1 . 5) |
| 15) (1 . 9) | 16) (10 . 10) |
| 17) (5 . 0) | 18) (3 . 7) |
| 19) (2 . 2) | 20) (2 . 7) |

Risposte

1. (4 . 2)
2. (4 . 1)
3. (1 . 8)
4. (1 . 1)
5. (8 . 2)
6. (6 . 2)
7. (0 . 4)
8. (2 . 0)
9. (9 . 5)
10. (6 . 6)
11. B
12. J
13. C
14. G
15. H
16. E
17. A
18. D
19. F
20. K



Determina le coordinate di ogni figura.

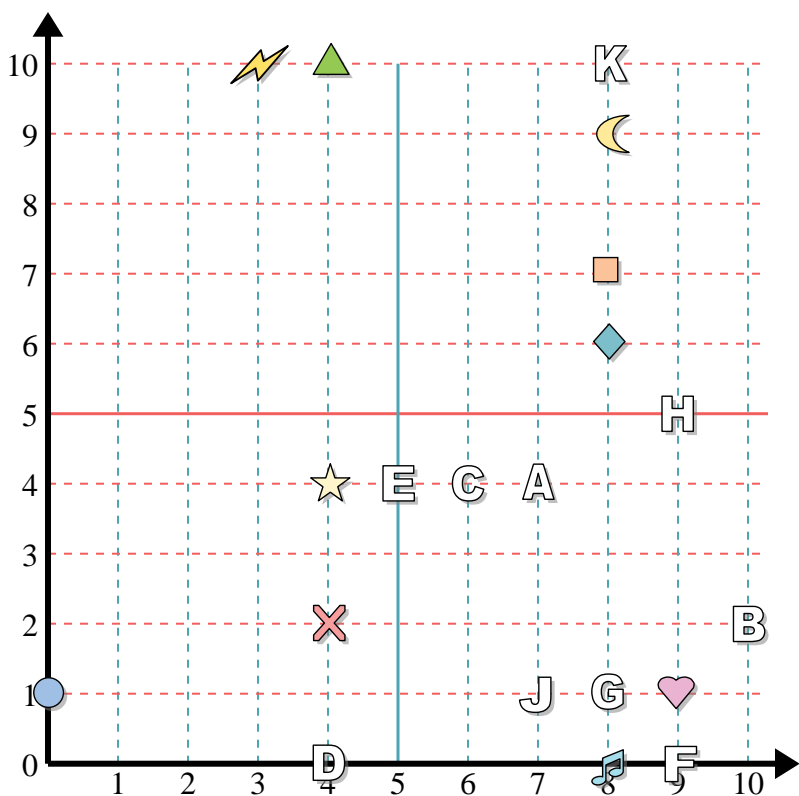
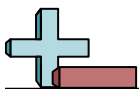
- 1) star
- 2) moon
- 3) heart
- 4) diamond
- 5) lightning
- 6) triangle
- 7) circle
- 8) music note
- 9) square
- 10) cross

Indica quale lettera corrisponde a ciascuna coordinata.

- 11) (9 . 5)
- 12) (8 . 10)
- 13) (8 . 1)
- 14) (9 . 0)
- 15) (7 . 4)
- 16) (6 . 4)
- 17) (4 . 0)
- 18) (7 . 1)
- 19) (10 . 2)
- 20) (5 . 4)

Risposte

1. _____
2. _____
3. _____
4. _____
5. _____
6. _____
7. _____
8. _____
9. _____
10. _____
11. _____
12. _____
13. _____
14. _____
15. _____
16. _____
17. _____
18. _____
19. _____
20. _____



Determina le coordinate di ogni figura.

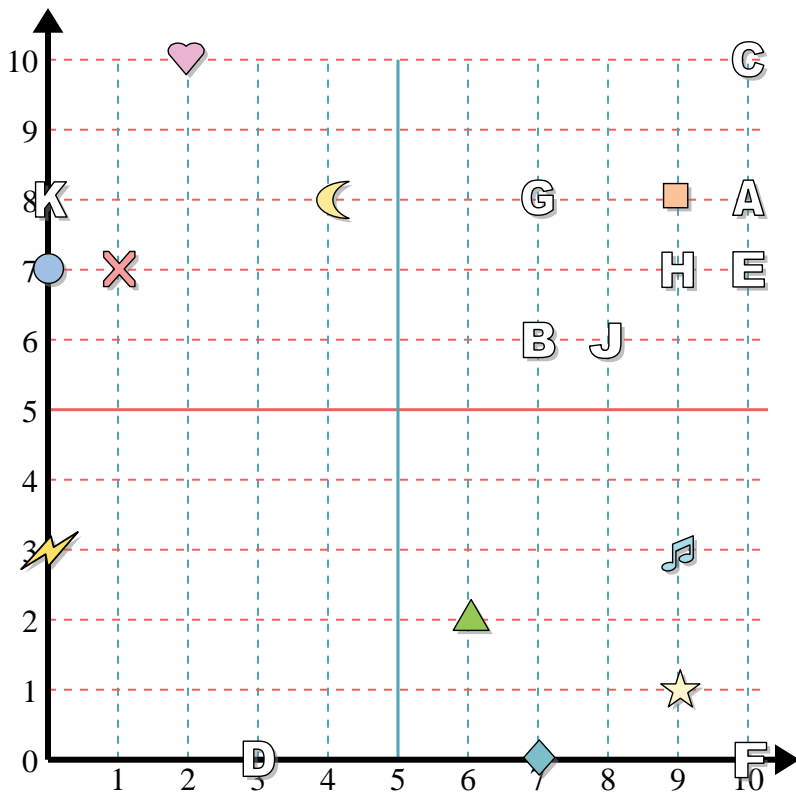
- 1) star
- 2) moon
- 3) heart
- 4) diamond
- 5) lightning
- 6) triangle
- 7) circle
- 8) music note
- 9) square
- 10) cross

Indica quale lettera corrisponde a ciascuna coordinata.

- 11) (9 . 5)
- 12) (8 . 10)
- 13) (8 . 1)
- 14) (9 . 0)
- 15) (7 . 4)
- 16) (6 . 4)
- 17) (4 . 0)
- 18) (7 . 1)
- 19) (10 . 2)
- 20) (5 . 4)

Risposte

- 1. (4 . 4)
- 2. (8 . 9)
- 3. (9 . 1)
- 4. (8 . 6)
- 5. (3 . 10)
- 6. (4 . 10)
- 7. (0 . 1)
- 8. (8 . 0)
- 9. (8 . 7)
- 10. (4 . 2)
- 11. H
- 12. K
- 13. G
- 14. F
- 15. A
- 16. C
- 17. D
- 18. J
- 19. B
- 20. E



Risposte

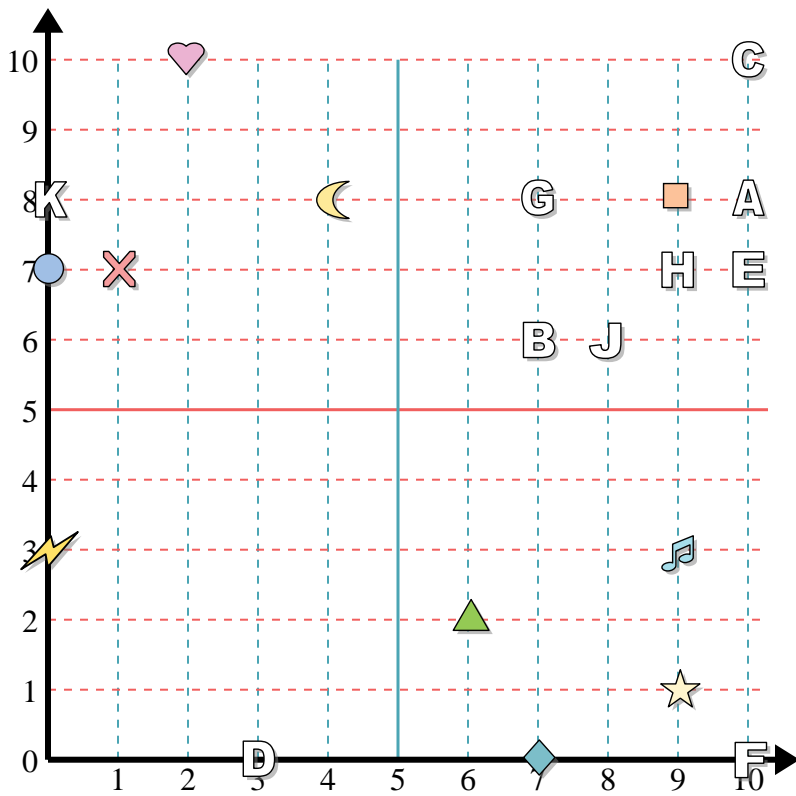
1. _____
2. _____
3. _____
4. _____
5. _____
6. _____
7. _____
8. _____
9. _____
10. _____
11. _____
12. _____
13. _____
14. _____
15. _____
16. _____
17. _____
18. _____
19. _____
20. _____

Determina le coordinate di ogni figura.

- | | |
|---------------|--------------|
| 1) diamond | 2) star |
| 3) triangle | 4) moon |
| 5) music note | 6) lightning |
| 7) square | 8) heart |
| 9) circle | 10) cross |

Indica quale lettera corrisponde a ciascuna coordinata.

- | | |
|---------------|--------------|
| 11) (10 . 8) | 12) (10 . 0) |
| 13) (9 . 7) | 14) (10 . 7) |
| 15) (8 . 6) | 16) (7 . 8) |
| 17) (0 . 8) | 18) (7 . 6) |
| 19) (10 . 10) | 20) (3 . 0) |



Determina le coordinate di ogni figura.

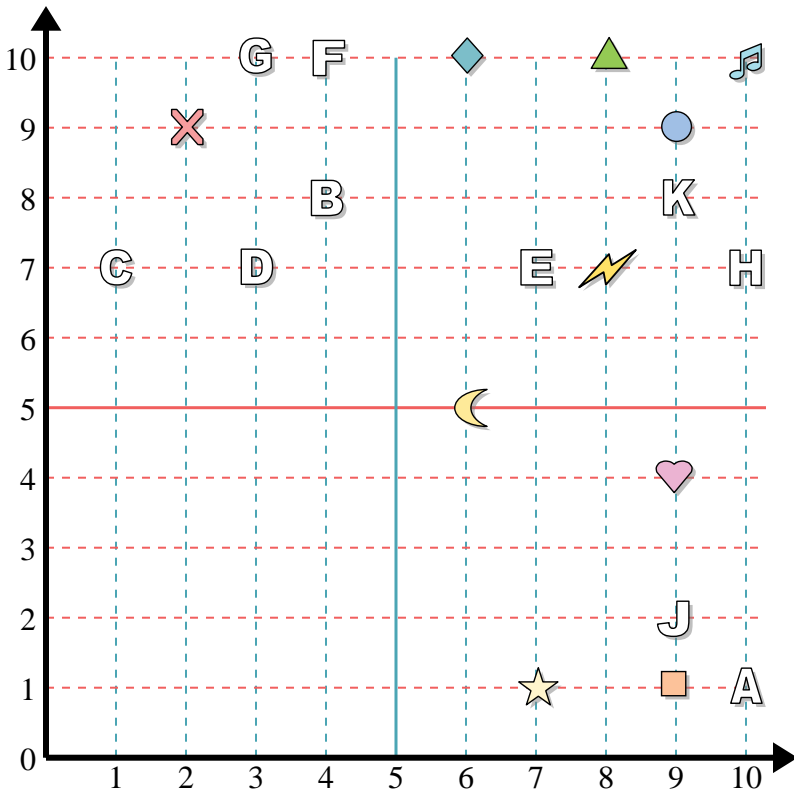
- | | |
|---------------|--------------|
| 1) diamond | 2) star |
| 3) triangle | 4) moon |
| 5) music note | 6) lightning |
| 7) square | 8) heart |
| 9) circle | 10) cross |

Indica quale lettera corrisponde a ciascuna coordinata.

- | | |
|---------------|--------------|
| 11) (10 . 8) | 12) (10 . 0) |
| 13) (9 . 7) | 14) (10 . 7) |
| 15) (8 . 6) | 16) (7 . 8) |
| 17) (0 . 8) | 18) (7 . 6) |
| 19) (10 . 10) | 20) (3 . 0) |

Risposte

1. (7 . 0)
2. (9 . 1)
3. (6 . 2)
4. (4 . 8)
5. (9 . 3)
6. (0 . 3)
7. (9 . 8)
8. (2 . 10)
9. (0 . 7)
10. (1 . 7)
11. A
12. F
13. H
14. E
15. J
16. G
17. K
18. B
19. C
20. D



Risposte

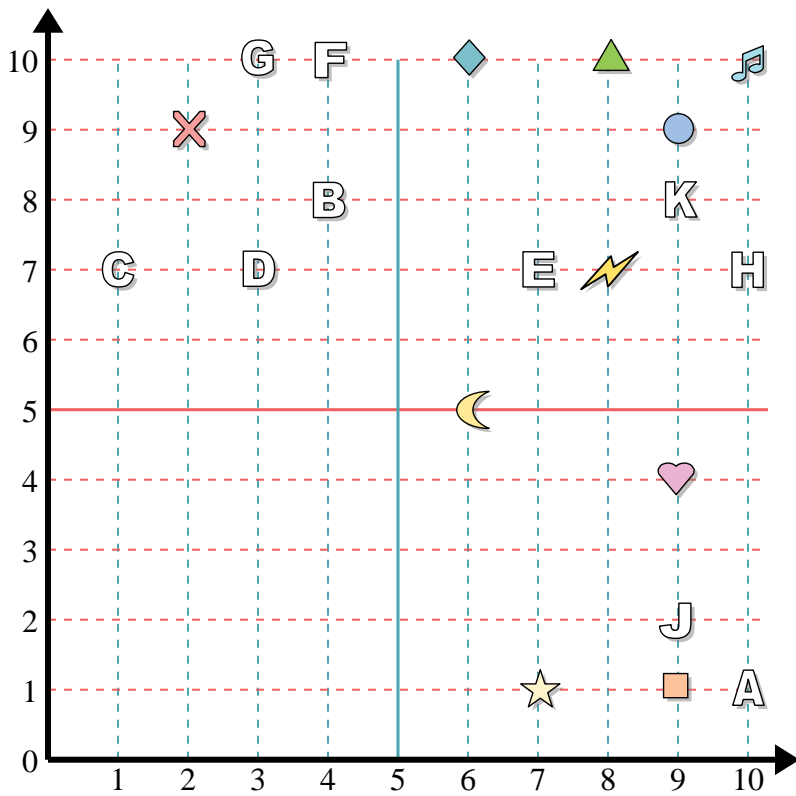
Determina le coordinate di ogni figura.

- | | |
|---------------|-------------|
| 1) star | 2) cross |
| 3) music note | 4) square |
| 5) lightning | 6) moon |
| 7) circle | 8) heart |
| 9) triangle | 10) diamond |

Indica quale lettera corrisponde a ciascuna coordinata.

- | | |
|--------------|--------------|
| 11) (10 . 1) | 12) (4 . 10) |
| 13) (9 . 8) | 14) (10 . 7) |
| 15) (9 . 2) | 16) (3 . 7) |
| 17) (1 . 7) | 18) (4 . 8) |
| 19) (7 . 7) | 20) (3 . 10) |

1. _____
2. _____
3. _____
4. _____
5. _____
6. _____
7. _____
8. _____
9. _____
10. _____
11. _____
12. _____
13. _____
14. _____
15. _____
16. _____
17. _____
18. _____
19. _____
20. _____



Determina le coordinate di ogni figura.

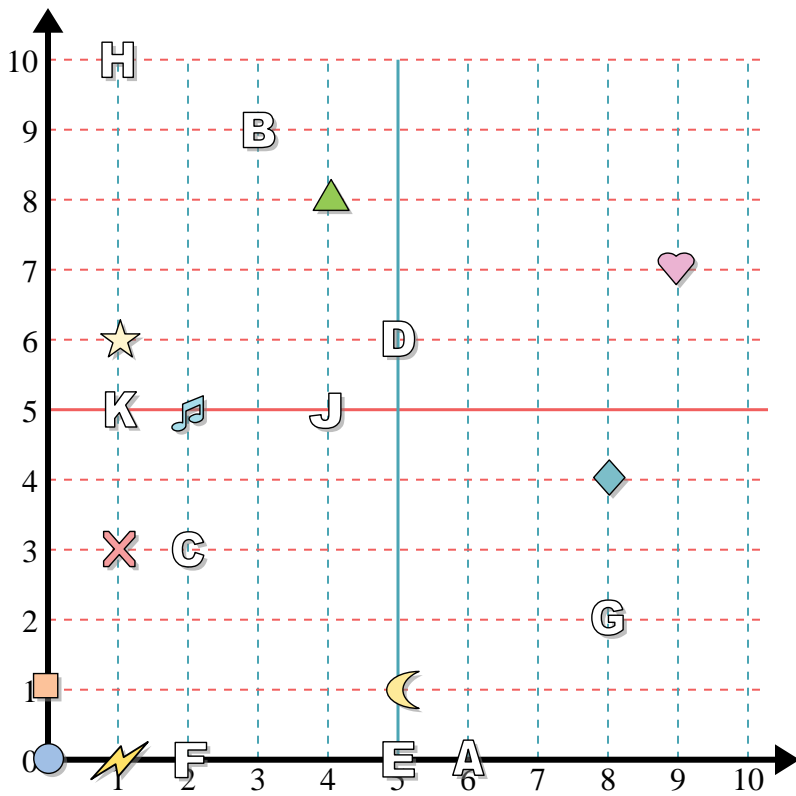
- | | |
|---------------|-------------|
| 1) star | 2) cross |
| 3) music note | 4) square |
| 5) lightning | 6) moon |
| 7) circle | 8) heart |
| 9) triangle | 10) diamond |

Indica quale lettera corrisponde a ciascuna coordinata.

- | | |
|--------------|--------------|
| 11) (10 . 1) | 12) (4 . 10) |
| 13) (9 . 8) | 14) (10 . 7) |
| 15) (9 . 2) | 16) (3 . 7) |
| 17) (1 . 7) | 18) (4 . 8) |
| 19) (7 . 7) | 20) (3 . 10) |

Risposte

1. (7 . 1)
2. (2 . 9)
3. (10 . 10)
4. (9 . 1)
5. (8 . 7)
6. (6 . 5)
7. (9 . 9)
8. (9 . 4)
9. (8 . 10)
10. (6 . 10)
11. A
12. F
13. K
14. H
15. J
16. D
17. C
18. B
19. E
20. G



Risposte

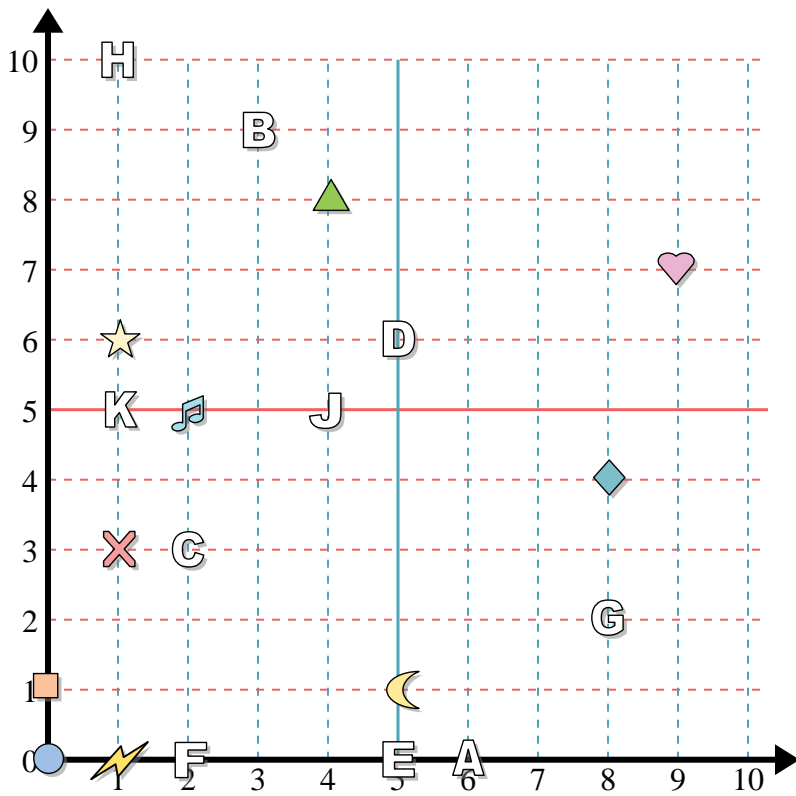
1. _____
2. _____
3. _____
4. _____
5. _____
6. _____
7. _____
8. _____
9. _____
10. _____
11. _____
12. _____
13. _____
14. _____
15. _____
16. _____
17. _____
18. _____
19. _____
20. _____

Determina le coordinate di ogni figura.

- | | |
|---------------|-------------|
| 1) music note | 2) triangle |
| 3) cross | 4) heart |
| 5) lightning | 6) square |
| 7) circle | 8) diamond |
| 9) moon | 10) star |

Indica quale lettera corrisponde a ciascuna coordinata.

- | | |
|-------------|--------------|
| 11) (8 . 2) | 12) (1 . 5) |
| 13) (4 . 5) | 14) (5 . 0) |
| 15) (5 . 6) | 16) (6 . 0) |
| 17) (3 . 9) | 18) (2 . 3) |
| 19) (2 . 0) | 20) (1 . 10) |



Determina le coordinate di ogni figura.

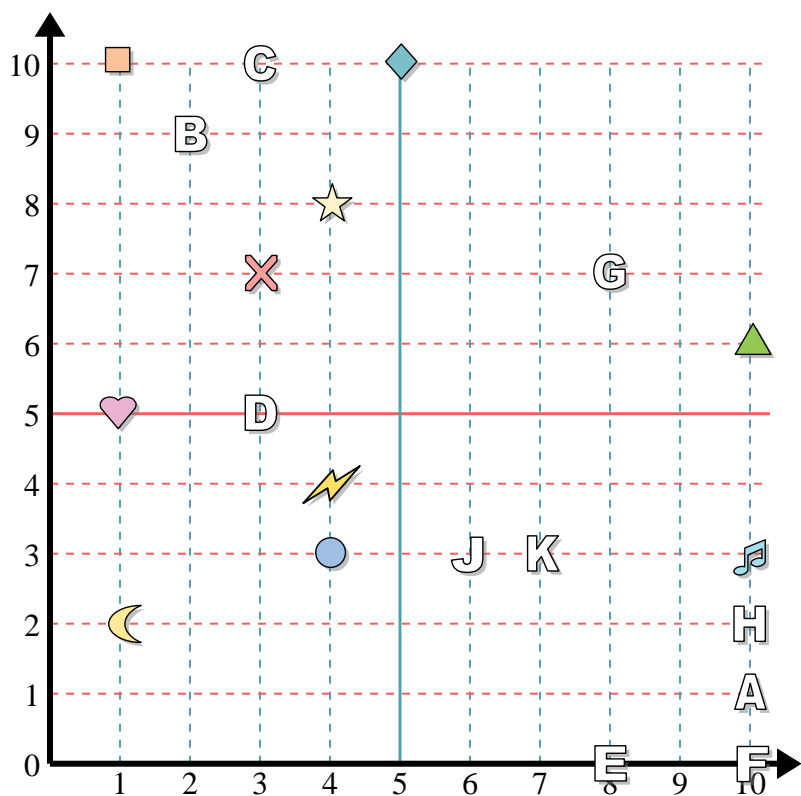
- | | |
|---------------|-------------|
| 1) music note | 2) triangle |
| 3) cross | 4) heart |
| 5) lightning | 6) square |
| 7) circle | 8) diamond |
| 9) moon | 10) star |

Indica quale lettera corrisponde a ciascuna coordinata.

- | | |
|-------------|--------------|
| 11) (8 . 2) | 12) (1 . 5) |
| 13) (4 . 5) | 14) (5 . 0) |
| 15) (5 . 6) | 16) (6 . 0) |
| 17) (3 . 9) | 18) (2 . 3) |
| 19) (2 . 0) | 20) (1 . 10) |

Risposte

1. (2 . 5)
2. (4 . 8)
3. (1 . 3)
4. (9 . 7)
5. (1 . 0)
6. (0 . 1)
7. (0 . 0)
8. (8 . 4)
9. (5 . 1)
10. (1 . 6)
11. G
12. K
13. J
14. E
15. D
16. A
17. B
18. C
19. F
20. H



Determina le coordinate di ogni figura.

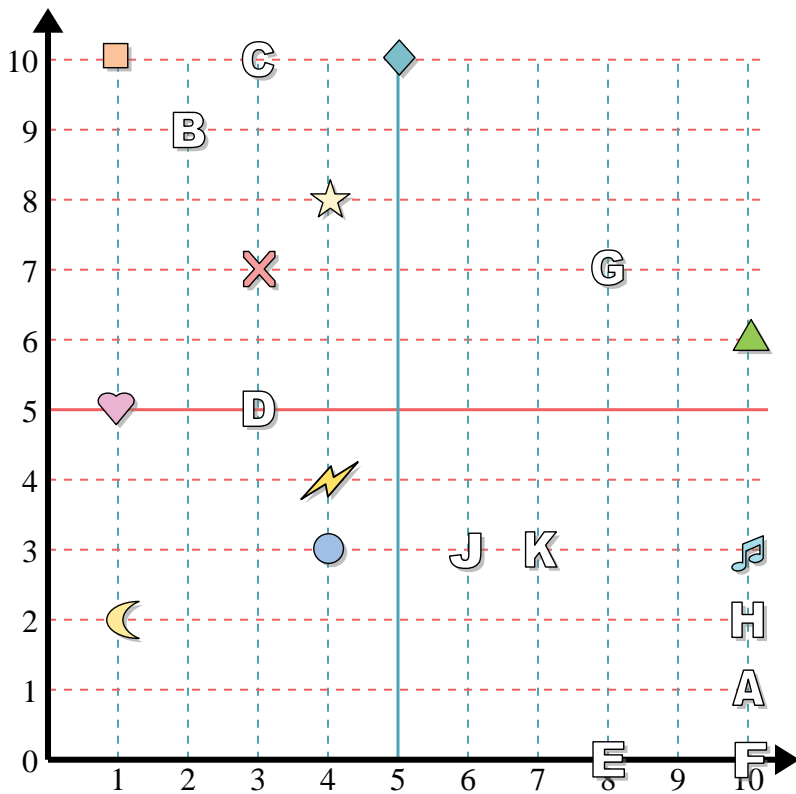
- | | |
|-------------|---------------|
| 1) moon | 2) music note |
| 3) triangle | 4) square |
| 5) circle | 6) cross |
| 7) heart | 8) diamond |
| 9) star | 10) lightning |

Indica quale lettera corrisponde a ciascuna coordinata.

- | | |
|--------------|--------------|
| 11) (2 . 9) | 12) (3 . 5) |
| 13) (8 . 0) | 14) (6 . 3) |
| 15) (8 . 7) | 16) (10 . 2) |
| 17) (10 . 0) | 18) (7 . 3) |
| 19) (10 . 1) | 20) (3 . 10) |

Risposte

1. _____
2. _____
3. _____
4. _____
5. _____
6. _____
7. _____
8. _____
9. _____
10. _____
11. _____
12. _____
13. _____
14. _____
15. _____
16. _____
17. _____
18. _____
19. _____
20. _____



Determina le coordinate di ogni figura.

- 1) moon
- 2) music note
- 3) triangle
- 4) square
- 5) circle
- 6) cross
- 7) heart
- 8) diamond
- 9) star
- 10) lightning

Indica quale lettera corrisponde a ciascuna coordinata.

- 11) (2 . 9)
- 12) (3 . 5)
- 13) (8 . 0)
- 14) (6 . 3)
- 15) (8 . 7)
- 16) (10 . 2)
- 17) (10 . 0)
- 18) (7 . 3)
- 19) (10 . 1)
- 20) (3 . 10)

Risposte

- 1. (1 . 2)
- 2. (10 . 3)
- 3. (10 . 6)
- 4. (1 . 10)
- 5. (4 . 3)
- 6. (3 . 7)
- 7. (1 . 5)
- 8. (5 . 10)
- 9. (4 . 8)
- 10. (4 . 4)
- 11. B
- 12. D
- 13. E
- 14. J
- 15. G
- 16. H
- 17. F
- 18. K
- 19. A
- 20. C