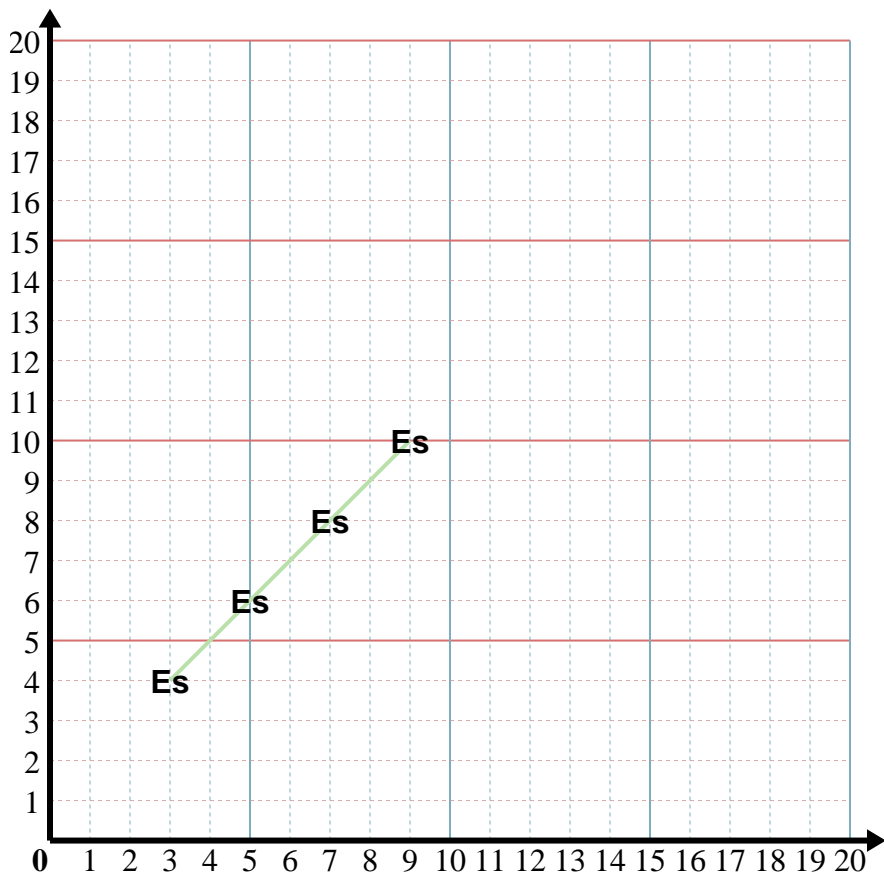




Inserisci nel modello e poi nel grafico le coppie di coordinate.



Risposte

Es. (9 . 10)

1. _____

2. _____

3. _____

4. _____

5. _____

Es) X: Inizia da 3 e aggiungi 2.

Y: Inizia da 4 e aggiungi 2.

x: 3 5 7 9

y: 4 6 8 10

1) X: Inizia da 7 e aggiungi 2.

Y: Inizia da 19 e sottrai 3.

x: _____

y: _____

2) X: Inizia da 8 e aggiungi 1.

Y: Inizia da 7 e sottrai 2.

x: _____

y: _____

3) X: Inizia da 9 e aggiungi 3.

Y: Inizia da 6 e sottrai 1.

x: _____

y: _____

4) X: Inizia da 8 e aggiungi 1.

Y: Inizia da 8 e sottrai 1.

x: _____

y: _____

5) X: Inizia da 12 e sottrai 3.

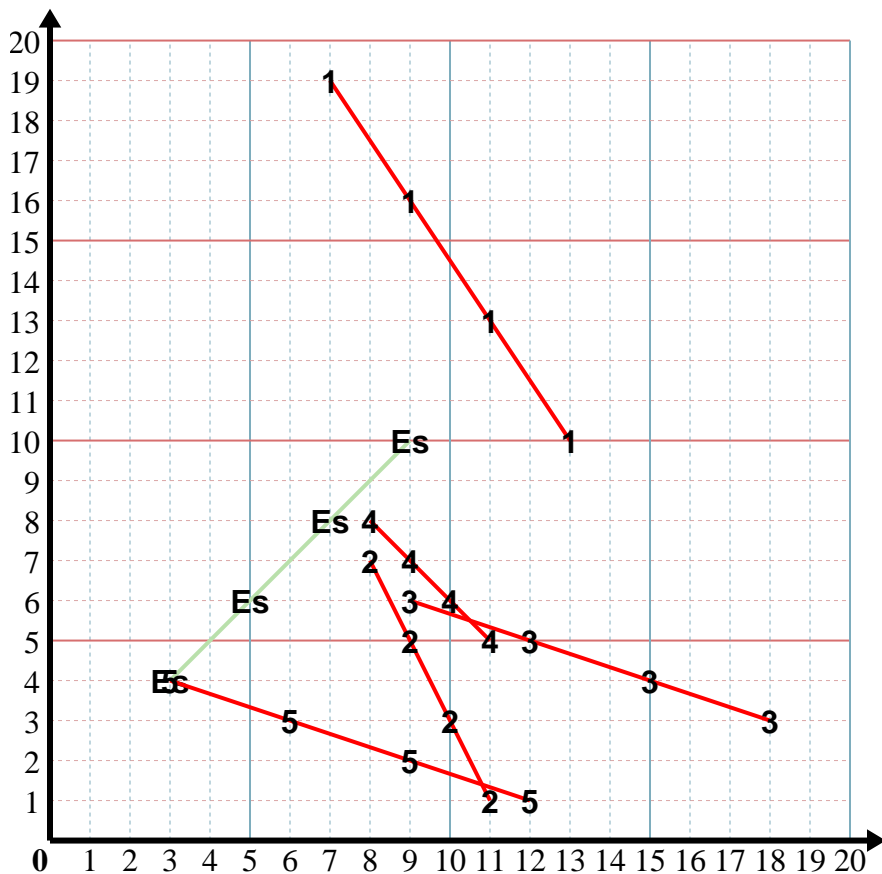
Y: Inizia da 1 e aggiungi 1.

x: _____

y: _____



Inserisci nel modello e poi nel grafico le coppie di coordinate.



Risposte

- Es. (9 . 10)
- 1. (13 . 10)
- 2. (11 . 1)
- 3. (18 . 3)
- 4. (11 . 5)
- 5. (3 . 4)

Es) X: Inizia da 3 e aggiungi 2.
 Y: Inizia da 4 e aggiungi 2.
 x: 3 5 7 9
 y: 4 6 8 10

1) X: Inizia da 7 e aggiungi 2.
 Y: Inizia da 19 e sottrai 3.
 x: 7 9 11 13
 y: 19 16 13 10

2) X: Inizia da 8 e aggiungi 1.
 Y: Inizia da 7 e sottrai 2.
 x: 8 9 10 11
 y: 7 5 3 1

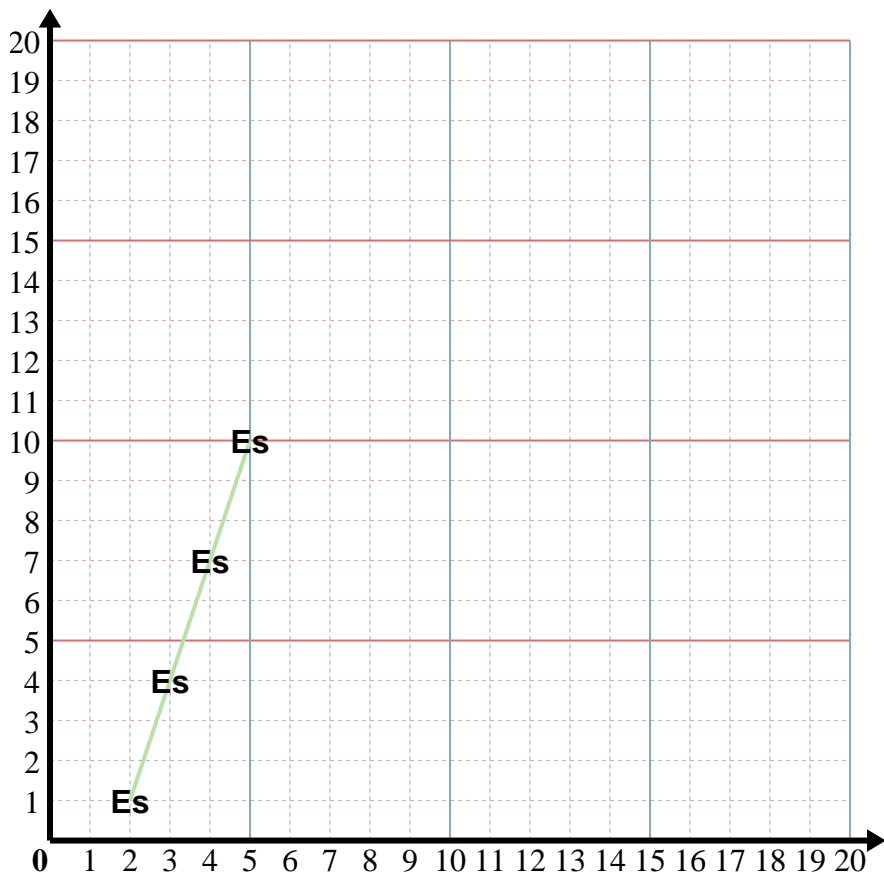
3) X: Inizia da 9 e aggiungi 3.
 Y: Inizia da 6 e sottrai 1.
 x: 9 12 15 18
 y: 6 5 4 3

4) X: Inizia da 8 e aggiungi 1.
 Y: Inizia da 8 e sottrai 1.
 x: 8 9 10 11
 y: 8 7 6 5

5) X: Inizia da 12 e sottrai 3.
 Y: Inizia da 1 e aggiungi 1.
 x: 12 9 6 3
 y: 1 2 3 4



Inserisci nel modello e poi nel grafico le coppie di coordinate.



Risposte

Es. (5 . 10)

1. _____

2. _____

3. _____

4. _____

5. _____

Es) X: Inizia da 2 e aggiungi 1.
 Y: Inizia da 1 e aggiungi 3.
 x: 2 3 4 5
 y: 1 4 7 10

1) X: Inizia da 6 e aggiungi 1.
 Y: Inizia da 13 e sottrai 1.
 x: _____
 y: _____

2) X: Inizia da 4 e aggiungi 1.
 Y: Inizia da 11 e sottrai 1.
 x: _____
 y: _____

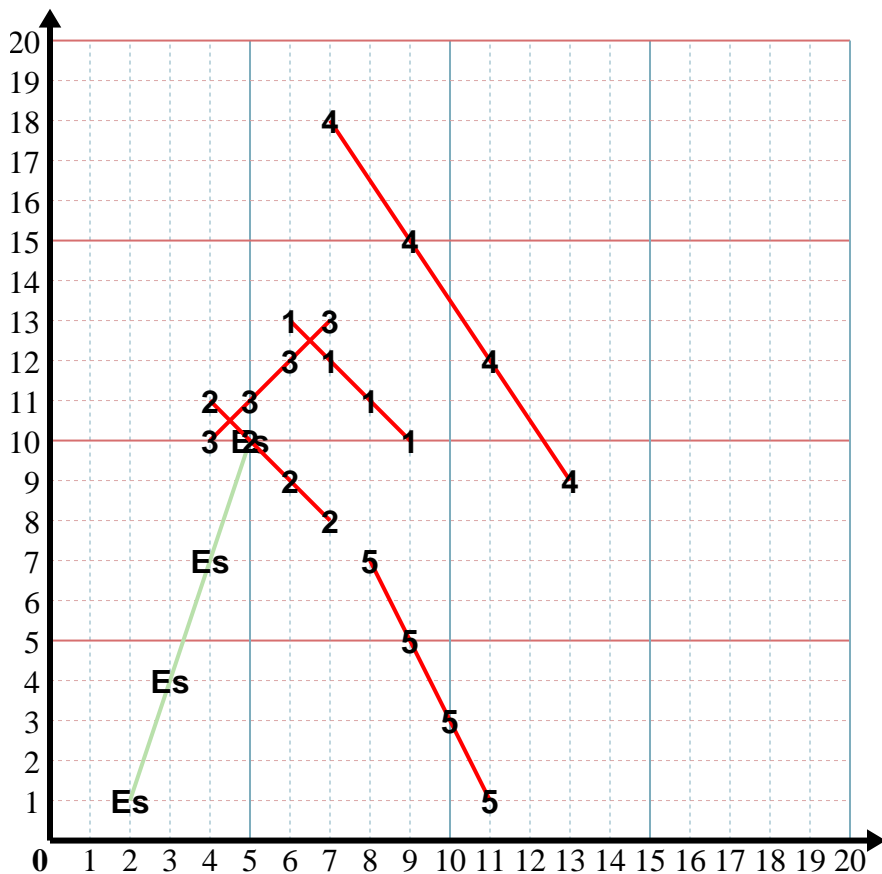
3) X: Inizia da 4 e aggiungi 1.
 Y: Inizia da 10 e aggiungi 1.
 x: _____
 y: _____

4) X: Inizia da 13 e sottrai 2.
 Y: Inizia da 9 e aggiungi 3.
 x: _____
 y: _____

5) X: Inizia da 11 e sottrai 1.
 Y: Inizia da 1 e aggiungi 2.
 x: _____
 y: _____



Inserisci nel modello e poi nel grafico le coppie di coordinate.

**Risposte**Es. (5 . 10)1. (9 . 10)2. (7 . 8)3. (7 . 13)4. (7 . 18)5. (8 . 7)

Es) X: Inizia da 2 e aggiungi 1.

Y: Inizia da 1 e aggiungi 3.

x: 2 3 4 5y: 1 4 7 10

1) X: Inizia da 6 e aggiungi 1.

Y: Inizia da 13 e sottrai 1.

x: 6 7 8 9y: 13 12 11 10

2) X: Inizia da 4 e aggiungi 1.

Y: Inizia da 11 e sottrai 1.

x: 4 5 6 7y: 11 10 9 8

3) X: Inizia da 4 e aggiungi 1.

Y: Inizia da 10 e aggiungi 1.

x: 4 5 6 7y: 10 11 12 13

4) X: Inizia da 13 e sottrai 2.

Y: Inizia da 9 e aggiungi 3.

x: 13 11 9 7y: 9 12 15 18

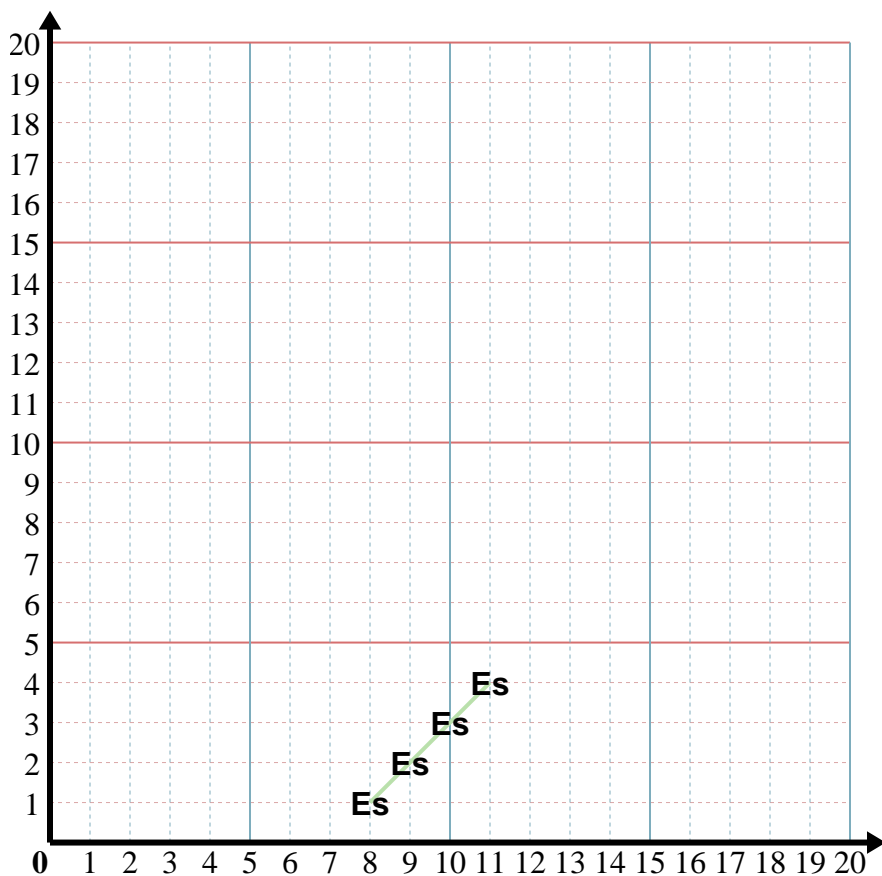
5) X: Inizia da 11 e sottrai 1.

Y: Inizia da 1 e aggiungi 2.

x: 11 10 9 8y: 1 3 5 7



Inserisci nel modello e poi nel grafico le coppie di coordinate.



Risposte

Es. (8 . 1)

1. _____

2. _____

3. _____

4. _____

5. _____

Es) X: Inizia da 11 e sottrai 1.

Y: Inizia da 4 e sottrai 1.

x: 11 10 9 8

y: 4 3 2 1

1) X: Inizia da 3 e aggiungi 3.

Y: Inizia da 12 e sottrai 3.

x: _____

y: _____

2) X: Inizia da 13 e sottrai 3.

Y: Inizia da 4 e aggiungi 2.

x: _____

y: _____

3) X: Inizia da 3 e aggiungi 2.

Y: Inizia da 9 e aggiungi 2.

x: _____

y: _____

4) X: Inizia da 12 e sottrai 1.

Y: Inizia da 8 e aggiungi 3.

x: _____

y: _____

5) X: Inizia da 12 e sottrai 2.

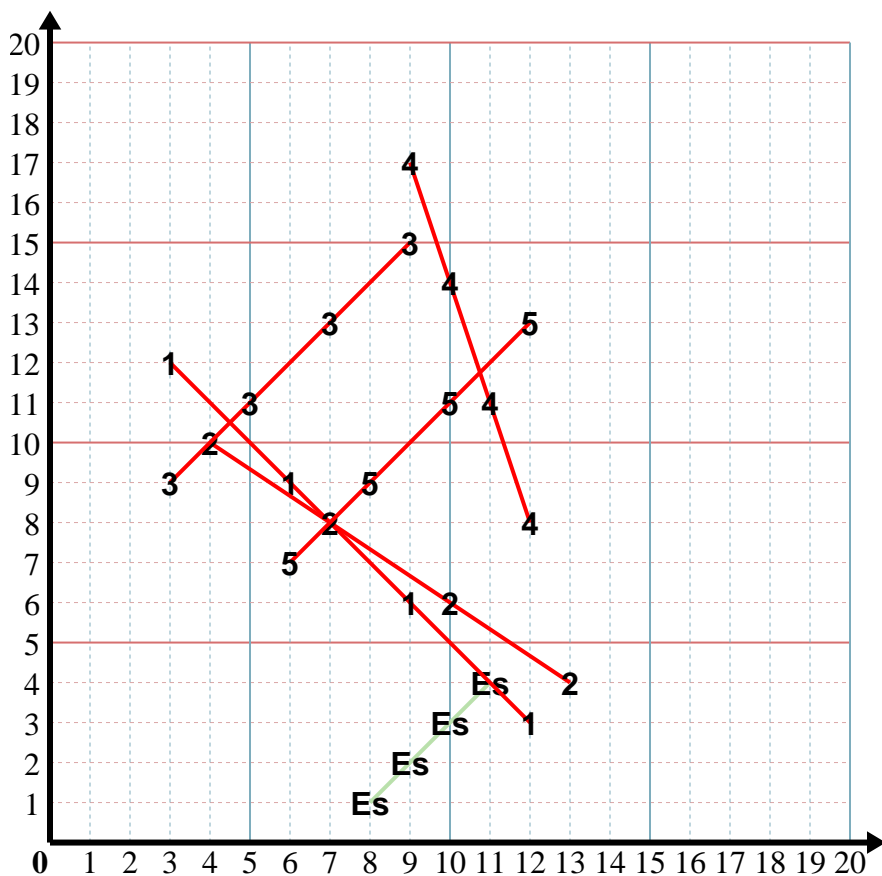
Y: Inizia da 13 e sottrai 2.

x: _____

y: _____



Inserisci nel modello e poi nel grafico le coppie di coordinate.

**Risposte**Es. (8.1)1. (12.3)2. (4.10)3. (9.15)4. (9.17)5. (6.7)

Es) X: Inizia da 11 e sottrai 1.

Y: Inizia da 4 e sottrai 1.

x: 11 10 9 8y: 4 3 2 1

1) X: Inizia da 3 e aggiungi 3.

Y: Inizia da 12 e sottrai 3.

x: 3 6 9 12y: 12 9 6 3

2) X: Inizia da 13 e sottrai 3.

Y: Inizia da 4 e aggiungi 2.

x: 13 10 7 4y: 4 6 8 10

3) X: Inizia da 3 e aggiungi 2.

Y: Inizia da 9 e aggiungi 2.

x: 3 5 7 9y: 9 11 13 15

4) X: Inizia da 12 e sottrai 1.

Y: Inizia da 8 e aggiungi 3.

x: 12 11 10 9y: 8 11 14 17

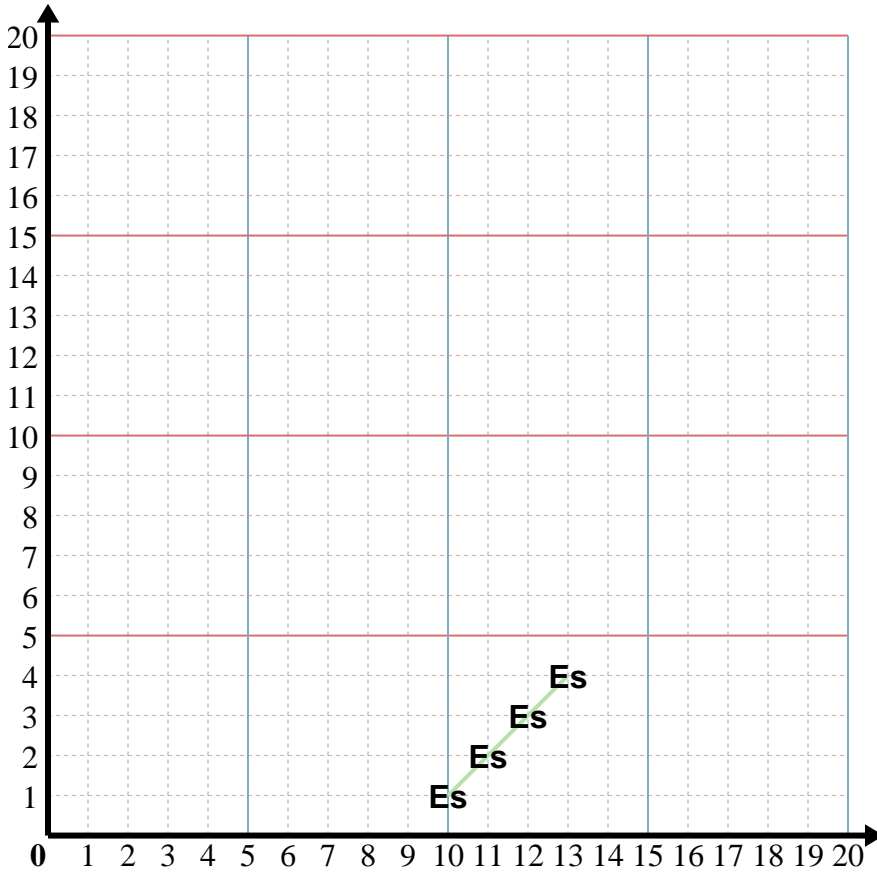
5) X: Inizia da 12 e sottrai 2.

Y: Inizia da 13 e sottrai 2.

x: 12 10 8 6y: 13 11 9 7



Inserisci nel modello e poi nel grafico le coppie di coordinate.



Risposte

Es. (10 . 1)

1. _____

2. _____

3. _____

4. _____

5. _____

Es) X: Inizia da 13 e sottrai 1.
 Y: Inizia da 4 e sottrai 1.
 x: 13 12 11 10
 y: 4 3 2 1

1) X: Inizia da 7 e aggiungi 2.
 Y: Inizia da 19 e sottrai 3.
 x: _____
 y: _____

2) X: Inizia da 5 e aggiungi 1.
 Y: Inizia da 1 e aggiungi 2.
 x: _____
 y: _____

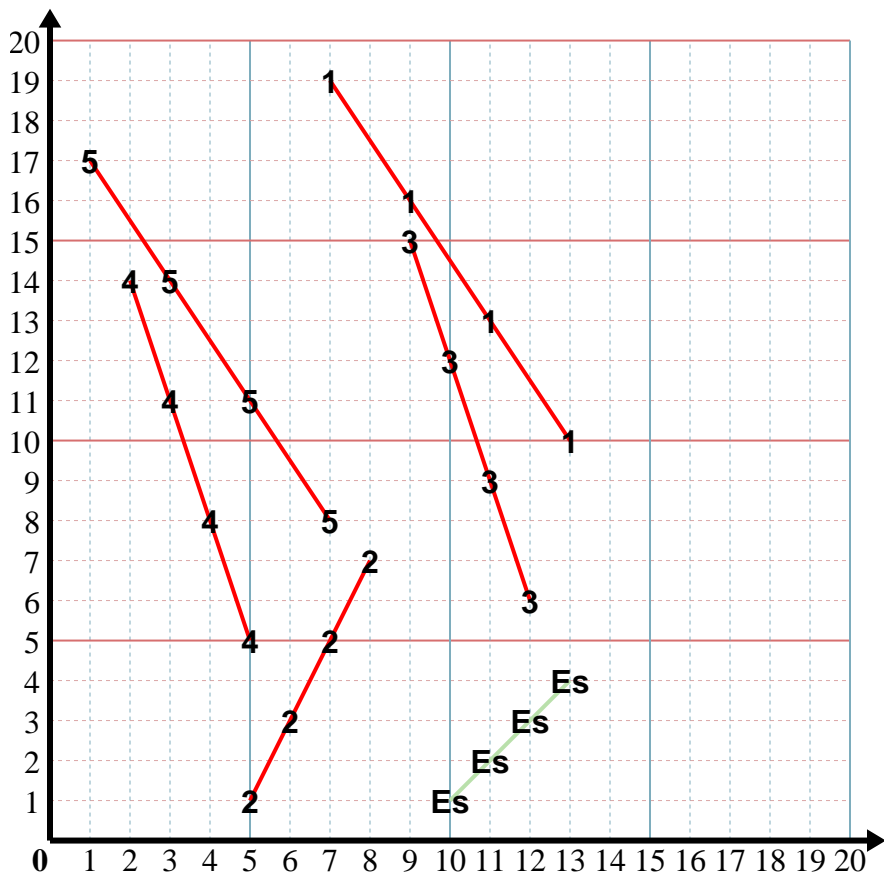
3) X: Inizia da 12 e sottrai 1.
 Y: Inizia da 6 e aggiungi 3.
 x: _____
 y: _____

4) X: Inizia da 5 e sottrai 1.
 Y: Inizia da 5 e aggiungi 3.
 x: _____
 y: _____

5) X: Inizia da 7 e sottrai 2.
 Y: Inizia da 8 e aggiungi 3.
 x: _____
 y: _____



Inserisci nel modello e poi nel grafico le coppie di coordinate.



Risposte

Es. (10 . 1)

1. (13 . 10)

2. (8 . 7)

3. (9 . 15)

4. (2 . 14)

5. (1 . 17)

Es) X: Inizia da 13 e sottrai 1.

Y: Inizia da 4 e sottrai 1.

x: 13 12 11 10

y: 4 3 2 1

1) X: Inizia da 7 e aggiungi 2.

Y: Inizia da 19 e sottrai 3.

x: 7 9 11 13

y: 19 16 13 10

2) X: Inizia da 5 e aggiungi 1.

Y: Inizia da 1 e aggiungi 2.

x: 5 6 7 8

y: 1 3 5 7

3) X: Inizia da 12 e sottrai 1.

Y: Inizia da 6 e aggiungi 3.

x: 12 11 10 9

y: 6 9 12 15

4) X: Inizia da 5 e sottrai 1.

Y: Inizia da 5 e aggiungi 3.

x: 5 4 3 2

y: 5 8 11 14

5) X: Inizia da 7 e sottrai 2.

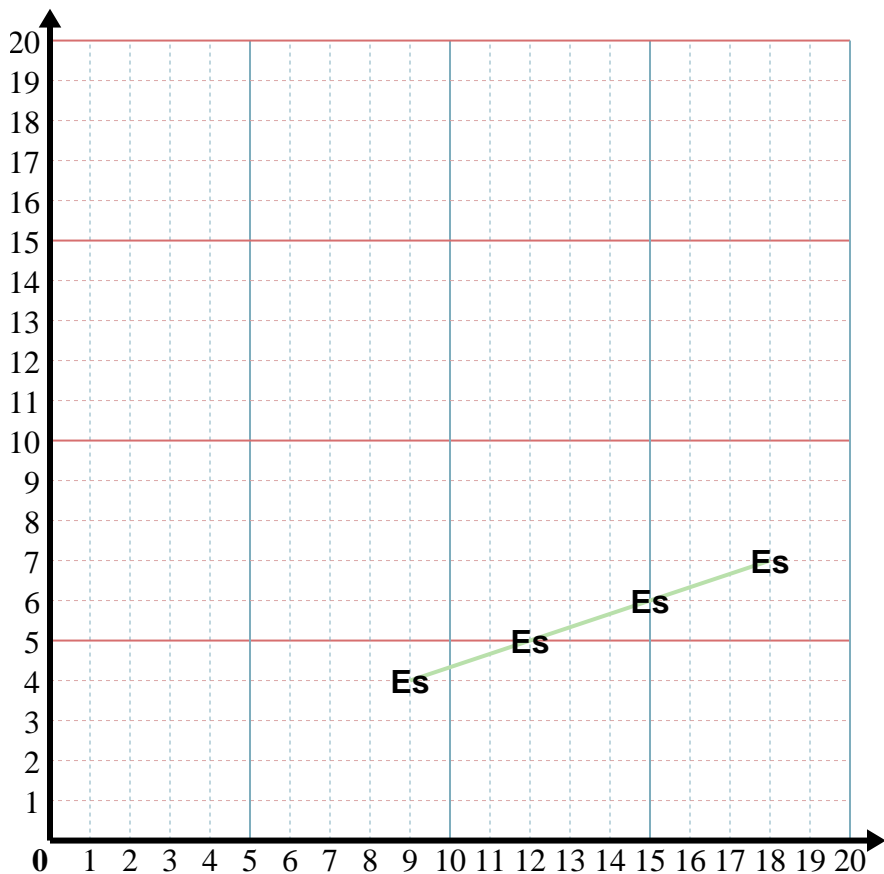
Y: Inizia da 8 e aggiungi 3.

x: 7 5 3 1

y: 8 11 14 17



Inserisci nel modello e poi nel grafico le coppie di coordinate.



Risposte

Es. (18 . 7)

1. _____

2. _____

3. _____

4. _____

5. _____

Es) X: Inizia da 9 e aggiungi 3.

Y: Inizia da 4 e aggiungi 1.

x: 9 12 15 18

y: 4 5 6 7

1) X: Inizia da 15 e sottrai 3.

Y: Inizia da 10 e sottrai 3.

x: _____

y: _____

2) X: Inizia da 2 e aggiungi 3.

Y: Inizia da 14 e sottrai 2.

x: _____

y: _____

3) X: Inizia da 1 e aggiungi 2.

Y: Inizia da 2 e aggiungi 1.

x: _____

y: _____

4) X: Inizia da 2 e aggiungi 1.

Y: Inizia da 9 e sottrai 2.

x: _____

y: _____

5) X: Inizia da 1 e aggiungi 2.

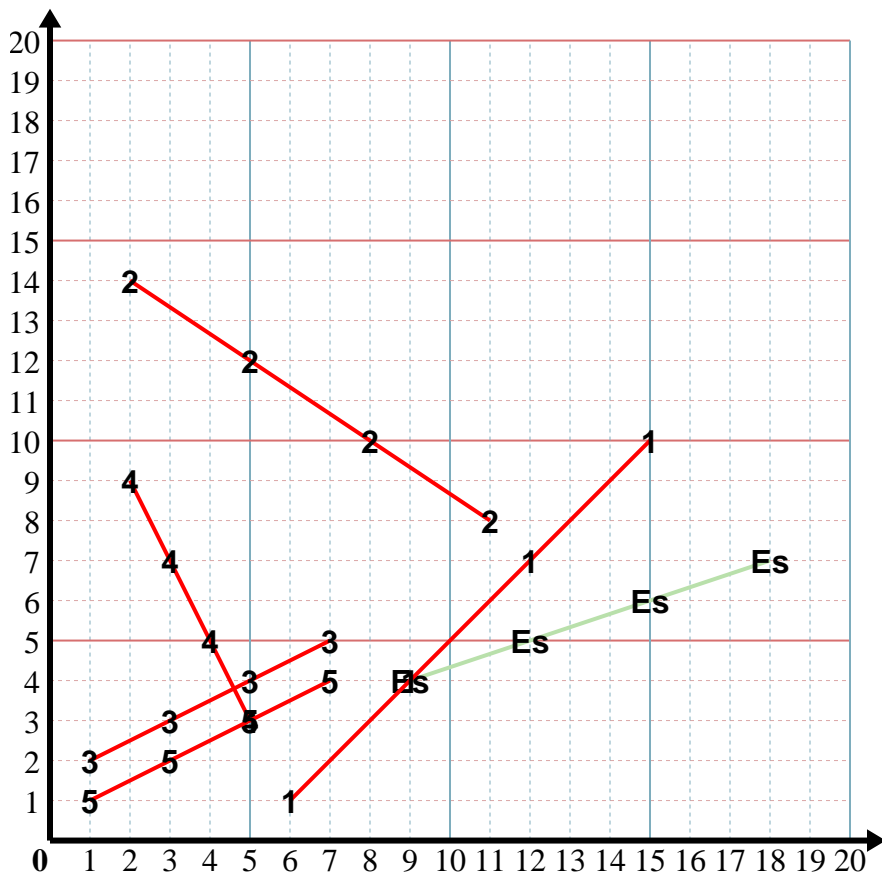
Y: Inizia da 1 e aggiungi 1.

x: _____

y: _____



Inserisci nel modello e poi nel grafico le coppie di coordinate.



Risposte

- Es. (18.7)
- 1. (6.1)
- 2. (11.8)
- 3. (7.5)
- 4. (5.3)
- 5. (7.4)

Es) X: Inizia da 9 e aggiungi 3.
 Y: Inizia da 4 e aggiungi 1.
 x: 9 12 15 18
 y: 4 5 6 7

1) X: Inizia da 15 e sottrai 3.
 Y: Inizia da 10 e sottrai 3.
 x: 15 12 9 6
 y: 10 7 4 1

2) X: Inizia da 2 e aggiungi 3.
 Y: Inizia da 14 e sottrai 2.
 x: 2 5 8 11
 y: 14 12 10 8

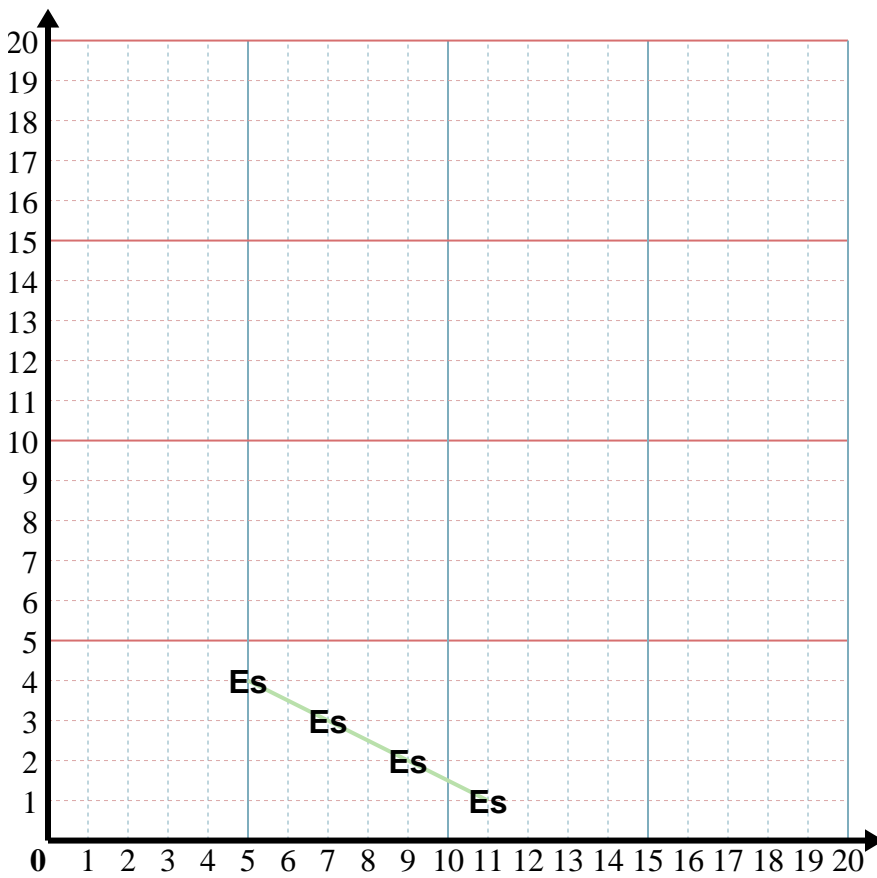
3) X: Inizia da 1 e aggiungi 2.
 Y: Inizia da 2 e aggiungi 1.
 x: 1 3 5 7
 y: 2 3 4 5

4) X: Inizia da 2 e aggiungi 1.
 Y: Inizia da 9 e sottrai 2.
 x: 2 3 4 5
 y: 9 7 5 3

5) X: Inizia da 1 e aggiungi 2.
 Y: Inizia da 1 e aggiungi 1.
 x: 1 3 5 7
 y: 1 2 3 4



Inserisci nel modello e poi nel grafico le coppie di coordinate.



Risposte

Es. (5.4)

1. _____

2. _____

3. _____

4. _____

5. _____

Es) X: Inizia da 11 e sottrai 2.
 Y: Inizia da 1 e aggiungi 1.
 x: 11 9 7 5
 y: 1 2 3 4

1) X: Inizia da 9 e aggiungi 2.
 Y: Inizia da 1 e aggiungi 1.
 x: _____
 y: _____

2) X: Inizia da 12 e sottrai 3.
 Y: Inizia da 11 e sottrai 2.
 x: _____
 y: _____

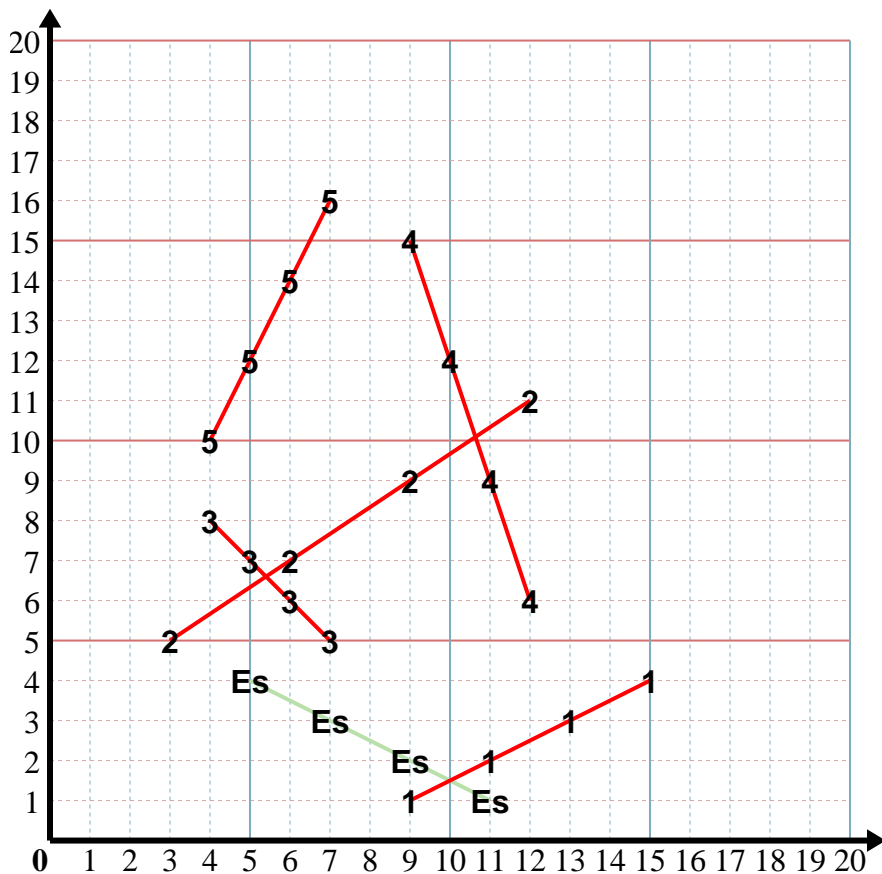
3) X: Inizia da 4 e aggiungi 1.
 Y: Inizia da 8 e sottrai 1.
 x: _____
 y: _____

4) X: Inizia da 9 e aggiungi 1.
 Y: Inizia da 15 e sottrai 3.
 x: _____
 y: _____

5) X: Inizia da 4 e aggiungi 1.
 Y: Inizia da 10 e aggiungi 2.
 x: _____
 y: _____



Inserisci nel modello e poi nel grafico le coppie di coordinate.



Risposte

Es. (5.4)

1. (15.4)

2. (3.5)

3. (7.5)

4. (12.6)

5. (7.16)

Es) X: Inizia da 11 e sottrai 2.
 Y: Inizia da 1 e aggiungi 1.
 x: 11 9 7 5
 y: 1 2 3 4

1) X: Inizia da 9 e aggiungi 2.
 Y: Inizia da 1 e aggiungi 1.
 x: 9 11 13 15
 y: 1 2 3 4

2) X: Inizia da 12 e sottrai 3.
 Y: Inizia da 11 e sottrai 2.
 x: 12 9 6 3
 y: 11 9 7 5

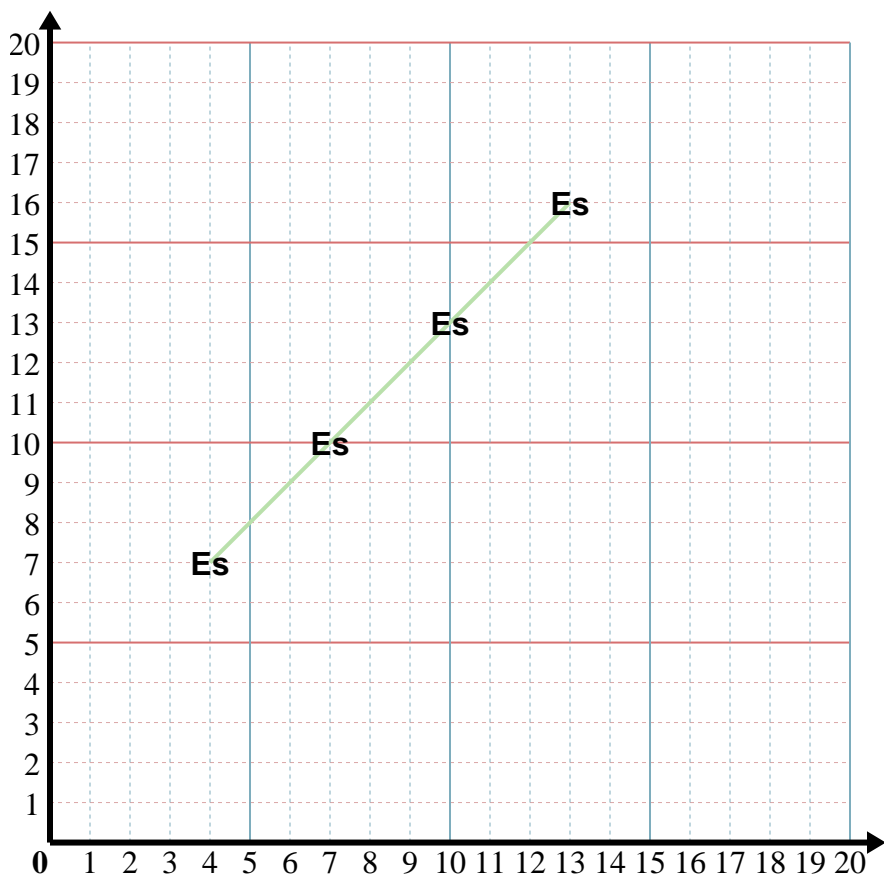
3) X: Inizia da 4 e aggiungi 1.
 Y: Inizia da 8 e sottrai 1.
 x: 4 5 6 7
 y: 8 7 6 5

4) X: Inizia da 9 e aggiungi 1.
 Y: Inizia da 15 e sottrai 3.
 x: 9 10 11 12
 y: 15 12 9 6

5) X: Inizia da 4 e aggiungi 1.
 Y: Inizia da 10 e aggiungi 2.
 x: 4 5 6 7
 y: 10 12 14 16



Inserisci nel modello e poi nel grafico le coppie di coordinate.



Risposte

Es. (4.7)

1. _____

2. _____

3. _____

4. _____

5. _____

Es) X: Inizia da 13 e sottrai 3.

Y: Inizia da 16 e sottrai 3.

x: 13 10 7 4

y: 16 13 10 7

1) X: Inizia da 16 e sottrai 2.

Y: Inizia da 3 e aggiungi 2.

x: _____

y: _____

2) X: Inizia da 7 e aggiungi 1.

Y: Inizia da 4 e aggiungi 2.

x: _____

y: _____

3) X: Inizia da 8 e sottrai 1.

Y: Inizia da 10 e sottrai 2.

x: _____

y: _____

4) X: Inizia da 7 e sottrai 1.

Y: Inizia da 10 e sottrai 3.

x: _____

y: _____

5) X: Inizia da 8 e aggiungi 1.

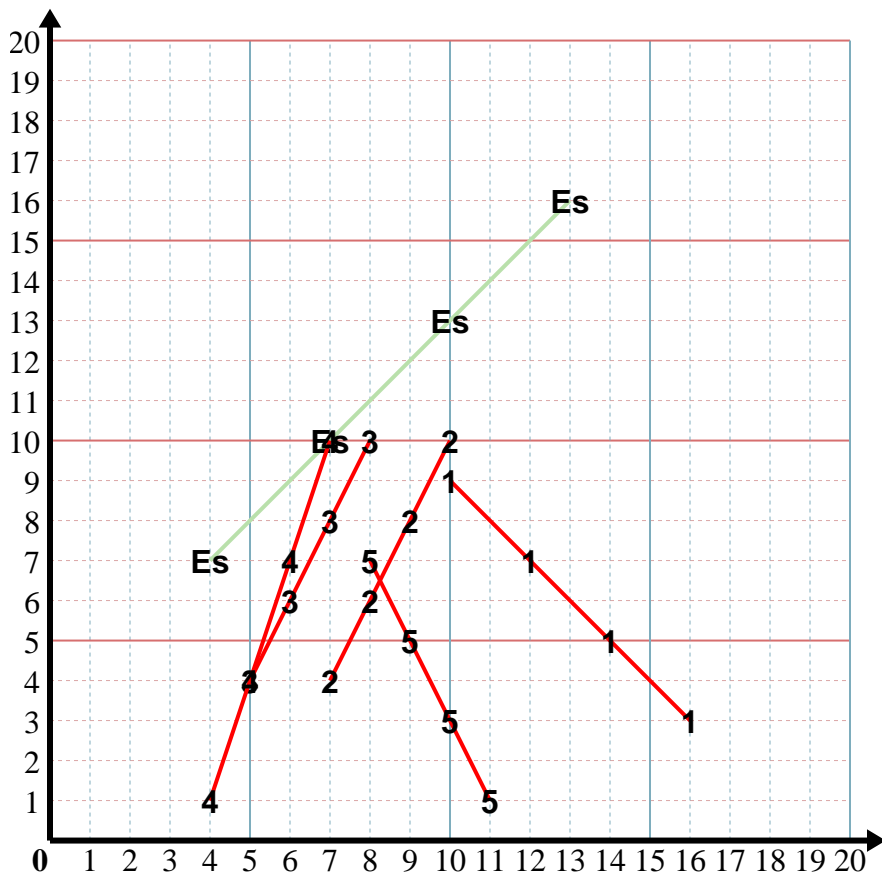
Y: Inizia da 7 e sottrai 2.

x: _____

y: _____



Inserisci nel modello e poi nel grafico le coppie di coordinate.



Risposte

Es. (4.7)

1. (10.9)

2. (10.10)

3. (5.4)

4. (4.1)

5. (11.1)

Es) X: Inizia da 13 e sottrai 3.

Y: Inizia da 16 e sottrai 3.

x: 13 10 7 4

y: 16 13 10 7

1) X: Inizia da 16 e sottrai 2.

Y: Inizia da 3 e aggiungi 2.

x: 16 14 12 10

y: 3 5 7 9

2) X: Inizia da 7 e aggiungi 1.

Y: Inizia da 4 e aggiungi 2.

x: 7 8 9 10

y: 4 6 8 10

3) X: Inizia da 8 e sottrai 1.

Y: Inizia da 10 e sottrai 2.

x: 8 7 6 5

y: 10 8 6 4

4) X: Inizia da 7 e sottrai 1.

Y: Inizia da 10 e sottrai 3.

x: 7 6 5 4

y: 10 7 4 1

5) X: Inizia da 8 e aggiungi 1.

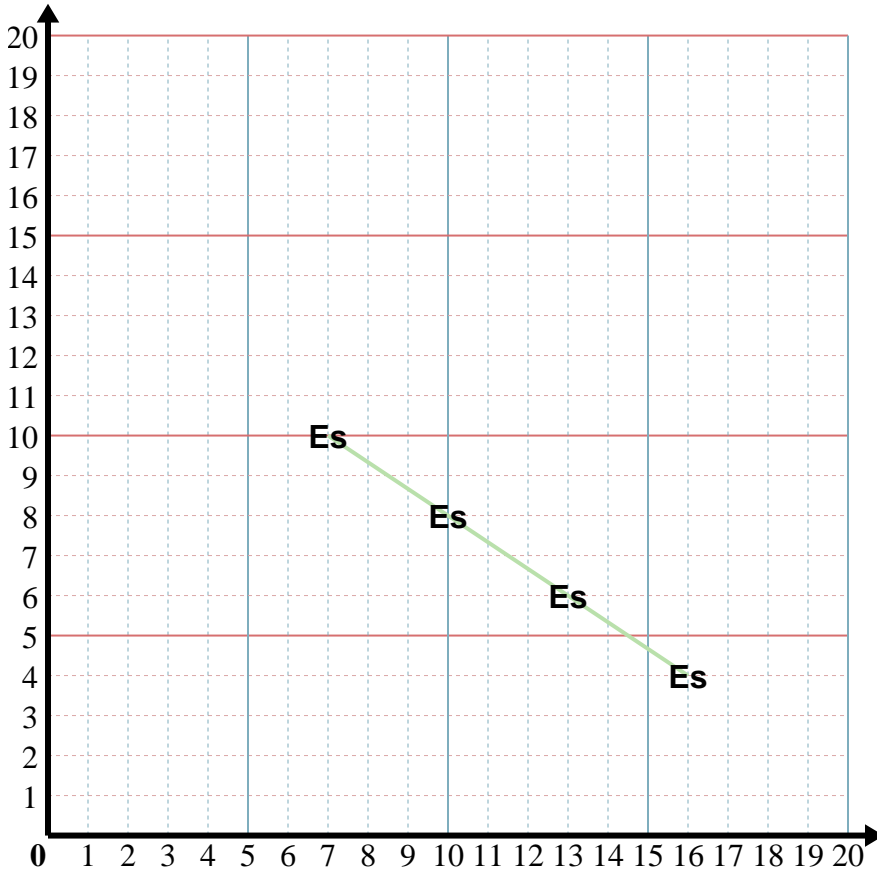
Y: Inizia da 7 e sottrai 2.

x: 8 9 10 11

y: 7 5 3 1



Inserisci nel modello e poi nel grafico le coppie di coordinate.



Risposte

Es. (7 . 10)

1. _____

2. _____

3. _____

4. _____

5. _____

Es) X: Inizia da 16 e sottrai 3.
 Y: Inizia da 4 e aggiungi 2.
 x: 16 13 10 7
 y: 4 6 8 10

1) X: Inizia da 11 e sottrai 3.
 Y: Inizia da 15 e sottrai 2.
 x: _____
 y: _____

2) X: Inizia da 16 e sottrai 3.
 Y: Inizia da 4 e aggiungi 2.
 x: _____
 y: _____

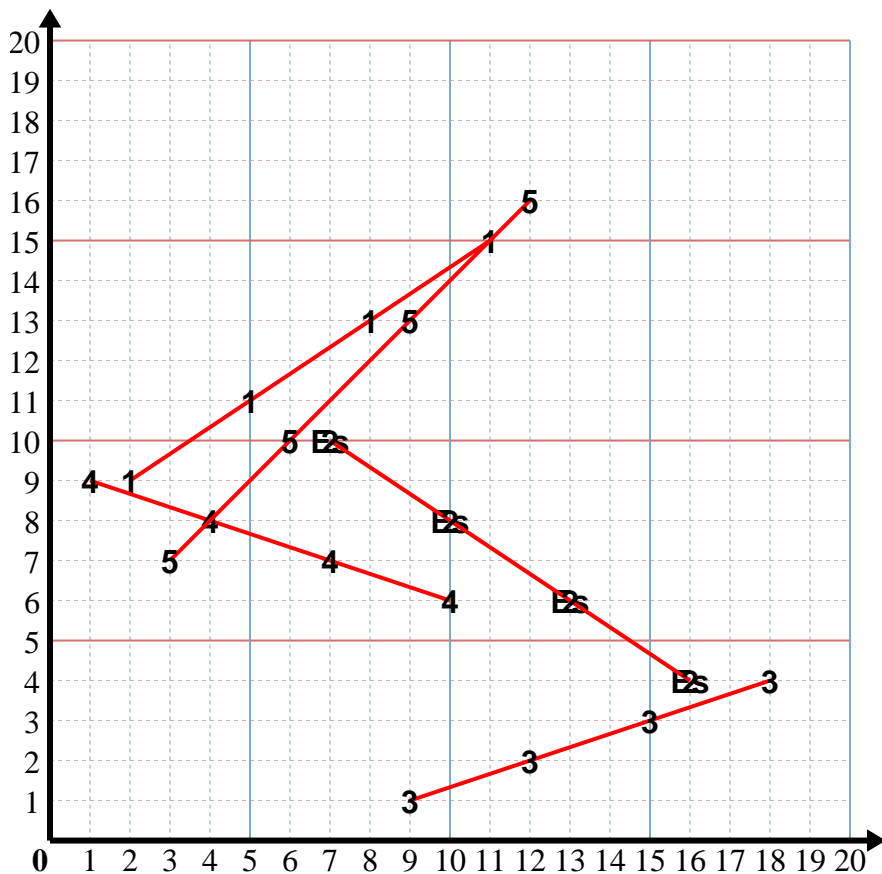
3) X: Inizia da 9 e aggiungi 3.
 Y: Inizia da 1 e aggiungi 1.
 x: _____
 y: _____

4) X: Inizia da 10 e sottrai 3.
 Y: Inizia da 6 e aggiungi 1.
 x: _____
 y: _____

5) X: Inizia da 12 e sottrai 3.
 Y: Inizia da 16 e sottrai 3.
 x: _____
 y: _____



Inserisci nel modello e poi nel grafico le coppie di coordinate.

**Risposte**Es. (7.10)1. (2.9)2. (7.10)3. (18.4)4. (1.9)5. (3.7)

Es) X: Inizia da 16 e sottrai 3.
Y: Inizia da 4 e aggiungi 2.

x: 16 13 10 7
y: 4 6 8 10

1) X: Inizia da 11 e sottrai 3.
Y: Inizia da 15 e sottrai 2.

x: 11 8 5 2
y: 15 13 11 9

2) X: Inizia da 16 e sottrai 3.
Y: Inizia da 4 e aggiungi 2.

x: 16 13 10 7
y: 4 6 8 10

3) X: Inizia da 9 e aggiungi 3.
Y: Inizia da 1 e aggiungi 1.

x: 9 12 15 18
y: 1 2 3 4

4) X: Inizia da 10 e sottrai 3.
Y: Inizia da 6 e aggiungi 1.

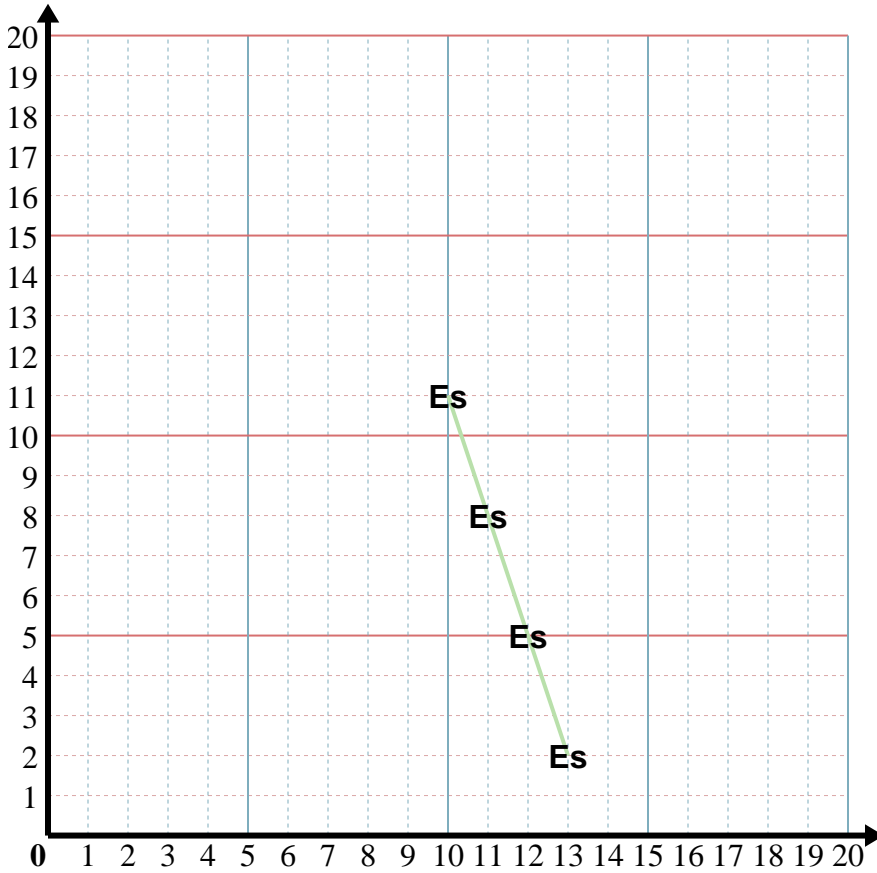
x: 10 7 4 1
y: 6 7 8 9

5) X: Inizia da 12 e sottrai 3.
Y: Inizia da 16 e sottrai 3.

x: 12 9 6 3
y: 16 13 10 7



Inserisci nel modello e poi nel grafico le coppie di coordinate.



Risposte

Es. (10 . 11)

1. _____

2. _____

3. _____

4. _____

5. _____

Es) X: Inizia da 13 e sottrai 1.
 Y: Inizia da 2 e aggiungi 3.
 x: 13 12 11 10
 y: 2 5 8 11

1) X: Inizia da 3 e aggiungi 1.
 Y: Inizia da 15 e sottrai 3.
 x: _____
 y: _____

2) X: Inizia da 4 e aggiungi 2.
 Y: Inizia da 9 e aggiungi 3.
 x: _____
 y: _____

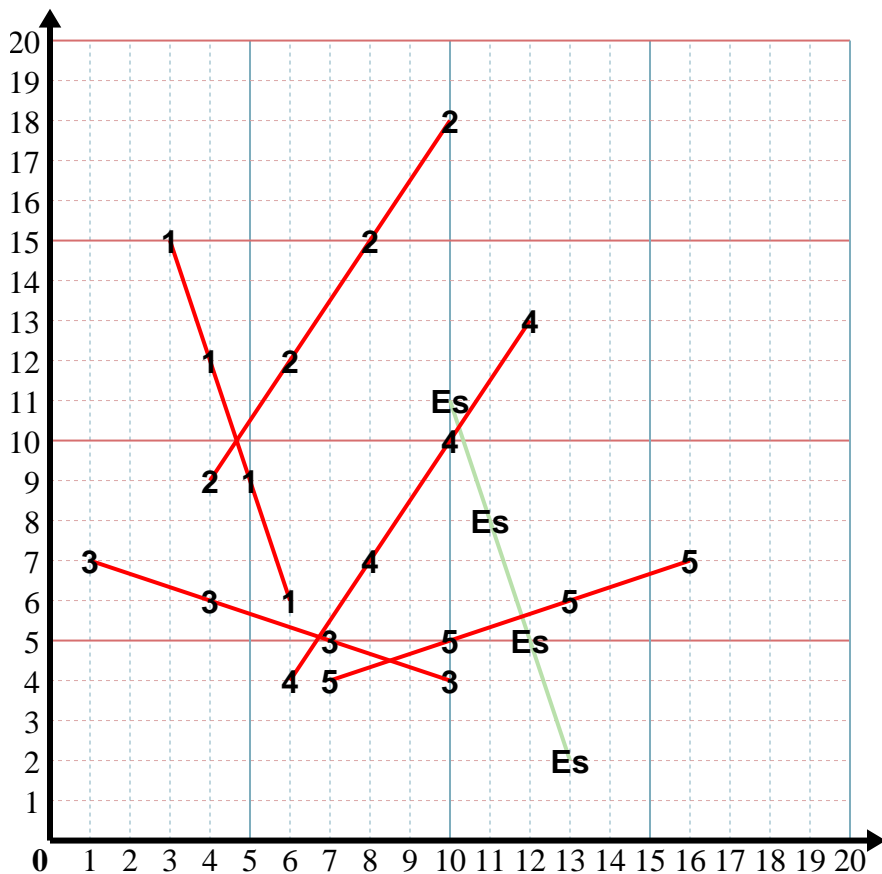
3) X: Inizia da 10 e sottrai 3.
 Y: Inizia da 4 e aggiungi 1.
 x: _____
 y: _____

4) X: Inizia da 12 e sottrai 2.
 Y: Inizia da 13 e sottrai 3.
 x: _____
 y: _____

5) X: Inizia da 7 e aggiungi 3.
 Y: Inizia da 4 e aggiungi 1.
 x: _____
 y: _____



Inserisci nel modello e poi nel grafico le coppie di coordinate.



Risposte

Es. (10.11)

1. (6.6)

2. (10.18)

3. (1.7)

4. (6.4)

5. (16.7)

Es) X: Inizia da 13 e sottrai 1.
 Y: Inizia da 2 e aggiungi 3.
 x: 13 12 11 10
 y: 2 5 8 11

1) X: Inizia da 3 e aggiungi 1.
 Y: Inizia da 15 e sottrai 3.
 x: 3 4 5 6
 y: 15 12 9 6

2) X: Inizia da 4 e aggiungi 2.
 Y: Inizia da 9 e aggiungi 3.
 x: 4 6 8 10
 y: 9 12 15 18

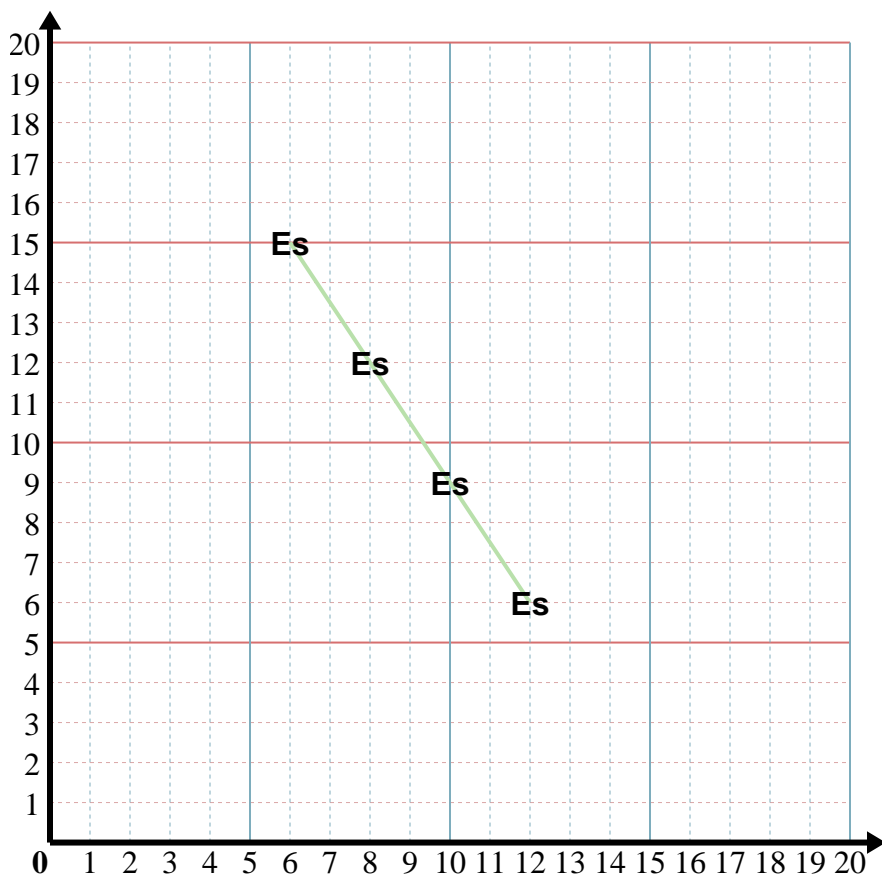
3) X: Inizia da 10 e sottrai 3.
 Y: Inizia da 4 e aggiungi 1.
 x: 10 7 4 1
 y: 4 5 6 7

4) X: Inizia da 12 e sottrai 2.
 Y: Inizia da 13 e sottrai 3.
 x: 12 10 8 6
 y: 13 10 7 4

5) X: Inizia da 7 e aggiungi 3.
 Y: Inizia da 4 e aggiungi 1.
 x: 7 10 13 16
 y: 4 5 6 7



Inserisci nel modello e poi nel grafico le coppie di coordinate.



Risposte

Es. (12 . 6)

1. _____

2. _____

3. _____

4. _____

5. _____

Es) X: Inizia da 6 e aggiungi 2.

Y: Inizia da 15 e sottrai 3.

x: 6 8 10 12

y: 15 12 9 6

1) X: Inizia da 8 e aggiungi 2.

Y: Inizia da 10 e aggiungi 3.

x: _____

y: _____

2) X: Inizia da 2 e aggiungi 1.

Y: Inizia da 5 e sottrai 1.

x: _____

y: _____

3) X: Inizia da 8 e sottrai 1.

Y: Inizia da 5 e aggiungi 3.

x: _____

y: _____

4) X: Inizia da 17 e sottrai 3.

Y: Inizia da 1 e aggiungi 2.

x: _____

y: _____

5) X: Inizia da 18 e sottrai 3.

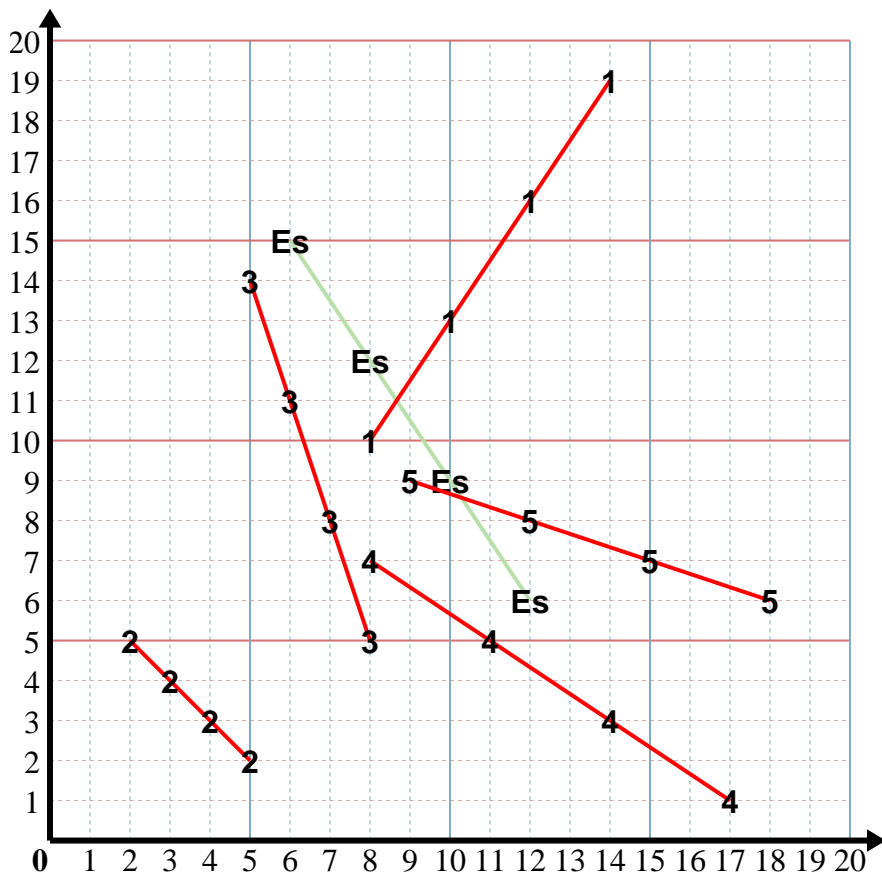
Y: Inizia da 6 e aggiungi 1.

x: _____

y: _____



Inserisci nel modello e poi nel grafico le coppie di coordinate.



Risposte

Es. (12.6)

1. (14.19)

2. (5.2)

3. (5.14)

4. (8.7)

5. (9.9)

Es) X: Inizia da 6 e aggiungi 2.

Y: Inizia da 15 e sottrai 3.

x: 6 8 10 12

y: 15 12 9 6

1) X: Inizia da 8 e aggiungi 2.

Y: Inizia da 10 e aggiungi 3.

x: 8 10 12 14

y: 10 13 16 19

2) X: Inizia da 2 e aggiungi 1.

Y: Inizia da 5 e sottrai 1.

x: 2 3 4 5

y: 5 4 3 2

3) X: Inizia da 8 e sottrai 1.

Y: Inizia da 5 e aggiungi 3.

x: 8 7 6 5

y: 5 8 11 14

4) X: Inizia da 17 e sottrai 3.

Y: Inizia da 1 e aggiungi 2.

x: 17 14 11 8

y: 1 3 5 7

5) X: Inizia da 18 e sottrai 3.

Y: Inizia da 6 e aggiungi 1.

x: 18 15 12 9

y: 6 7 8 9