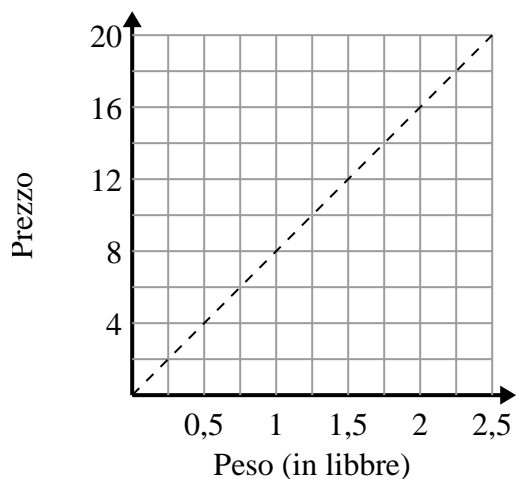




Determina quali affermazioni sul grafico sono vere.

Risposte

1)



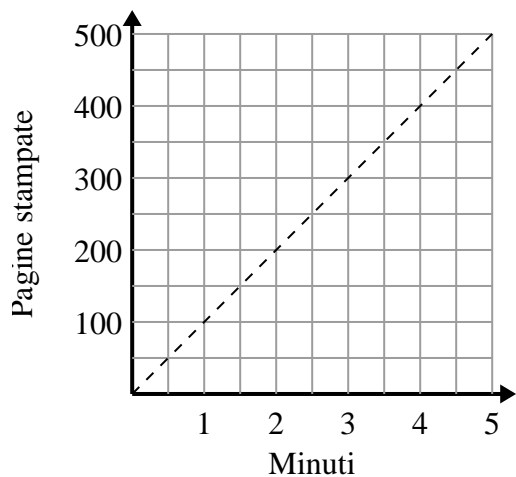
- A. Il punto $(0.75, 6)$ mostra che 0.75 sterline costerà \$6.
- B. Il punto $(0.25, 2)$ mostra che costerebbe \$2 per 0.25 sterline.
- C. Il punto $(6, 0.75)$ mostra che costerebbe \$6 per 0.75 sterline.
- D. Il punto $(12, 1.5)$ mostra che costerebbe \$12 per 1.5 sterline.

1. _____

2. _____

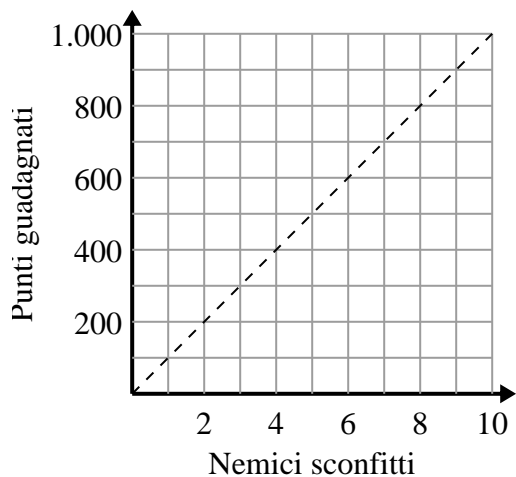
3. _____

2)



- A. Il punto $(150, 1.5)$ mostra che occorrono 1.5 minuti per stampare 150 pagine.
- B. Il punto $(450, 4.5)$ mostra che la stampa di 450 pagine richiederà 4.5 minuti.
- C. Il punto $(1, 100)$ mostra che la stampa di 100 pagine richiederà 1 minuti.
- D. Il punto $(1.5, 150)$ mostra che la stampa di 150 pagine richiederà 1.5 minuti.

3)



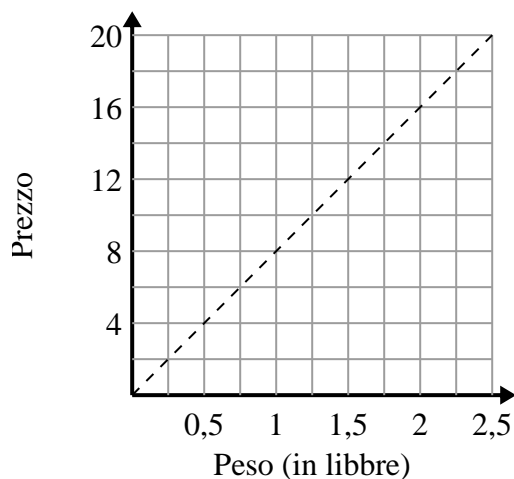
- A. Il punto $(600, 6)$ mostra che sconfiggere 6 nemici ti farà guadagnare 600 punti.
- B. Il punto $(6, 600)$ mostra che guadagneresti 600 punti per aver sconfitto 6 nemici.
- C. Il punto $(500, 5)$ mostra che guadagneresti 500 punti per aver sconfitto 5 nemici.
- D. Il punto $(9, 900)$ mostra che sconfiggere 9 nemici ti farà guadagnare 900 punti.



Determina quali affermazioni sul grafico sono vere.

Risposte

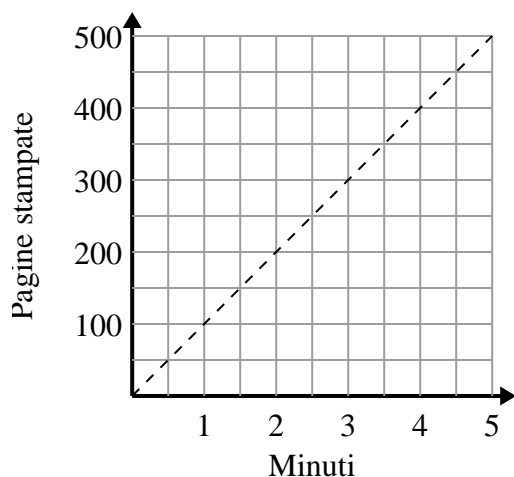
1)



- A. Il punto $(0.75, 6)$ mostra che 0.75 sterline costerà \$6.
- B. Il punto $(0.25, 2)$ mostra che costerebbe \$2 per 0.25 sterline.
- C. Il punto $(6, 0.75)$ mostra che costerebbe \$6 per 0.75 sterline.
- D. Il punto $(12, 1.5)$ mostra che costerebbe \$12 per 1.5 sterline.

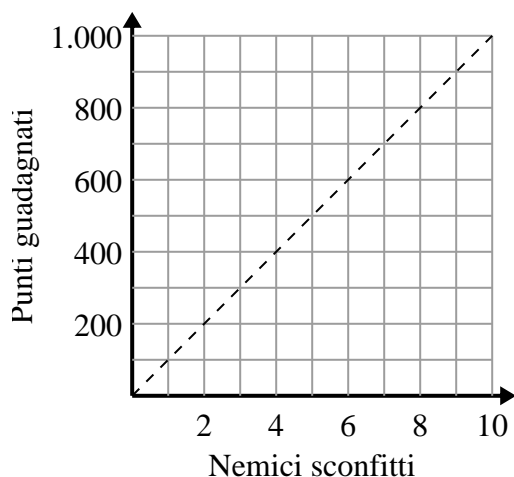
1. **A,B**2. **C,D**3. **B,D**

2)



- A. Il punto $(150, 1.5)$ mostra che occorrono 1.5 minuti per stampare 150 pagine.
- B. Il punto $(450, 4.5)$ mostra che la stampa di 450 pagine richiederà 4.5 minuti.
- C. Il punto $(1, 100)$ mostra che la stampa di 100 pagine richiederà 1 minuti.
- D. Il punto $(1.5, 150)$ mostra che la stampa di 150 pagine richiederà 1.5 minuti.

3)



- A. Il punto $(600, 6)$ mostra che sconfiggere 6 nemici ti farà guadagnare 600 punti.
- B. Il punto $(6, 600)$ mostra che guadagneresti 600 punti per aver sconfitto 6 nemici.
- C. Il punto $(500, 5)$ mostra che guadagneresti 500 punti per aver sconfitto 5 nemici.
- D. Il punto $(9, 900)$ mostra che sconfiggere 9 nemici ti farà guadagnare 900 punti.