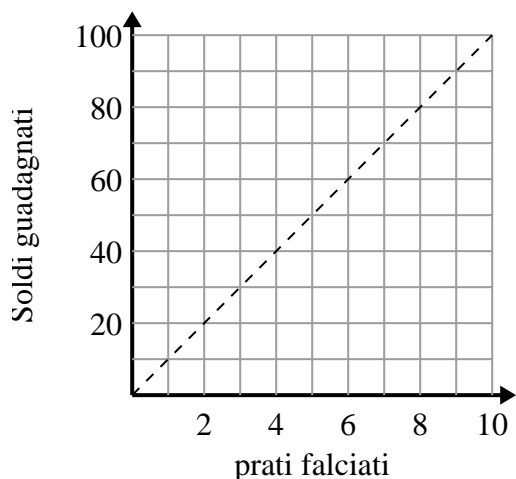




Determina quali affermazioni sul grafico sono vere.

**Risposte**

1)



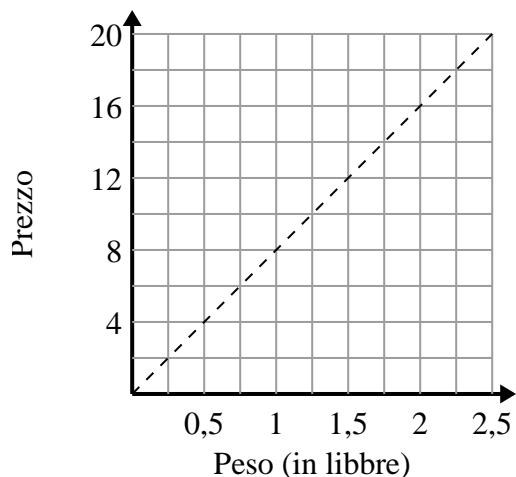
- A. Il punto (90 , 9) mostra che la falciatura di prati 9 ti farà guadagnare \$90.
- B. Il punto (10 , 1) mostra che guadagneresti \$10 tagliando 1 Prato.
- C. Il punto (8 , 80) mostra che la falciatura di prati 8 ti farà guadagnare \$80.
- D. Il punto (1 , 10) mostra che la falciatura di Prato 1 ti farà guadagnare \$10.

1. \_\_\_\_\_

2. \_\_\_\_\_

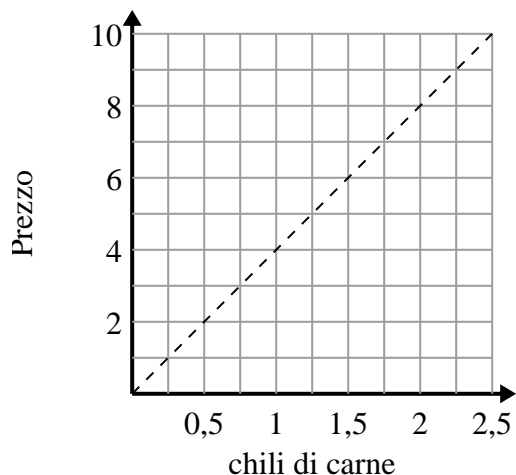
3. \_\_\_\_\_

2)



- A. Il punto (1.75 , 14) mostra che costerebbe \$14 per 1.75 sterline.
- B. Il punto (2 , 16) mostra che 2 sterline costerà \$16.
- C. Il punto (4 , 0.5) mostra che 0.5 sterline costerà \$4.
- D. Il punto (6 , 0.75) mostra che costerebbe \$6 per 0.75 sterline.

3)



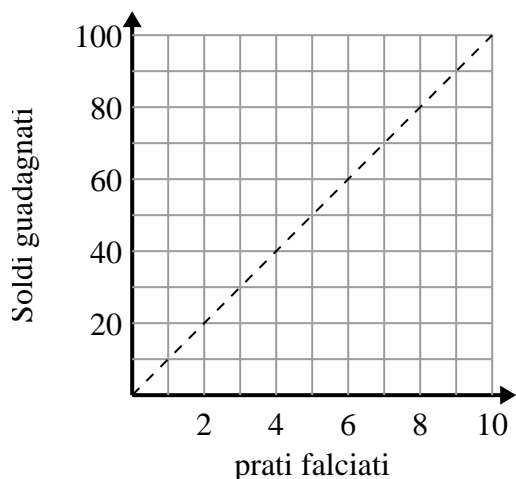
- A. Il punto (8 , 2) mostra che \$8 ti comprerà 2 libbre di carne.
- B. Il punto (4 , 1) mostra che l'acquisto di 1 libbre di carne costerà \$4.
- C. Il punto (3 , 0.75) mostra che l'acquisto di 0.75 libbre di carne costerà \$3.
- D. Il punto (0.75 , 3) mostra che \$3 ti comprerà 0.75 libbre di carne.



Determina quali affermazioni sul grafico sono vere.

**Risposte**

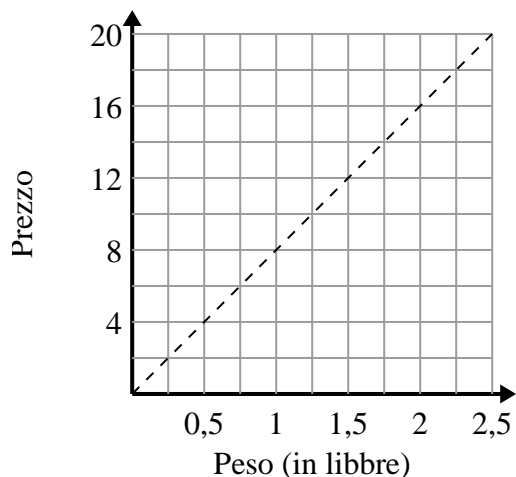
1)



- A. Il punto (90 , 9) mostra che la falciatura di prati 9 ti farà guadagnare \$90.
- B. Il punto (10 , 1) mostra che guadagneresti \$10 tagliando 1 Prato.
- C. Il punto (8 , 80) mostra che la falciatura di prati 8 ti farà guadagnare \$80.
- D. Il punto (1 , 10) mostra che la falciatura di Prato 1 ti farà guadagnare \$10.

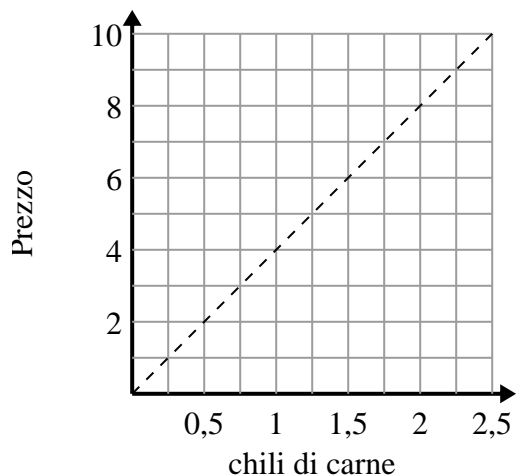
1. **C,D**2. **A,B**3. **D**

2)



- A. Il punto (1.75 , 14) mostra che costerebbe \$14 per 1.75 sterline.
- B. Il punto (2 , 16) mostra che 2 sterline costerà \$16.
- C. Il punto (4 , 0.5) mostra che 0.5 sterline costerà \$4.
- D. Il punto (6 , 0.75) mostra che costerebbe \$6 per 0.75 sterline.

3)



- A. Il punto (8 , 2) mostra che \$8 ti comprerà 2 libbre di carne.
- B. Il punto (4 , 1) mostra che l'acquisto di 1 libbre di carne costerà \$4.
- C. Il punto (3 , 0.75) mostra che l'acquisto di 0.75 libbre di carne costerà \$3.
- D. Il punto (0.75 , 3) mostra che \$3 ti comprerà 0.75 libbre di carne.