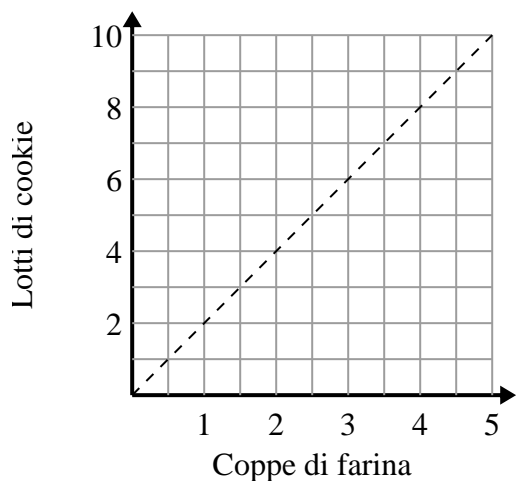




Determina quali affermazioni sul grafico sono vere.

Risposte

1)



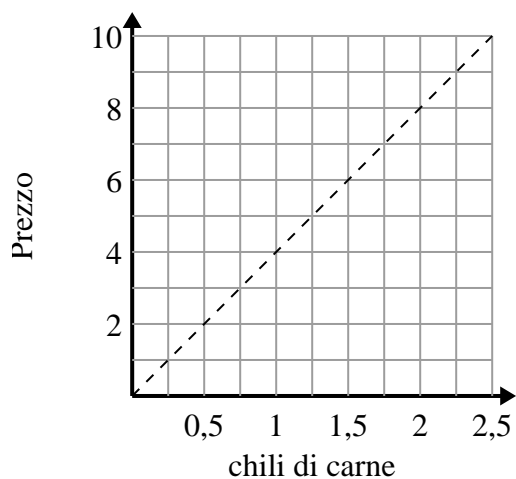
- A. Il punto (8 , 4) mostra che 8 lotti di biscotti richiedono 4 tazze di farina.
- B. Il punto (3 , 1.5) mostra che 1.5 tazze di farina produrranno 3 lotti di biscotti.
- C. Il punto (1 , 2) mostra che 2 lotti di biscotti richiedono 1 tazze di farina.
- D. Il punto (1 , 0.5) mostra che 0.5 tazza di farina produrranno 1 lotto di biscotti.

1. _____

2. _____

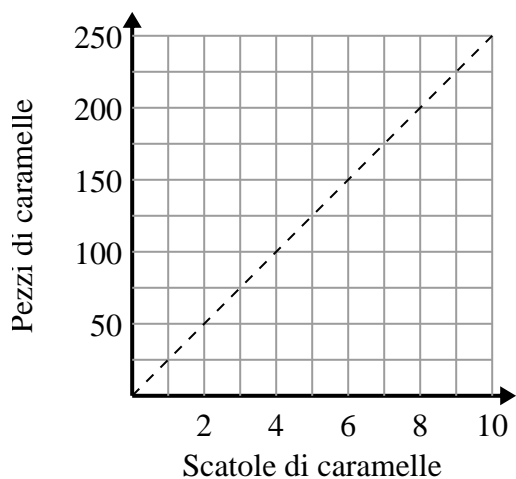
3. _____

2)



- A. Il punto (2 , 0.5) mostra che \$2 ti comprerà 0.5 libbre di carne.
- B. Il punto (1.75 , 7) mostra che l'acquisto di 1.75 libbre di carne costerà \$7.
- C. Il punto (0.75 , 3) mostra che \$3 ti comprerà 0.75 libbre di carne.
- D. Il punto (6 , 1.5) mostra che \$6 ti comprerà 1.5 libbre di carne.

3)



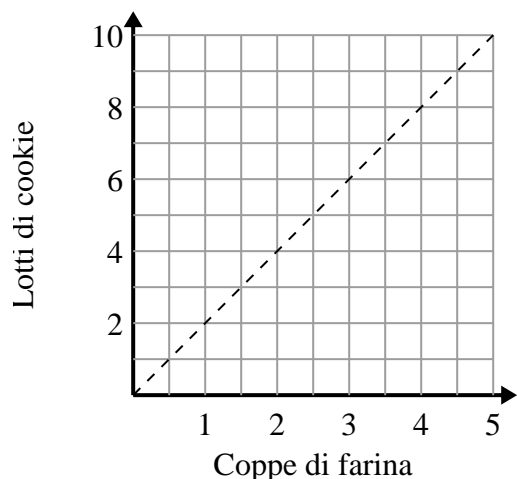
- A. Il punto (200 , 8) mostra che ottieni 200 pezzi di caramelle in scatole 8.
- B. Il punto (50 , 2) mostra che 2 scatole di caramelle contengono 50 pezzi di caramelle.
- C. Il punto (1 , 25) mostra che ottieni 25 pezzi di caramelle in scatola 1.
- D. Il punto (7 , 175) mostra che ottieni 175 pezzi di caramelle in scatole 7.



Determina quali affermazioni sul grafico sono vere.

Risposte

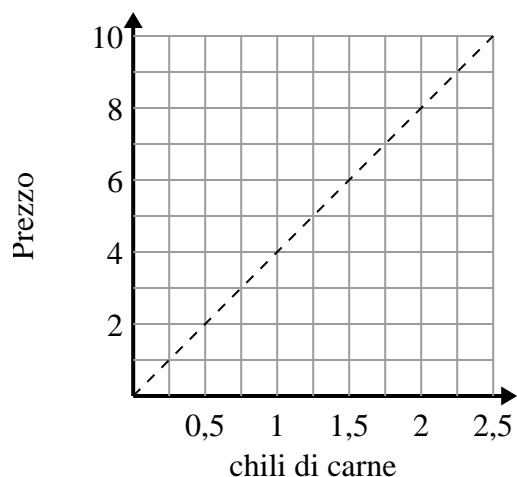
1)



- A. Il punto (8 , 4) mostra che 8 lotti di biscotti richiedono 4 tazze di farina.
- B. Il punto (3 , 1.5) mostra che 1.5 tazze di farina produrranno 3 lotti di biscotti.
- C. Il punto (1 , 2) mostra che 2 lotti di biscotti richiedono 1 tazze di farina.
- D. Il punto (1 , 0.5) mostra che 0.5 tazza di farina produrranno 1 lotto di biscotti.

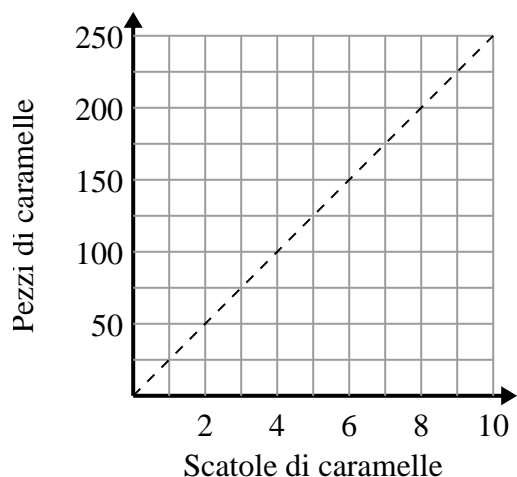
1. **C**2. **B,C**3. **C,D**

2)



- A. Il punto (2 , 0.5) mostra che \$2 ti comprerà 0.5 libbre di carne.
- B. Il punto (1.75 , 7) mostra che l'acquisto di 1.75 libbre di carne costerà \$7.
- C. Il punto (0.75 , 3) mostra che \$3 ti comprerà 0.75 libbre di carne.
- D. Il punto (6 , 1.5) mostra che \$6 ti comprerà 1.5 libbre di carne.

3)



- A. Il punto (200 , 8) mostra che ottieni 200 pezzi di caramelle in scatole 8.
- B. Il punto (50 , 2) mostra che 2 scatole di caramelle contengono 50 pezzi di caramelle.
- C. Il punto (1 , 25) mostra che ottieni 25 pezzi di caramelle in scatola 1.
- D. Il punto (7 , 175) mostra che ottieni 175 pezzi di caramelle in scatole 7.