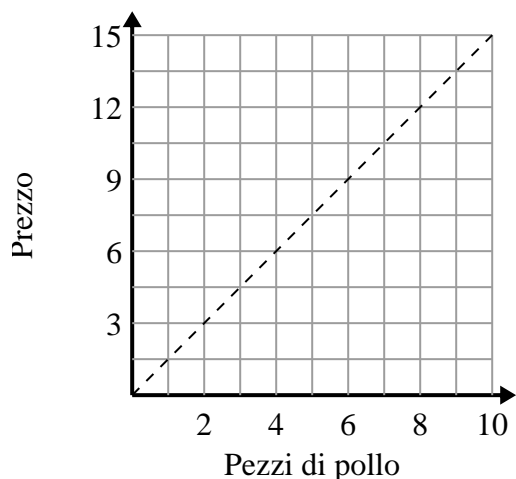




Determina quali affermazioni sul grafico sono vere.

**Risposte**

1)



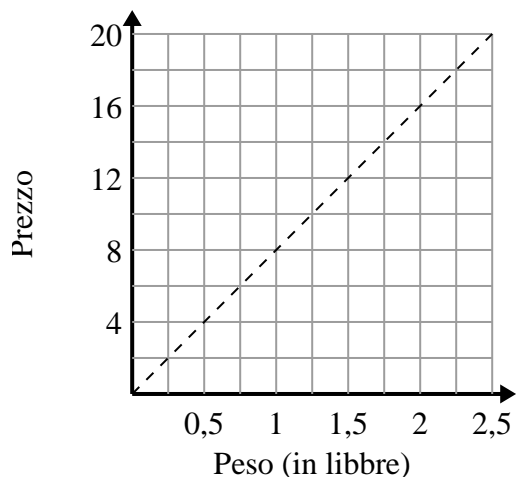
- A. Il punto (3 , 4.5) mostra che con \$4.5 puoi acquistare 3 pezzi di pollo.
- B. Il punto (8 , 12) mostra che con \$12 puoi acquistare 8 pezzi di pollo.
- C. Il punto (9 , 13.5) mostra che 9 pezzi di pollo costeranno \$13.5.
- D. Il punto (10.5 , 7) mostra che con \$10.5 puoi acquistare 7 pezzi di pollo.

1. \_\_\_\_\_

2. \_\_\_\_\_

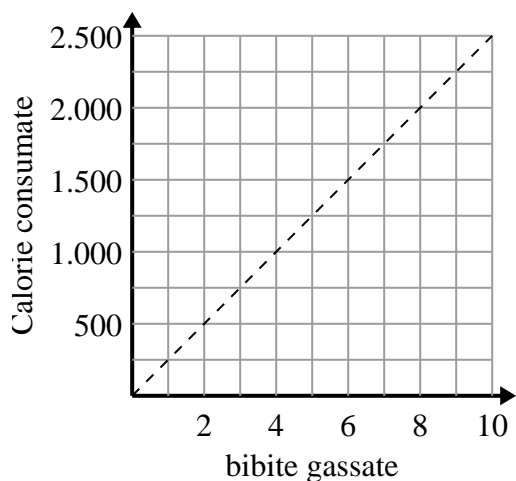
3. \_\_\_\_\_

2)



- A. Il punto (10 , 1.25) mostra che 1.25 sterline costerà \$10.
- B. Il punto (1 , 8) mostra che 1 sterline costerà \$8.
- C. Il punto (2 , 16) mostra che costerebbe \$16 per 2 sterline.
- D. Il punto (14 , 1.75) mostra che 1.75 sterline costerà \$14.

3)



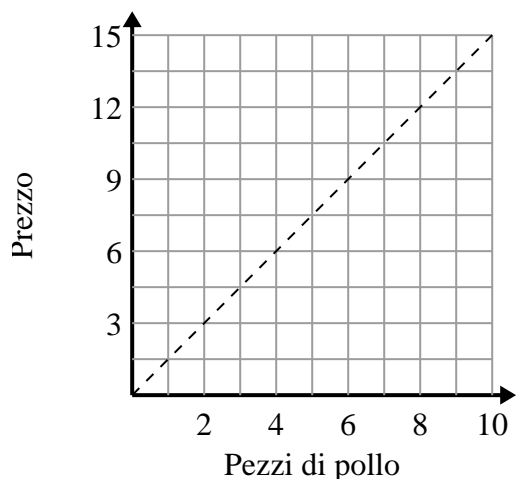
- A. Il punto (1250 , 5) mostra che per consumare 1250 calorie dovresti bere 5 bibite.
- B. Il punto (3 , 750) mostra che per consumare 750 calorie dovresti bere 3 bibite.
- C. Il punto (500 , 2) mostra che per consumare 500 calorie dovresti bere 2 bibite.
- D. Il punto (5 , 1250) mostra che per consumare 1250 calorie dovresti bere 5 bibite.



Determina quali affermazioni sul grafico sono vere.

**Risposte**

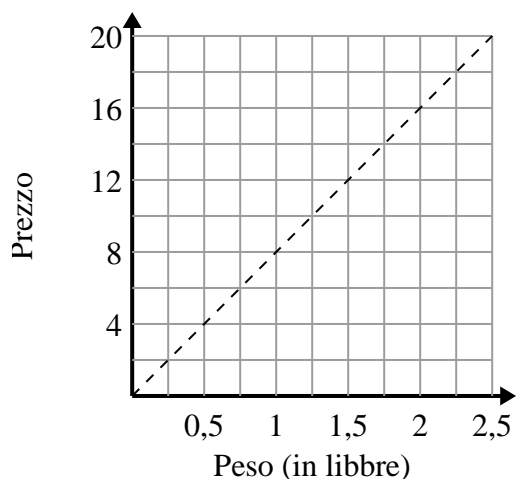
1)



- A. Il punto (3 , 4.5) mostra che con \$4.5 puoi acquistare 3 pezzi di pollo.
- B. Il punto (8 , 12) mostra che con \$12 puoi acquistare 8 pezzi di pollo.
- C. Il punto (9 , 13.5) mostra che 9 pezzi di pollo costeranno \$13.5.
- D. Il punto (10.5 , 7) mostra che con \$10.5 puoi acquistare 7 pezzi di pollo.

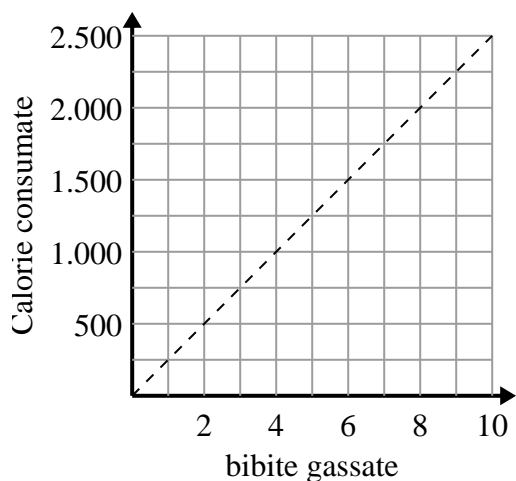
1. **A,B,C**2. **B,C**3. **B,D**

2)



- A. Il punto (10 , 1.25) mostra che 1.25 sterline costerà \$10.
- B. Il punto (1 , 8) mostra che 1 sterline costerà \$8.
- C. Il punto (2 , 16) mostra che costerebbe \$16 per 2 sterline.
- D. Il punto (14 , 1.75) mostra che 1.75 sterline costerà \$14.

3)



- A. Il punto (1250 , 5) mostra che per consumare 1250 calorie dovresti bere 5 bibite.
- B. Il punto (3 , 750) mostra che per consumare 750 calorie dovresti bere 3 bibite.
- C. Il punto (500 , 2) mostra che per consumare 500 calorie dovresti bere 2 bibite.
- D. Il punto (5 , 1250) mostra che per consumare 1250 calorie dovresti bere 5 bibite.