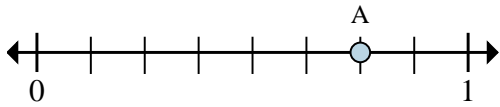




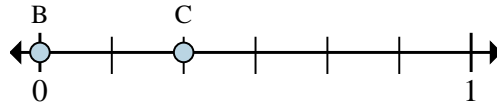
Risolvi ogni problema.

Es)



- In quante parti è divisa questa retta dei numeri reali?
- Dove si trova A (scritto come frazione)?

1)



- Su questa retta dei numeri reali, qual è il valore di 0 scritto come frazione?
- Su questa retta dei numeri reali, quanto è lontano B da C (espresso come frazione)?

**Risposte**

Es. 8      6/8

1. \_\_\_\_\_

2. \_\_\_\_\_

3. \_\_\_\_\_

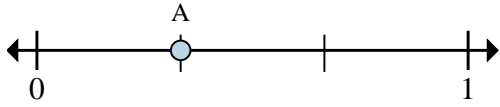
4. \_\_\_\_\_

5. \_\_\_\_\_

6. \_\_\_\_\_

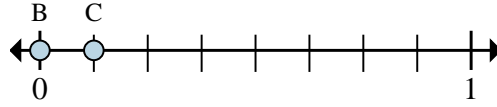
7. \_\_\_\_\_

2)



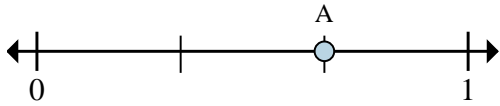
- In quante parti è divisa questa retta dei numeri reali?
- Dove si trova A (scritto come frazione)?

3)



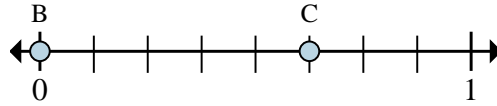
- Su questa retta dei numeri reali, qual è il valore di 1 scritto come frazione?
- Su questa retta dei numeri reali, quanto è lontano B da C (espresso come frazione)?

4)



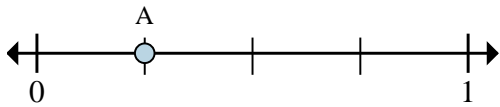
- In quante parti è divisa questa retta dei numeri reali?
- Dove si trova A (scritto come frazione)?

5)



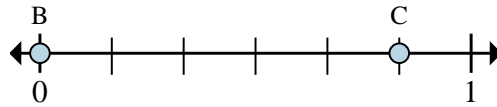
- Su questa retta dei numeri reali, qual è il valore di 0 scritto come frazione?
- Su questa retta dei numeri reali, quanto è lontano B da C (espresso come frazione)?

6)



- In quante parti è divisa questa retta dei numeri reali?
- Dove si trova A (scritto come frazione)?

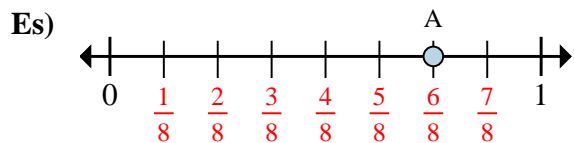
7)



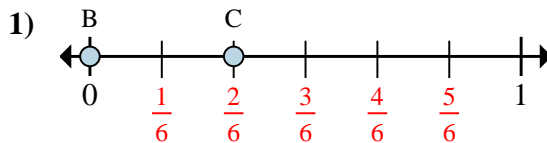
- Su questa retta dei numeri reali, qual è il valore di 0 scritto come frazione?
- Su questa retta dei numeri reali, quanto è lontano B da C (espresso come frazione)?



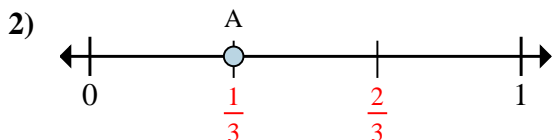
Risolvi ogni problema.



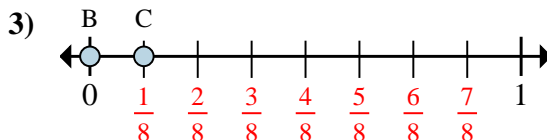
- In quante parti è divisa questa retta dei numeri reali?
- Dove si trova A (scritto come frazione)?



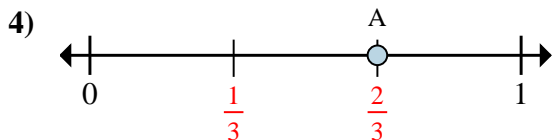
- Su questa retta dei numeri reali, qual è il valore di 0 scritto come frazione?
- Su questa retta dei numeri reali, quanto è lontano B da C (espresso come frazione)?



- In quante parti è divisa questa retta dei numeri reali?
- Dove si trova A (scritto come frazione)?



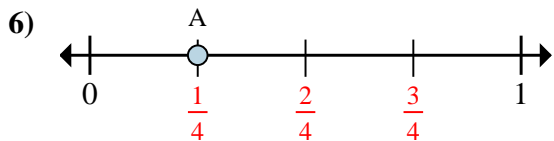
- Su questa retta dei numeri reali, qual è il valore di 1 scritto come frazione?
- Su questa retta dei numeri reali, quanto è lontano B da C (espresso come frazione)?



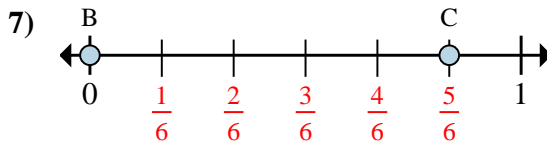
- In quante parti è divisa questa retta dei numeri reali?
- Dove si trova A (scritto come frazione)?



- Su questa retta dei numeri reali, qual è il valore di 0 scritto come frazione?
- Su questa retta dei numeri reali, quanto è lontano B da C (espresso come frazione)?



- In quante parti è divisa questa retta dei numeri reali?
- Dove si trova A (scritto come frazione)?



- Su questa retta dei numeri reali, qual è il valore di 0 scritto come frazione?
- Su questa retta dei numeri reali, quanto è lontano B da C (espresso come frazione)?

**Risposte**

Es.	<b>8</b>	<b>6/8</b>
1.	<b>0/6</b>	<b>2/6</b>
2.	<b>3</b>	<b>1/3</b>
3.	<b>8/8</b>	<b>1/8</b>
4.	<b>3</b>	<b>2/3</b>
5.	<b>0/8</b>	<b>5/8</b>
6.	<b>4</b>	<b>1/4</b>
7.	<b>0/6</b>	<b>5/6</b>