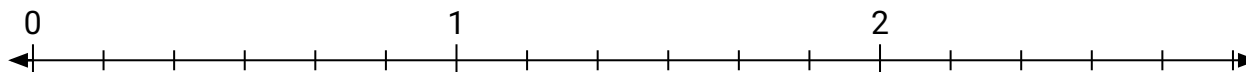
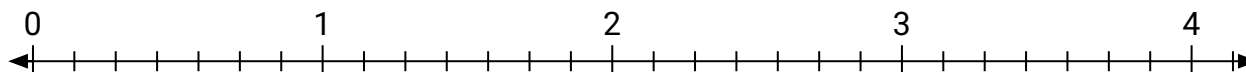


**Risolvi ogni problema.**

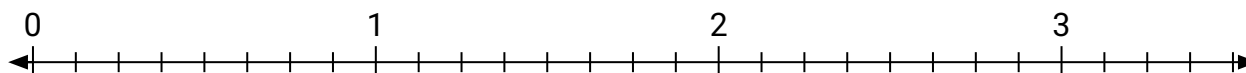
- 1) Segna la posizione di
- $\frac{8}{6}$




- 2) Segna la posizione di
- $\frac{16}{7}$



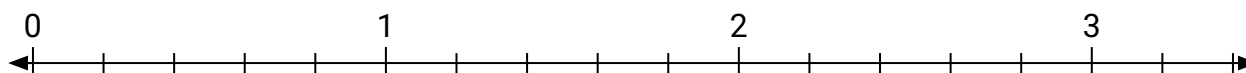
- 3) Segna la posizione di
- $\frac{17}{8}$



- 4) Segna la posizione di
- $\frac{6}{3}$



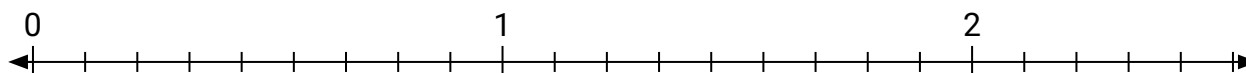
- 5) Segna la posizione di
- $\frac{9}{5}$




- 6) Segna la posizione di
- $\frac{8}{5}$



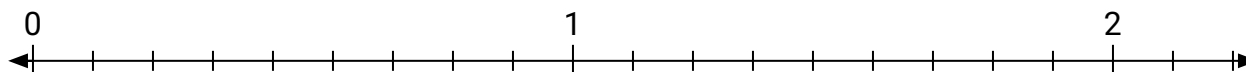
- 7) Segna la posizione di
- $\frac{22}{9}$



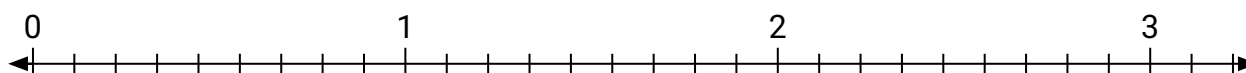
- 8) Segna la posizione di
- $\frac{3}{2}$



- 9) Segna la posizione di
- $\frac{11}{9}$



- 10) Segna la posizione di
- $\frac{20}{9}$

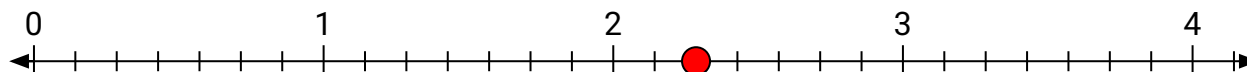


**Risolvi ogni problema.**

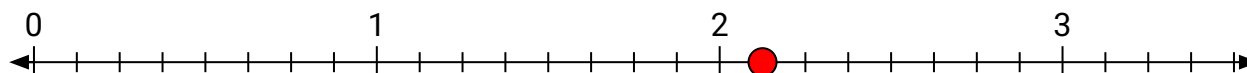
- 1) Segna la posizione di
- $\frac{8}{6}$




- 2) Segna la posizione di
- $\frac{16}{7}$



- 3) Segna la posizione di
- $\frac{17}{8}$



- 4) Segna la posizione di
- $\frac{6}{3}$



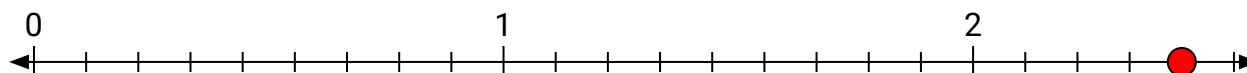
- 5) Segna la posizione di
- $\frac{9}{5}$




- 6) Segna la posizione di
- $\frac{8}{5}$



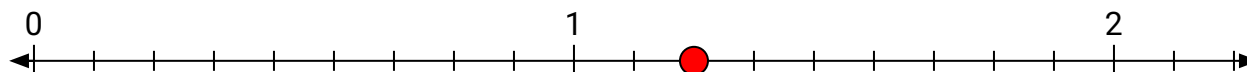
- 7) Segna la posizione di
- $\frac{22}{9}$



- 8) Segna la posizione di
- $\frac{3}{2}$



- 9) Segna la posizione di
- $\frac{11}{9}$



- 10) Segna la posizione di
- $\frac{20}{9}$

