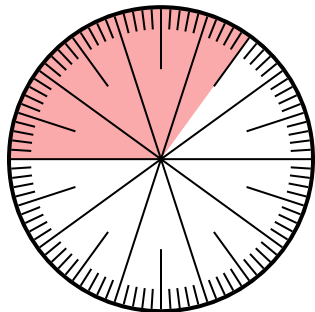




Risolvi ogni problema.

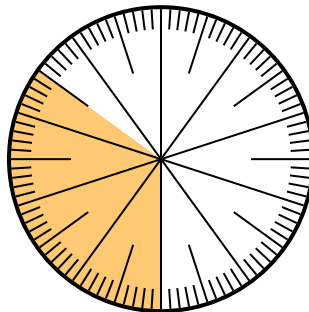
Risposte

1) Quale scelta rappresenta la parte ombreggiata della ruota dei numeri?



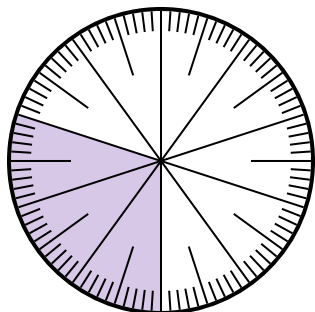
- A. $\frac{65}{100}$ B. $\frac{6,5}{100}$
 C. $\frac{35}{65}$ D. $\frac{6,50}{100}$

2) Quale scelta rappresenta la parte ombreggiata della ruota dei numeri?



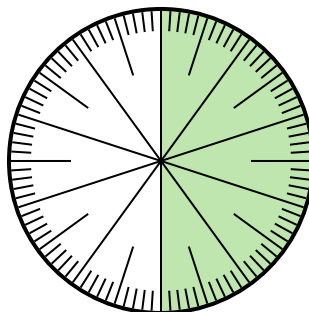
- A. 3,50 B. 0,035
 C. $\frac{3,5}{100}$ D. 0,35

3) Quale scelta rappresenta la parte ombreggiata della ruota dei numeri?



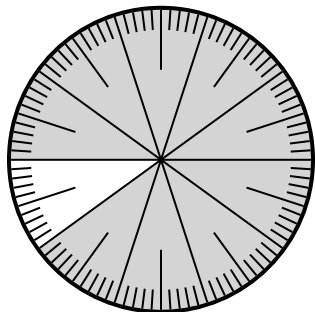
- A. $\frac{30}{10}$ B. 0,3
 C. 30,0 D. 3,0

4) Quale scelta rappresenta la parte non ombreggiata della ruota dei numeri?



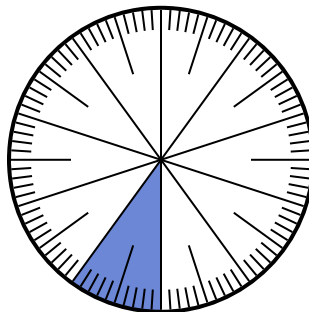
- A. 0,50 B. $\frac{0,5}{100}$
 C. 5 D. 50

5) Quale scelta rappresenta la parte ombreggiata della ruota dei numeri?



- A. $\frac{90}{100}$ B. 0,090
 C. 90 D. $\frac{9}{100}$

6) Quale scelta rappresenta la parte ombreggiata della ruota dei numeri?



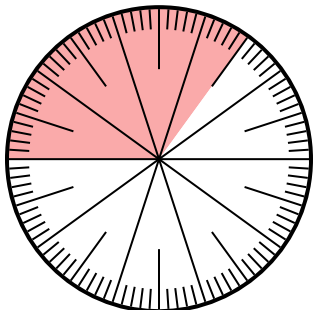
- A. 0,10 B. 10
 C. $\frac{0,1}{100}$ D. $\frac{1,00}{100}$

1. _____
 2. _____
 3. _____
 4. _____
 5. _____
 6. _____



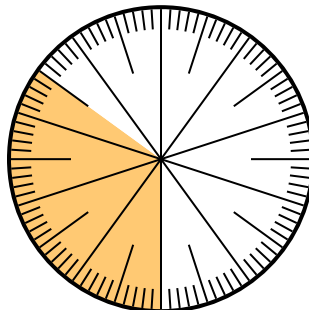
Risolvi ogni problema.

1) Quale scelta rappresenta la parte non ombreggiata della ruota dei numeri?



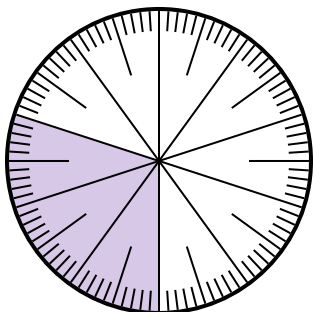
- A. $\frac{65}{100}$ B. $\frac{6.5}{100}$
 C. $\frac{35}{65}$ D. $\frac{6.50}{100}$

2) Quale scelta rappresenta la parte ombreggiata della ruota dei numeri?



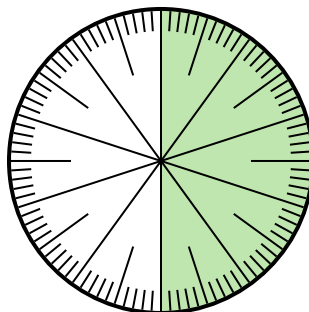
- A. 3,50 B. 0,035
 C. $\frac{3.5}{100}$ D. 0,35

3) Quale scelta rappresenta la parte ombreggiata della ruota dei numeri?



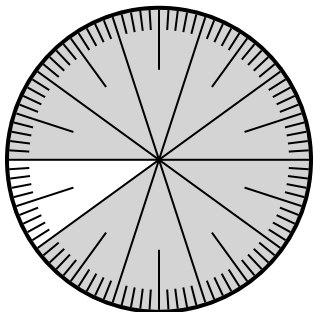
- A. $\frac{30}{10}$ B. 0,3
 C. 30,0 D. 3,0

4) Quale scelta rappresenta la parte non ombreggiata della ruota dei numeri?



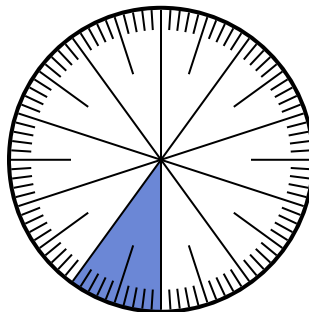
- A. 0,50 B. $\frac{0.5}{100}$
 C. 5 D. 50

5) Quale scelta rappresenta la parte ombreggiata della ruota dei numeri?



- A. $\frac{90}{100}$ B. 0,090
 C. 90 D. $\frac{9}{100}$

6) Quale scelta rappresenta la parte ombreggiata della ruota dei numeri?



- A. 0,10 B. 10
 C. $\frac{0.1}{100}$ D. $\frac{1.00}{100}$

Risposte

1. **A**
 2. **D**
 3. **B**
 4. **A**
 5. **A**
 6. **A**