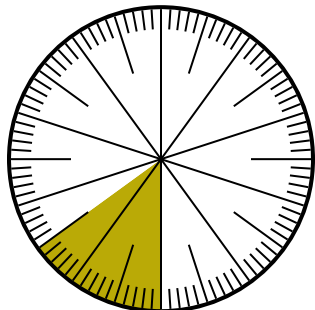




Risolvi ogni problema.

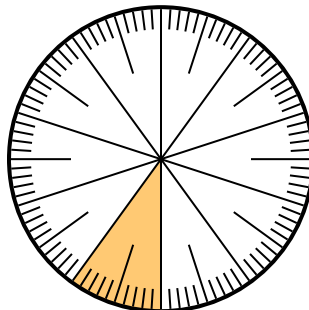
Risposte

1) Quale scelta rappresenta la parte non ombreggiata della ruota dei numeri?



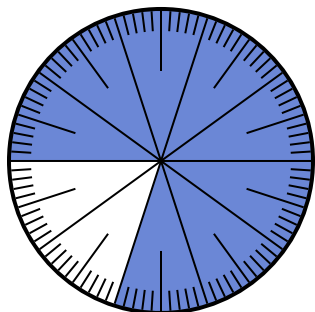
- A. $\frac{85}{100}$ B. $\frac{8.5}{100}$
 C. $\frac{0.85}{100}$ D. $\frac{85}{15}$

2) Quale scelta rappresenta la parte non ombreggiata della ruota dei numeri?



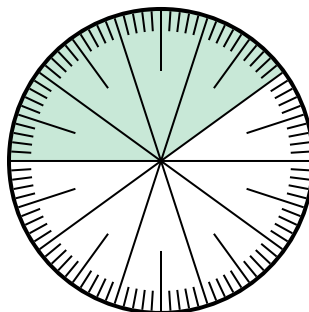
- A. 0,9 B. 90
 C. $\frac{1}{100}$ D. 9

3) Quale scelta rappresenta la parte non ombreggiata della ruota dei numeri?



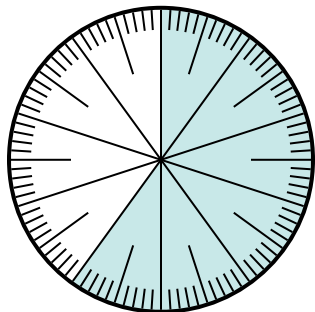
- A. 20 B. $\frac{20}{80}$
 C. 0,2 D. $\frac{20}{10}$

4) Quale scelta rappresenta la parte non ombreggiata della ruota dei numeri?



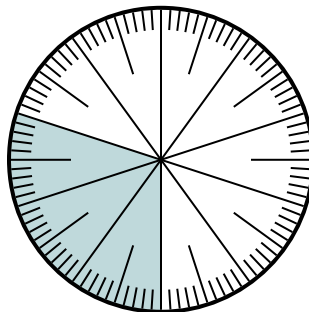
- A. 0,0060 B. 0,6
 C. 60 D. $\frac{40}{60}$

5) Quale scelta rappresenta la parte non ombreggiata della ruota dei numeri?



- A. $\frac{60}{40}$ B. $\frac{40}{100}$
 C. $\frac{0.4}{100}$ D. 40

6) Quale scelta rappresenta la parte non ombreggiata della ruota dei numeri?



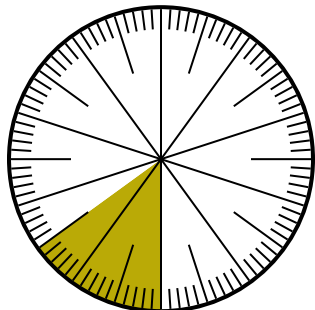
- A. $\frac{70}{100}$ B. $\frac{70}{30}$
 C. 7 D. $\frac{30}{70}$

1. _____
 2. _____
 3. _____
 4. _____
 5. _____
 6. _____



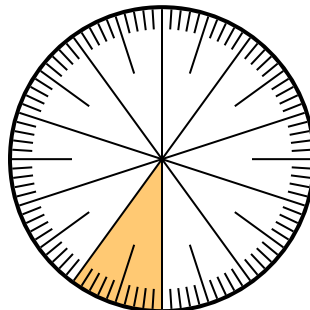
Risolvi ogni problema.

1) Quale scelta rappresenta la parte non ombreggiata della ruota dei numeri?



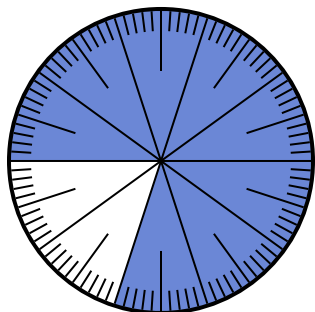
- A. $\frac{85}{100}$ B. $\frac{8.5}{100}$
 C. $\frac{0.85}{100}$ D. $\frac{85}{15}$

2) Quale scelta rappresenta la parte non ombreggiata della ruota dei numeri?



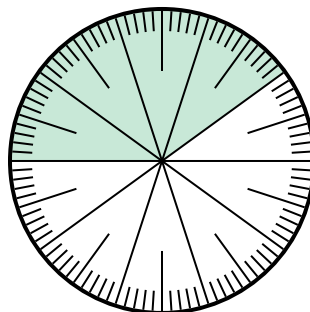
- A. 0,9 B. 90
 C. $\frac{1}{100}$ D. 9

3) Quale scelta rappresenta la parte non ombreggiata della ruota dei numeri?



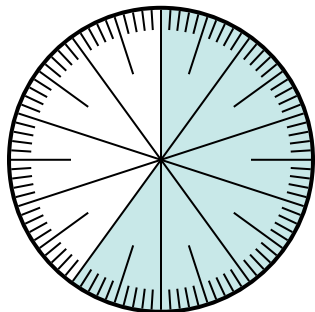
- A. 20 B. $\frac{20}{80}$
 C. 0,2 D. $\frac{20}{10}$

4) Quale scelta rappresenta la parte non ombreggiata della ruota dei numeri?



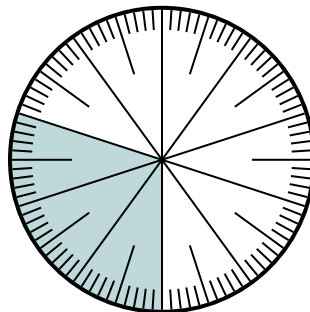
- A. 0,0060 B. 0,6
 C. 60 D. $\frac{40}{60}$

5) Quale scelta rappresenta la parte non ombreggiata della ruota dei numeri?



- A. $\frac{60}{40}$ B. $\frac{40}{100}$
 C. $\frac{0.4}{100}$ D. 40

6) Quale scelta rappresenta la parte non ombreggiata della ruota dei numeri?



- A. $\frac{70}{100}$ B. $\frac{70}{30}$
 C. 7 D. $\frac{30}{70}$

Risposte

1. **A**
 2. **A**
 3. **C**
 4. **B**
 5. **B**
 6. **A**