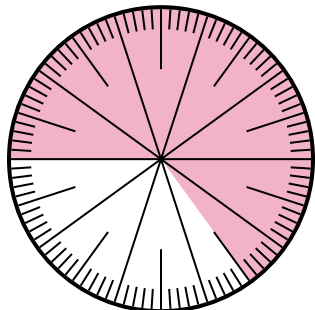




Risolvi ogni problema.

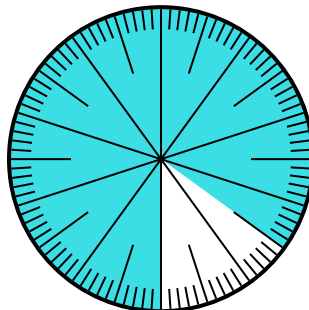
Risposte

1) Quale scelta rappresenta la parte non ombreggiata della ruota dei numeri?



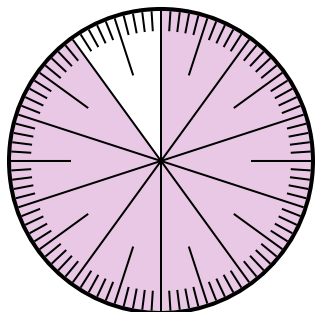
- A. 0,35 B. $\frac{0,35}{100}$
 C. 0,035 D. 3,50

2) Quale scelta rappresenta la parte non ombreggiata della ruota dei numeri?



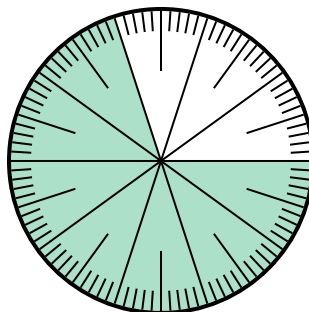
- A. $\frac{15}{100}$ B. 1,50
 C. $\frac{85}{15}$ D. 15

3) Quale scelta rappresenta la parte non ombreggiata della ruota dei numeri?



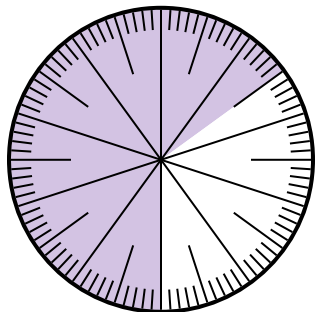
- A. $\frac{1}{100}$ B. 0,1
 C. 1 D. 10

4) Quale scelta rappresenta la parte ombreggiata della ruota dei numeri?



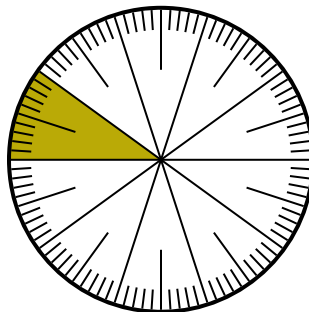
- A. $\frac{70}{100}$ B. $\frac{70}{30}$
 C. $\frac{30}{70}$ D. $\frac{7,00}{100}$

5) Quale scelta rappresenta la parte non ombreggiata della ruota dei numeri?



- A. $\frac{65}{35}$ B. $\frac{35}{100}$
 C. 0,035 D. $\frac{3,5}{100}$

6) Quale scelta rappresenta la parte ombreggiata della ruota dei numeri?



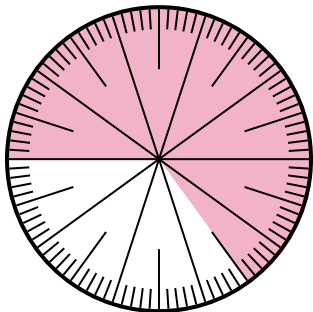
- A. $\frac{1,00}{100}$ B. $\frac{90}{10}$
 C. 10 D. $\frac{10}{100}$

1. _____
 2. _____
 3. _____
 4. _____
 5. _____
 6. _____



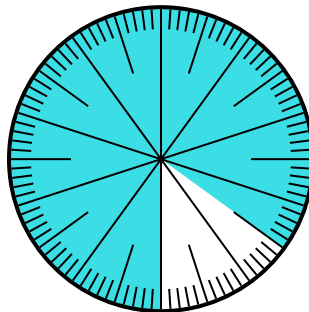
Risolvi ogni problema.

1) Quale scelta rappresenta la parte non ombreggiata della ruota dei numeri?



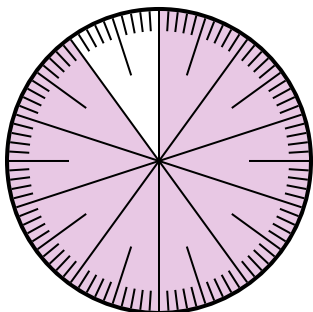
- A. 0,35 B. $\frac{0,35}{100}$
 C. 0,035 D. 3,50

2) Quale scelta rappresenta la parte non ombreggiata della ruota dei numeri?



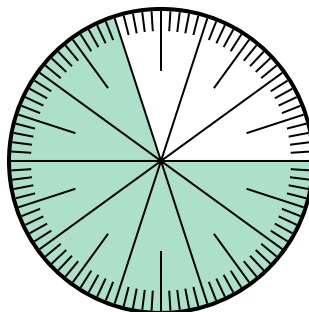
- A. $\frac{15}{100}$ B. 1,50
 C. $\frac{85}{15}$ D. 15

3) Quale scelta rappresenta la parte non ombreggiata della ruota dei numeri?



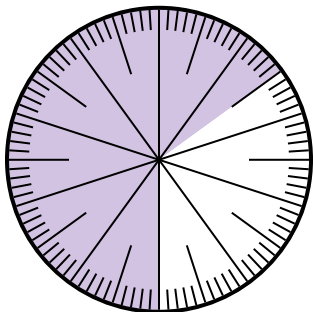
- A. $\frac{1}{100}$ B. 0,1
 C. 1 D. 10

4) Quale scelta rappresenta la parte ombreggiata della ruota dei numeri?



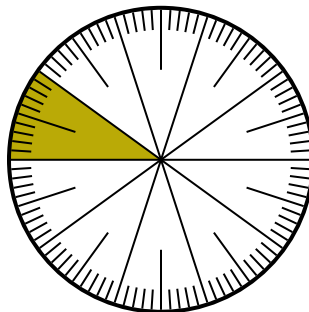
- A. $\frac{70}{100}$ B. $\frac{70}{30}$
 C. $\frac{30}{70}$ D. $\frac{7,00}{100}$

5) Quale scelta rappresenta la parte non ombreggiata della ruota dei numeri?



- A. $\frac{65}{35}$ B. $\frac{35}{100}$
 C. 0,035 D. $\frac{3,5}{100}$

6) Quale scelta rappresenta la parte ombreggiata della ruota dei numeri?



- A. $\frac{1,00}{100}$ B. $\frac{90}{10}$
 C. 10 D. $\frac{10}{100}$

Risposte

1. **A**

2. **A**

3. **B**

4. **A**

5. **B**

6. **D**