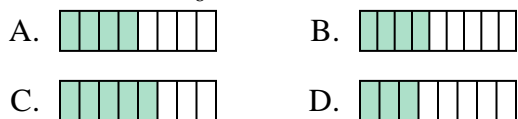




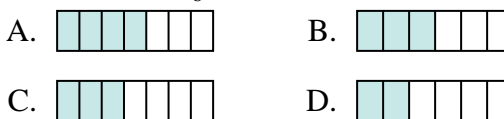
**Determina quale lettera risponde correttamente ad ogni domanda**

**Risposte**

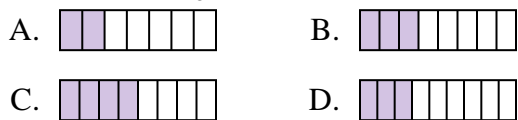
1) Quale delle seguenti figure è ombreggiata per rappresentare  $\frac{4}{8}$ ?



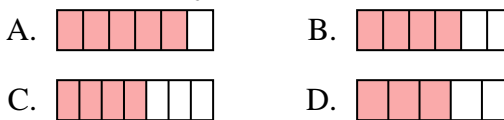
2) Quale delle seguenti figure è ombreggiata per rappresentare  $\frac{3}{6}$ ?



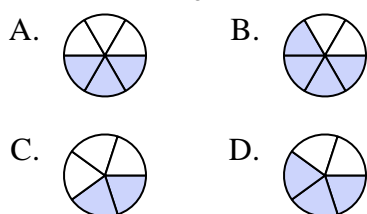
3) Quale delle seguenti figure è ombreggiata per rappresentare  $\frac{3}{8}$ ?



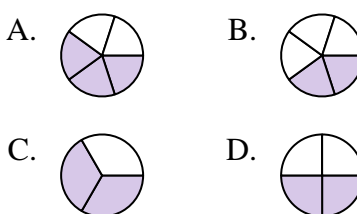
4) Quale delle seguenti figure è ombreggiata per rappresentare  $\frac{4}{6}$ ?



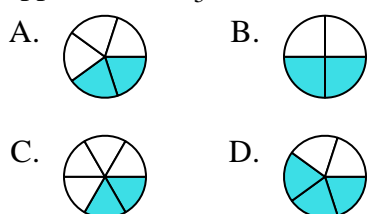
5) Quale delle seguenti figure è ombreggiata per rappresentare  $\frac{3}{5}$ ?



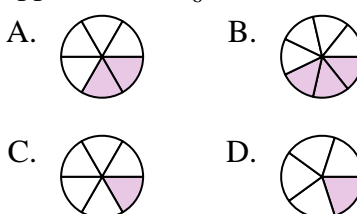
6) Quale delle seguenti figure è ombreggiata per rappresentare  $\frac{2}{4}$ ?



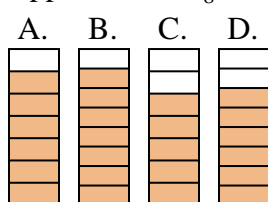
7) Quale delle seguenti figure è ombreggiata per rappresentare  $\frac{2}{5}$ ?



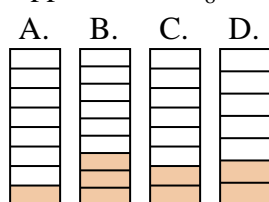
8) Quale delle seguenti figure è ombreggiata per rappresentare  $\frac{2}{6}$ ?



9) Quale delle seguenti figure è ombreggiata per rappresentare  $\frac{6}{8}$ ?



10) Quale delle seguenti figure è ombreggiata per rappresentare  $\frac{2}{8}$ ?



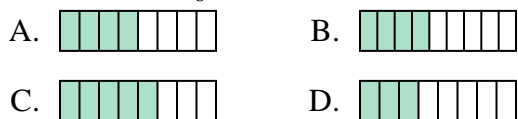
1. \_\_\_\_\_
2. \_\_\_\_\_
3. \_\_\_\_\_
4. \_\_\_\_\_
5. \_\_\_\_\_
6. \_\_\_\_\_
7. \_\_\_\_\_
8. \_\_\_\_\_
9. \_\_\_\_\_
10. \_\_\_\_\_



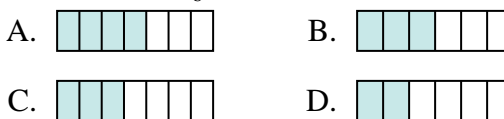
**Determina quale lettera risponde correttamente ad ogni domanda**

**Risposte**

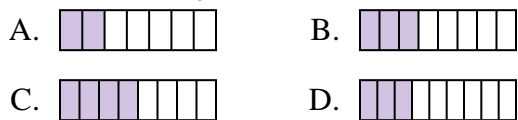
1) Quale delle seguenti figure è ombreggiata per rappresentare  $\frac{4}{8}$ ?



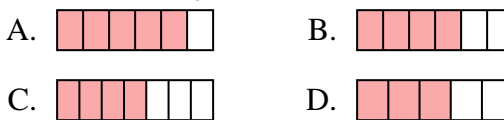
2) Quale delle seguenti figure è ombreggiata per rappresentare  $\frac{3}{6}$ ?



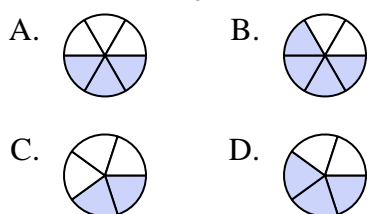
3) Quale delle seguenti figure è ombreggiata per rappresentare  $\frac{3}{8}$ ?



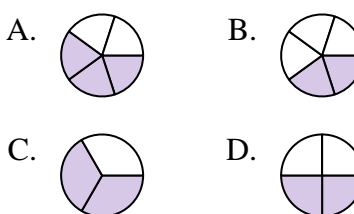
4) Quale delle seguenti figure è ombreggiata per rappresentare  $\frac{4}{6}$ ?



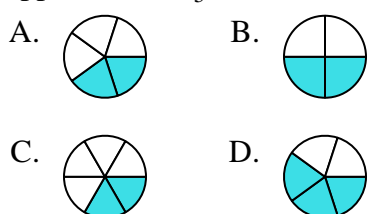
5) Quale delle seguenti figure è ombreggiata per rappresentare  $\frac{3}{5}$ ?



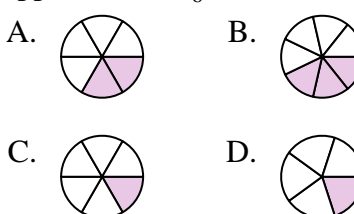
6) Quale delle seguenti figure è ombreggiata per rappresentare  $\frac{2}{4}$ ?



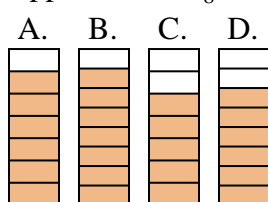
7) Quale delle seguenti figure è ombreggiata per rappresentare  $\frac{2}{5}$ ?



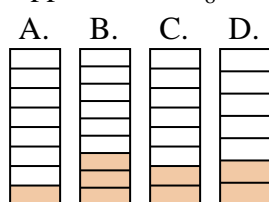
8) Quale delle seguenti figure è ombreggiata per rappresentare  $\frac{2}{6}$ ?



9) Quale delle seguenti figure è ombreggiata per rappresentare  $\frac{6}{8}$ ?



10) Quale delle seguenti figure è ombreggiata per rappresentare  $\frac{2}{8}$ ?



1.     **A**
2.     **B**
3.     **B**
4.     **B**
5.     **D**
6.     **D**
7.     **A**
8.     **A**
9.     **D**
10.     **C**