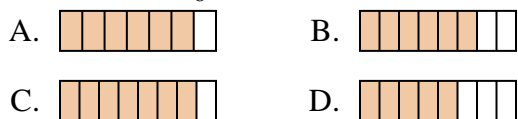




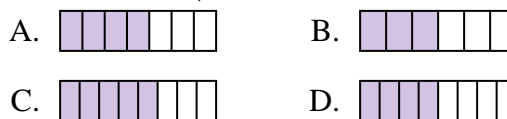
Determina quale lettera risponde correttamente ad ogni domanda

Risposte

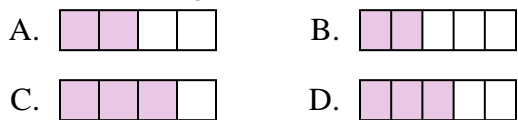
1) Quale delle seguenti figure è ombreggiata per rappresentare $\frac{6}{8}$?



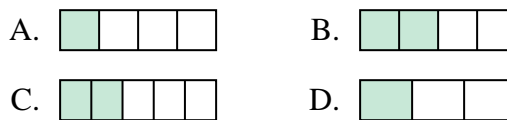
2) Quale delle seguenti figure è ombreggiata per rappresentare $\frac{4}{7}$?



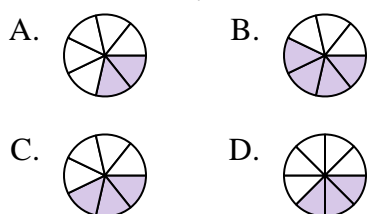
3) Quale delle seguenti figure è ombreggiata per rappresentare $\frac{3}{5}$?



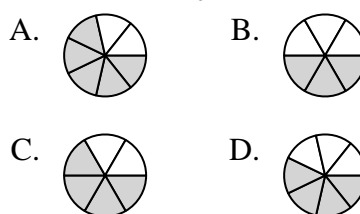
4) Quale delle seguenti figure è ombreggiata per rappresentare $\frac{2}{4}$?



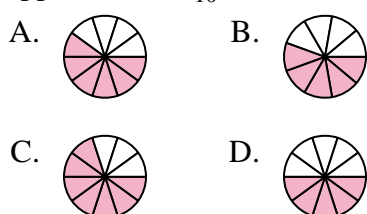
5) Quale delle seguenti figure è ombreggiata per rappresentare $\frac{3}{7}$?



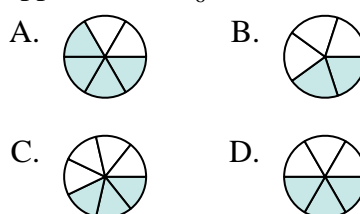
6) Quale delle seguenti figure è ombreggiata per rappresentare $\frac{4}{6}$?



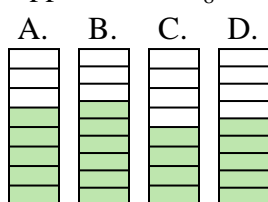
7) Quale delle seguenti figure è ombreggiata per rappresentare $\frac{6}{10}$?



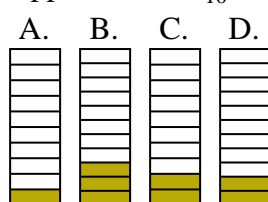
8) Quale delle seguenti figure è ombreggiata per rappresentare $\frac{3}{6}$?



9) Quale delle seguenti figure è ombreggiata per rappresentare $\frac{5}{8}$?



10) Quale delle seguenti figure è ombreggiata per rappresentare $\frac{2}{10}$?



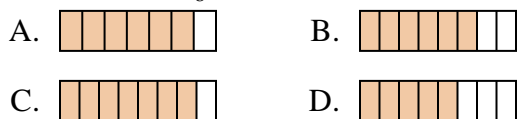
1. _____
2. _____
3. _____
4. _____
5. _____
6. _____
7. _____
8. _____
9. _____
10. _____



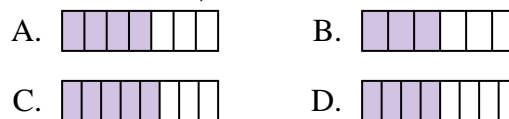
Determina quale lettera risponde correttamente ad ogni domanda

Risposte

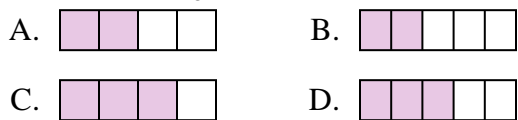
1) Quale delle seguenti figure è ombreggiata per rappresentare $\frac{6}{8}$?



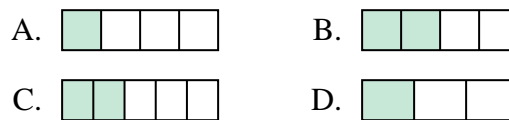
2) Quale delle seguenti figure è ombreggiata per rappresentare $\frac{4}{7}$?



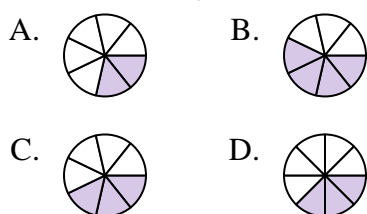
3) Quale delle seguenti figure è ombreggiata per rappresentare $\frac{3}{5}$?



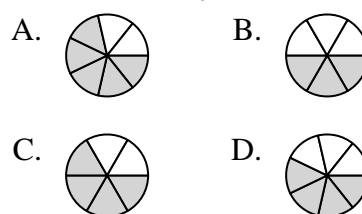
4) Quale delle seguenti figure è ombreggiata per rappresentare $\frac{2}{4}$?



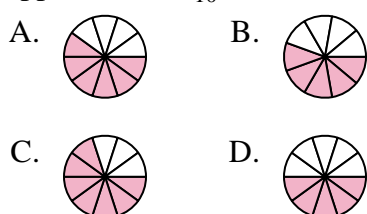
5) Quale delle seguenti figure è ombreggiata per rappresentare $\frac{3}{7}$?



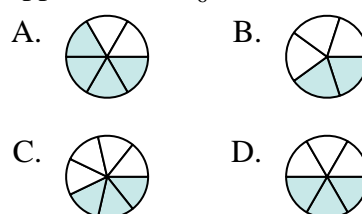
6) Quale delle seguenti figure è ombreggiata per rappresentare $\frac{4}{6}$?



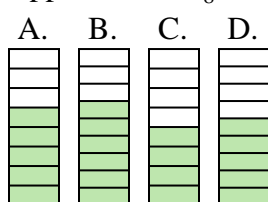
7) Quale delle seguenti figure è ombreggiata per rappresentare $\frac{6}{10}$?



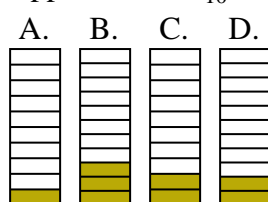
8) Quale delle seguenti figure è ombreggiata per rappresentare $\frac{3}{6}$?



9) Quale delle seguenti figure è ombreggiata per rappresentare $\frac{5}{8}$?



10) Quale delle seguenti figure è ombreggiata per rappresentare $\frac{2}{10}$?



1. **B**
2. **A**
3. **D**
4. **B**
5. **C**
6. **C**
7. **A**
8. **D**
9. **A**
10. **C**