


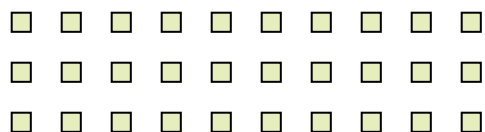


Usa le forme per risopndere alle domande.

Es) Quanti gruppi di 6 puoi fare con le 18 forme qui sotto?




2) Quanti gruppi di 6 puoi fare con le 30 forme qui sotto?



4) Quanti gruppi di 9 puoi fare con le 27 forme qui sotto?



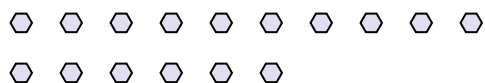
6) Quanti gruppi di 3 puoi fare con le 30 forme qui sotto?



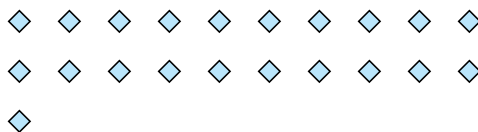
8) Quanti gruppi di 7 puoi fare con le 14 forme qui sotto?



10) Quanti gruppi di 2 puoi fare con le 16 forme qui sotto?



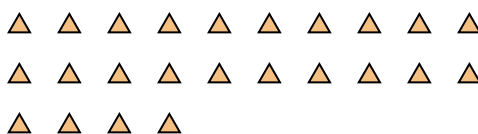
1) Quanti gruppi di 7 puoi fare con le 21 forme qui sotto?



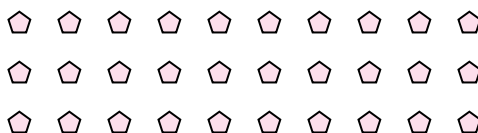
3) Quanti gruppi di 4 puoi fare con le 28 forme qui sotto?



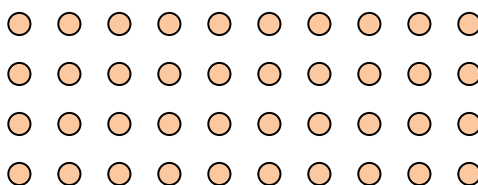
5) Quanti gruppi di 6 puoi fare con le 24 forme qui sotto?




7) Quanti gruppi di 5 puoi fare con le 30 forme qui sotto?



9) Quanti gruppi di 5 puoi fare con le 40 forme qui sotto?



11) Quanti gruppi di 5 puoi fare con le 30 forme qui sotto?

**Risposte**Es. 31. 32. 53. 74. 35. 46. 107. 68. 29. 810. 811. 6