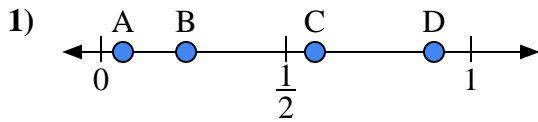
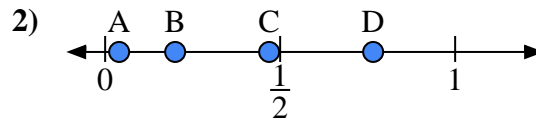




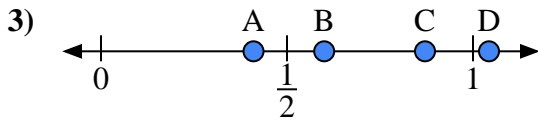
Usa la linea numerata per rispondere alle domande.

Risposte

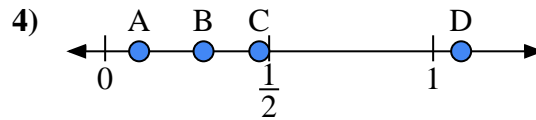
- a) Quale lettera rappresenta correttamente la posizione di 0,90?
 b) Quale lettera rappresenta correttamente la posizione di 0,23?



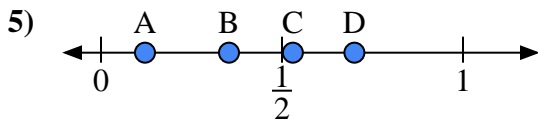
- a) Quale lettera rappresenta correttamente la posizione di 0,2?
 b) Quale lettera rappresenta correttamente la posizione di 0,04?



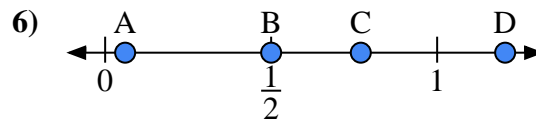
- a) Quale lettera rappresenta correttamente la posizione di 0,6?
 b) Quale lettera rappresenta correttamente la posizione di 0,41?



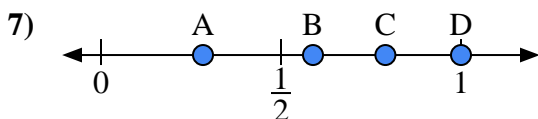
- a) Quale lettera rappresenta correttamente la posizione di 0,30?
 b) Quale lettera rappresenta correttamente la posizione di 0,47?



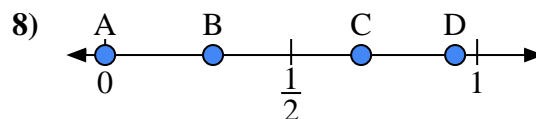
- a) Quale lettera rappresenta correttamente la posizione di 0,70?
 b) Quale lettera rappresenta correttamente la posizione di 0,53?



- a) Quale lettera rappresenta correttamente la posizione di 0,5?
 b) Quale lettera rappresenta correttamente la posizione di 0,77?



- a) Quale lettera rappresenta correttamente la posizione di 1,0?
 b) Quale lettera rappresenta correttamente la posizione di 0,79?

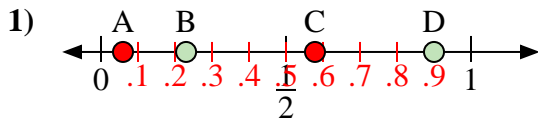


- a) Quale lettera rappresenta correttamente la posizione di 0,0?
 b) Quale lettera rappresenta correttamente la posizione di 0,29?

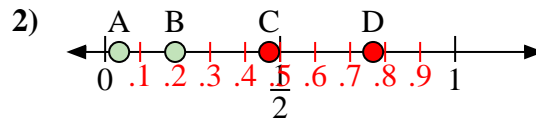
1. _____
 2. _____
 3. _____
 4. _____
 5. _____
 6. _____
 7. _____
 8. _____



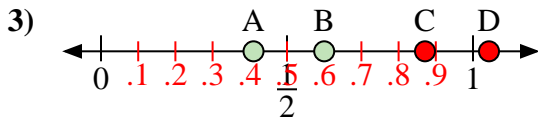
Usa la linea numerata per rispondere alle domande.



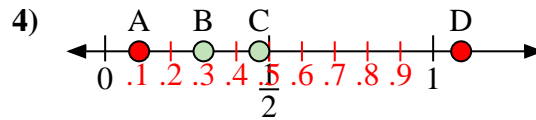
- a) Quale lettera rappresenta correttamente la posizione di 0,90?
 b) Quale lettera rappresenta correttamente la posizione di 0,23?



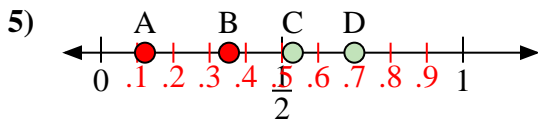
- a) Quale lettera rappresenta correttamente la posizione di 0,2?
 b) Quale lettera rappresenta correttamente la posizione di 0,04?



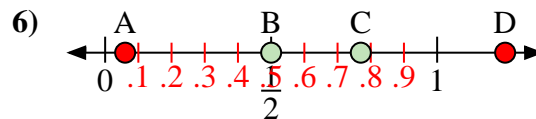
- a) Quale lettera rappresenta correttamente la posizione di 0,6?
 b) Quale lettera rappresenta correttamente la posizione di 0,41?



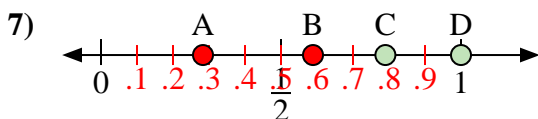
- a) Quale lettera rappresenta correttamente la posizione di 0,30?
 b) Quale lettera rappresenta correttamente la posizione di 0,47?



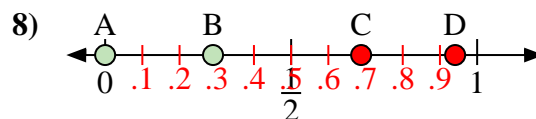
- a) Quale lettera rappresenta correttamente la posizione di 0,70?
 b) Quale lettera rappresenta correttamente la posizione di 0,53?



- a) Quale lettera rappresenta correttamente la posizione di 0,5?
 b) Quale lettera rappresenta correttamente la posizione di 0,77?



- a) Quale lettera rappresenta correttamente la posizione di 1,0?
 b) Quale lettera rappresenta correttamente la posizione di 0,79?



- a) Quale lettera rappresenta correttamente la posizione di 0,0?
 b) Quale lettera rappresenta correttamente la posizione di 0,29?

Risposte1. D B2. B A3. B A4. B C5. D C6. B C7. D C8. A B