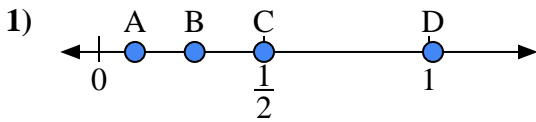
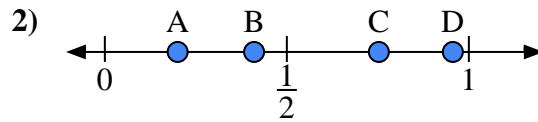




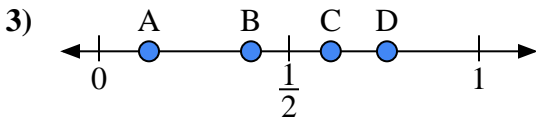
Usa la linea numerata per rispondere alle domande.

Risposte

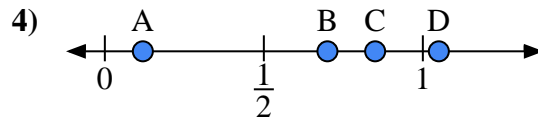
- a) Quale lettera rappresenta correttamente la posizione di 0,5?
 b) Quale lettera rappresenta correttamente la posizione di 0,29?



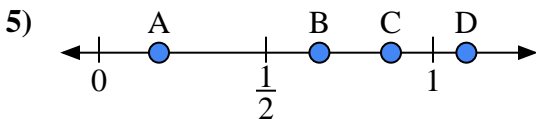
- a) Quale lettera rappresenta correttamente la posizione di 0,20?
 b) Quale lettera rappresenta correttamente la posizione di 0,41?



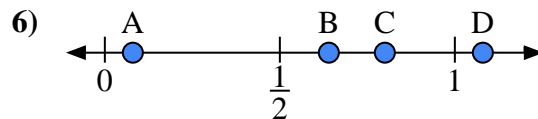
- a) Quale lettera rappresenta correttamente la posizione di 0,40?
 b) Quale lettera rappresenta correttamente la posizione di 0,61?



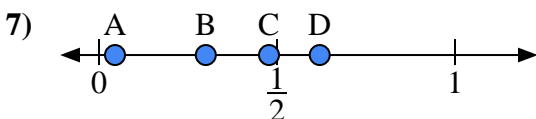
- a) Quale lettera rappresenta correttamente la posizione di 0,70?
 b) Quale lettera rappresenta correttamente la posizione di 0,85?



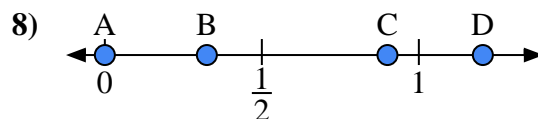
- a) Quale lettera rappresenta correttamente la posizione di 1,1?
 b) Quale lettera rappresenta correttamente la posizione di 0,66?



- a) Quale lettera rappresenta correttamente la posizione di 0,8?
 b) Quale lettera rappresenta correttamente la posizione di 0,08?



- a) Quale lettera rappresenta correttamente la posizione di 0,30?
 b) Quale lettera rappresenta correttamente la posizione di 0,62?

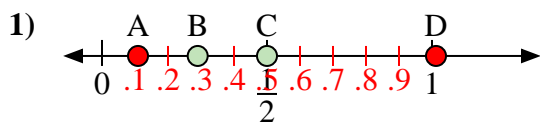


- a) Quale lettera rappresenta correttamente la posizione di 0,00?
 b) Quale lettera rappresenta correttamente la posizione di 0,90?

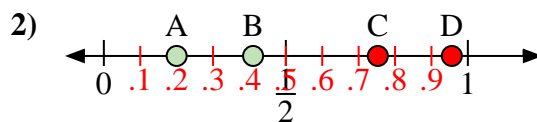
1. _____
 2. _____
 3. _____
 4. _____
 5. _____
 6. _____
 7. _____
 8. _____



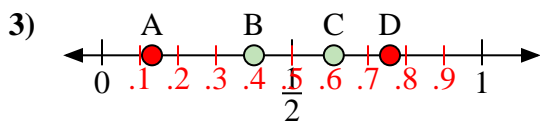
Usa la linea numerata per rispondere alle domande.



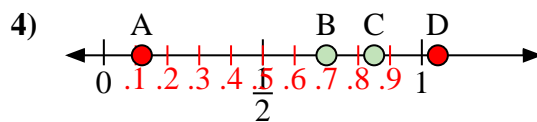
- a) Quale lettera rappresenta correttamente la posizione di 0,5?
 b) Quale lettera rappresenta correttamente la posizione di 0,29?



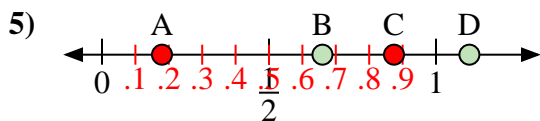
- a) Quale lettera rappresenta correttamente la posizione di 0,20?
 b) Quale lettera rappresenta correttamente la posizione di 0,41?



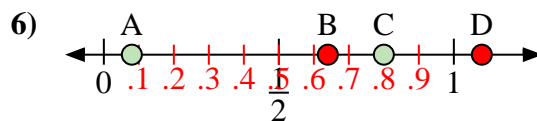
- a) Quale lettera rappresenta correttamente la posizione di 0,40?
 b) Quale lettera rappresenta correttamente la posizione di 0,61?



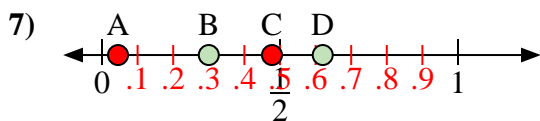
- a) Quale lettera rappresenta correttamente la posizione di 0,70?
 b) Quale lettera rappresenta correttamente la posizione di 0,85?



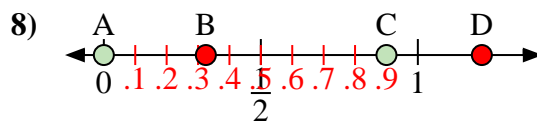
- a) Quale lettera rappresenta correttamente la posizione di 1,1?
 b) Quale lettera rappresenta correttamente la posizione di 0,66?



- a) Quale lettera rappresenta correttamente la posizione di 0,8?
 b) Quale lettera rappresenta correttamente la posizione di 0,08?



- a) Quale lettera rappresenta correttamente la posizione di 0,30?
 b) Quale lettera rappresenta correttamente la posizione di 0,62?



- a) Quale lettera rappresenta correttamente la posizione di 0,00?
 b) Quale lettera rappresenta correttamente la posizione di 0,90?

Risposte

1. C B
 2. A B
 3. B C
 4. B C
 5. D B
 6. C A
 7. B D
 8. A C