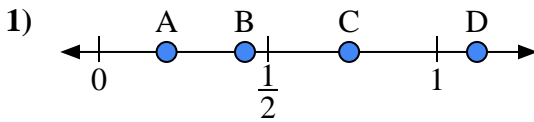
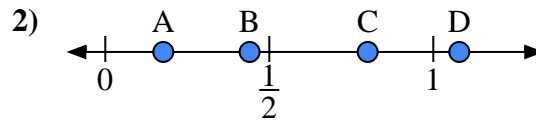




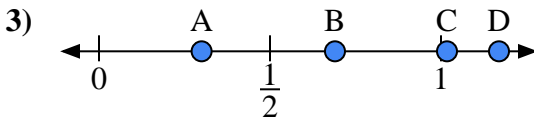
Usa la linea numerata per rispondere alle domande.

Risposte

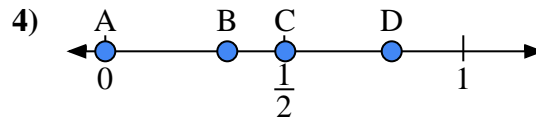
- a) Quale lettera rappresenta correttamente la posizione di 0,20?
 b) Quale lettera rappresenta correttamente la posizione di 0,74?



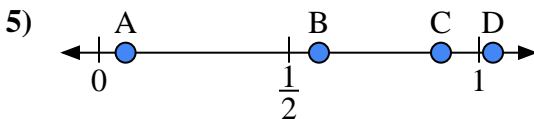
- a) Quale lettera rappresenta correttamente la posizione di 0,8?
 b) Quale lettera rappresenta correttamente la posizione di 0,44?



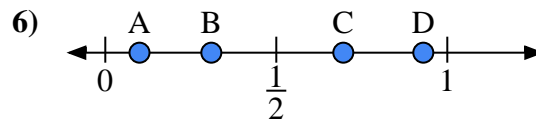
- a) Quale lettera rappresenta correttamente la posizione di 0,30?
 b) Quale lettera rappresenta correttamente la posizione di 0,69?



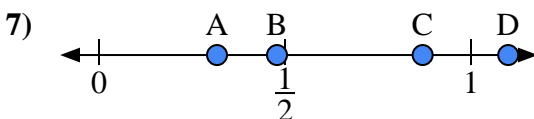
- a) Quale lettera rappresenta correttamente la posizione di 0,0?
 b) Quale lettera rappresenta correttamente la posizione di 0,80?



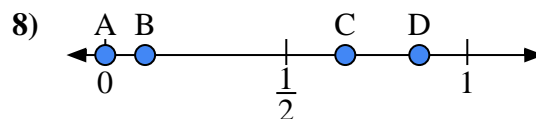
- a) Quale lettera rappresenta correttamente la posizione di 0,90?
 b) Quale lettera rappresenta correttamente la posizione di 0,07?



- a) Quale lettera rappresenta correttamente la posizione di 0,10?
 b) Quale lettera rappresenta correttamente la posizione di 0,31?



- a) Quale lettera rappresenta correttamente la posizione di 1,10?
 b) Quale lettera rappresenta correttamente la posizione di 0,87?

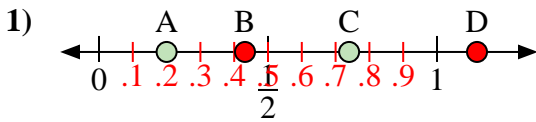


- a) Quale lettera rappresenta correttamente la posizione di 0,00?
 b) Quale lettera rappresenta correttamente la posizione di 0,11?

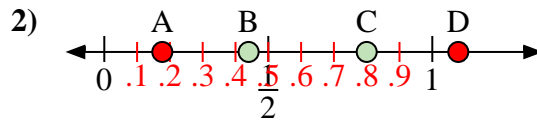
1. _____
 2. _____
 3. _____
 4. _____
 5. _____
 6. _____
 7. _____
 8. _____



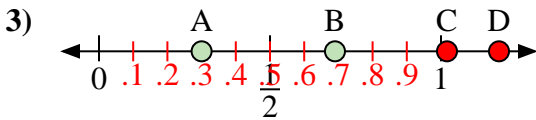
Usa la linea numerata per rispondere alle domande.

Risposte

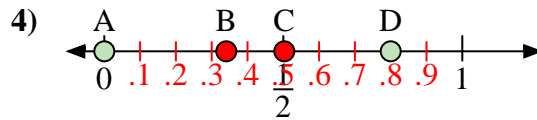
- a) Quale lettera rappresenta correttamente la posizione di 0,20?
 b) Quale lettera rappresenta correttamente la posizione di 0,74?



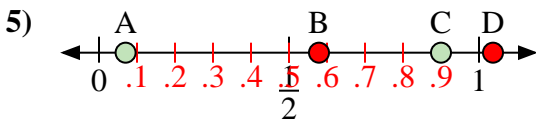
- a) Quale lettera rappresenta correttamente la posizione di 0,8?
 b) Quale lettera rappresenta correttamente la posizione di 0,44?



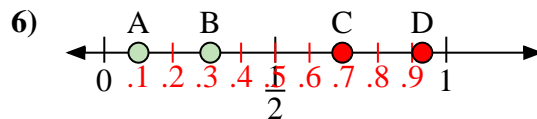
- a) Quale lettera rappresenta correttamente la posizione di 0,30?
 b) Quale lettera rappresenta correttamente la posizione di 0,69?



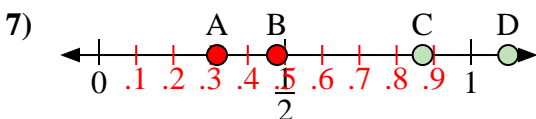
- a) Quale lettera rappresenta correttamente la posizione di 0,0?
 b) Quale lettera rappresenta correttamente la posizione di 0,80?



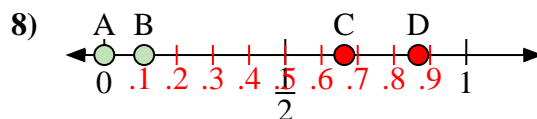
- a) Quale lettera rappresenta correttamente la posizione di 0,90?
 b) Quale lettera rappresenta correttamente la posizione di 0,07?



- a) Quale lettera rappresenta correttamente la posizione di 0,10?
 b) Quale lettera rappresenta correttamente la posizione di 0,31?



- a) Quale lettera rappresenta correttamente la posizione di 1,10?
 b) Quale lettera rappresenta correttamente la posizione di 0,87?



- a) Quale lettera rappresenta correttamente la posizione di 0,00?
 b) Quale lettera rappresenta correttamente la posizione di 0,11?

1. A C2. C B3. A B4. A D5. C A6. A B7. D C8. A B