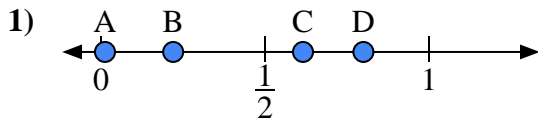


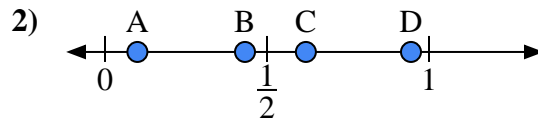


Usa la linea numerata per rispondere alle domande.

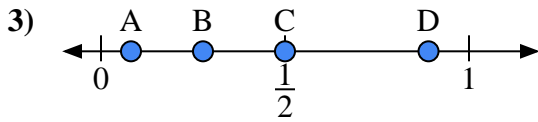
Risposte



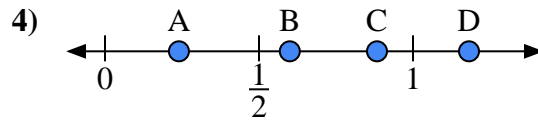
- a) Quale lettera rappresenta correttamente la posizione di 0,80?
- b) Quale lettera rappresenta correttamente la posizione di 0,22?



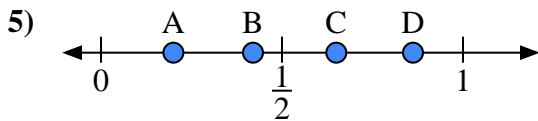
- a) Quale lettera rappresenta correttamente la posizione di 0,1?
- b) Quale lettera rappresenta correttamente la posizione di 0,62?



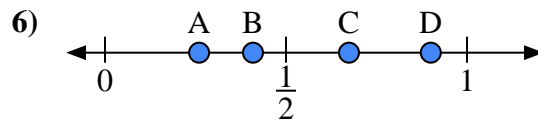
- a) Quale lettera rappresenta correttamente la posizione di 0,5?
- b) Quale lettera rappresenta correttamente la posizione di 0,89?



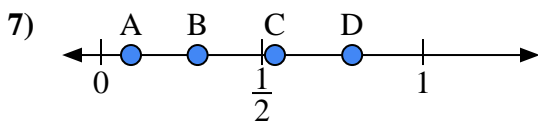
- a) Quale lettera rappresenta correttamente la posizione di 0,6?
- b) Quale lettera rappresenta correttamente la posizione di 0,24?



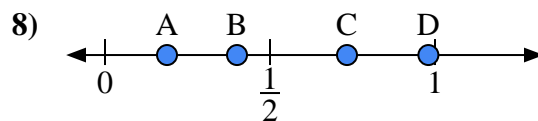
- a) Quale lettera rappresenta correttamente la posizione di 0,20?
- b) Quale lettera rappresenta correttamente la posizione di 0,65?



- a) Quale lettera rappresenta correttamente la posizione di 0,90?
- b) Quale lettera rappresenta correttamente la posizione di 0,26?



- a) Quale lettera rappresenta correttamente la posizione di 0,3?
- b) Quale lettera rappresenta correttamente la posizione di 0,78?

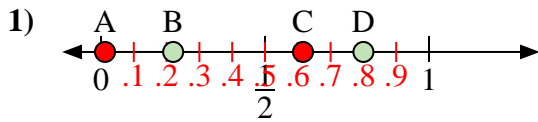


- a) Quale lettera rappresenta correttamente la posizione di 0,40?
- b) Quale lettera rappresenta correttamente la posizione di 0,98?

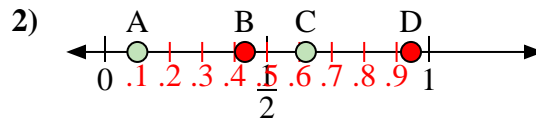
- 1. _____
- 2. _____
- 3. _____
- 4. _____
- 5. _____
- 6. _____
- 7. _____
- 8. _____



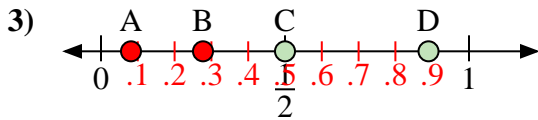
Usa la linea numerata per rispondere alle domande.

Risposte

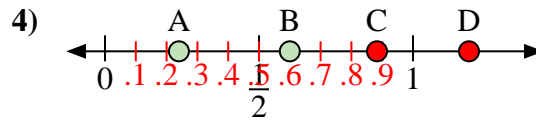
- a) Quale lettera rappresenta correttamente la posizione di 0,80?
b) Quale lettera rappresenta correttamente la posizione di 0,22?



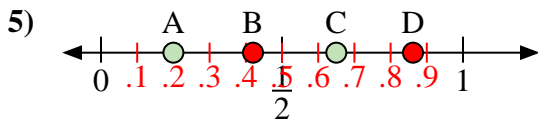
- a) Quale lettera rappresenta correttamente la posizione di 0,1?
b) Quale lettera rappresenta correttamente la posizione di 0,62?



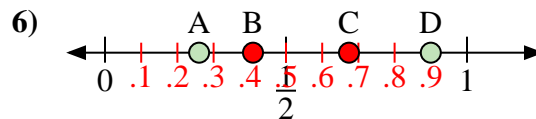
- a) Quale lettera rappresenta correttamente la posizione di 0,5?
b) Quale lettera rappresenta correttamente la posizione di 0,89?



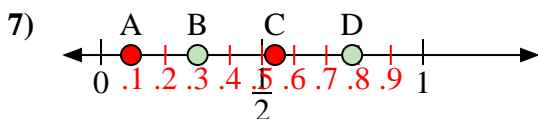
- a) Quale lettera rappresenta correttamente la posizione di 0,6?
b) Quale lettera rappresenta correttamente la posizione di 0,24?



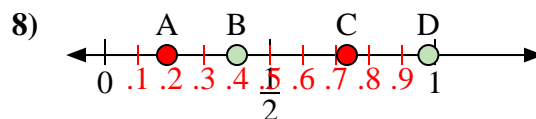
- a) Quale lettera rappresenta correttamente la posizione di 0,20?
b) Quale lettera rappresenta correttamente la posizione di 0,65?



- a) Quale lettera rappresenta correttamente la posizione di 0,90?
b) Quale lettera rappresenta correttamente la posizione di 0,26?



- a) Quale lettera rappresenta correttamente la posizione di 0,3?
b) Quale lettera rappresenta correttamente la posizione di 0,78?



- a) Quale lettera rappresenta correttamente la posizione di 0,40?
b) Quale lettera rappresenta correttamente la posizione di 0,98?

1. D B
2. A C
3. C D
4. B A
5. A C
6. D A
7. B D
8. B D