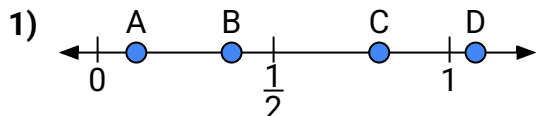
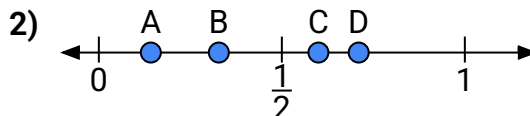




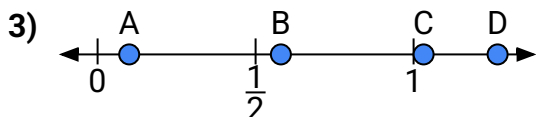
Usa la linea numerata per rispondere alle domande.

Risposte

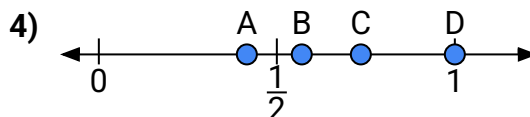
- a) Quale lettera rappresenta meglio la posizione di 0,80?
b) Quale lettera rappresenta meglio la posizione di 0,11?



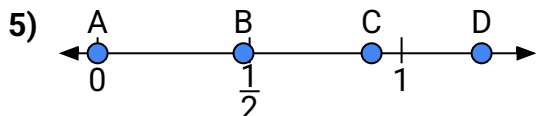
- a) Quale lettera rappresenta meglio la posizione di 0,6?
b) Quale lettera rappresenta meglio la posizione di 0,71?



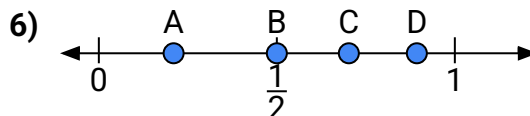
- a) Quale lettera rappresenta meglio la posizione di 0,10?
b) Quale lettera rappresenta meglio la posizione di 0,58?



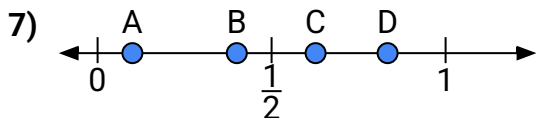
- a) Quale lettera rappresenta meglio la posizione di 1,00?
b) Quale lettera rappresenta meglio la posizione di 0,57?



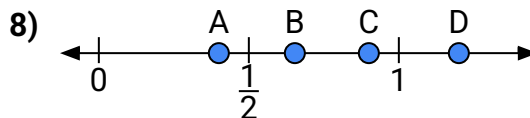
- a) Quale lettera rappresenta meglio la posizione di 0,0?
b) Quale lettera rappresenta meglio la posizione di 0,48?



- a) Quale lettera rappresenta meglio la posizione di 0,5?
b) Quale lettera rappresenta meglio la posizione di 0,21?



- a) Quale lettera rappresenta meglio la posizione di 0,40?
b) Quale lettera rappresenta meglio la posizione di 0,10?

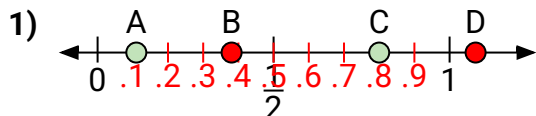


- a) Quale lettera rappresenta meglio la posizione di 0,9?
b) Quale lettera rappresenta meglio la posizione di 0,40?

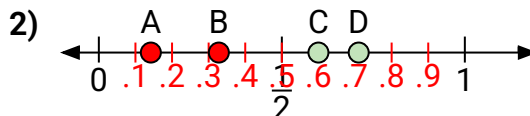
1. _____
2. _____
3. _____
4. _____
5. _____
6. _____
7. _____
8. _____



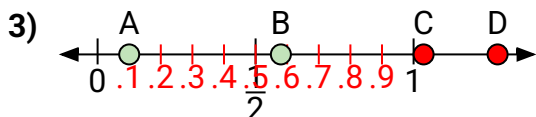
Usa la linea numerata per rispondere alle domande.

Risposte

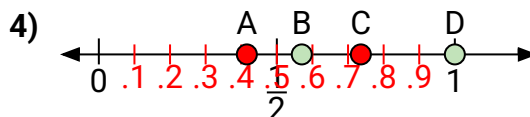
- a) Quale lettera rappresenta meglio la posizione di 0,80?
b) Quale lettera rappresenta meglio la posizione di 0,11?



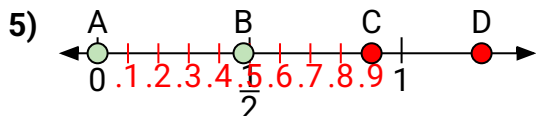
- a) Quale lettera rappresenta meglio la posizione di 0,6?
b) Quale lettera rappresenta meglio la posizione di 0,71?



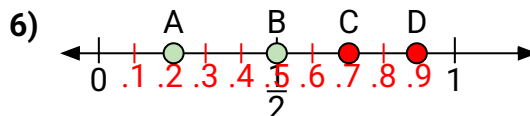
- a) Quale lettera rappresenta meglio la posizione di 0,10?
b) Quale lettera rappresenta meglio la posizione di 0,58?



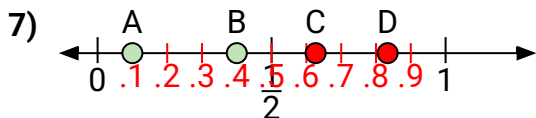
- a) Quale lettera rappresenta meglio la posizione di 1,00?
b) Quale lettera rappresenta meglio la posizione di 0,57?



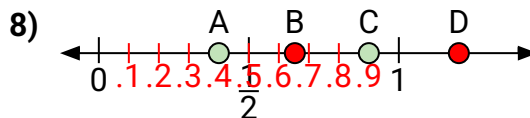
- a) Quale lettera rappresenta meglio la posizione di 0,0?
b) Quale lettera rappresenta meglio la posizione di 0,48?



- a) Quale lettera rappresenta meglio la posizione di 0,5?
b) Quale lettera rappresenta meglio la posizione di 0,21?



- a) Quale lettera rappresenta meglio la posizione di 0,40?
b) Quale lettera rappresenta meglio la posizione di 0,10?



- a) Quale lettera rappresenta meglio la posizione di 0,9?
b) Quale lettera rappresenta meglio la posizione di 0,40?

1. C A
2. C D
3. A B
4. D B
5. A B
6. B A
7. B A
8. C A