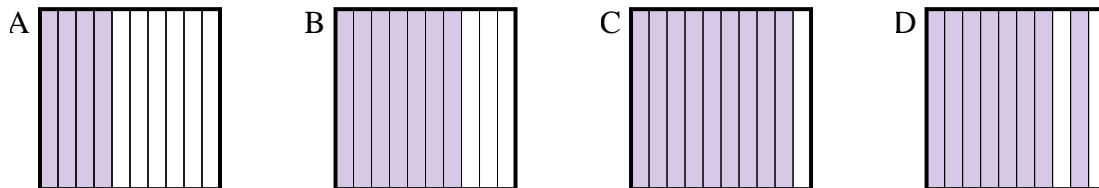




Determina quale lettera risponde correttamente alla domanda.

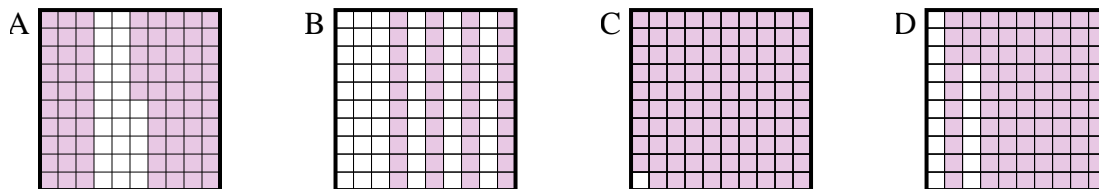
Risposte

1) Quale griglia 10×1 è colorata in modo da rappresentare un numero decimale, che sommato a 0,3 fa 1,00?



1. _____

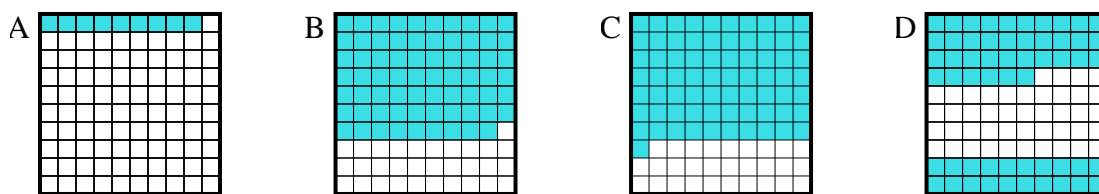
2) Quale griglia 10×10 è colorata in modo da rappresentare un numero decimale, che sommato a 0,25 fa 1,00?



2. _____

3. _____

3) Quale griglia 10×10 è colorata in modo da rappresentare un numero decimale, che sommato a 0,29 fa 1,00?

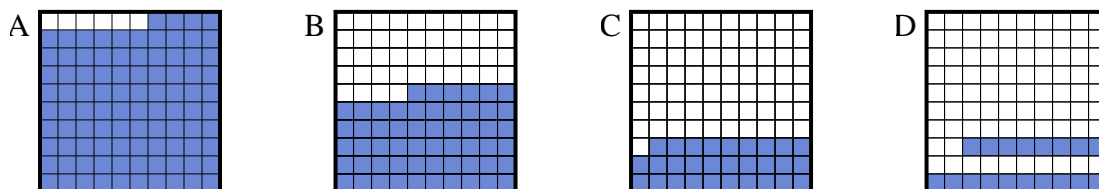


4. _____

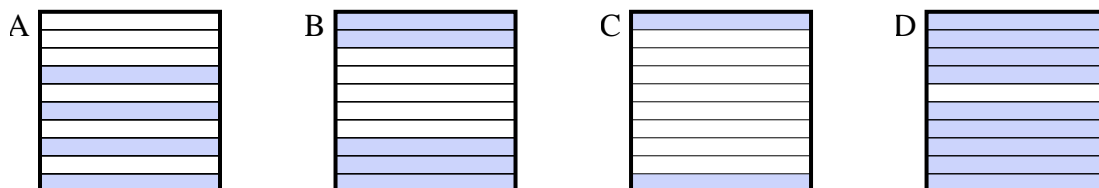
5. _____

6. _____

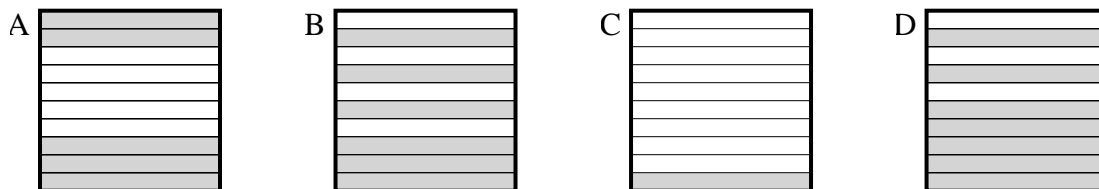
4) Quale griglia 10×10 è colorata in modo da rappresentare un numero decimale, che sommato a 0,06 fa 1,00?



5) Quale griglia 10×1 è colorata in modo da rappresentare un numero decimale, che sommato a 0,8 fa 1,00?



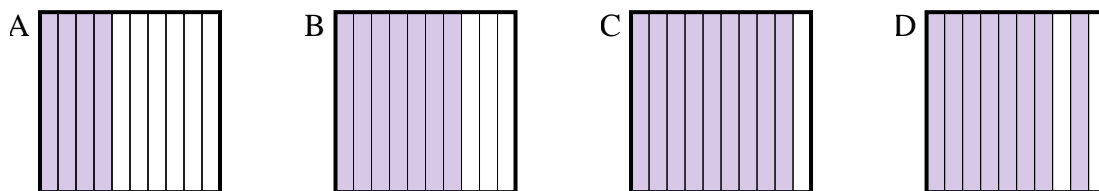
6) Quale griglia 10×1 è colorata in modo da rappresentare un numero decimale, che sommato a 0,9 fa 1,00?



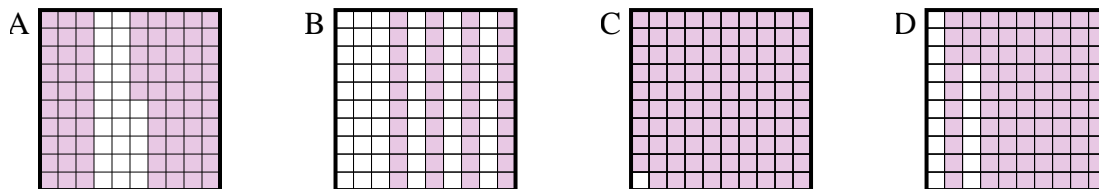


Determina quale lettera risponde correttamente alla domanda.

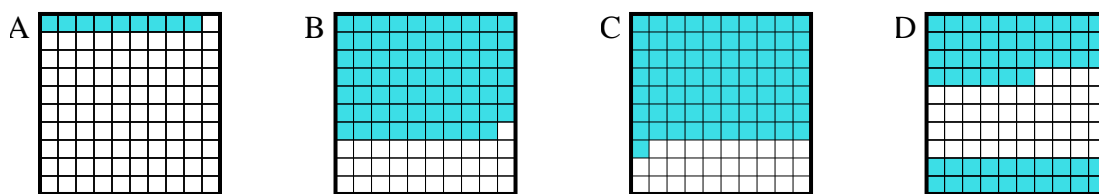
1) Quale griglia 10×1 è colorata in modo da rappresentare un numero decimale, che sommato a 0,3 fa 1,00?



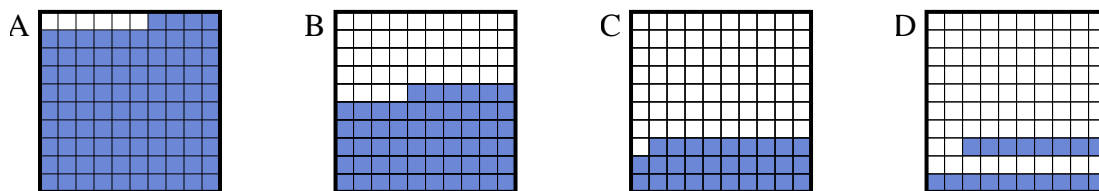
2) Quale griglia 10×10 è colorata in modo da rappresentare un numero decimale, che sommato a 0,25 fa 1,00?



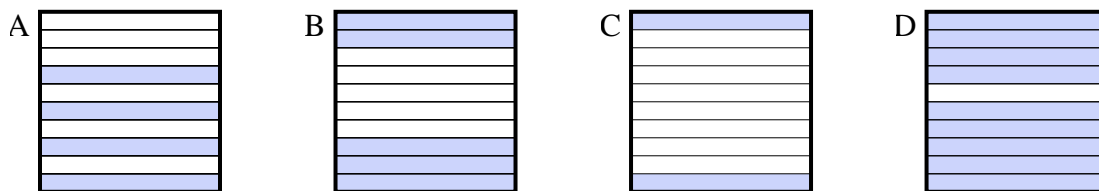
3) Quale griglia 10×10 è colorata in modo da rappresentare un numero decimale, che sommato a 0,29 fa 1,00?



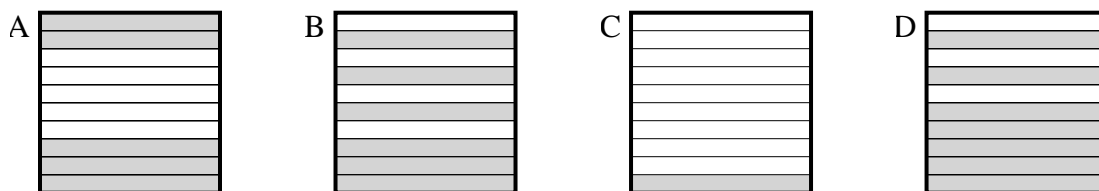
4) Quale griglia 10×10 è colorata in modo da rappresentare un numero decimale, che sommato a 0,06 fa 1,00?



5) Quale griglia 10×1 è colorata in modo da rappresentare un numero decimale, che sommato a 0,8 fa 1,00?



6) Quale griglia 10×1 è colorata in modo da rappresentare un numero decimale, che sommato a 0,9 fa 1,00?



Risposte

1. **B**

2. **A**

3. **C**

4. **A**

5. **C**

6. **C**