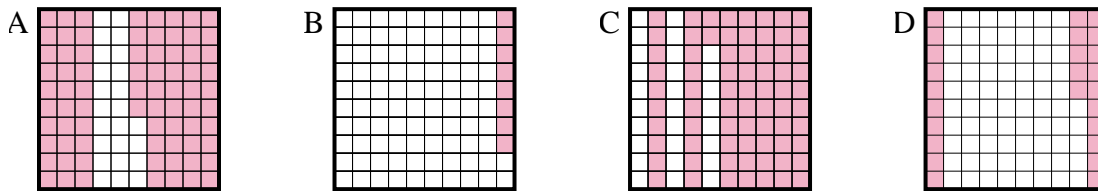




Determina quale lettera risponde correttamente alla domanda.

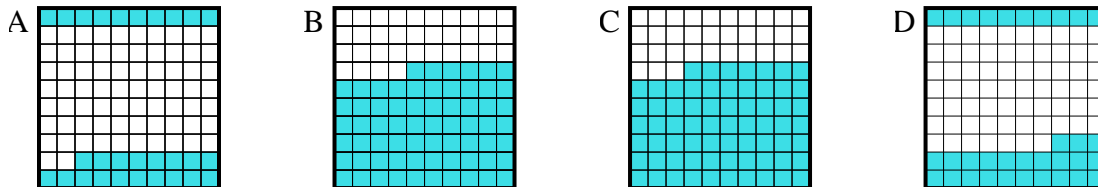
Risposte

1) Quale griglia 10×10 è colorata in modo da rappresentare un numero decimale, che sommato a 0,75 fa 1,00?

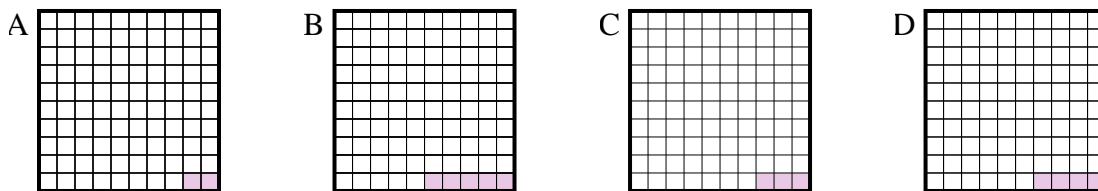


1. _____
 2. _____
 3. _____
 4. _____
 5. _____
 6. _____

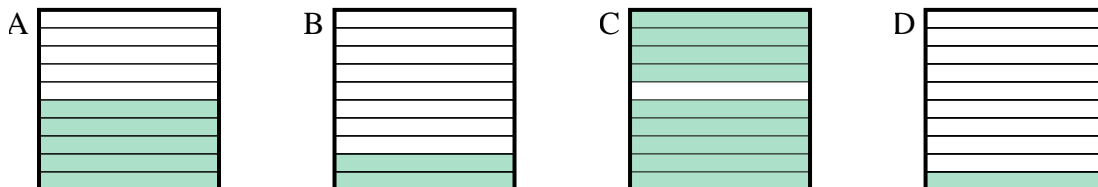
2) Quale griglia 10×10 è colorata in modo da rappresentare un numero decimale, che sommato a 0,67 fa 1,00?



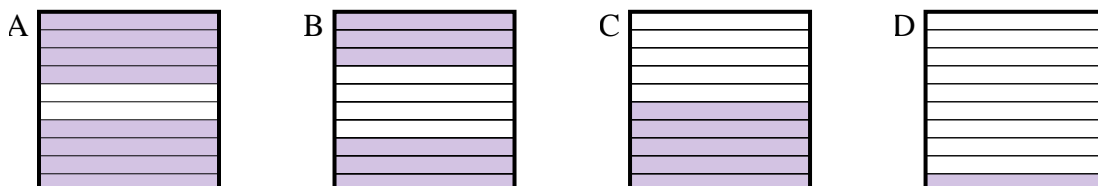
3) Quale griglia 10×10 è colorata in modo da rappresentare un numero decimale, che sommato a 0,97 fa 1,00?



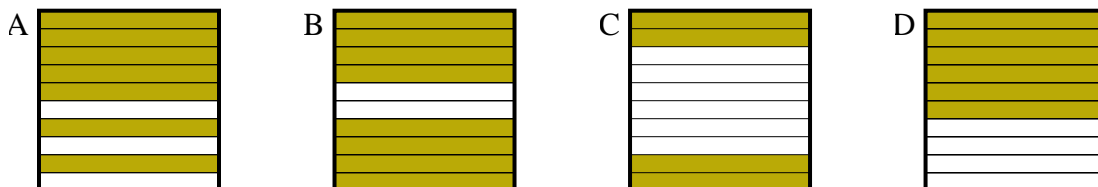
4) Quale griglia 10×1 è colorata in modo da rappresentare un numero decimale, che sommato a 0,1 fa 1,00?



5) Quale griglia 10×1 è colorata in modo da rappresentare un numero decimale, che sommato a 0,2 fa 1,00?



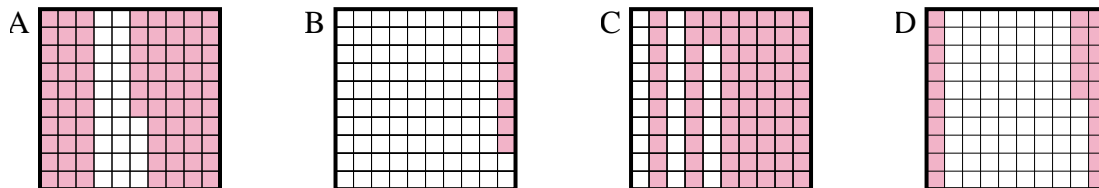
6) Quale griglia 10×1 è colorata in modo da rappresentare un numero decimale, che sommato a 0,6 fa 1,00?



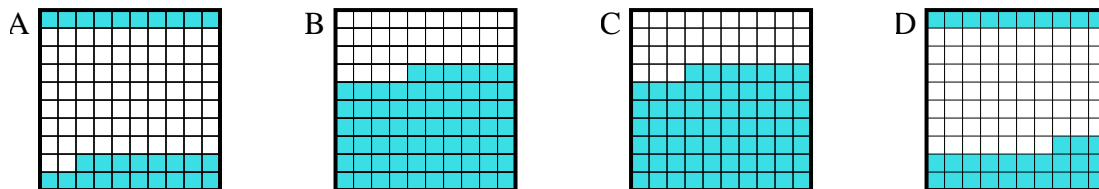


Determina quale lettera risponde correttamente alla domanda.

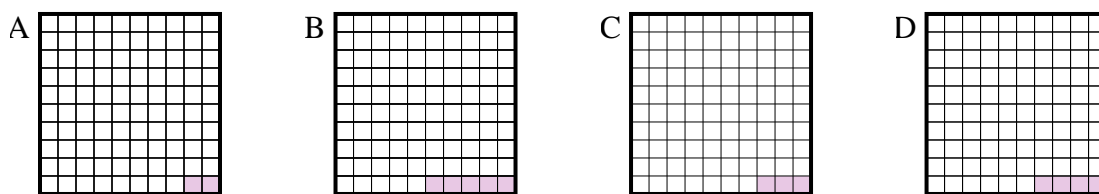
1) Quale griglia 10×10 è colorata in modo da rappresentare un numero decimale, che sommato a 0,75 fa 1,00?



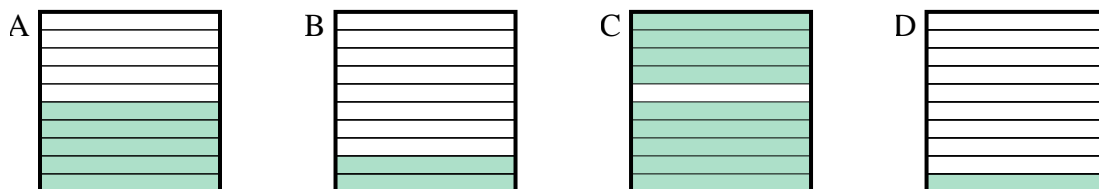
2) Quale griglia 10×10 è colorata in modo da rappresentare un numero decimale, che sommato a 0,67 fa 1,00?



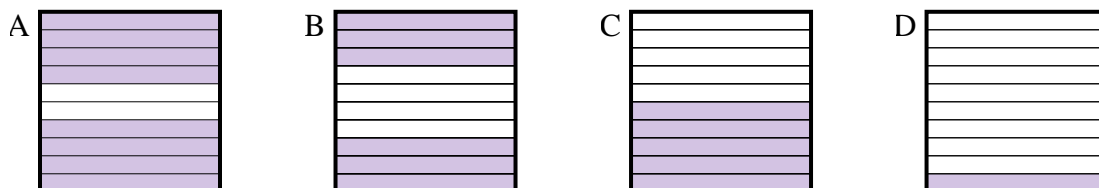
3) Quale griglia 10×10 è colorata in modo da rappresentare un numero decimale, che sommato a 0,97 fa 1,00?



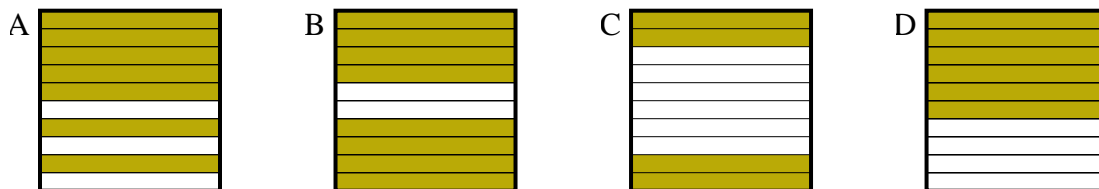
4) Quale griglia 10×1 è colorata in modo da rappresentare un numero decimale, che sommato a 0,1 fa 1,00?



5) Quale griglia 10×1 è colorata in modo da rappresentare un numero decimale, che sommato a 0,2 fa 1,00?



6) Quale griglia 10×1 è colorata in modo da rappresentare un numero decimale, che sommato a 0,6 fa 1,00?



Risposte

1. **D**

2. **D**

3. **C**

4. **C**

5. **A**

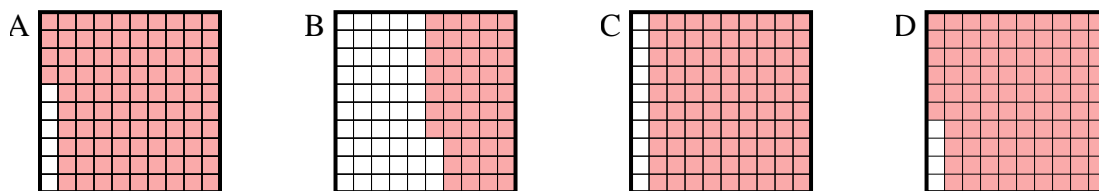
6. **C**



Determina quale lettera risponde correttamente alla domanda.

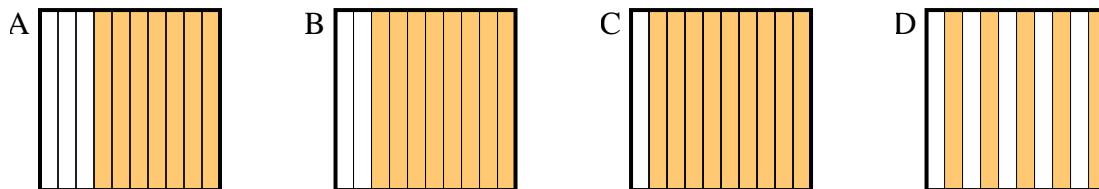
Risposte

1) Quale griglia 10×10 è colorata in modo da rappresentare un numero decimale, che sommato a $0,04$ fa $1,00$?



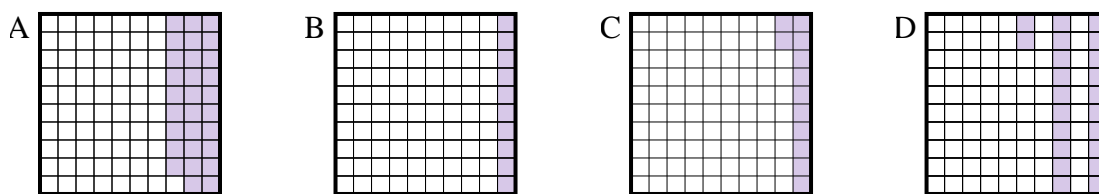
1. _____

2) Quale griglia 10×1 è colorata in modo da rappresentare un numero decimale, che sommato a $0,5$ fa $1,00$?



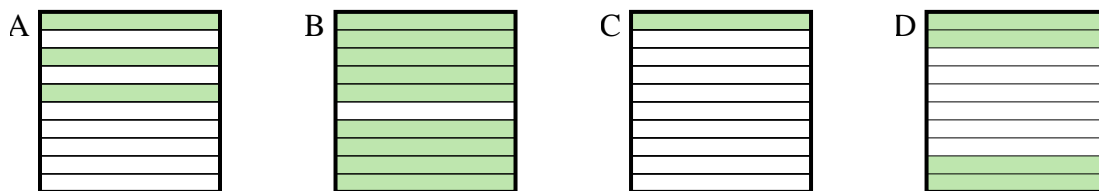
2. _____

3) Quale griglia 10×10 è colorata in modo da rappresentare un numero decimale, che sommato a $0,88$ fa $1,00$?



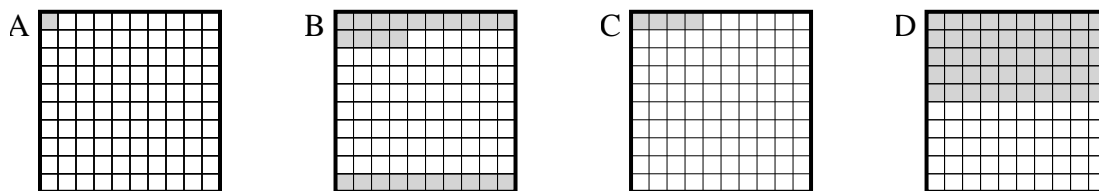
3. _____

4) Quale griglia 10×1 è colorata in modo da rappresentare un numero decimale, che sommato a $0,6$ fa $1,00$?



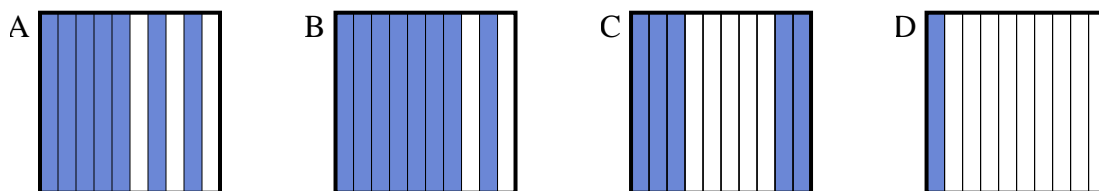
4. _____

5) Quale griglia 10×10 è colorata in modo da rappresentare un numero decimale, che sommato a $0,96$ fa $1,00$?



5. _____

6) Quale griglia 10×1 è colorata in modo da rappresentare un numero decimale, che sommato a $0,3$ fa $1,00$?

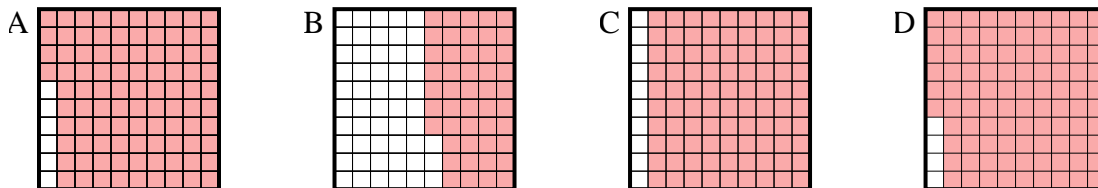


6. _____

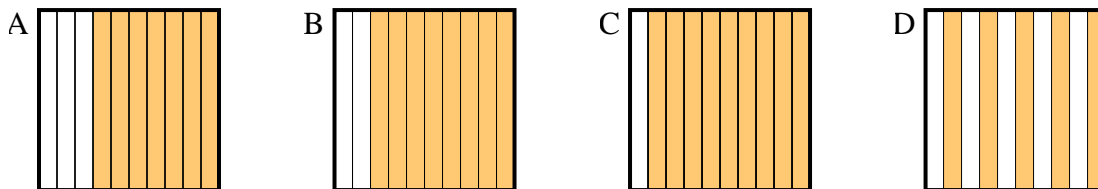


Determina quale lettera risponde correttamente alla domanda.

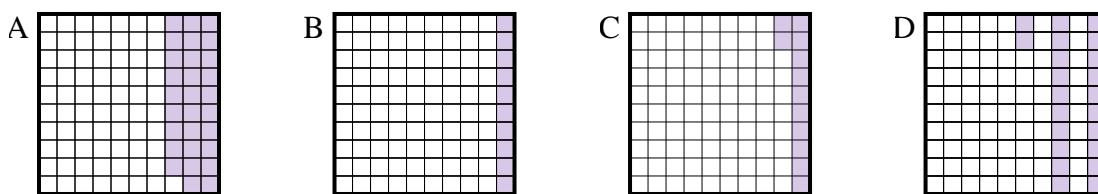
1) Quale griglia 10×10 è colorata in modo da rappresentare un numero decimale, che sommato a $0,04$ fa $1,00$?



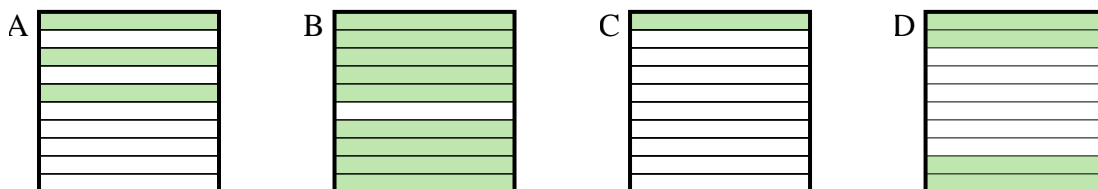
2) Quale griglia 10×1 è colorata in modo da rappresentare un numero decimale, che sommato a $0,5$ fa $1,00$?



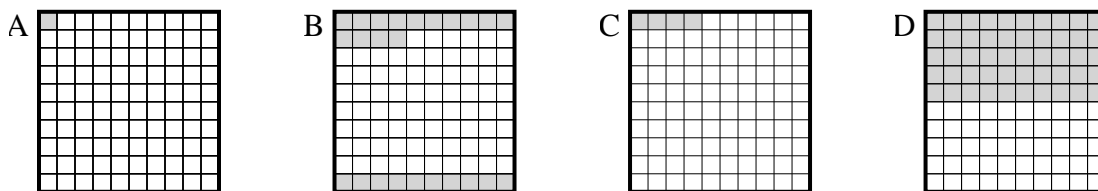
3) Quale griglia 10×10 è colorata in modo da rappresentare un numero decimale, che sommato a $0,88$ fa $1,00$?



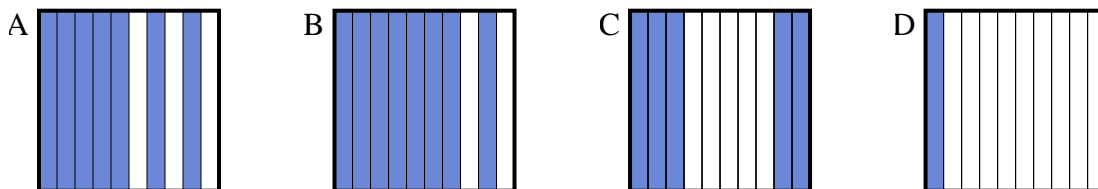
4) Quale griglia 10×1 è colorata in modo da rappresentare un numero decimale, che sommato a $0,6$ fa $1,00$?



5) Quale griglia 10×10 è colorata in modo da rappresentare un numero decimale, che sommato a $0,96$ fa $1,00$?



6) Quale griglia 10×1 è colorata in modo da rappresentare un numero decimale, che sommato a $0,3$ fa $1,00$?



Risposte

1. **D**

2. **D**

3. **C**

4. **D**

5. **C**

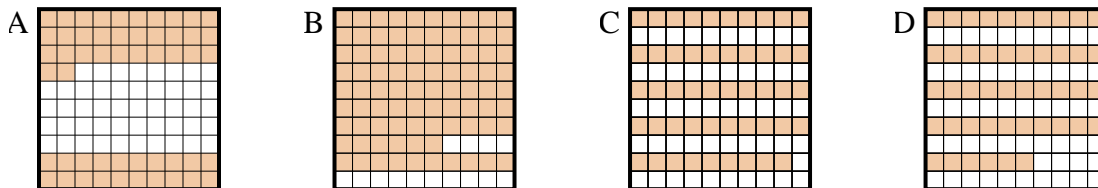
6. **A**



Determina quale lettera risponde correttamente alla domanda.

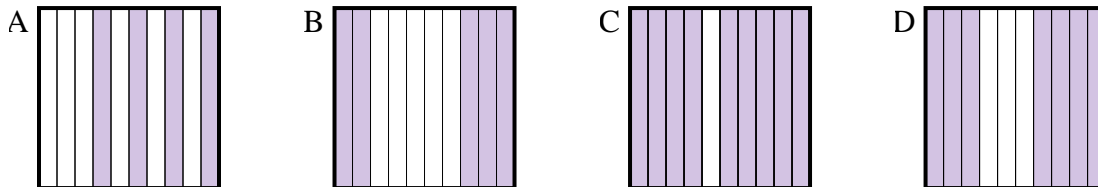
Risposte

1) Quale griglia 10×10 è colorata in modo da rappresentare un numero decimale, che sommato a 0,48 fa 1,00?



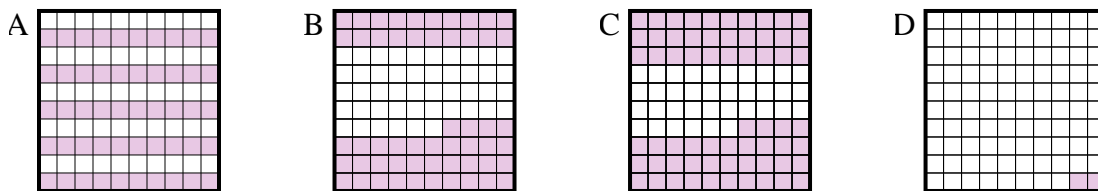
1. _____
 2. _____
 3. _____

2) Quale griglia 10×1 è colorata in modo da rappresentare un numero decimale, che sommato a 0,5 fa 1,00?

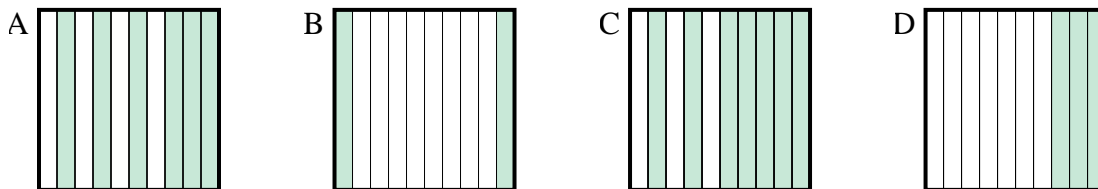


4. _____
 5. _____
 6. _____

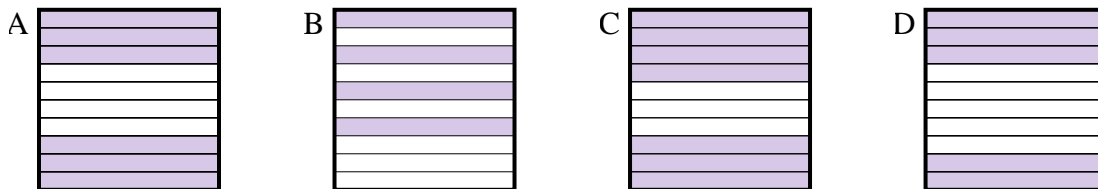
3) Quale griglia 10×10 è colorata in modo da rappresentare un numero decimale, che sommato a 0,5 fa 1,00?



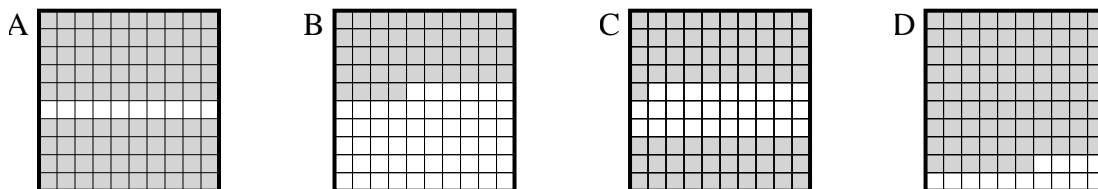
4) Quale griglia 10×1 è colorata in modo da rappresentare un numero decimale, che sommato a 0,8 fa 1,00?



5) Quale griglia 10×1 è colorata in modo da rappresentare un numero decimale, che sommato a 0,6 fa 1,00?



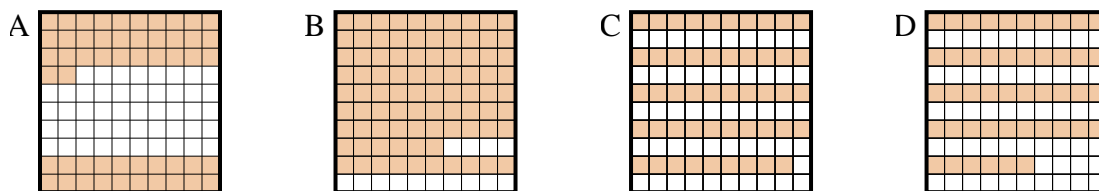
6) Quale griglia 10×10 è colorata in modo da rappresentare un numero decimale, che sommato a 0,1 fa 1,00?



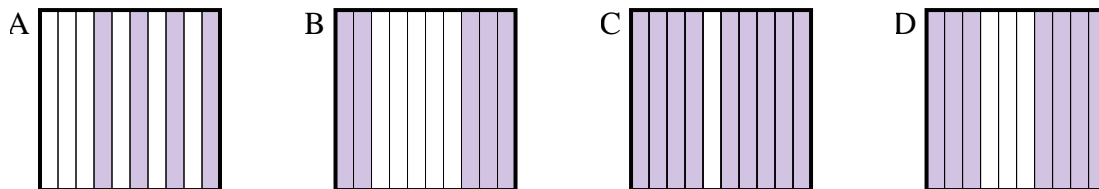


Determina quale lettera risponde correttamente alla domanda.

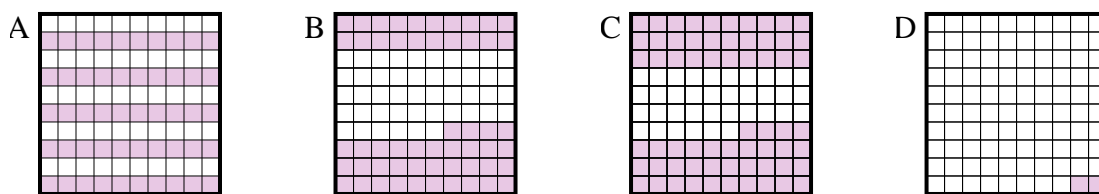
1) Quale griglia 10×10 è colorata in modo da rappresentare un numero decimale, che sommato a 0,48 fa 1,00?



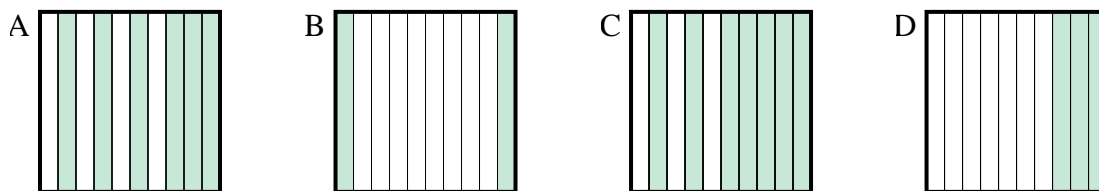
2) Quale griglia 10×1 è colorata in modo da rappresentare un numero decimale, che sommato a 0,5 fa 1,00?



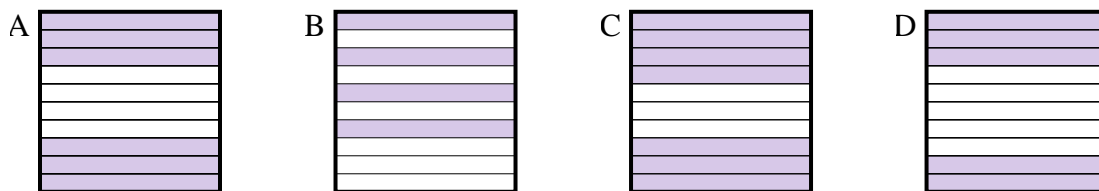
3) Quale griglia 10×10 è colorata in modo da rappresentare un numero decimale, che sommato a 0,5 fa 1,00?



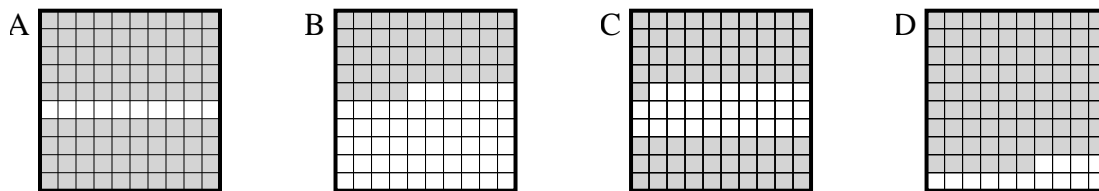
4) Quale griglia 10×1 è colorata in modo da rappresentare un numero decimale, che sommato a 0,8 fa 1,00?



5) Quale griglia 10×1 è colorata in modo da rappresentare un numero decimale, che sommato a 0,6 fa 1,00?



6) Quale griglia 10×10 è colorata in modo da rappresentare un numero decimale, che sommato a 0,1 fa 1,00?



Risposte

1. **A**

2. **B**

3. **A**

4. **B**

5. **B**

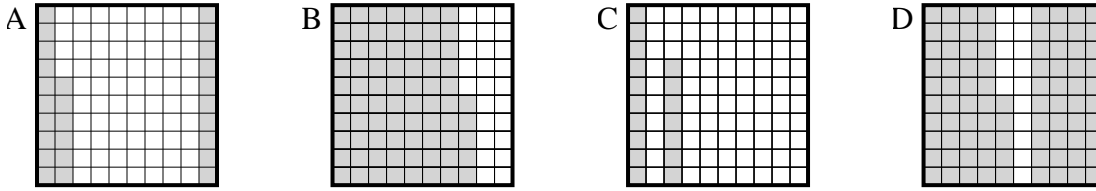
6. **A**



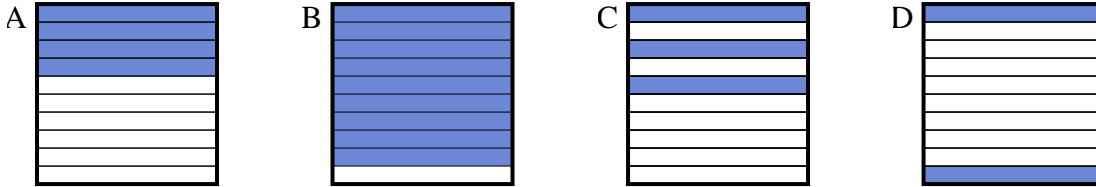
Determina quale lettera risponde correttamente alla domanda.

Risposte

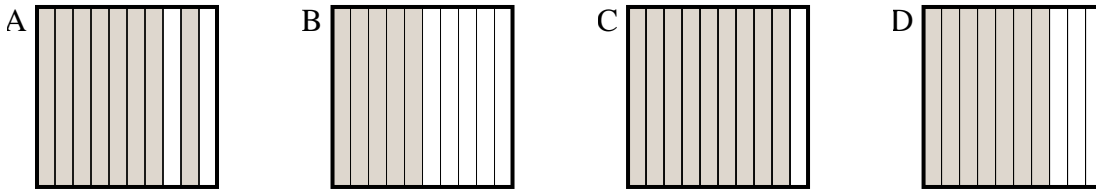
1) Quale griglia 10×10 è colorata in modo da rappresentare un numero decimale, che sommato a $0,74$ fa $1,00$?



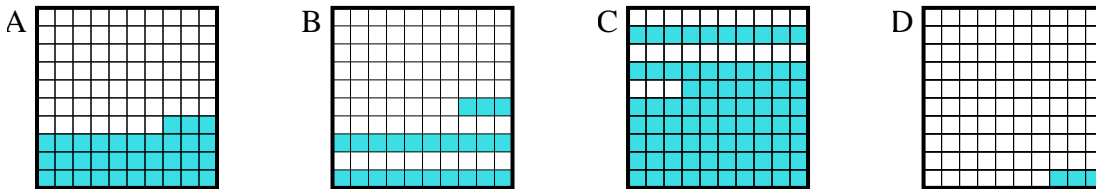
2) Quale griglia 10×1 è colorata in modo da rappresentare un numero decimale, che sommato a $0,1$ fa $1,00$?



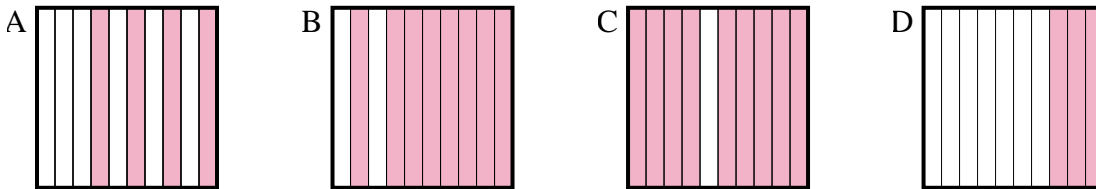
3) Quale griglia 10×1 è colorata in modo da rappresentare un numero decimale, che sommato a $0,5$ fa $1,00$?



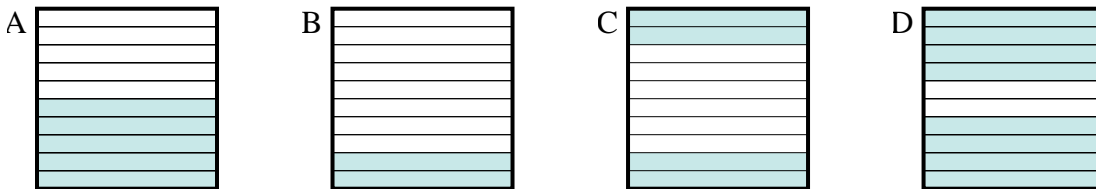
4) Quale griglia 10×10 è colorata in modo da rappresentare un numero decimale, che sommato a $0,77$ fa $1,00$?



5) Quale griglia 10×1 è colorata in modo da rappresentare un numero decimale, che sommato a $0,7$ fa $1,00$?



6) Quale griglia 10×1 è colorata in modo da rappresentare un numero decimale, che sommato a $0,6$ fa $1,00$?



1. _____

2. _____

3. _____

4. _____

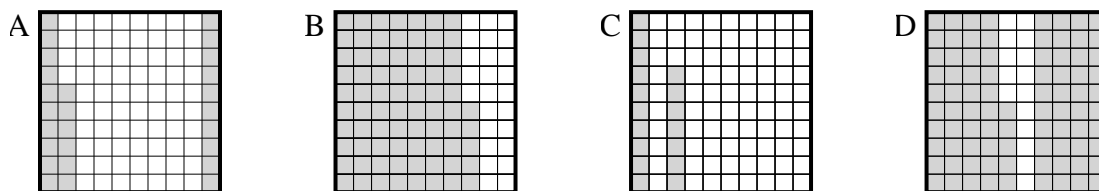
5. _____

6. _____

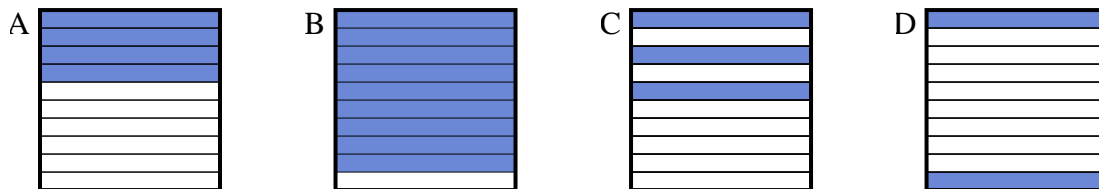


Determina quale lettera risponde correttamente alla domanda.

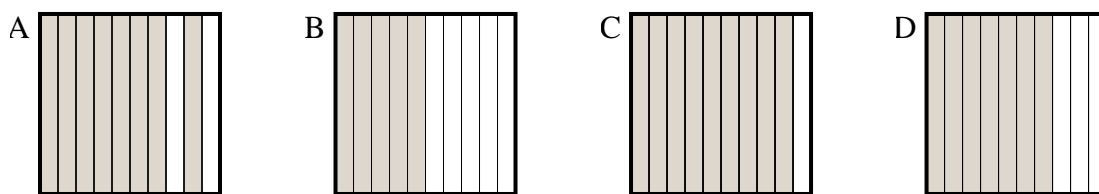
1) Quale griglia 10×10 è colorata in modo da rappresentare un numero decimale, che sommato a $0,74$ fa $1,00$?



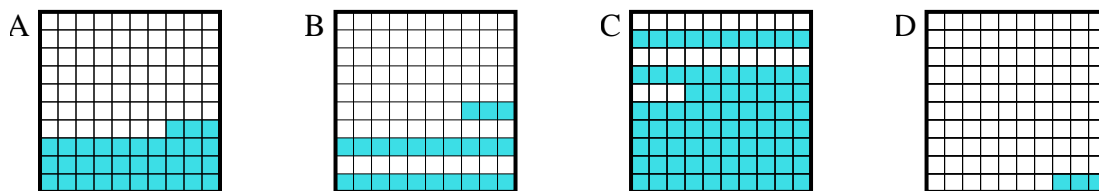
2) Quale griglia 10×1 è colorata in modo da rappresentare un numero decimale, che sommato a $0,1$ fa $1,00$?



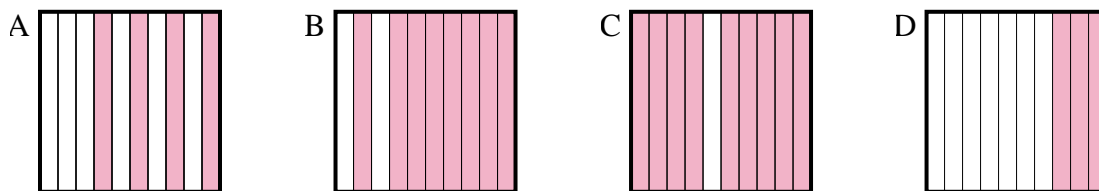
3) Quale griglia 10×1 è colorata in modo da rappresentare un numero decimale, che sommato a $0,5$ fa $1,00$?



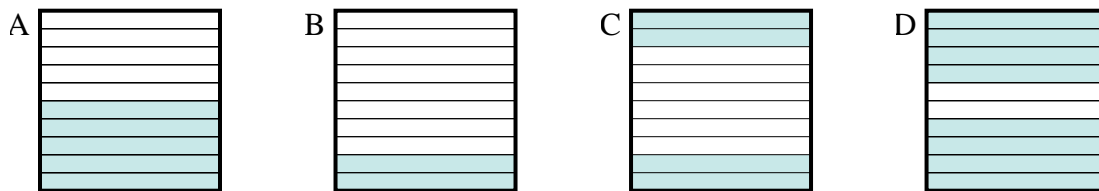
4) Quale griglia 10×10 è colorata in modo da rappresentare un numero decimale, che sommato a $0,77$ fa $1,00$?



5) Quale griglia 10×1 è colorata in modo da rappresentare un numero decimale, che sommato a $0,7$ fa $1,00$?



6) Quale griglia 10×1 è colorata in modo da rappresentare un numero decimale, che sommato a $0,6$ fa $1,00$?



Risposte

1. **A**

2. **B**

3. **B**

4. **B**

5. **D**

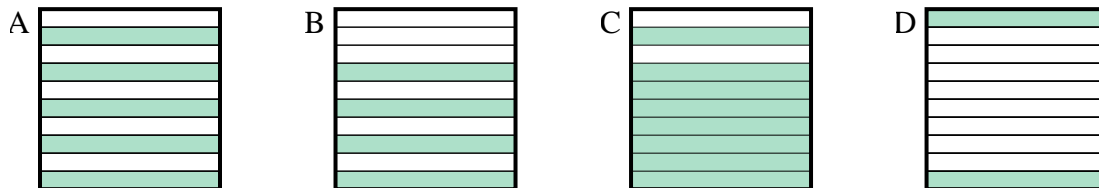
6. **C**



Determina quale lettera risponde correttamente alla domanda.

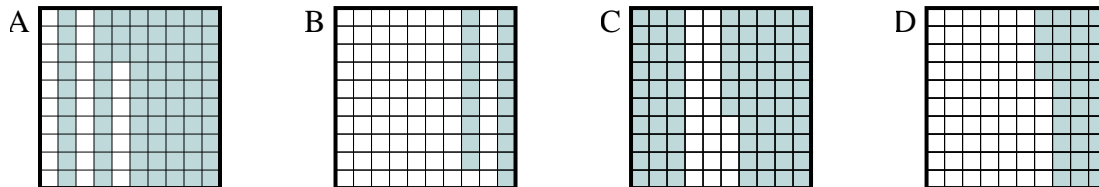
Risposte

1) Quale griglia 10×1 è colorata in modo da rappresentare un numero decimale, che sommato a 0,2 fa 1,00?



1. _____

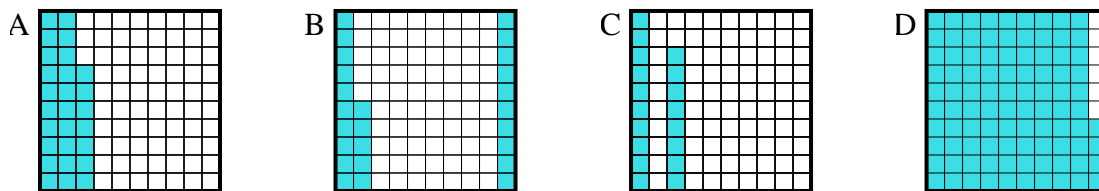
2) Quale griglia 10×10 è colorata in modo da rappresentare un numero decimale, che sommato a 0,27 fa 1,00?



2. _____

3. _____

3) Quale griglia 10×10 è colorata in modo da rappresentare un numero decimale, che sommato a 0,06 fa 1,00?

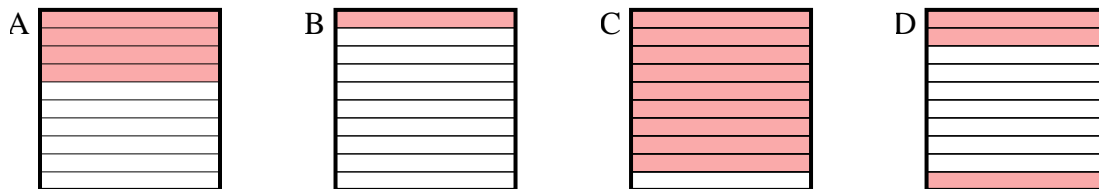


4. _____

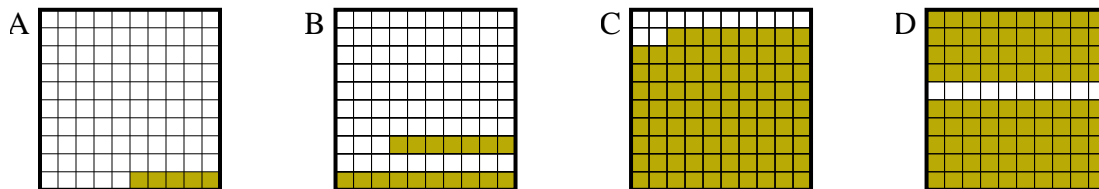
5. _____

6. _____

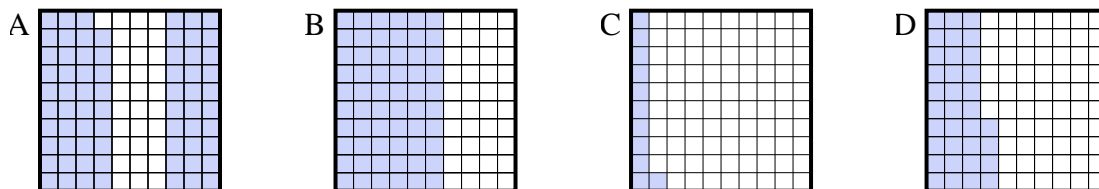
4) Quale griglia 10×1 è colorata in modo da rappresentare un numero decimale, che sommato a 0,6 fa 1,00?



5) Quale griglia 10×10 è colorata in modo da rappresentare un numero decimale, che sommato a 0,95 fa 1,00?



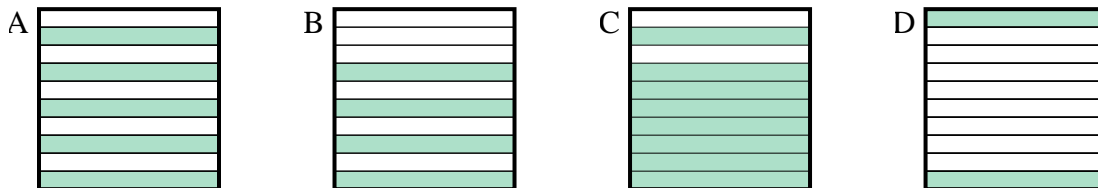
6) Quale griglia 10×10 è colorata in modo da rappresentare un numero decimale, che sommato a 0,89 fa 1,00?



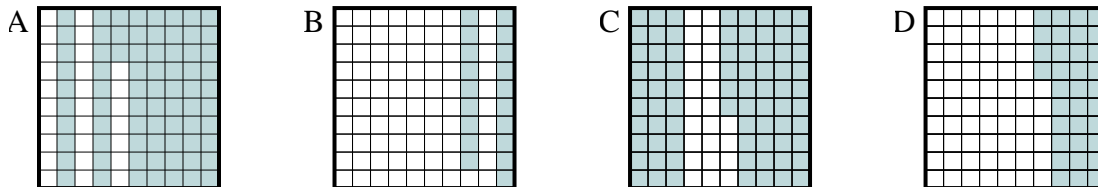


Determina quale lettera risponde correttamente alla domanda.

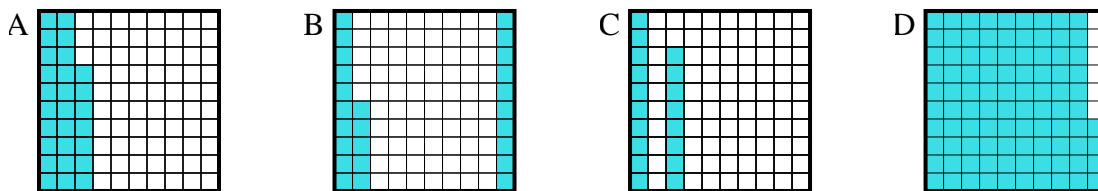
1) Quale griglia 10×1 è colorata in modo da rappresentare un numero decimale, che sommato a 0,2 fa 1,00?



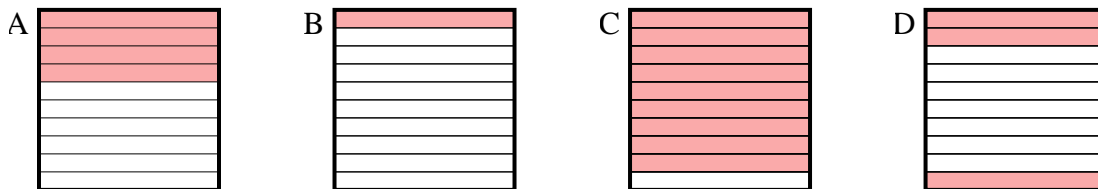
2) Quale griglia 10×10 è colorata in modo da rappresentare un numero decimale, che sommato a 0,27 fa 1,00?



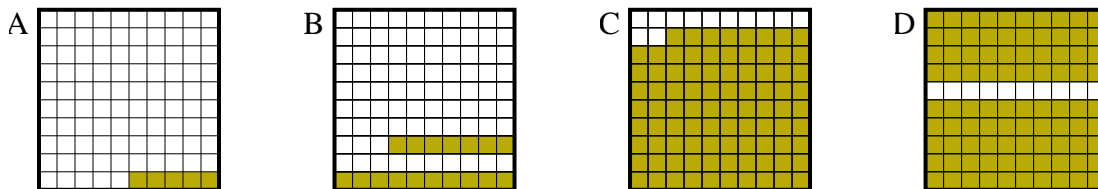
3) Quale griglia 10×10 è colorata in modo da rappresentare un numero decimale, che sommato a 0,06 fa 1,00?



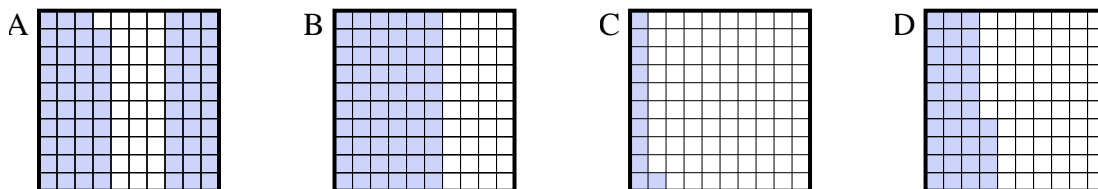
4) Quale griglia 10×1 è colorata in modo da rappresentare un numero decimale, che sommato a 0,6 fa 1,00?



5) Quale griglia 10×10 è colorata in modo da rappresentare un numero decimale, che sommato a 0,95 fa 1,00?



6) Quale griglia 10×10 è colorata in modo da rappresentare un numero decimale, che sommato a 0,89 fa 1,00?



Risposte

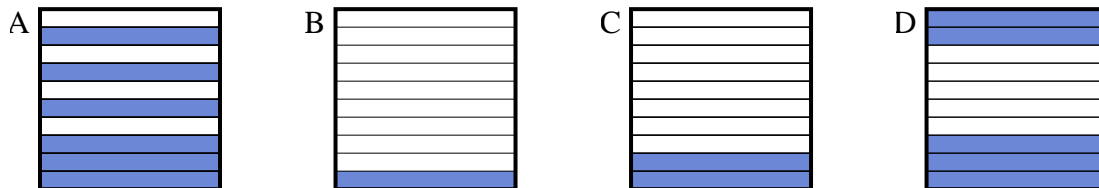
1. **C**
2. **A**
3. **D**
4. **A**
5. **A**
6. **C**



Determina quale lettera risponde correttamente alla domanda.

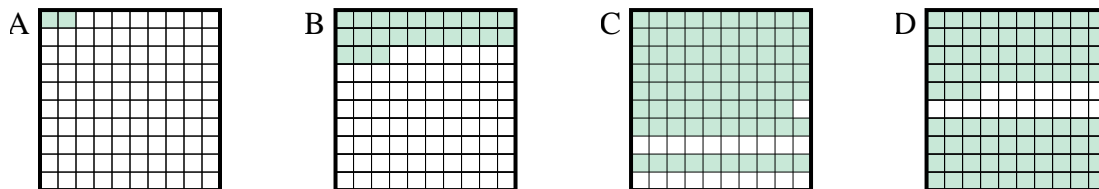
Risposte

1) Quale griglia 10×1 è colorata in modo da rappresentare un numero decimale, che sommato a 0,9 fa 1,00?



1. _____

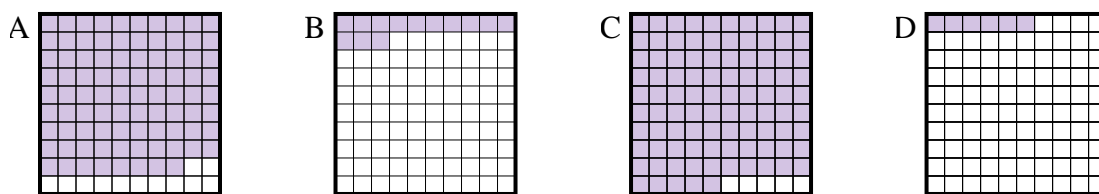
2) Quale griglia 10×10 è colorata in modo da rappresentare un numero decimale, che sommato a 0,21 fa 1,00?



2. _____

3. _____

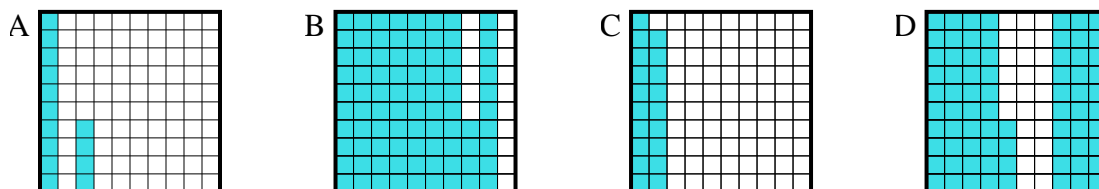
3) Quale griglia 10×10 è colorata in modo da rappresentare un numero decimale, che sommato a 0,87 fa 1,00?



4. _____

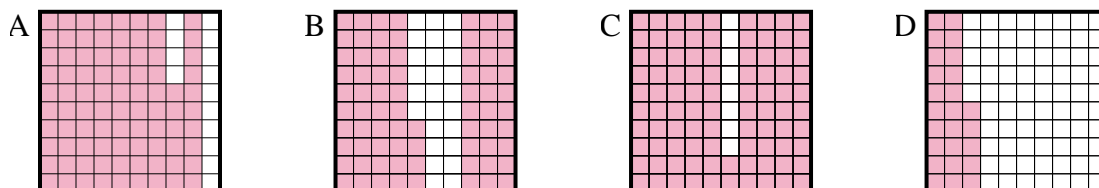
5. _____

4) Quale griglia 10×10 è colorata in modo da rappresentare un numero decimale, che sommato a 0,86 fa 1,00?

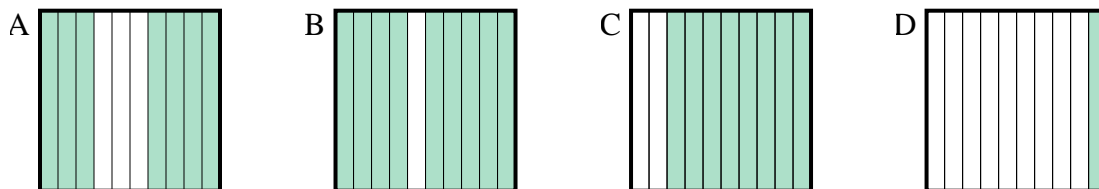


6. _____

5) Quale griglia 10×10 è colorata in modo da rappresentare un numero decimale, che sommato a 0,14 fa 1,00?



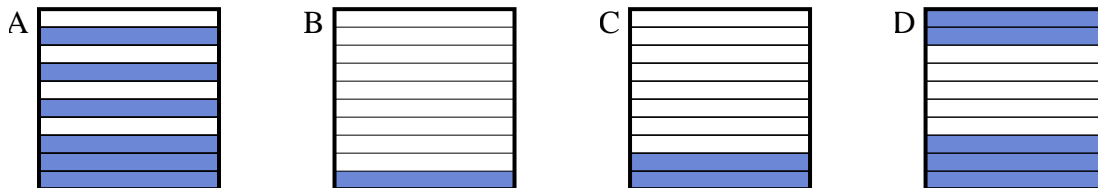
6) Quale griglia 10×1 è colorata in modo da rappresentare un numero decimale, che sommato a 0,3 fa 1,00?



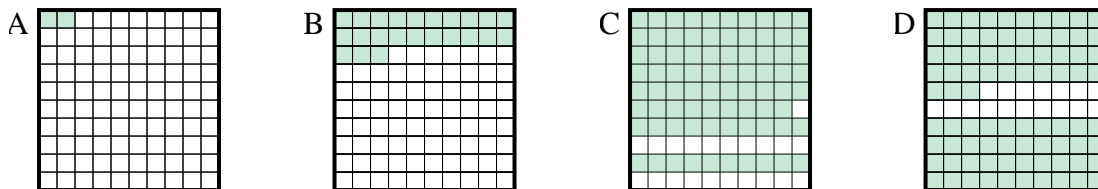


Determina quale lettera risponde correttamente alla domanda.

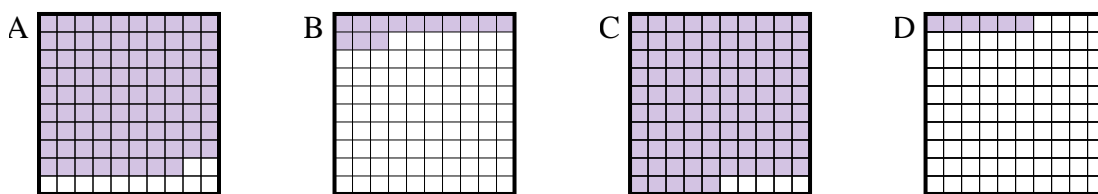
1) Quale griglia 10×1 è colorata in modo da rappresentare un numero decimale, che sommato a 0,9 fa 1,00?



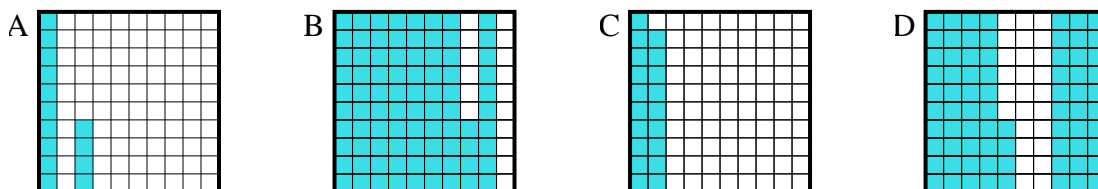
2) Quale griglia 10×10 è colorata in modo da rappresentare un numero decimale, che sommato a 0,21 fa 1,00?



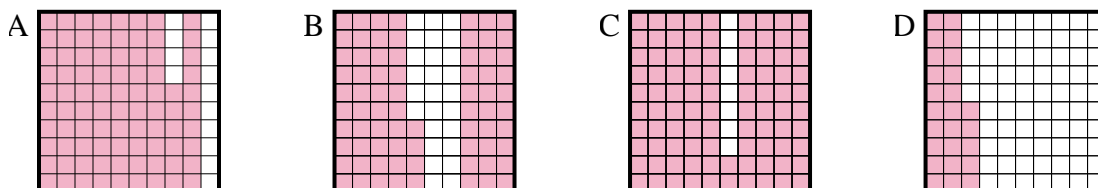
3) Quale griglia 10×10 è colorata in modo da rappresentare un numero decimale, che sommato a 0,87 fa 1,00?



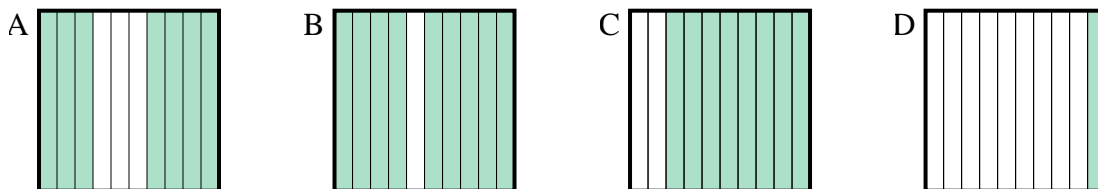
4) Quale griglia 10×10 è colorata in modo da rappresentare un numero decimale, che sommato a 0,86 fa 1,00?



5) Quale griglia 10×10 è colorata in modo da rappresentare un numero decimale, che sommato a 0,14 fa 1,00?



6) Quale griglia 10×1 è colorata in modo da rappresentare un numero decimale, che sommato a 0,3 fa 1,00?



Risposte

1. **B**

2. **C**

3. **B**

4. **A**

5. **A**

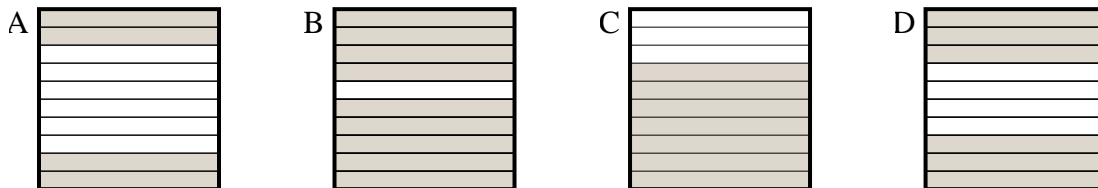
6. **A**



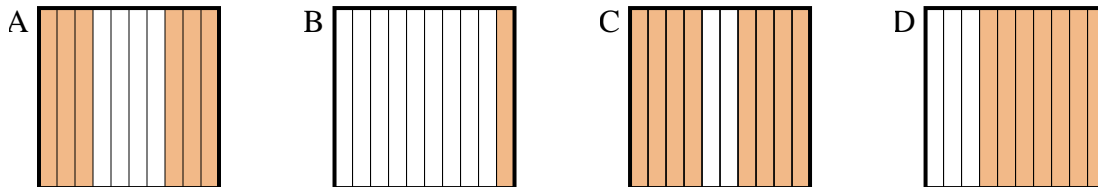
Determina quale lettera risponde correttamente alla domanda.

Risposte

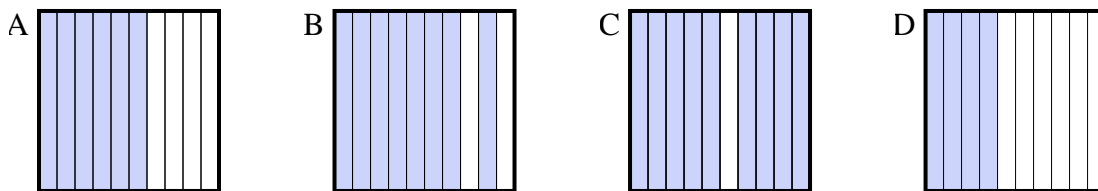
1) Quale griglia 10×1 è colorata in modo da rappresentare un numero decimale, che sommato a 0,3 fa 1,00?



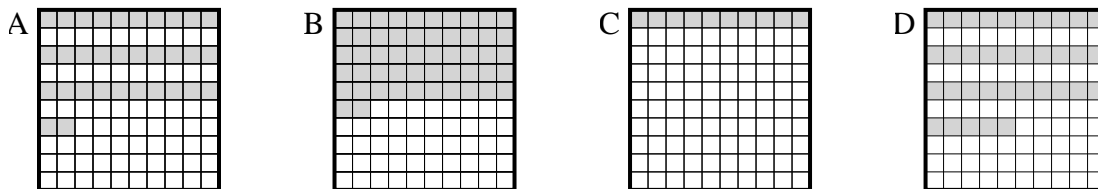
2) Quale griglia 10×1 è colorata in modo da rappresentare un numero decimale, che sommato a 0,4 fa 1,00?



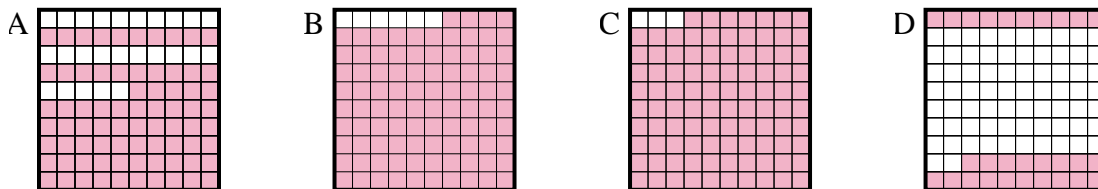
3) Quale griglia 10×1 è colorata in modo da rappresentare un numero decimale, che sommato a 0,6 fa 1,00?



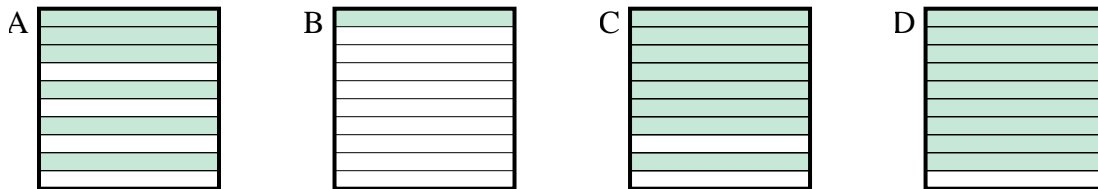
4) Quale griglia 10×10 è colorata in modo da rappresentare un numero decimale, che sommato a 0,65 fa 1,00?



5) Quale griglia 10×10 è colorata in modo da rappresentare un numero decimale, che sommato a 0,06 fa 1,00?



6) Quale griglia 10×1 è colorata in modo da rappresentare un numero decimale, che sommato a 0,9 fa 1,00?



1. _____

2. _____

3. _____

4. _____

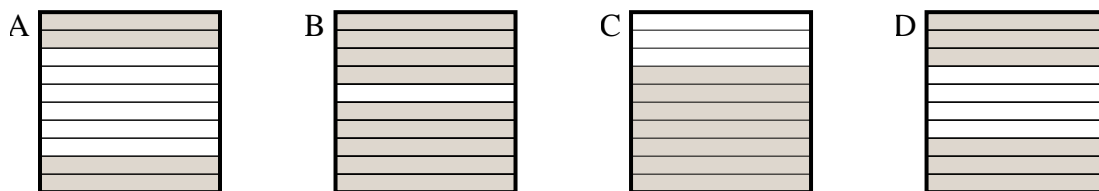
5. _____

6. _____

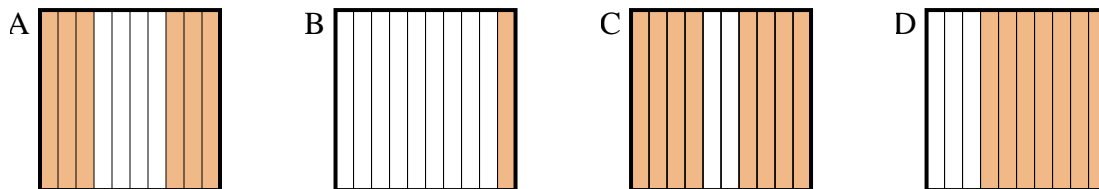


Determina quale lettera risponde correttamente alla domanda.

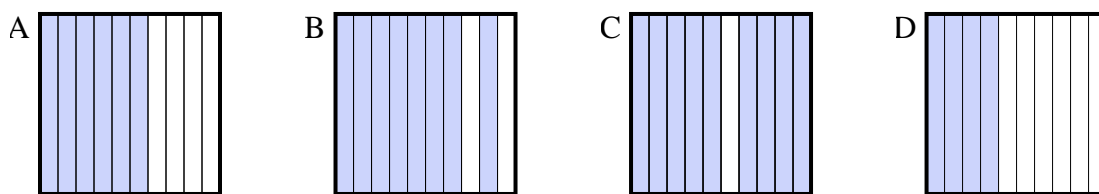
1) Quale griglia 10×1 è colorata in modo da rappresentare un numero decimale, che sommato a 0,3 fa 1,00?



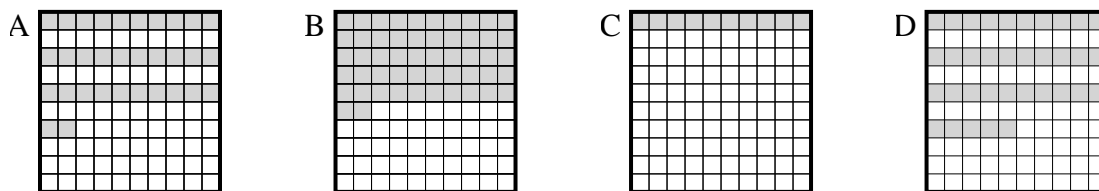
2) Quale griglia 10×1 è colorata in modo da rappresentare un numero decimale, che sommato a 0,4 fa 1,00?



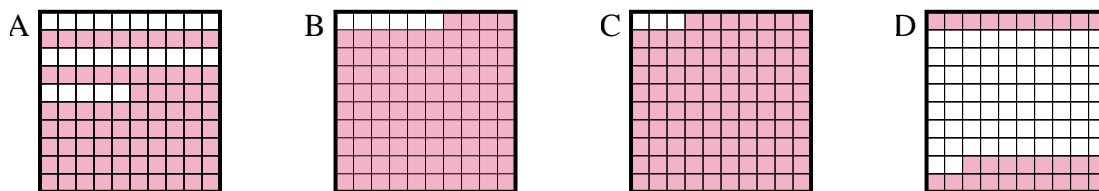
3) Quale griglia 10×1 è colorata in modo da rappresentare un numero decimale, che sommato a 0,6 fa 1,00?



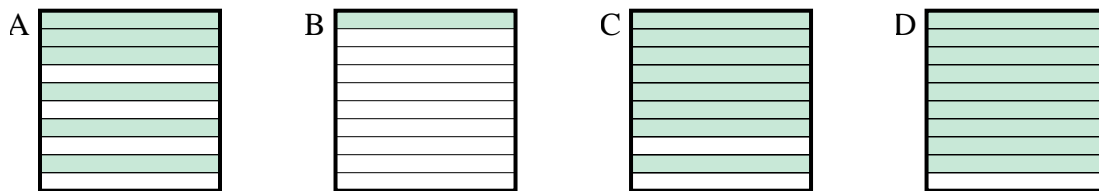
4) Quale griglia 10×10 è colorata in modo da rappresentare un numero decimale, che sommato a 0,65 fa 1,00?



5) Quale griglia 10×10 è colorata in modo da rappresentare un numero decimale, che sommato a 0,06 fa 1,00?



6) Quale griglia 10×1 è colorata in modo da rappresentare un numero decimale, che sommato a 0,9 fa 1,00?



Risposte

1. **C**

2. **A**

3. **D**

4. **D**

5. **B**

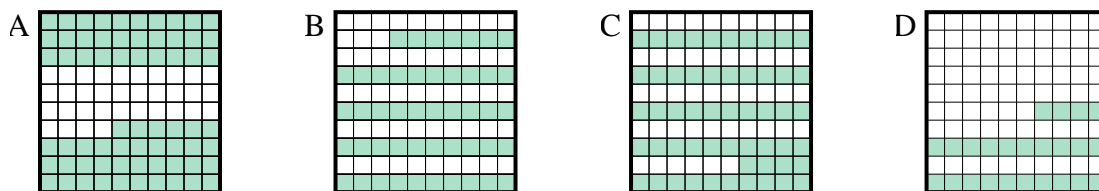
6. **B**



Determina quale lettera risponde correttamente alla domanda.

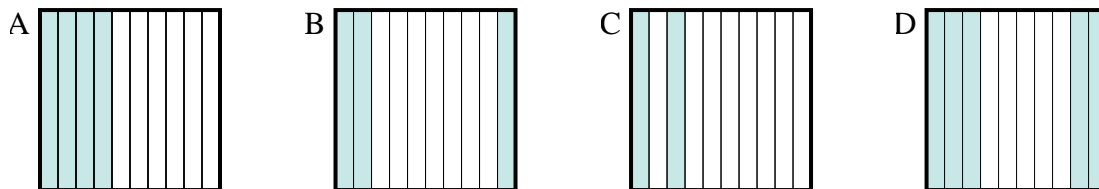
Risposte

1) Quale griglia 10×10 è colorata in modo da rappresentare un numero decimale, che sommato a $0,76$ fa $1,00$?



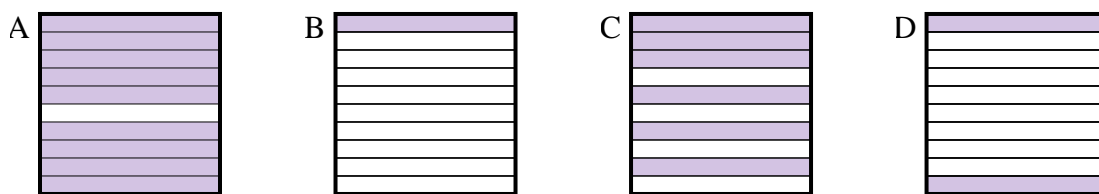
1. _____

2) Quale griglia 10×1 è colorata in modo da rappresentare un numero decimale, che sommato a $0,5$ fa $1,00$?



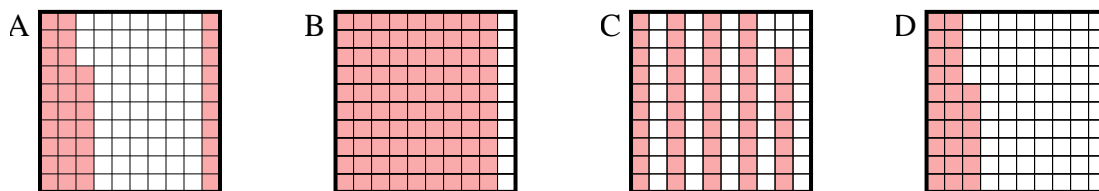
2. _____

3) Quale griglia 10×1 è colorata in modo da rappresentare un numero decimale, che sommato a $0,1$ fa $1,00$?



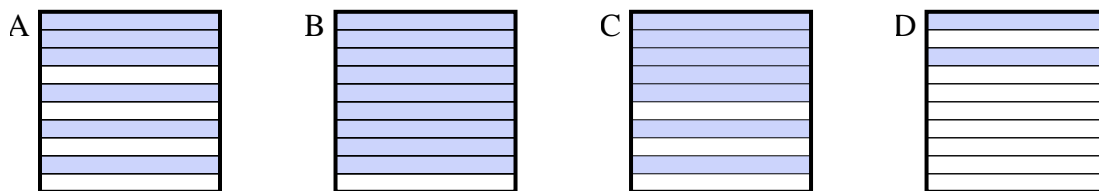
3. _____

4) Quale griglia 10×10 è colorata in modo da rappresentare un numero decimale, che sommato a $0,63$ fa $1,00$?



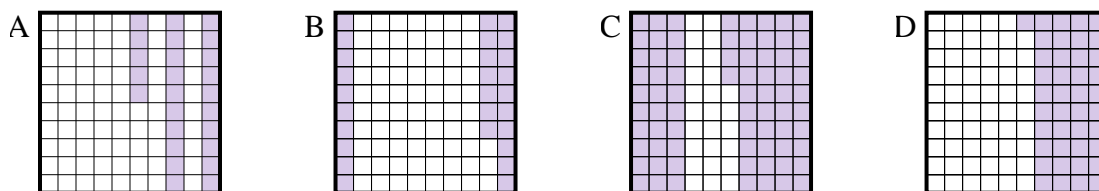
4. _____

5) Quale griglia 10×1 è colorata in modo da rappresentare un numero decimale, che sommato a $0,3$ fa $1,00$?



5. _____

6) Quale griglia 10×10 è colorata in modo da rappresentare un numero decimale, che sommato a $0,75$ fa $1,00$?

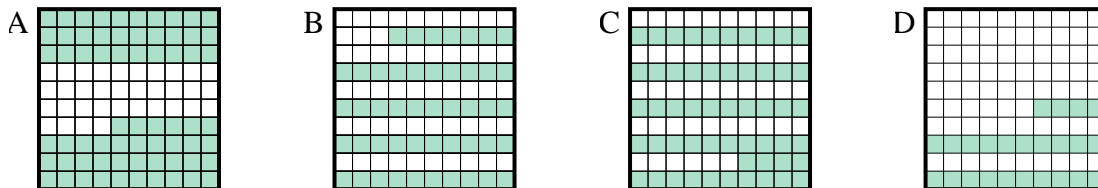


6. _____

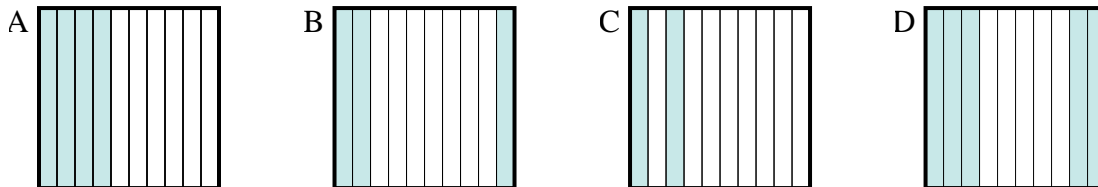


Determina quale lettera risponde correttamente alla domanda.

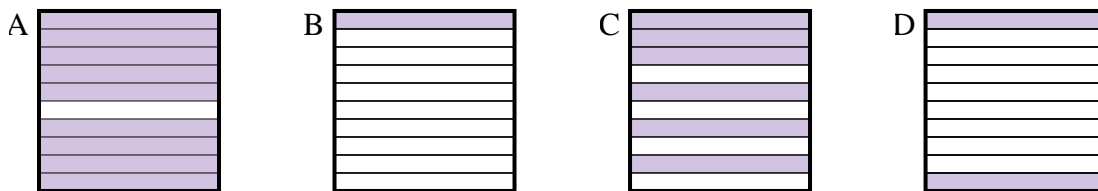
1) Quale griglia 10×10 è colorata in modo da rappresentare un numero decimale, che sommato a $0,76$ fa $1,00$?



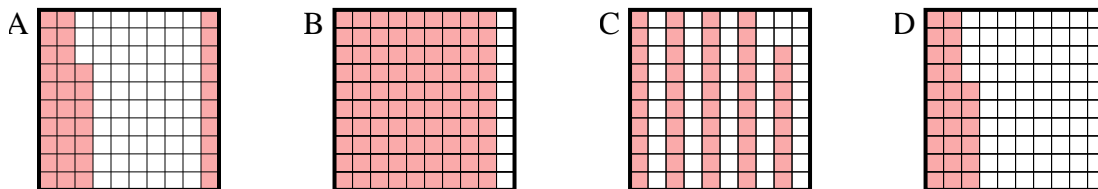
2) Quale griglia 10×1 è colorata in modo da rappresentare un numero decimale, che sommato a $0,5$ fa $1,00$?



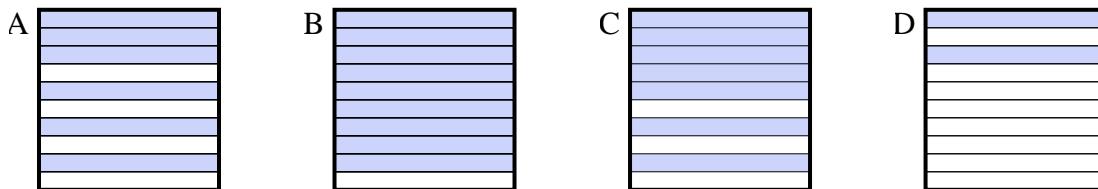
3) Quale griglia 10×1 è colorata in modo da rappresentare un numero decimale, che sommato a $0,1$ fa $1,00$?



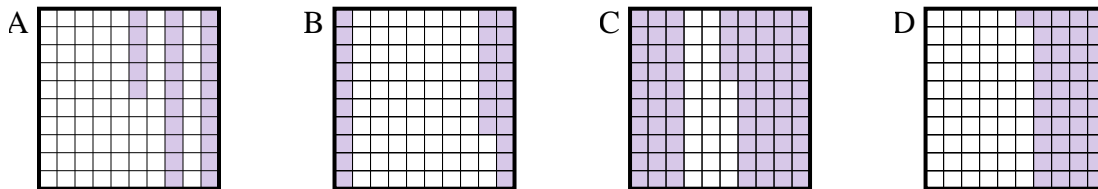
4) Quale griglia 10×10 è colorata in modo da rappresentare un numero decimale, che sommato a $0,63$ fa $1,00$?



5) Quale griglia 10×1 è colorata in modo da rappresentare un numero decimale, che sommato a $0,3$ fa $1,00$?



6) Quale griglia 10×10 è colorata in modo da rappresentare un numero decimale, che sommato a $0,75$ fa $1,00$?



Risposte

1. **D**

2. **D**

3. **A**

4. **A**

5. **C**

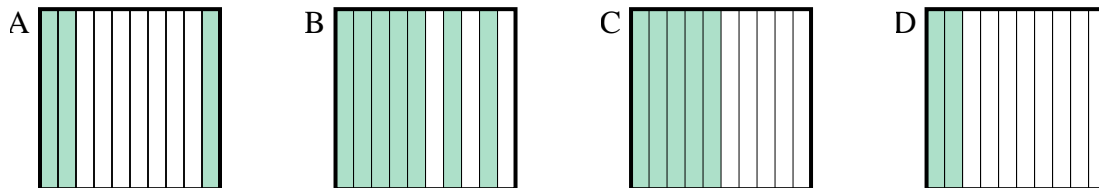
6. **A**



Determina quale lettera risponde correttamente alla domanda.

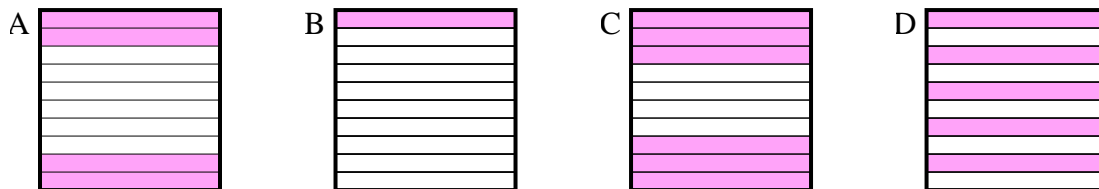
Risposte

1) Quale griglia 10×1 è colorata in modo da rappresentare un numero decimale, che sommato a 0,5 fa 1,00?



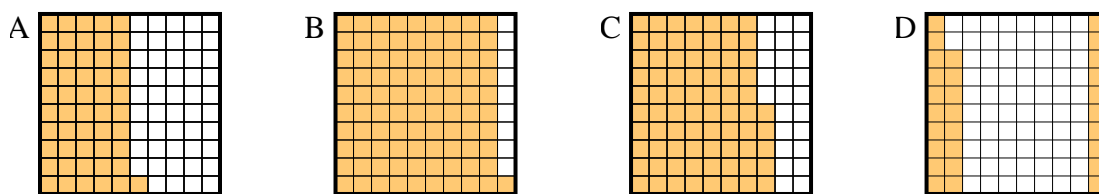
1. _____

2) Quale griglia 10×1 è colorata in modo da rappresentare un numero decimale, che sommato a 0,6 fa 1,00?



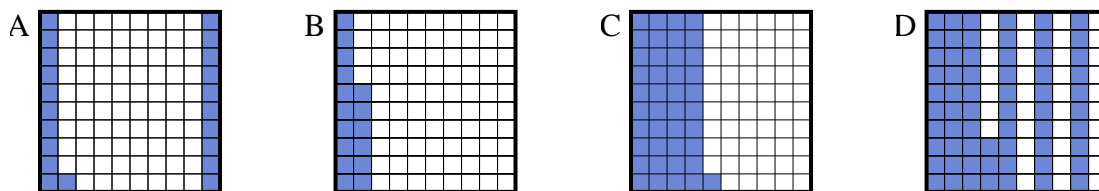
2. _____

3) Quale griglia 10×10 è colorata in modo da rappresentare un numero decimale, che sommato a 0,72 fa 1,00?



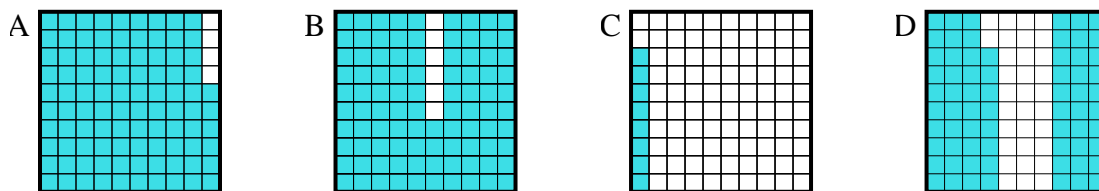
3. _____

4) Quale griglia 10×10 è colorata in modo da rappresentare un numero decimale, che sommato a 0,59 fa 1,00?



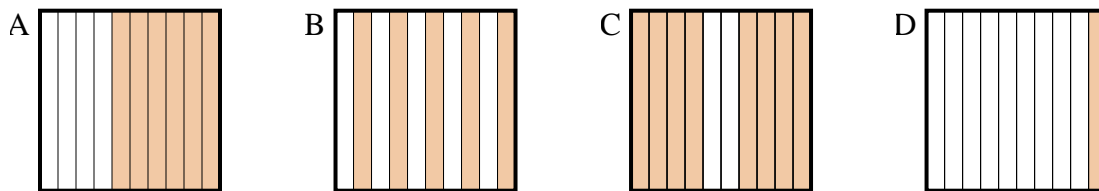
4. _____

5) Quale griglia 10×10 è colorata in modo da rappresentare un numero decimale, che sommato a 0,32 fa 1,00?



5. _____

6) Quale griglia 10×1 è colorata in modo da rappresentare un numero decimale, che sommato a 0,4 fa 1,00?

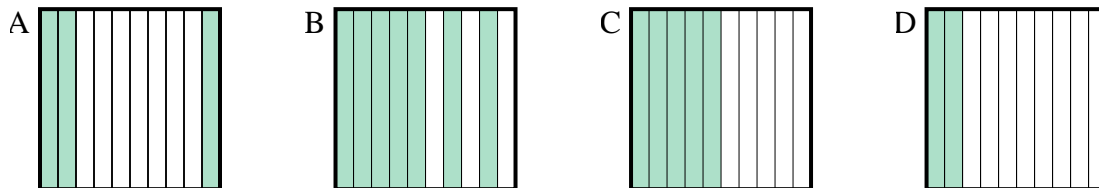


6. _____

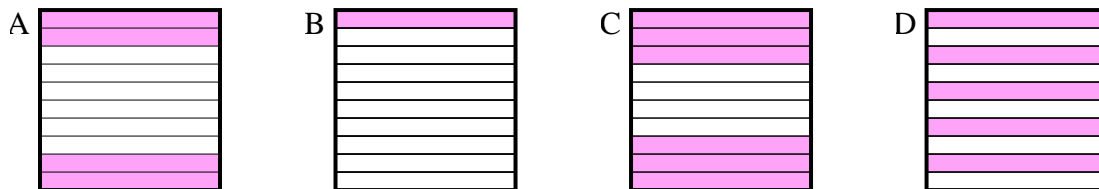


Determina quale lettera risponde correttamente alla domanda.

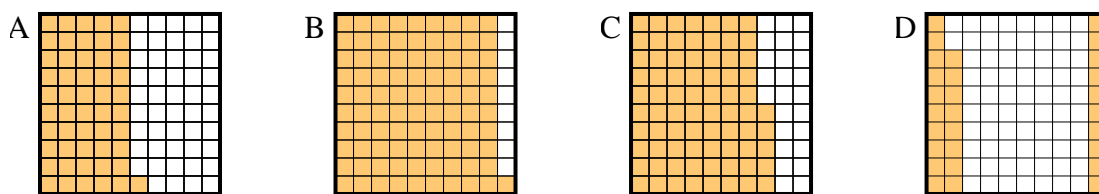
1) Quale griglia 10×1 è colorata in modo da rappresentare un numero decimale, che sommato a 0,5 fa 1,00?



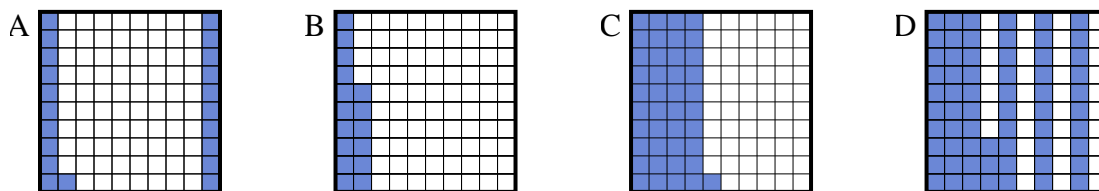
2) Quale griglia 10×1 è colorata in modo da rappresentare un numero decimale, che sommato a 0,6 fa 1,00?



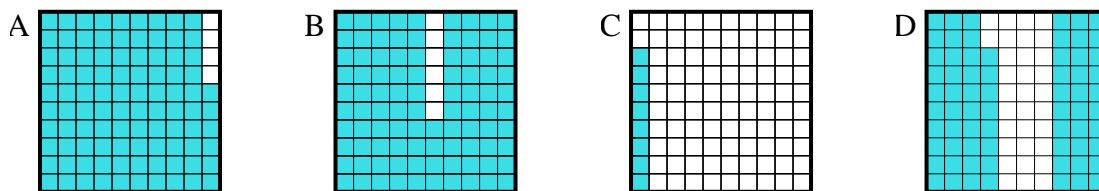
3) Quale griglia 10×10 è colorata in modo da rappresentare un numero decimale, che sommato a 0,72 fa 1,00?



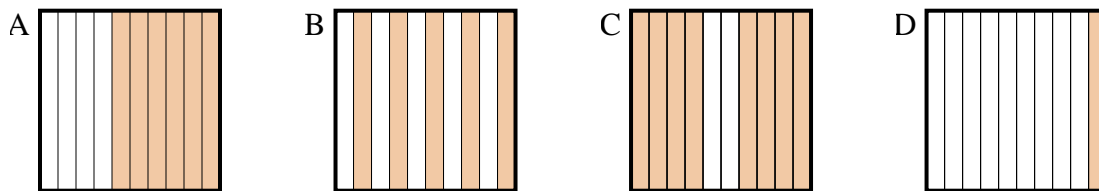
4) Quale griglia 10×10 è colorata in modo da rappresentare un numero decimale, che sommato a 0,59 fa 1,00?



5) Quale griglia 10×10 è colorata in modo da rappresentare un numero decimale, che sommato a 0,32 fa 1,00?



6) Quale griglia 10×1 è colorata in modo da rappresentare un numero decimale, che sommato a 0,4 fa 1,00?



Risposte

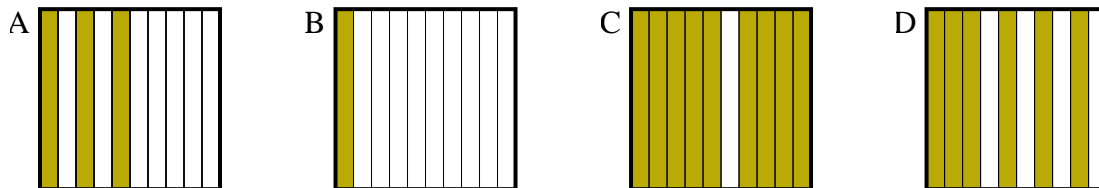
- 1. **C**
- 2. **A**
- 3. **D**
- 4. **C**
- 5. **D**
- 6. **A**



Determina quale lettera risponde correttamente alla domanda.

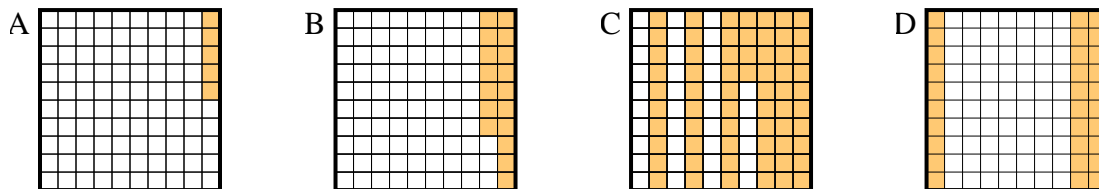
Risposte

1) Quale griglia 10×1 è colorata in modo da rappresentare un numero decimale, che sommato a 0,9 fa 1,00?



1. _____

2) Quale griglia 10×10 è colorata in modo da rappresentare un numero decimale, che sommato a 0,7 fa 1,00?

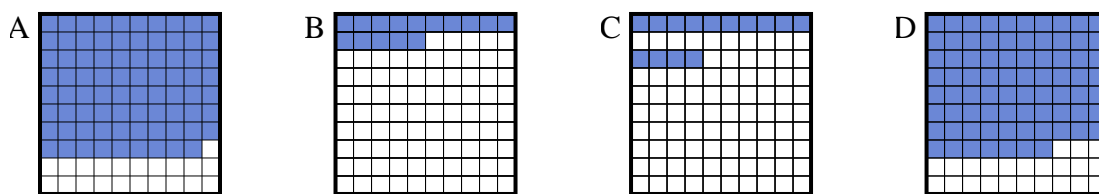


2. _____

3. _____

4. _____

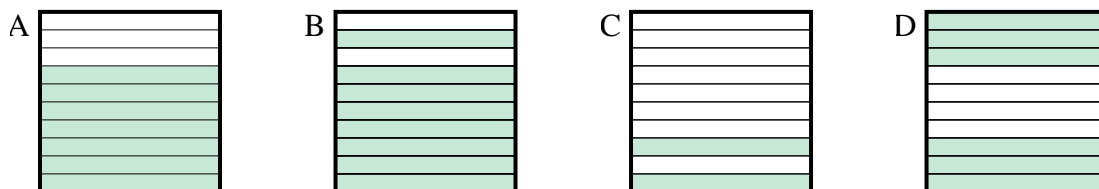
3) Quale griglia 10×10 è colorata in modo da rappresentare un numero decimale, che sommato a 0,21 fa 1,00?



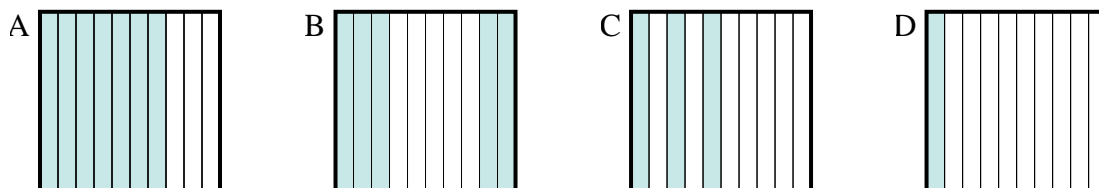
5. _____

6. _____

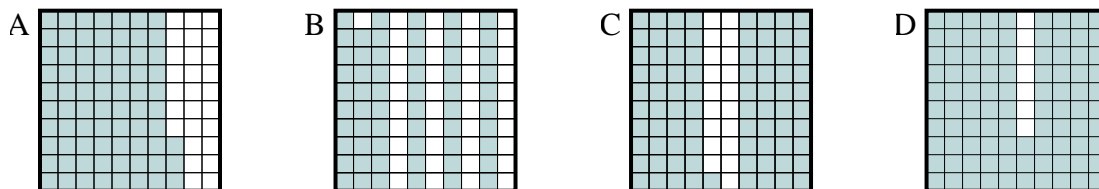
4) Quale griglia 10×1 è colorata in modo da rappresentare un numero decimale, che sommato a 0,3 fa 1,00?



5) Quale griglia 10×1 è colorata in modo da rappresentare un numero decimale, che sommato a 0,5 fa 1,00?



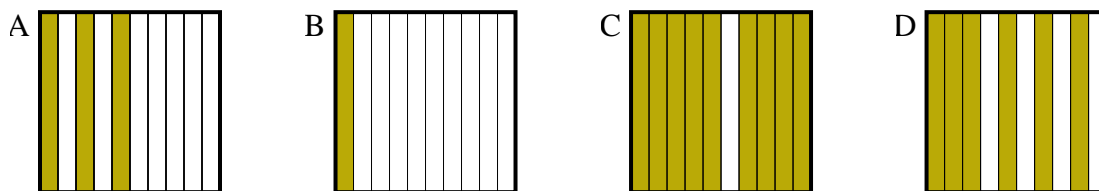
6) Quale griglia 10×10 è colorata in modo da rappresentare un numero decimale, che sommato a 0,07 fa 1,00?



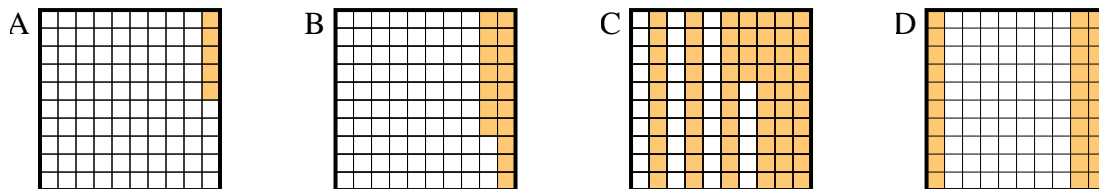


Determina quale lettera risponde correttamente alla domanda.

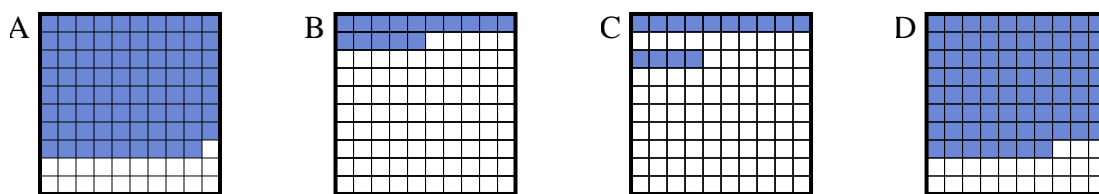
1) Quale griglia 10×1 è colorata in modo da rappresentare un numero decimale, che sommato a 0,9 fa 1,00?



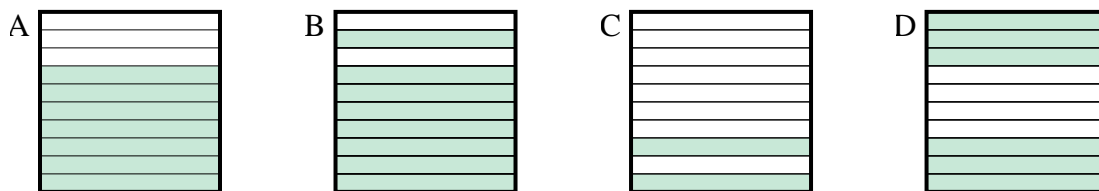
2) Quale griglia 10×10 è colorata in modo da rappresentare un numero decimale, che sommato a 0,7 fa 1,00?



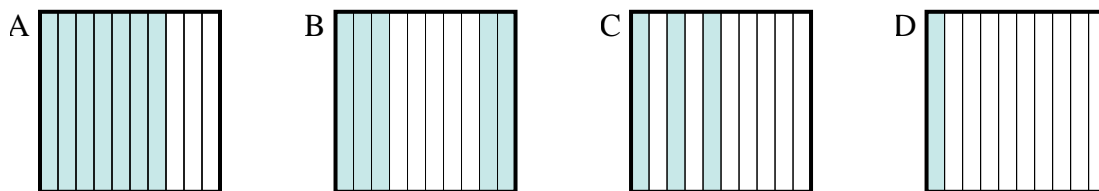
3) Quale griglia 10×10 è colorata in modo da rappresentare un numero decimale, che sommato a 0,21 fa 1,00?



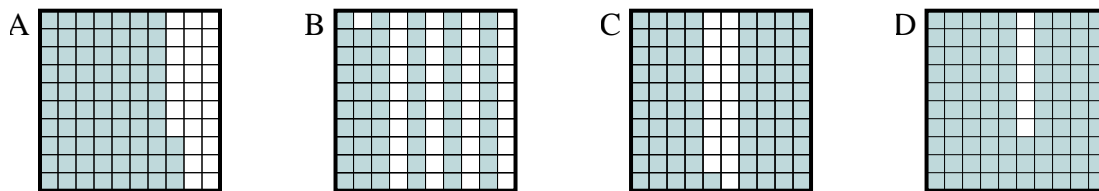
4) Quale griglia 10×1 è colorata in modo da rappresentare un numero decimale, che sommato a 0,3 fa 1,00?



5) Quale griglia 10×1 è colorata in modo da rappresentare un numero decimale, che sommato a 0,5 fa 1,00?



6) Quale griglia 10×10 è colorata in modo da rappresentare un numero decimale, che sommato a 0,07 fa 1,00?



Risposte

1. **B**

2. **D**

3. **A**

4. **A**

5. **B**

6. **D**