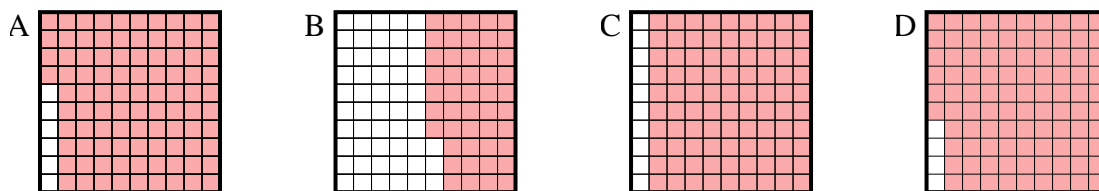




Determina quale lettera risponde correttamente alla domanda.

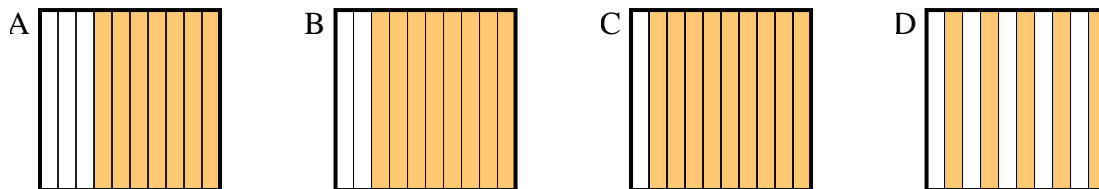
Risposte

1) Quale griglia 10×10 è colorata in modo da rappresentare un numero decimale, che sommato a $0,04$ fa $1,00$?



1. _____

2) Quale griglia 10×1 è colorata in modo da rappresentare un numero decimale, che sommato a $0,5$ fa $1,00$?



2. _____

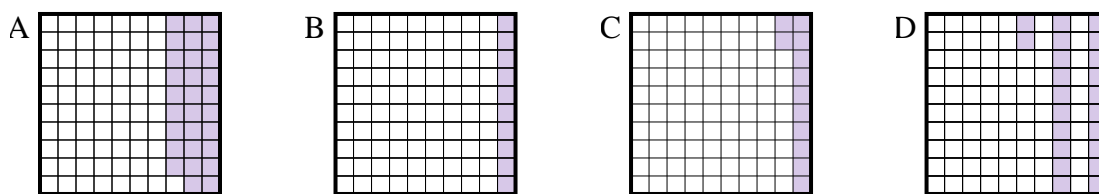
3. _____

4. _____

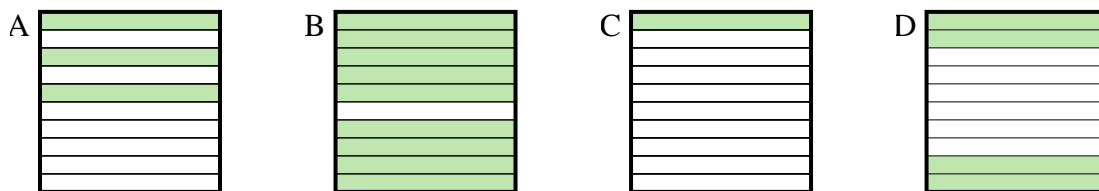
5. _____

6. _____

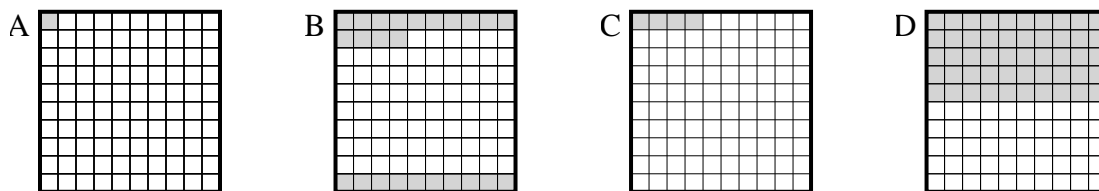
3) Quale griglia 10×10 è colorata in modo da rappresentare un numero decimale, che sommato a $0,88$ fa $1,00$?



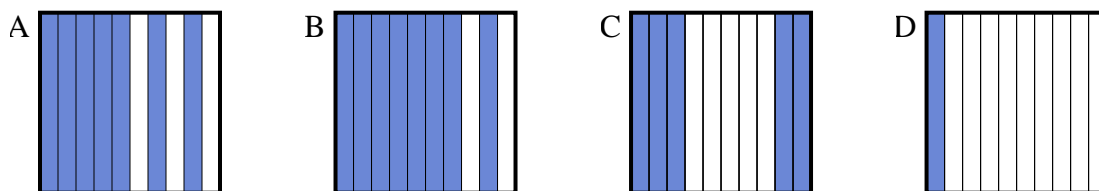
4) Quale griglia 10×1 è colorata in modo da rappresentare un numero decimale, che sommato a $0,6$ fa $1,00$?



5) Quale griglia 10×10 è colorata in modo da rappresentare un numero decimale, che sommato a $0,96$ fa $1,00$?



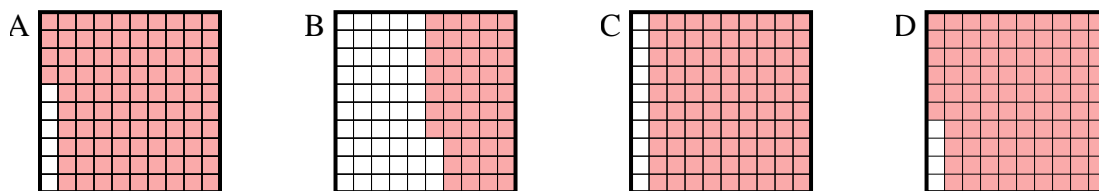
6) Quale griglia 10×1 è colorata in modo da rappresentare un numero decimale, che sommato a $0,3$ fa $1,00$?



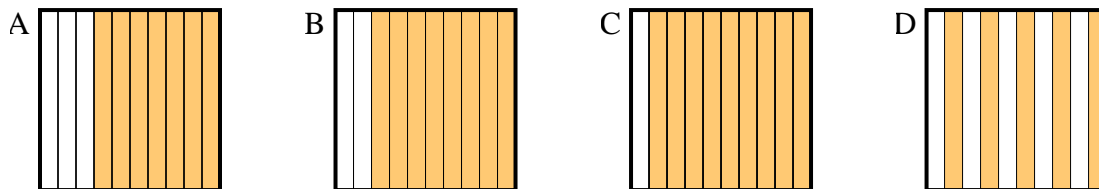


Determina quale lettera risponde correttamente alla domanda.

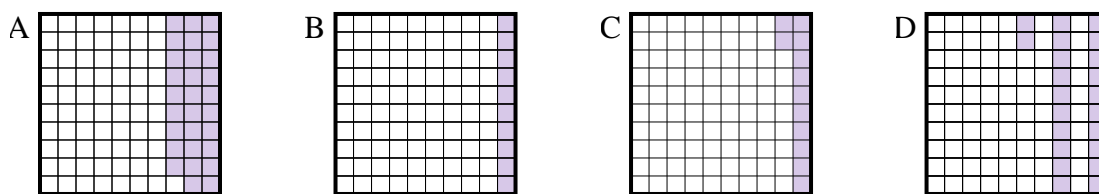
1) Quale griglia 10×10 è colorata in modo da rappresentare un numero decimale, che sommato a $0,04$ fa $1,00$?



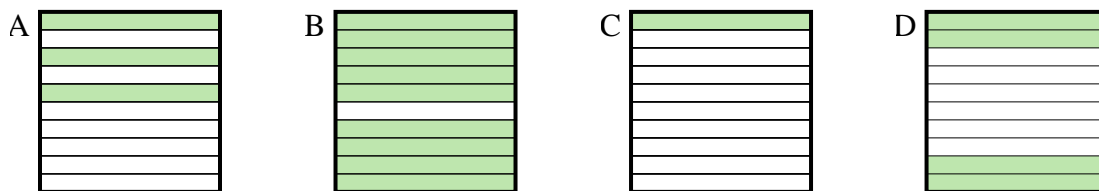
2) Quale griglia 10×1 è colorata in modo da rappresentare un numero decimale, che sommato a $0,5$ fa $1,00$?



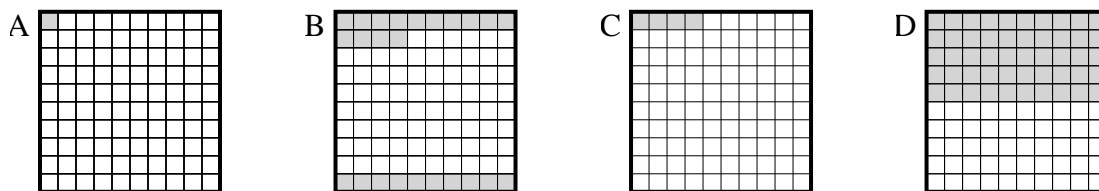
3) Quale griglia 10×10 è colorata in modo da rappresentare un numero decimale, che sommato a $0,88$ fa $1,00$?



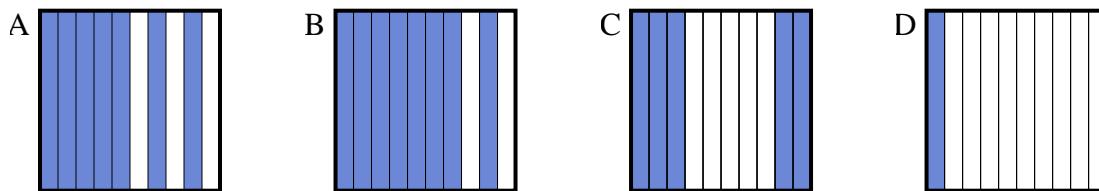
4) Quale griglia 10×1 è colorata in modo da rappresentare un numero decimale, che sommato a $0,6$ fa $1,00$?



5) Quale griglia 10×10 è colorata in modo da rappresentare un numero decimale, che sommato a $0,96$ fa $1,00$?



6) Quale griglia 10×1 è colorata in modo da rappresentare un numero decimale, che sommato a $0,3$ fa $1,00$?



Risposte

1. **D**

2. **D**

3. **C**

4. **D**

5. **C**

6. **A**