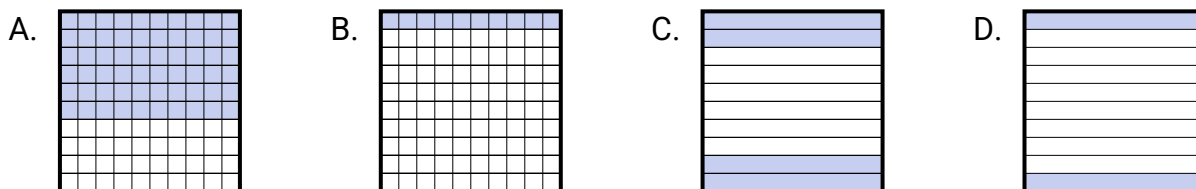
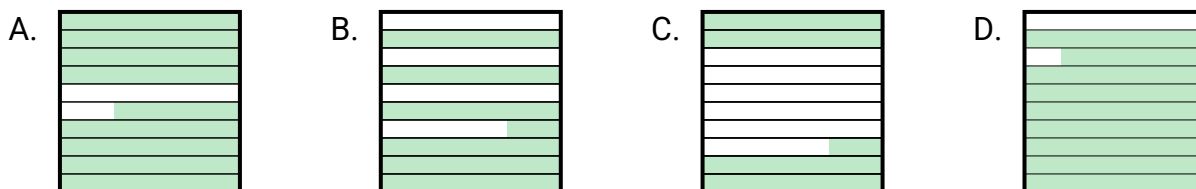


**Determina quale lettera risponde correttamente alla domanda.****Risposte**

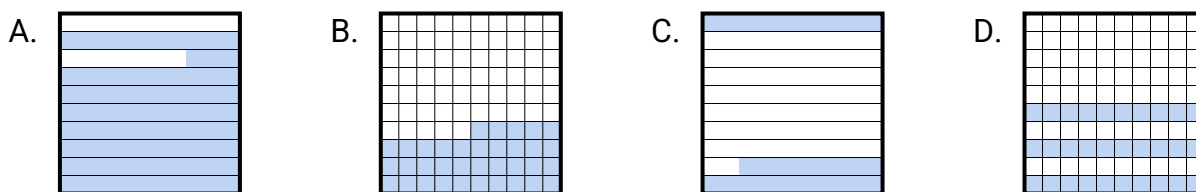
- 1) Quale griglia 10×1 è colorata per rappresentare il numero decimale che, aggiunto a 0,8, dà un totale di 1,00?



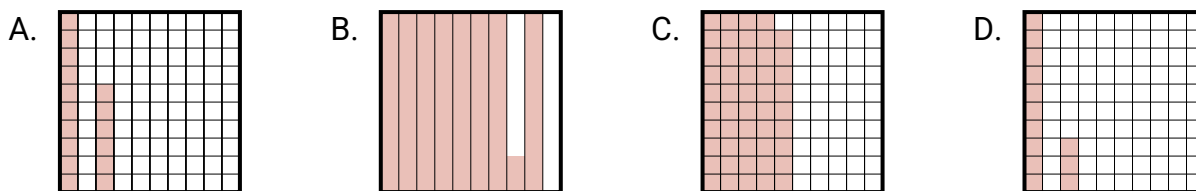
- 2) Quale griglia 10×10 è colorata per rappresentare il numero decimale che, aggiunto a 0,12, dà un totale di 1,00?



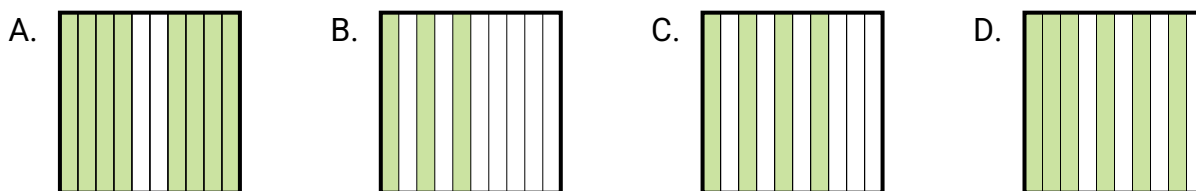
- 3) Quale griglia 10×10 è colorata per rappresentare il numero decimale che, aggiunto a 0,17, dà un totale di 1,00?



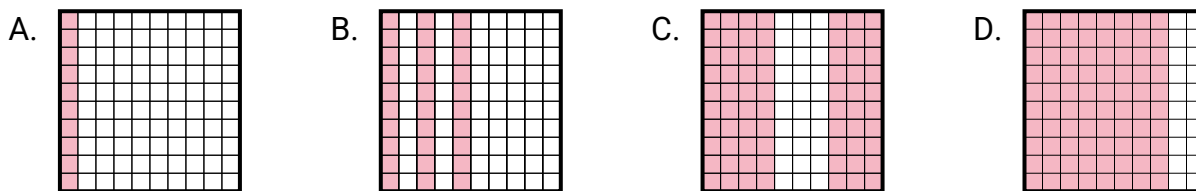
- 4) Quale griglia 10×10 è colorata per rappresentare il numero decimale che, aggiunto a 0,18, dà un totale di 1,00?



- 5) Quale griglia 10×1 è colorata per rappresentare il numero decimale che, aggiunto a 0,7, dà un totale di 1,00?



- 6) Quale griglia 10×1 è colorata per rappresentare il numero decimale che, aggiunto a 0,2, dà un totale di 1,00?



1. _____

2. _____

3. _____

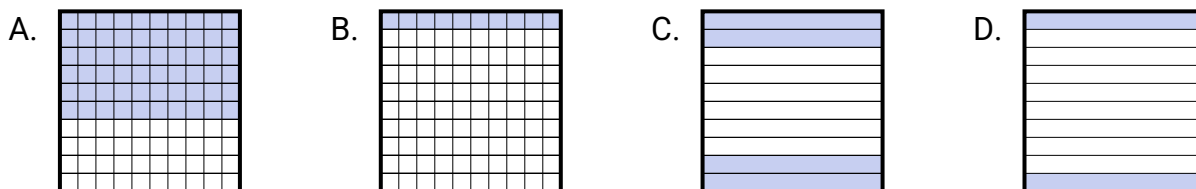
4. _____

5. _____

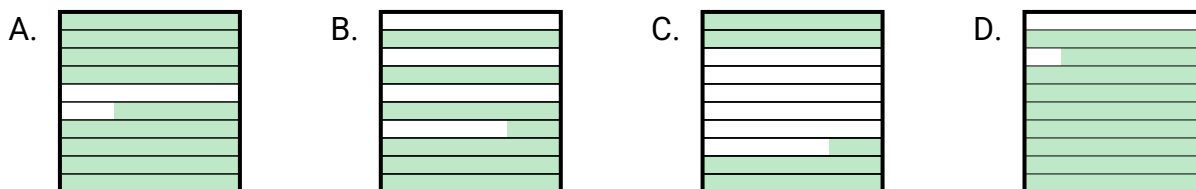
6. _____

**Determina quale lettera risponde correttamente alla domanda.****Risposte**

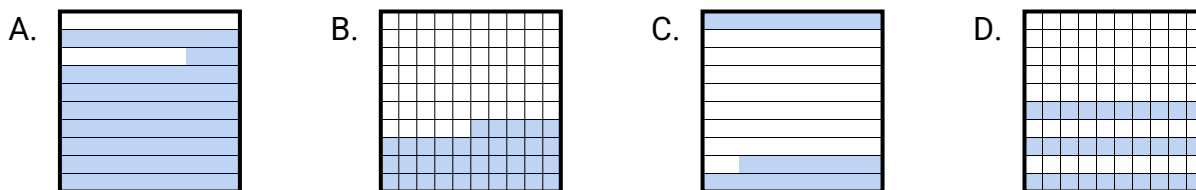
- 1) Quale griglia 10×1 è colorata per rappresentare il numero decimale che, aggiunto a 0,8, dà un totale di 1,00?

1. **D**

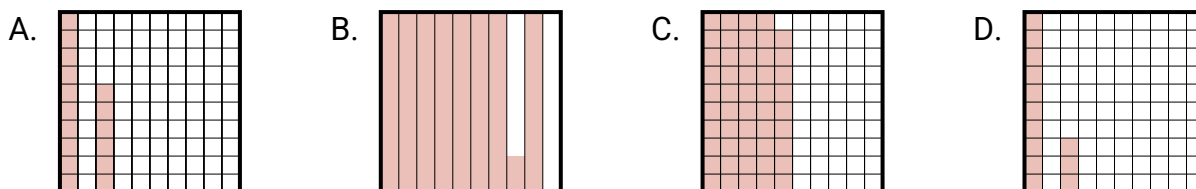
- 2) Quale griglia 10×10 è colorata per rappresentare il numero decimale che, aggiunto a 0,12, dà un totale di 1,00?

2. **D**3. **A**4. **B**5. **B**6. **D**

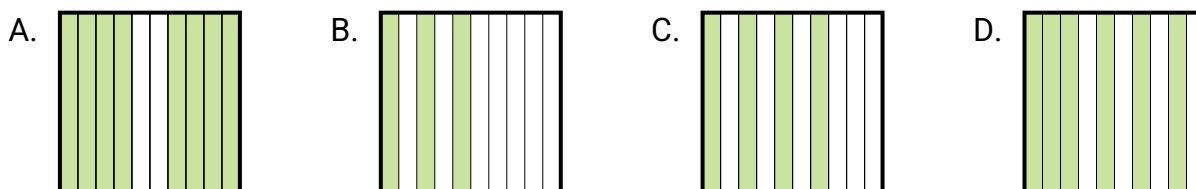
- 3) Quale griglia 10×10 è colorata per rappresentare il numero decimale che, aggiunto a 0,17, dà un totale di 1,00?



- 4) Quale griglia 10×10 è colorata per rappresentare il numero decimale che, aggiunto a 0,18, dà un totale di 1,00?



- 5) Quale griglia 10×1 è colorata per rappresentare il numero decimale che, aggiunto a 0,7, dà un totale di 1,00?



- 6) Quale griglia 10×1 è colorata per rappresentare il numero decimale che, aggiunto a 0,2, dà un totale di 1,00?

