

**Determina quale lettera meglio rappresenta il volume.****Milliliter**

Un mililitro equivale a unas 20 gotas de agua.

**Liter**

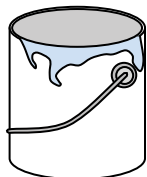
Muchas botellas grandes de refrescos tienen 1 o 2 litros.

1 Liter = 1,000 Milliliters

**Risposte**

1. _____
2. _____
3. _____
4. _____
5. _____
6. _____
7. _____
8. _____
9. _____


1)



Dipinti in una lattina

- A. 20 millilitri
- B. 1 litri
- C. 400 millilitri
- D. 3.75 litri

2)



L'acqua tiene un barile

- A. 5 millilitri
- B. 3 litri
- C. 200 millilitri
- D. 200 litri

3)



Farina in un lotto di biscotti

- A. 1 milliliter
- B. 2 litri
- C. 10 millilitri
- D. 350 millilitri


4)



Sabbia in un secchio

- A. 4 millilitri
- B. 4 litri
- C. 20 litri
- D. 1 milliliter

5)



Ghiacciaia

- A. 20 millilitri
- B. 200 millilitri
- C. 100 millilitri
- D. 100 litri

6)



Caffetteria Latte

- A. 2 litri
- B. 237 litri
- C. 237 millilitri
- D. 1 litri

7)



Dentifricio in tubetto

- A. 1 litri
- B. 5 millilitri
- C. 2 litri
- D. 120 millilitri


8)



Liquido che tiene un cucchiaio

- A. 1 litri
- B. 500 millilitri
- C. 5 litri
- D. 5 millilitri

9)



Acqua in una vaschetta del ghiaccio

- A. 0.5 litri
- B. 2 millilitri
- C. 2 litri



Determina quale lettera meglio rappresenta il volume.

Milliliter

Un millilitro equivale a unas 20 gotas de agua.

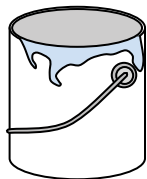
**Liter**

Muchas botellas grandes de refrescos tienen 1 o 2 litros.

1 Liter = 1,000 Milliliters

**Risposte**1. **D**2. **D**3. **D**4. **B**5. **D**6. **C**7. **D**8. **D**9. **A**


1)



Dipinti in una lattina

- A. 20 millilitri
- B. 1 litri
- C. 400 millilitri
- D. 3.75 litri

2)



L'acqua tiene un barile

- A. 5 millilitri
- B. 3 litri
- C. 200 millilitri
- D. 200 litri

3)



Farina in un lotto di biscotti

- A. 1 milliliter
- B. 2 litri
- C. 10 millilitri
- D. 350 millilitri


4)



Sabbia in un secchio

- A. 4 millilitri
- B. 4 litri
- C. 20 litri
- D. 1 milliliter

5)



Ghiacciaia

- A. 20 millilitri
- B. 200 millilitri
- C. 100 millilitri
- D. 100 litri

6)



Caffetteria Latte

- A. 2 litri
- B. 237 litri
- C. 237 millilitri
- D. 1 litri

7)



Dentifricio in tubetto

- A. 1 litri
- B. 5 millilitri
- C. 2 litri
- D. 120 millilitri


8)



Liquido che tiene un cucchiaio

- A. 1 litri
- B. 500 millilitri
- C. 5 litri
- D. 5 millilitri

9)



Acqua in una vaschetta del ghiaccio

- A. 0.5 litri
- B. 2 millilitri
- C. 2 litri