

**Determina quale lettera meglio rappresenta il volume****Risposte****Xícara**

Una taza se refiere a la cantidad de leche que se obtiene de la cafetería.

**Pinta**

Uma pinta é aproximadamente a quantidade que você recebe em um copo grande.
1 pinta = 2 xícaras

**Quarto**

Um quarto é mais ou menos a quantidade que você consegue em um recipiente grande de leite.
1 cuarto = 2 pintas

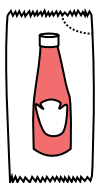
**Galón**

Un galón es la cantidad que viene en un recipiente de plástico grande.
1 galón = 4 cuartos



1. _____
2. _____
3. _____
4. _____
5. _____
6. _____
7. _____
8. _____
9. _____


1)



Ketchup in un pacchetto

- A. 1.5 pinte
- B. 2 quarti
- C. 0.5 galloni
- D. meno di 1 tazza

2)



Ghiacciaia

- A. 2 quarti
- B. 16 tazze
- C. 100 quarti
- D. 5 galloni


3)



Sabbia in un secchio

- A. 1 tazza
- B. 1 gallone
- C. 32 galloni
- D. 7 fluid ounces

4)



L'acqua tiene un barile

- A. 20 tazze
- B. 3 pollici
- C. 50 galloni
- D. 10 pinte

5)



Ciotola di cereali

- A. 4 pinte
- B. 0.5 galloni
- C. 1 pinta
- D. 2 galloni

6)



2 litri di soda

- A. 5 galloni
- B. 0.5 galloni
- C. 2 tazze
- D. 1 pinta

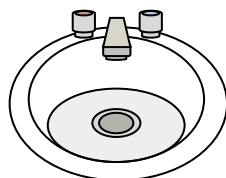
7)



Inchiostro in una penna

- A. 2 pinte
- B. 1 gallone
- C. meno di 1 tazza
- D. 1 quart

8)



Acqua nel lavandino del bagno

- A. 2 tazze
- B. 2 galloni
- C. 2 pinte
- D. 2 fluid ounces

9)



Liquido che tiene un cucchiaio

- A. 1 quart
- B. 1 tazza
- C. 1 pinta
- D. Less than a cup

**Determina quale lettera meglio rappresenta il volume****Risposte****Xícara**

Una taza se refiere a la cantidad de leche que se obtiene de la cafetería.

**Pinta**

Uma pinta é aproximadamente a quantidade que você recebe em um copo grande.
1 pinta = 2 xícaras

**Quarto**

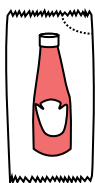
Um quarto é mais ou menos a quantidade que você consegue em um recipiente grande de leite.
1 cuarto = 2 pintas

**Galón**

Un galón es la cantidad que viene en un recipiente de plástico grande.
1 galón = 4 cuartos




1)



Ketchup in un pacchetto

- A. 1.5 pinte
- B. 2 quarti
- C. 0.5 galloni
- D. meno di 1 tazza

2)



Ghiacciaia

- A. 2 quarti
- B. 16 tazze
- C. 100 quarti
- D. 5 galloni


3)



Sabbia in un secchio

- A. 1 tazza
- B. 1 gallone
- C. 32 galloni
- D. 7 fluid ounces

4)



L'acqua tiene un barile

- A. 20 tazze
- B. 3 pollici
- C. 50 galloni
- D. 10 pinte

5)



Ciotola di cereali

- A. 4 pinte
- B. 0.5 galloni
- C. 1 pinta
- D. 2 galloni

6)



2 litri di soda

- A. 5 galloni
- B. 0.5 galloni
- C. 2 tazze
- D. 1 pinta

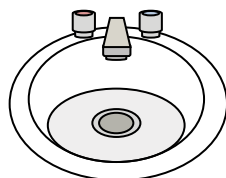
7)



Inchiostro in una penna

- A. 2 pinte
- B. 1 gallone
- C. meno di 1 tazza
- D. 1 quart

8)



Acqua nel lavandino del bagno

- A. 2 tazze
- B. 2 galloni
- C. 2 pinte
- D. 2 fluid ounces

9)



Liquido che tiene un cucchiaio

- A. 1 quart
- B. 1 tazza
- C. 1 pinta
- D. Less than a cup

1. **D**
2. **C**
3. **B**
4. **C**
5. **C**
6. **B**
7. **C**
8. **B**
9. **D**

**Determina quale lettera meglio rappresenta il volume****Risposte****Xícara**

Una taza se refiere a la cantidad de leche que se obtiene de la cafetería.

**Pinta**

Uma pinta é aproximadamente a quantidade que você recebe em um copo grande.
1 pinta = 2 xícaras

**Quarto**

Um quarto é mais ou menos a quantidade que você consegue em um recipiente grande de leite.
1 cuarto = 2 pintas

**Galón**

Un galón es la cantidad que viene en un recipiente de plástico grande.
1 galón = 4 cuartos



1. _____

2. _____

3. _____

4. _____

5. _____


6. _____

7. _____

8. _____

9. _____

1)



L'acqua tiene un barile

- A. 50 galloni
- B. 20 tazze
- C. 3 pollici
- D. 10 pinte

2)



Soda in lattina

- A. 4 tazze
- B. 1 gallone
- C. 4 pinte
- D. 1.5 tazze

3)



Farina in un lotto di biscotti

- A. 5 galloni
- B. 2 quarti
- C. 1.5 tazze
- D. 2 galloni

4)



Sabbia in un secchio

- A. 7 fluid ounces
- B. 1 tazza
- C. 1 gallone
- D. 32 galloni

5)



Misurino

- A. 1 tazza
- B. 1 gallone
- C. 1 quart
- D. 1 pinta


6)



Farina in padella di brownies

- A. 3 galloni
- B. 2 tazze
- C. 8 galloni
- D. 16 quarti

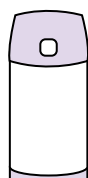
7)



Sabbia tiene una carriola

- A. 8 quarti
- B. 45 galloni
- C. 1000 grammi
- D. 4 tazze

8)



Liquido in un thermos

- A. 1 tazza
- B. 1 gallone
- C. 2 Libbre
- D. 4 quarti

9)



Acqua per una pianta da appartamento

- A. 3 galloni
- B. 6 quarti
- C. 4 Libbre
- D. 2 tazze

**Determina quale lettera meglio rappresenta il volume****Risposte****Xícara**

Una taza se refiere a la cantidad de leche que se obtiene de la cafetería.

**Pinta**

Uma pinta é aproximadamente a quantidade que você recebe em um copo grande.
1 pinta = 2 xícaras

**Quarto**


Um quarto é mais ou menos a quantidade que você consegue em um recipiente grande de leite.
1 cuarto = 2 pintas

**Galón**

Un galón es la cantidad que viene en un recipiente de plástico grande.
1 galón = 4 cuartos



1)



L'acqua tiene un barile

- A. 50 galloni
- B. 20 tazze
- C. 3 pollici
- D. 10 pinte

2)



Soda in lattina

- A. 4 tazze
- B. 1 gallone
- C. 4 pinte
- D. 1.5 tazze

3)



Farina in un lotto di biscotti

- A. 5 galloni
- B. 2 quarti
- C. 1.5 tazze
- D. 2 galloni

4)



Sabbia in un secchio

- A. 7 fluid ounces
- B. 1 tazza
- C. 1 gallone
- D. 32 galloni

5)



Misurino

- A. 1 tazza
- B. 1 gallone
- C. 1 quart
- D. 1 pinta


6)



Farina in padella di brownies

- A. 3 galloni
- B. 2 tazze
- C. 8 galloni
- D. 16 quarti

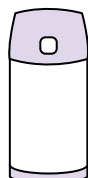
7)



Sabbia tiene una carriola

- A. 8 quarti
- B. 45 galloni
- C. 1000 grammi
- D. 4 tazze

8)



Liquido in un thermos

- A. 1 tazza
- B. 1 gallone
- C. 2 Libbre
- D. 4 quarti

9)



Acqua per una pianta da appartamento

- A. 3 galloni
- B. 6 quarti
- C. 4 Libbre
- D. 2 tazze

1. **A**2. **D**3. **C**4. **C**5. **A**6. **B**7. **B**8. **A**9. **D**

**Determina quale lettera meglio rappresenta il volume****Risposte****Xícara**

Una taza se refiere a la cantidad de leche que se obtiene de la cafetería.

**Pinta**

Uma pinta é aproximadamente a quantidade que você recebe em um copo grande.
1 pinta = 2 xícaras

**Quarto**

Um quarto é mais ou menos a quantidade que você consegue em um recipiente grande de leite.
1 cuarto = 2 pintas

**Galón**

Un galón es la cantidad que viene en un recipiente de plástico grande.
1 galón = 4 cuartos



1. _____

2. _____

3. _____

4. _____

5. _____

6. _____

7. _____

8. _____

9. _____

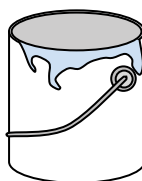
1)



Dentifricio in tubetto

- A. 0.5 tazze
- B. 0.5 galloni
- C. 5 quarti
- D. 5 grammi

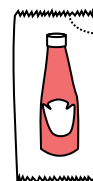
2)



Dipinti in una lattina

- A. 0.5 pinte
- B. 3 fluid ounces
- C. 1 gallone
- D. 1 tazza

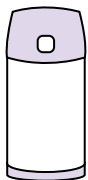
3)



Ketchup in un pacchetto

- A. 2 quarti
- B. meno di 1 tazza
- C. 1.5 pinte
- D. 0.5 galloni

4)



Liquido in un thermos

- A. 1 gallone
- B. 1 tazza
- C. 2 Libbre
- D. 4 quarti

5)



Shampoo in bottiglia

- A. 2 pinte
- B. 0.5 galloni
- C. 100 tazze
- D. 1 tazza

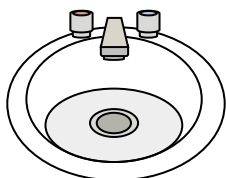
6)



Colla in una bottiglia

- A. 0.5 tazze
- B. 2 quarti
- C. 1 pinta
- D. 3 galloni

7)



Acqua nel lavandino del bagno

- A. 2 galloni
- B. 2 fluid ounces
- C. 2 pinte
- D. 2 tazze


8)



Liquido in una tazza da tè

- A. 1 tazza
- B. 1 gallone
- C. 1 quart
- D. 1 pinta

9)



Sabbia tiene una carriola

- A. 45 galloni
- B. 1000 grammi
- C. 4 tazze
- D. 8 quarti

**Determina quale lettera meglio rappresenta il volume****Risposte****Xícara**

Una taza se refiere a la cantidad de leche que se obtiene de la cafetería.

**Pinta**

Uma pinta é aproximadamente a quantidade que você recebe em um copo grande.
1 pinta = 2 xícaras

**Quarto**

Um quarto é mais ou menos a quantidade que você consegue em um recipiente grande de leite.
1 cuarto = 2 pintas

**Galón**

Un galón es la cantidad que viene en un recipiente de plástico grande.
1 galón = 4 cuartos



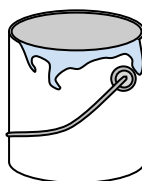
1)



Dentifricio in tubetto

- A. 0.5 tazze
- B. 0.5 galloni
- C. 5 quarti
- D. 5 grammi

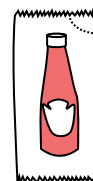
2)



Dipinti in una lattina

- A. 0.5 pinte
- B. 3 fluid ounces
- C. 1 gallone
- D. 1 tazza

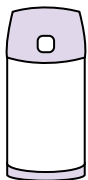
3)



Ketchup in un pacchetto

- A. 2 quarti
- B. meno di 1 tazza
- C. 1.5 pinte
- D. 0.5 galloni

4)



Liquido in un thermos

- A. 1 gallone
- B. 1 tazza
- C. 2 Libbre
- D. 4 quarti

5)



Shampoo in bottiglia

- A. 2 pinte
- B. 0.5 galloni
- C. 100 tazze
- D. 1 tazza

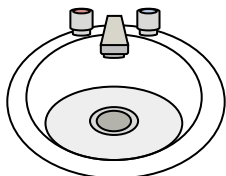
6)



Colla in una bottiglia

- A. 0.5 tazze
- B. 2 quarti
- C. 1 pinta
- D. 3 galloni

7)



Acqua nel lavandino del bagno

- A. 2 galloni
- B. 2 fluid ounces
- C. 2 pinte
- D. 2 tazze


8)



Liquido in una tazza da tè

- A. 1 tazza
- B. 1 gallone
- C. 1 quart
- D. 1 pinta

9)



Sabbia tiene una carriola

- A. 45 galloni
- B. 1000 grammi
- C. 4 tazze
- D. 8 quarti

1. **A** 2. **C** 3. **B** 4. **B** 5. **A** 6. **A** 7. **A** 8. **A** 9. **A**

**Determina quale lettera meglio rappresenta il volume****Risposte****Xícara**

Una taza se refiere a la cantidad de leche que se obtiene de la cafetería.

**Pinta**

Uma pinta é aproximadamente a quantidade que você recebe em um copo grande.
1 pinta = 2 xícaras

**Quarto**

Um quarto é mais ou menos a quantidade que você consegue em um recipiente grande de leite.
1 cuarto = 2 pintas

**Galón**

Un galón es la cantidad que viene en un recipiente de plástico grande.
1 galón = 4 cuartos



1. _____
2. _____
3. _____
4. _____
5. _____
6. _____
7. _____
8. _____
9. _____


1)



Acqua per una pianta da appartamento

- A. 3 galloni
- B. 2 tazze
- C. 6 quarti
- D. 4 Libbre

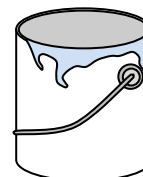
2)



L'acqua tiene un barile

- A. 20 tazze
- B. 50 galloni
- C. 3 pollici
- D. 10 pinte

3)



Dipingi in una lattina

- A. 3 fluid ounces
- B. 1 tazza
- C. 1 gallone
- D. 0.5 pinte

4)



Inchiostro in una penna

- A. 1 quart
- B. meno di 1 tazza
- C. 1 gallone
- D. 2 pinte


5)



Ciotola di cereali

- A. 2 galloni
- B. 1 pinta
- C. 4 pinte
- D. 0.5 galloni

6)



Liquido in un thermos

- A. 2 Libbre
- B. 4 quarti
- C. 1 gallone
- D. 1 tazza

7)



Liquido in una tazza da tè

- A. 1 pinta
- B. 1 quart
- C. 1 tazza
- D. 1 gallone


8)



Farina in un lotto di biscotti

- A. 2 quarti
- B. 1.5 tazze
- C. 2 galloni
- D. 5 galloni

9)



Liquido in una brocca

- A. 1 pinta
- B. 2 quarti
- C. 8 galloni
- D. 2 tazze

**Determina quale lettera meglio rappresenta il volume****Risposte****Xícara**

Una taza se refiere a la cantidad de leche que se obtiene de la cafetería.

**Pinta**

Uma pinta é aproximadamente a quantidade que você recebe em um copo grande.
1 pinta = 2 xícaras

**Quarto**

Um quarto é mais ou menos a quantidade que você consegue em um recipiente grande de leite.
1 cuarto = 2 pintas

**Galón**

Un galón es la cantidad que viene en un recipiente de plástico grande.
1 galón = 4 cuartos



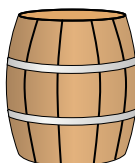
1)



Acqua per una pianta da appartamento

- A. 3 galloni
- B. 2 tazze
- C. 6 quarti
- D. 4 Libbre

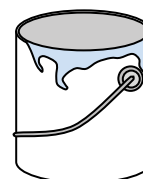
2)



L'acqua tiene un barile

- A. 20 tazze
- B. 50 galloni
- C. 3 pollici
- D. 10 pinte

3)



Dipingi in una lattina

- A. 3 fluid ounces
- B. 1 tazza
- C. 1 gallone
- D. 0.5 pinte

4)



Inchiostro in una penna

- A. 1 quart
- B. meno di 1 tazza
- C. 1 gallone
- D. 2 pinte

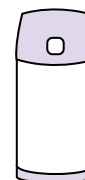
5)



Ciotola di cereali

- A. 2 galloni
- B. 1 pinta
- C. 4 pinte
- D. 0.5 galloni

6)



Liquido in un thermos

- A. 2 Libbre
- B. 4 quarti
- C. 1 gallone
- D. 1 tazza

7)



Liquido in una tazza da tè

- A. 1 pinta
- B. 1 quart
- C. 1 tazza
- D. 1 gallone


8)



Farina in un lotto di biscotti

- A. 2 quarti
- B. 1.5 tazze
- C. 2 galloni
- D. 5 galloni

9)



Liquido in una brocca

- A. 1 pinta
- B. 2 quarti
- C. 8 galloni
- D. 2 tazze

1. **B**
2. **B**
3. **C**
4. **B**
5. **B**
6. **D**
7. **C**
8. **B**
9. **B**

**Determina quale lettera meglio rappresenta il volume****Risposte****Xícara**

Una taza se refiere a la cantidad de leche que se obtiene de la cafetería.

**Pinta**

Uma pinta é aproximadamente a quantidade que você recebe em um copo grande.
1 pinta = 2 xícaras

**Quarto**

Um quarto é mais ou menos a quantidade que você consegue em um recipiente grande de leite.
1 cuarto = 2 pintas


**Galón**

Un galón es la cantidad que viene en un recipiente de plástico grande.
1 galón = 4 cuartos



1. _____
2. _____
3. _____
4. _____
5. _____
6. _____
7. _____
8. _____
9. _____

1)



Serbatoio di benzina in un'auto

- A. 16 tazze
- B. 4 pinte
- C. 3 quarti
- D. 15 galloni

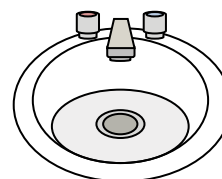
2)



Dentifricio in tubetto

- A. 0.5 galloni
- B. 5 grammi
- C. 5 quarti
- D. 0.5 tazze

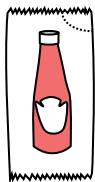
3)



Acqua nel lavandino del bagno

- A. 2 pinte
- B. 2 fluid ounces
- C. 2 galloni
- D. 2 tazze

4)



Ketchup in un pacchetto

- A. 2 quarti
- B. 0.5 galloni
- C. meno di 1 tazza
- D. 1.5 pinte


5)



Colla in una bottiglia

- A. 1 pinta
- B. 3 galloni
- C. 0.5 tazze
- D. 2 quarti

6)



Sabbia tiene una carriola

- A. 45 galloni
- B. 1000 grammi
- C. 8 quarti
- D. 4 tazze

7)



Sabbia in un secchio

- A. 7 fluid ounces
- B. 1 gallone
- C. 32 galloni
- D. 1 tazza

8)



Liquido che tiene un cucchiaino

- A. Less than a cup
- B. 1 tazza
- C. 1 pinta
- D. 1 quart

9)



Soda in lattina

- A. 1 gallone
- B. 1.5 tazze
- C. 4 tazze
- D. 4 pinte

**Determina quale lettera meglio rappresenta il volume****Risposte****Xícara**

Una taza se refiere a la cantidad de leche que se obtiene de la cafetería.

**Pinta**

Uma pinta é aproximadamente a quantidade que você recebe em um copo grande.
1 pinta = 2 xícaras

**Quarto**


Um quarto é mais ou menos a quantidade que você consegue em um recipiente grande de leite.
1 cuarto = 2 pintas

**Galón**

Un galón es la cantidad que viene en un recipiente de plástico grande.
1 galón = 4 cuartos



1)



Serbatoio di benzina in un'auto

- A. 16 tazze
- B. 4 pinte
- C. 3 quarti
- D. 15 galloni

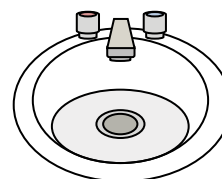
2)



Dentifricio in tubetto

- A. 0.5 galloni
- B. 5 grammi
- C. 5 quarti
- D. 0.5 tazze

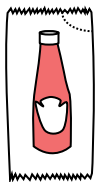
3)



Acqua nel lavandino del bagno

- A. 2 pinte
- B. 2 fluid ounces
- C. 2 galloni
- D. 2 tazze

4)



Ketchup in un pacchetto

- A. 2 quarti
- B. 0.5 galloni
- C. meno di 1 tazza
- D. 1.5 pinte


5)



Colla in una bottiglia

- A. 1 pinta
- B. 3 galloni
- C. 0.5 tazze
- D. 2 quarti

6)



Sabbia tiene una carriola

- A. 45 galloni
- B. 1000 grammi
- C. 8 quarti
- D. 4 tazze

7)



Sabbia in un secchio

- A. 7 fluid ounces
- B. 1 gallone
- C. 32 galloni
- D. 1 tazza

8)



Liquido che tiene un cucchiaino

- A. Less than a cup
- B. 1 tazza
- C. 1 pinta
- D. 1 quart

9)



Soda in lattina

- A. 1 gallone
- B. 1.5 tazze
- C. 4 tazze
- D. 4 pinte

1. **D**2. **D**3. **C**4. **C**5. **C**6. **A**7. **B**8. **A**9. **B**

**Determina quale lettera meglio rappresenta il volume****Risposte****Xícara**

Una taza se refiere a la cantidad de leche que se obtiene de la cafetería.

**Pinta**

Uma pinta é aproximadamente a quantidade que você recebe em um copo grande.
1 pinta = 2 xícaras

**Quarto**

Um quarto é mais ou menos a quantidade que você consegue em um recipiente grande de leite.
1 cuarto = 2 pintas

**Galón**

Un galón es la cantidad que viene en un recipiente de plástico grande.
1 galón = 4 cuartos



1. _____
2. _____
3. _____
4. _____
5. _____
6. _____
7. _____
8. _____
9. _____


1)



Colla in una bottiglia

- A. 1 pinta
- B. 3 galloni
- C. 2 quarti
- D. 0.5 tazze


2)



Sabbia tiene una carriola

- A. 8 quarti
- B. 45 galloni
- C. 4 tazze
- D. 1000 grammi

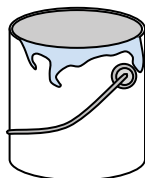
3)



Ghiacciaia

- A. 16 tazze
- B. 2 quarti
- C. 100 quarti
- D. 5 galloni


4)



Dipinti in una lattina

- A. 3 fluid ounces
- B. 1 tazza
- C. 0.5 pinte
- D. 1 gallone

5)



Il contagocce tiene

- A. 3 galloni
- B. 1 pinta
- C. meno di 1 tazza
- D. 1 tazza

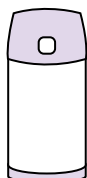
6)



Dentifricio in tubetto

- A. 0.5 tazze
- B. 5 grammi
- C. 5 quarti
- D. 0.5 galloni

7)



Liquido in un thermos

- A. 1 gallone
- B. 1 tazza
- C. 4 quarti
- D. 2 Libbre

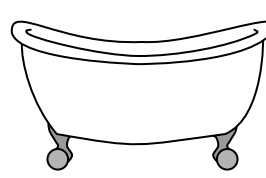
8)



Sabbia in un secchio

- A. 32 galloni
- B. 1 tazza
- C. 1 gallone
- D. 7 fluid ounces

9)



Vasca da bagno

- A. 20 pinte
- B. 45 galloni
- C. 40 tazze
- D. 8 quarti

**Determina quale lettera meglio rappresenta il volume****Risposte****Xícara**

Una taza se refiere a la cantidad de leche que se obtiene de la cafetería.

**Pinta**

Uma pinta é aproximadamente a quantidade que você recebe em um copo grande.
1 pinta = 2 xícaras

**Quarto**

Um quarto é mais ou menos a quantidade que você consegue em um recipiente grande de leite.
1 cuarto = 2 pintas

**Galón**

Un galón es la cantidad que viene en un recipiente de plástico grande.
1 galón = 4 cuartos




1)



Colla in una bottiglia

- A. 1 pinta
- B. 3 galloni
- C. 2 quarti
- D. 0.5 tazze


2)



Sabbia tiene una carriola

- A. 8 quarti
- B. 45 galloni
- C. 4 tazze
- D. 1000 grammi

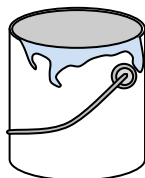
3)



Ghiacciaia

- A. 16 tazze
- B. 2 quarti
- C. 100 quarti
- D. 5 galloni


4)



Dipingi in una lattina

- A. 3 fluid ounces
- B. 1 tazza
- C. 0.5 pinte
- D. 1 gallone

5)



Il contagocce tiene

- A. 3 galloni
- B. 1 pinta
- C. meno di 1 tazza
- D. 1 tazza

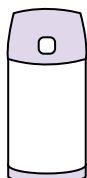
6)



Dentifricio in tubetto

- A. 0.5 tazze
- B. 5 grammi
- C. 5 quarti
- D. 0.5 galloni

7)



Liquido in un thermos

- A. 1 gallone
- B. 1 tazza
- C. 4 quarti
- D. 2 Libbre

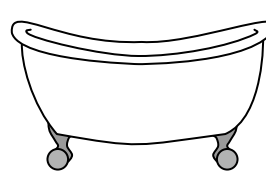
8)



Sabbia in un secchio

- A. 32 galloni
- B. 1 tazza
- C. 1 gallone
- D. 7 fluid ounces

9)



Vasca da bagno

- A. 20 pinte
- B. 45 galloni
- C. 40 tazze
- D. 8 quarti

1. **D**
2. **B**
3. **C**
4. **D**
5. **C**
6. **A**
7. **B**
8. **C**
9. **B**

**Determina quale lettera meglio rappresenta il volume****Risposte****Xícara**

Una taza se refiere a la cantidad de leche que se obtiene de la cafetería.

**Pinta**

Uma pinta é aproximadamente a quantidade que você recebe em um copo grande.
1 pinta = 2 xícaras

**Quarto**

Um quarto é mais ou menos a quantidade que você consegue em um recipiente grande de leite.
1 cuarto = 2 pintas


**Galón**

Un galón es la cantidad que viene en un recipiente de plástico grande.
1 galón = 4 cuartos



1. _____
2. _____
3. _____
4. _____
5. _____
6. _____
7. _____
8. _____
9. _____


1)



L'acqua tiene un barile

- A. 20 tazze
- B. 10 pinte
- C. 3 pollici
- D. 50 galloni


2)



Serbatoio di benzina in un'auto

- A. 3 quarti
- B. 4 pinte
- C. 15 galloni
- D. 16 tazze

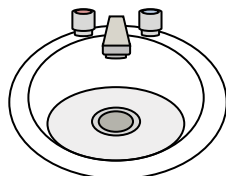
3)



Sabbia tiene una carriola

- A. 8 quarti
- B. 45 galloni
- C. 1000 grammi
- D. 4 tazze

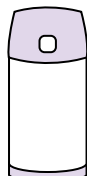
4)



Acqua nel lavandino del bagno

- A. 2 fluid ounces
- B. 2 galloni
- C. 2 tazze
- D. 2 pinte

5)



Liquido in un thermos

- A. 1 tazza
- B. 1 gallone
- C. 2 Libbre
- D. 4 quarti


6)



Liquido che tiene un cucchiaio

- A. 1 tazza
- B. Less than a cup
- C. 1 pinta
- D. 1 quart

7)



Liquido in una brocca

- A. 1 pinta
- B. 2 quarti
- C. 2 tazze
- D. 8 galloni

8)



Inchiostro in una penna

- A. 1 gallone
- B. 2 pinte
- C. meno di 1 tazza
- D. 1 quart

9)



Soda in lattina

- A. 4 tazze
- B. 1.5 tazze
- C. 4 pinte
- D. 1 gallone

**Determina quale lettera meglio rappresenta il volume****Risposte****Xícara**

Una taza se refiere a la cantidad de leche que se obtiene de la cafetería.

**Pinta**

Uma pinta é aproximadamente a quantidade que você recebe em um copo grande.
1 pinta = 2 xícaras

**Quarto**


Um quarto é mais ou menos a quantidade que você consegue em um recipiente grande de leite.
1 cuarto = 2 pintas

**Galón**

Un galón es la cantidad que viene en un recipiente de plástico grande.
1 galón = 4 cuartos



1)



L'acqua tiene un barile

- A. 20 tazze
- B. 10 pinte
- C. 3 pollici
- D. 50 galloni


2)



Serbatoio di benzina in un'auto

- A. 3 quarti
- B. 4 pinte
- C. 15 galloni
- D. 16 tazze

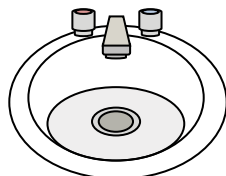
3)



Sabbia tiene una carriola

- A. 8 quarti
- B. 45 galloni
- C. 1000 grammi
- D. 4 tazze

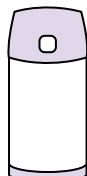
4)



Acqua nel lavandino del bagno

- A. 2 fluid ounces
- B. 2 galloni
- C. 2 tazze
- D. 2 pinte

5)



Liquido in un thermos

- A. 1 tazza
- B. 1 gallone
- C. 2 Libbre
- D. 4 quarti


6)



Liquido che tiene un cucchiaio

- A. 1 tazza
- B. Less than a cup
- C. 1 pinta
- D. 1 quart

7)



Liquido in una brocca

- A. 1 pinta
- B. 2 quarti
- C. 2 tazze
- D. 8 galloni

8)



Inchiostro in una penna

- A. 1 gallone
- B. 2 pinte
- C. meno di 1 tazza
- D. 1 quart

9)



Soda in lattina

- A. 4 tazze
- B. 1.5 tazze
- C. 4 pinte
- D. 1 gallone

1. **D**2. **C**3. **B**4. **B**5. **A**6. **B**7. **B**8. **C**9. **B**

**Determina quale lettera meglio rappresenta il volume****Risposte****Xícara**

Una taza se refiere a la cantidad de leche que se obtiene de la cafetería.

**Pinta**

Uma pinta é aproximadamente a quantidade que você recebe em um copo grande.
1 pinta = 2 xícaras

**Quarto**

Um quarto é mais ou menos a quantidade que você consegue em um recipiente grande de leite.
1 cuarto = 2 pintas

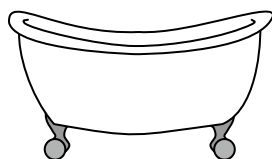
**Galón**

Un galón es la cantidad que viene en un recipiente de plástico grande.
1 galón = 4 cuartos



1. _____
2. _____
3. _____
4. _____
5. _____
6. _____
7. _____
8. _____
9. _____

1)



Vasca da bagno

- A. 40 tazze
- B. 20 pinte
- C. 45 galloni
- D. 8 quarti


2)



Sabbia in un secchio

- A. 32 galloni
- B. 1 gallone
- C. 1 tazza
- D. 7 fluid ounces

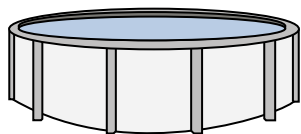
3)



Il contagocce tiene

- A. 3 galloni
- B. 1 tazza
- C. meno di 1 tazza
- D. 1 pinta


4)



Acqua in piscina

- A. 5000 piede
- B. 25 tazze
- C. 20 galloni
- D. 3000 galloni

5)



Liquido in una brocca

- A. 1 pinta
- B. 8 galloni
- C. 2 tazze
- D. 2 quarti

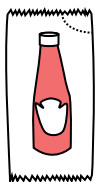
6)



Shampoo in bottiglia

- A. 0.5 galloni
- B. 100 tazze
- C. 1 tazza
- D. 2 pinte

7)



Ketchup in un pacchetto

- A. 0.5 galloni
- B. 1.5 pinte
- C. meno di 1 tazza
- D. 2 quarti


8)



Acqua per una pianta da appartamento

- A. 6 quarti
- B. 4 Libbre
- C. 2 tazze
- D. 3 galloni

9)



L'acqua tiene un barile

- A. 3 pollici
- B. 10 pinte
- C. 20 tazze
- D. 50 galloni

**Determina quale lettera meglio rappresenta il volume****Risposte****Xícara**

Una taza se refiere a la cantidad de leche que se obtiene de la cafetería.

**Pinta**

Uma pinta é aproximadamente a quantidade que você recebe em um copo grande.
1 pinta = 2 xícaras

**Quarto**

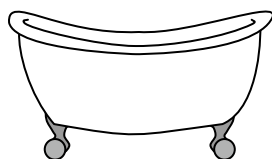
Um quarto é mais ou menos a quantidade que você consegue em um recipiente grande de leite.
1 cuarto = 2 pintas

**Galón**

Un galón es la cantidad que viene en un recipiente de plástico grande.
1 galón = 4 cuartos



1)



Vasca da bagno

- A. 40 tazze
- B. 20 pinte
- C. 45 galloni
- D. 8 quarti


2)



Sabbia in un secchio

- A. 32 galloni
- B. 1 gallone
- C. 1 tazza
- D. 7 fluid ounces

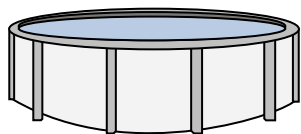
3)



Il contagocce tiene

- A. 3 galloni
- B. 1 tazza
- C. meno di 1 tazza
- D. 1 pinta


4)



Acqua in piscina

- A. 5000 piede
- B. 25 tazze
- C. 20 galloni
- D. 3000 galloni

5)



Liquido in una brocca

- A. 1 pinta
- B. 8 galloni
- C. 2 tazze
- D. 2 quarti

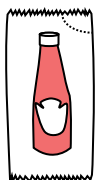
6)



Shampoo in bottiglia

- A. 0.5 galloni
- B. 100 tazze
- C. 1 tazza
- D. 2 pinte

7)



Ketchup in un pacchetto

- A. 0.5 galloni
- B. 1.5 pinte
- C. meno di 1 tazza
- D. 2 quarti


8)



Acqua per una pianta da appartamento

- A. 6 quarti
- B. 4 Libbre
- C. 2 tazze
- D. 3 galloni

9)



L'acqua tiene un barile

- A. 3 pollici
- B. 10 pinte
- C. 20 tazze
- D. 50 galloni

- 1. **C**
- 2. **B**
- 3. **C**
- 4. **D**
- 5. **D**
- 6. **D**
- 7. **C**
- 8. **C**
- 9. **D**

**Determina quale lettera meglio rappresenta il volume****Risposte****Xícara**

Una taza se refiere a la cantidad de leche que se obtiene de la cafetería.

**Pinta**

Uma pinta é aproximadamente a quantidade que você recebe em um copo grande.
1 pinta = 2 xícaras

**Quarto**

Um quarto é mais ou menos a quantidade que você consegue em um recipiente grande de leite.
1 cuarto = 2 pintas

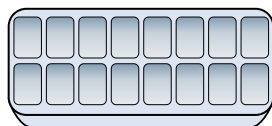
**Galón**

Un galón es la cantidad que viene en un recipiente de plástico grande.
1 galón = 4 cuartos



1. _____
2. _____
3. _____
4. _____
5. _____
6. _____
7. _____
8. _____
9. _____


1)



Acqua in una vaschetta del ghiaccio

- A. 10 galloni
- B. 1 pinta
- C. 4 pinte
- D. 1 gallone

2)



Soda in lattina

- A. 1.5 tazze
- B. 4 tazze
- C. 4 pinte
- D. 1 gallone


3)



Misurino

- A. 1 quart
- B. 1 pinta
- C. 1 gallone
- D. 1 tazza


4)



Sabbia tiene una carriola

- A. 4 tazze
- B. 1000 grammi
- C. 45 galloni
- D. 8 quarti


5)



Serbatoio di benzina in un'auto

- A. 16 tazze
- B. 4 pinte
- C. 15 galloni
- D. 3 quarti

6)



Il contagocce tiene

- A. meno di 1 tazza
- B. 1 tazza
- C. 3 galloni
- D. 1 pinta

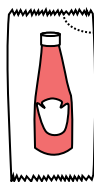
7)



2 litri di soda

- A. 2 tazze
- B. 1 pinta
- C. 0.5 galloni
- D. 5 galloni

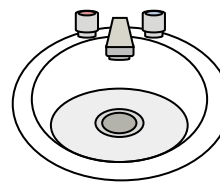
8)



Ketchup in un pacchetto

- A. 0.5 galloni
- B. meno di 1 tazza
- C. 1.5 pinte
- D. 2 quarti

9)



Acqua nel lavandino del bagno

- A. 2 tazze
- B. 2 galloni
- C. 2 pinte
- D. 2 fluid ounces

**Determina quale lettera meglio rappresenta il volume****Risposte****Xícara**

Una taza se refiere a la cantidad de leche que se obtiene de la cafetería.

**Pinta**

Uma pinta é aproximadamente a quantidade que você recebe em um copo grande.
1 pinta = 2 xícaras

**Quarto**

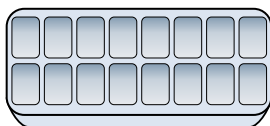
Um quarto é mais ou menos a quantidade que você consegue em um recipiente grande de leite.
1 cuarto = 2 pintas

**Galón**

Un galón es la cantidad que viene en un recipiente de plástico grande.
1 galón = 4 cuartos




1)



Acqua in una vaschetta del ghiaccio

- A. 10 galloni
- B. 1 pinta
- C. 4 pinte
- D. 1 gallone

2)



Soda in lattina

- A. 1.5 tazze
- B. 4 tazze
- C. 4 pinte
- D. 1 gallone


3)



Misurino

- A. 1 quart
- B. 1 pinta
- C. 1 gallone
- D. 1 tazza


4)



Sabbia tiene una carriola

- A. 4 tazze
- B. 1000 grammi
- C. 45 galloni
- D. 8 quarti

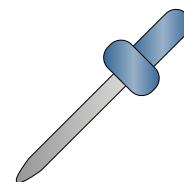
5)



Serbatoio di benzina in un'auto

- A. 16 tazze
- B. 4 pinte
- C. 15 galloni
- D. 3 quarti

6)



Il contagocce tiene

- A. meno di 1 tazza
- B. 1 tazza
- C. 3 galloni
- D. 1 pinta

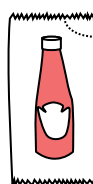
7)



2 litri di soda

- A. 2 tazze
- B. 1 pinta
- C. 0.5 galloni
- D. 5 galloni

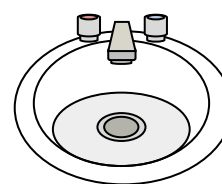
8)



Ketchup in un pacchetto

- A. 0.5 galloni
- B. meno di 1 tazza
- C. 1.5 pinte
- D. 2 quarti

9)



Acqua nel lavandino del bagno

- A. 2 tazze
- B. 2 galloni
- C. 2 pinte
- D. 2 fluid ounces

1. **B**
2. **A**
3. **D**
4. **C**
5. **C**
6. **A**
7. **C**
8. **B**
9. **B**

**Determina quale lettera meglio rappresenta il volume****Risposte****Xícara**

Una taza se refiere a la cantidad de leche que se obtiene de la cafetería.

**Pinta**

Uma pinta é aproximadamente a quantidade que você recebe em um copo grande.
1 pinta = 2 xícaras

**Quarto**


Um quarto é mais ou menos a quantidade que você consegue em um recipiente grande de leite.
1 cuarto = 2 pintas

**Galón**

Un galón es la cantidad que viene en un recipiente de plástico grande.
1 galón = 4 cuartos




1. _____
2. _____
3. _____
4. _____
5. _____
6. _____
7. _____
8. _____
9. _____



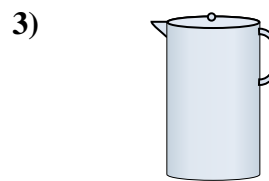
Vasca da bagno

- A. 40 tazze
- B. 8 quarti
- C. 20 pinte
- D. 45 galloni



Il contagocce tiene

- A. 1 pinta
- B. 3 galloni
- C. meno di 1 tazza
- D. 1 tazza



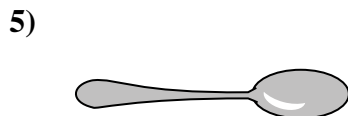
Liquido in una brocca

- A. 2 tazze
- B. 1 pinta
- C. 2 quarti
- D. 8 galloni



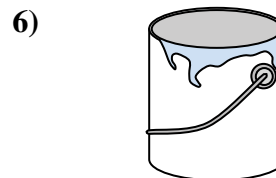
Ciotola di cereali

- A. 0.5 galloni
- B. 4 pinte
- C. 2 galloni
- D. 1 pinta



Liquido che tiene un cucchiaino

- A. Less than a cup
- B. 1 tazza
- C. 1 pinta
- D. 1 quart



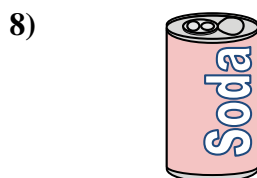
Dipinti in una lattina

- A. 3 fluid ounces
- B. 1 gallone
- C. 1 tazza
- D. 0.5 pinte



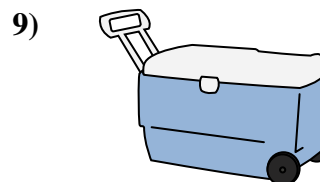
2 litri di soda

- A. 0.5 galloni
- B. 5 galloni
- C. 1 pinta
- D. 2 tazze



Soda in lattina

- A. 4 tazze
- B. 1.5 tazze
- C. 4 pinte
- D. 1 gallone



Ghiacciaia

- A. 100 quarti
- B. 16 tazze
- C. 5 galloni
- D. 2 quarti

**Determina quale lettera meglio rappresenta il volume****Risposte****Xícara**

Una taza se refiere a la cantidad de leche que se obtiene de la cafetería.

**Pinta**


Uma pinta é aproximadamente a quantidade que você recebe em um copo grande.
1 pinta = 2 xícaras

**Quarto**

Um quarto é mais ou menos a quantidade que você consegue em um recipiente grande de leite.
1 cuarto = 2 pintas


**Galón**

Un galón es la cantidad que viene en un recipiente de plástico grande.
1 galón = 4 cuartos

1. **D** 2. **C** 3. **C** 4. **D** 5. **A** 6. **B** 7. **A** 8. **B** 9. **A** 

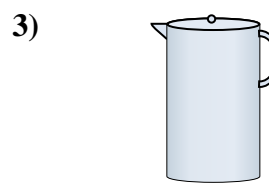
Vasca da bagno

- A. 40 tazze
- B. 8 quarti
- C. 20 pinte
- D. 45 galloni



Il contagocce tiene

- A. 1 pinta
- B. 3 galloni
- C. meno di 1 tazza
- D. 1 tazza



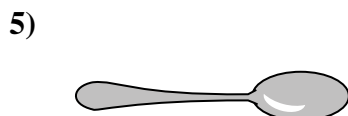
Liquido in una brocca

- A. 2 tazze
- B. 1 pinta
- C. 2 quarti
- D. 8 galloni



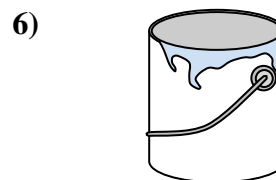
Ciotola di cereali

- A. 0.5 galloni
- B. 4 pinte
- C. 2 galloni
- D. 1 pinta



Liquido che tiene un cucchiaino

- A. Less than a cup
- B. 1 tazza
- C. 1 pinta
- D. 1 quart



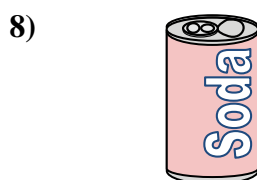
Dipinti in una lattina

- A. 3 fluid ounces
- B. 1 gallone
- C. 1 tazza
- D. 0.5 pinte



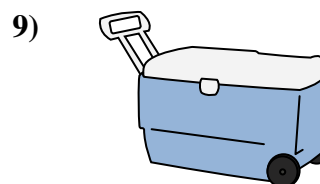
2 litri di soda

- A. 0.5 galloni
- B. 5 galloni
- C. 1 pinta
- D. 2 tazze



Soda in lattina

- A. 4 tazze
- B. 1.5 tazze
- C. 4 pinte
- D. 1 gallone



Ghiacciaia

- A. 100 quarti
- B. 16 tazze
- C. 5 galloni
- D. 2 quarti